

遂宁市 2022 年初中毕业暨高中阶段学校招生考试

文科综合 地理部分

文科综合共 160 分，包括道德与法治、历史、地理、生命·生态·安全四部分，考试时间共 140 分钟。地理试卷满分 40 分。

注意事项：

1. 答题前，考生务必将自己的学校、姓名、准考证号用 0.5 毫米的黑色墨水签字笔填写在答题卡上，并检查条形码粘贴是否正确。
2. 回答选择题时，选出每小题答案后，用 2B 铅笔把答题卡上对应题目的答案标号涂黑，如需改动，用橡皮擦干净后，再选涂其他答案标号；回答非选择题时，将答案写在答题卡上，写在本试卷上无效。
3. 考试结束后，将本试卷和答题卡一并交回。

一、选择题（每小题只有一个正确答案，每题 2 分，共 20 分）

1. 我国幅员辽阔，陆地面积

- A. 约 960 万平方米 B. 和非洲的面积最接近
C. 约 960 万平方千米 D. 仅次于美国和加拿大

图 1 为我国局部省区示意图，读图完成 2—3 题。

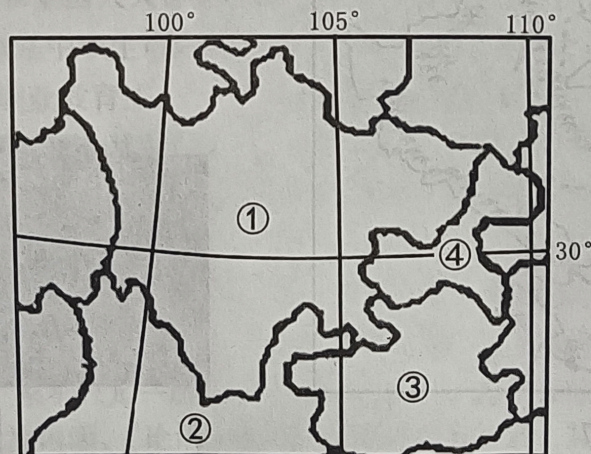


图 1

2. 关于图中①②③④省区的名称、简称、行政中心对应正确的是

- A. ①四川省——川或蜀——成都 B. ②贵州省——贵或黔——贵阳
C. ③重庆市——渝——重庆 D. ④云南省——云或滇——昆明

3. 图中③省区夏季较凉爽，其原因是该省区位于

- A. 四川盆地 B. 云贵高原 C. 东南丘陵 D. 长江中下游平原

4.美国因地制宜发展农业，实现了农业区域化生产，形成了多个专业化的农业带（区）。

图2中阴影地区①：气候冷湿，人口众多，城市密集，主要发展为

- A.棉花带 B.小麦区 C.乳畜带 D.玉米带



图2



→ 板块运动方向 ▲ 火山

图3

5.北京时间2022年1月15日，汤加王国的洪阿哈阿帕伊岛海底火山（ 20.57°S ， 175.38°W ）突然剧烈喷发，释放的能量相当于1000颗原子弹爆炸，并引起海啸。结合图3，你认为该火山爆发的原因是此地位于

- A.环太平洋沿岸火山地震带
B.地中海—喜马拉雅火山地震带
C.印度洋板块和欧亚板块交界地带
D.欧亚板块和太平洋板块交界地带

甘肃省地跨我国四大地理区域，太阳能资源丰富。读图4完成6—7题。



图4

6.结合图中信息分析，甲、乙、丙、丁四地中太阳能最丰富的地区是

- A.甲 B.乙 C.丙 D.丁

7. 下列描述中，与甲地的地理区域特征最符合的是

- A. 万里金黄翻麦浪，秋天苹果梨子香
- B. 黄梅时节家家雨，青草池塘处处蛙
- C. 羌笛何须怨杨柳，春风不度玉门关
- D. 烤肉青稞闻玉殿，白云曛醉落羊栏

图 5 为某日从极地上空观察到的光照图，箭头表示地球自转方向，阴影部分表示黑夜，读图回答 8—10 题。

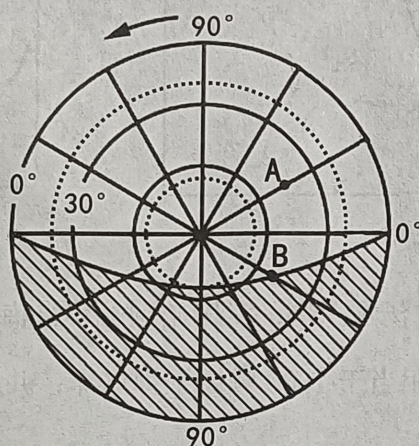


图 5

8. 图中 A 点的经纬度位置是

- A. (45° S, 30° W)
- B. (45° N, 30° E)
- C. (45° N, 30° W)
- D. (45° S, 30° E)

9. 图中 A 点位于 B 点的_____方向。

- A. 东北
- B. 西南
- C. 西北
- D. 东南

10. 图中 B 点位于_____半球，_____带，此日的节气为_____，此刻正值_____。

- | | | | |
|------|----|----|----|
| A. 东 | 南温 | 夏至 | 日出 |
| B. 西 | 北温 | 夏至 | 日出 |
| C. 东 | 南温 | 冬至 | 日落 |
| D. 西 | 北温 | 冬至 | 日落 |

二、读图分析题（共 20 分）

11.图 6 为我国南方某地的地形图，该地区响应国家乡村振兴政策号召，因地制宜发展生态旅游农业。读图完成下列各题。（每小题 2 分，共 10 分）

(1) 根据图中海拔可判断出该地的主要地形类型是 ▲。

(2) 图中甲处等高线向高处凸出，可推断出该处的地形部位是 ▲。

(3) 该地计划打造梯田观光景点，你认为图中甲、乙、丙三地中最适合修筑梯田的是 ▲。

(4) 图中 A 到 D 河段的落差(H)范围是 ▲ 米。

(5) 小明曾到该地旅游，体验了漂流项目活动，他感受到在 CD 河段漂流比在 AB 河段更加惊险刺激，请你帮他分析其原因： ▲。

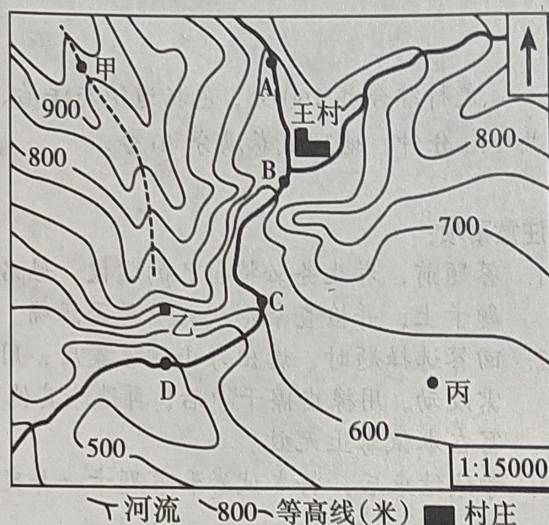


图 6

12.图 7 为我国北方地区示意图，图 8 为黄土高原景观图，读图完成下列各题。（每空 2 分，共 10 分）

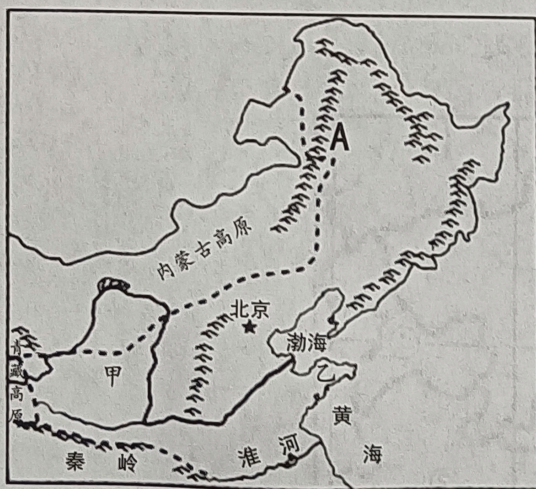


图 7



图 8

(1) 图 7 中山脉 A 是 ▲，该山脉是我国重要的地理分界线，请你列举两例： ▲。

(2) 结合图 8，请你简要描述黄土高原的地表特征： ▲。

(3) 北方地区是我国苹果主产地，甲地所产苹果的口感比乙地的更甜，请你分析其原因： ▲。

(4) 结合图 7，请你描述北方地区的大致区域范围： ▲。