

历史与社会·道德与法治

卷 I

说明:本卷有 20 小题,每小题 2 分,共 40 分。

1. 2022 年 2 月 4 日,第 ▲ 届冬季奥林匹克运动会开幕式在 ▲ 国家体育场举行。国家主席习近平出席开幕式并宣布本届冬奥会开幕。

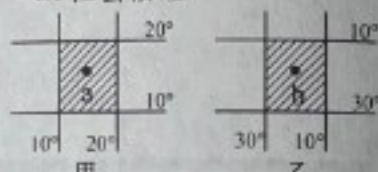
A. 十九 北京 B. 二十四 北京 C. 十九 杭州 D. 二十四 杭州

2. 2022 年 2 月 22 日,21 世纪以来第 19 个指导“三农”工作的中央一号文件《关于做好 2022 年全面推进 ▲ 重点工作的意见》发布。

A. 乡村振兴 B. 人权保护 C. 民主建设 D. 社会治理

3. 观察图幅相同的甲、乙两图,下列选项正确的是

A. a 点位于北温带
B. b 点位于中纬度
C. 甲图的比例尺要比乙图的比例尺更大
D. 甲乙两图所示阴影区域均位于东半球



第 3 题图

4. 我们生活在世界不同区域中,每个区域的社会生活,都是展现这个区域人文特色的橱窗。以下关于各具特色的区域生活的描述,正确的是

A. 阿尔卑斯山区居民以羊驼和骆马的奶肉为食物来源
B. 美国中部大平原农场实行精耕细作的人工旱作农业
C. 威尼斯游客乘坐贡多拉穿梭在纵横交织的水道之中
D. 大西洋沿岸的日本在与海共存共生中形成“鱼文化”

5. 浦江上山文化遗址距今约一万年。考古工作者在此发现了炭化稻米,据此推测当时的金华先民

A. 已经从事农业生产 B. 普遍推广牛耕技术
C. 已经开始家畜饲养 D. 广泛使用铁制农具

6. 中国古代服饰的发展变迁,反映了各朝代政治、经济、文化的状况。右图反映了我国古代某次改革的重要内容,这次改革

A. 加强了对外交往
B. 形成了三国鼎立
C. 加速了北朝衰弱
D. 加快了民族交融



第 6 题图

7. 历史学习需要把握单元主题。右边图示内容可提炼的单元主题是

A. 皇权强化与近代前夜的危机
B. 中国开始沦为半殖民地半封建社会
C. 近代化的早期探索与民族危机的加剧
D. 资产阶级民主革命与中华民国的创建

第 1 课 洋务运动
第 2 课 甲午中日战争
第 3 课 戊戌变法
第 4 课 八国联军侵华

第 7 题图

8. 以下历史事件按照时间先后排序正确的是

①《联合国宣言》签署 ②日本发动全面侵华战争
③《凡尔赛条约》的签署 ④北大西洋公约组织成立
A. ①②③④ B. ③②①④ C. ③④②① D. ④②①③

9. 思想解放是社会变革的先导。以下史实能够论证这一观点的是

①启蒙运动 ②苏维埃政府实施新经济政策
③新文化运动 ④关于真理标准问题的大讨论
A. ①②③ B. ①②④ C. ①③④ D. ②③④

10. “新时代好少年”陈宇阳从小跟着父母做公益。近年来,她组织开展文明城市创建、爱心助残、关怀孤寡老人等各类志愿服务活动,累计服务时长近 1 万小时。她的事迹折射出的优良品质有

①热心公益,乐于奉献 ②关爱他人,与人为善
③珍惜友谊,主动沟通 ④直面挫折,自立自强
A. ①② B. ①③ C. ②④ D. ③④

11. 右图是某校为迎接国际禁毒日在校园内张贴的海报。该海报教育我们

①行己有耻,树立底线意识 ②遵守规则,守住自由界限
③吸毒违法,必受刑罚处罚 ④珍爱生命,远离毒品危害
A. ①②③ B. ①②④ C. ①③④ D. ②③④



第 11 题图

12. 面对突发疫情,金华市政府迅速组织全面抗疫。各地医护人员第一时间驰援,众多志愿者走进社区,居民自觉按规定居家隔离……以上做法体现了

①悦纳自己的智慧 ②对他人负责的态度 ③生命至上的理念 ④集体主义的大局观
A. ①②③ B. ①②④ C. ①③④ D. ②③④

13. 下面对话,对它理解最为全面的是

我有依法知情的权利。

对的,你还有纳税的义务哦。

A. 公民是合法权利的享有者
B. 公民有多少权利就要尽多少义务
C. 公民是法定义务的承担者
D. 公民既要行使权利也要履行义务

14. 某中学生发现网购的地图为盗版地图,且图中我国领土标识不完整,立即通过网络平台反映情况,协助公安机关破获一起大案。这名中学生的行为

①自觉维护了国家安全与利益
③依法维护了他人的知识产权

②合理利用了网络参与社会生活
④非法侵犯了他人的社会经济权

A. ①②③ B. ①②④

C. ①③④ D. ②③④

15. “信息公开为常态,不公开为例外”。浙江省政务服务网公开行政权力清单、部门责任清单、财政专项资金管理清单……政府的以上做法旨在

A. 加强民主选举,推进法治进程
B. 严格依法行政,力求绝对公平
C. 保障司法公正,维护社会稳定
D. 规范权力运行,打造阳光政府

16. 观察右图可知,我国

①货物的进出口总额在持续增长
②数字经济占 GDP 比重不断上升
③科技创新对外依赖度居高不下
④科技对经济发展的贡献率提高

A. ①②③ B. ①②④

C. ①③④ D. ②③④



第 15 题图

17. “感动中国 2021 年度人物”吴天一院士投身高原医学研究 50 余年,诊疗救治了藏族群众上万人,如今 80 多岁仍然坚守在青藏高原上,守护着人民健康。他用行动

①践行了敬业奉献的职业道德

②履行了维护民族团结的公民义务

③弘扬了道济天下的传统美德

④实现了富强民主文明的价值追求

A. ①②③ B. ①②④

C. ①③④ D. ②③④

真理,指引方向:红色,凝聚力量。某校师生开展以“追寻真理故事,传承红色基因”为主题的研学活动,下面是他们分组开展的过程,请参与完成 18~20 题。

18. 【追寻信仰之路】第一组同学拟从金华市区出发,前往陈望道故居。右图是他们规划研学路线时搜集到的地图,据图可知故居位于金华市区的

A. 西北方向 B. 东北方向

C. 西南方向 D. 东南方向



第 18~20 题图

19. 【追忆峥嵘岁月】第二组同学在永康市抗美援朝纪念馆,准备向市民讲述志愿军故事。以下最适合在此地宣讲的是

A. 飞夺泸定桥 B. 血战台儿庄

C. 挺进大别山 D. 坚守上甘岭

20. 【追梦希望田野】第三组同学走进金华市城市展示馆,感受到新时代金华人民扛旗争先、勇闯新路的“红色精神”。为积极推进共同富裕示范区建设,我市政府实施“八婺同心·共建共富”的山海协作项目,建设武义—永康、磐安—金东等“产业飞地”,努力使山区县居民人均可支配收入提升至全省平均的 70%。以上举措

①加强了区域合作,实现平均分配

②增进了民生福祉,共享发展成果

③深化了对外开放,建设信义金华

④传承了红色基因,助力共同富裕

A. ①② B. ①③

C. ②④ D. ③④

卷 II

说明:本卷有 5 小题,共 60 分。

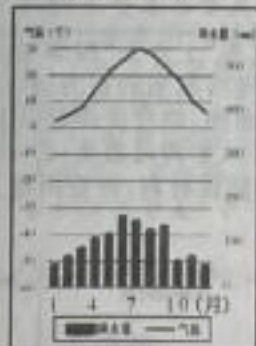
21. (12 分)双星争华地,天人和谐居。阅读材料,回答问题。

金华古称婺州,因地处金星与婺女两星争华之地而得名。为了更好地了解家乡,发展家乡,某校师生决定开展以“来自家乡的报告”为主题的项目化学习。

通过社会调查、野外考察等方式已取得阶段性成果,请你共同完成报告的部分内容。



成果 1: 绘制考察地等高线示意图



成果 2: 搜集金华气温降水量图



成果 3: 拍摄实践照片

【农业状况与分析】

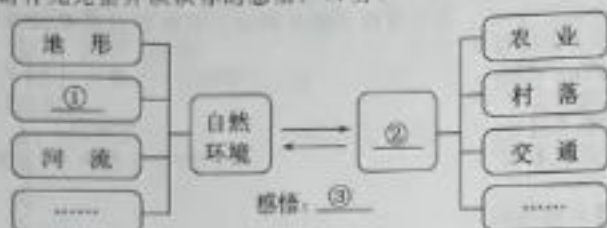
- (1) 成果 3 摄于成果 1 中的 A 处。请结合成果 1、2 分析此处种植水稻的有利自然条件。(4 分)

【生态问题与对策】

(2) 考察发现该地有“季节性缺水”“水土流失”等问题,请从 B、C 两处入手提出解决方案。(4 分)

【项目总结与分享】

(3) 追求人与自然的和谐共生,是人类面对生态危机作出的智慧选择。经过本次项目化学习,同学们梳理出以下思维导图,请补充完整并谈谈你的感悟。(4 分)



22. (12 分) 两宋蔚千古,雅俗竞风流。阅读材料,回答问题。

材料一: (宋) 得到提拔的官员中,有三分之一或更多来自平民家庭,如此高的社会地位升迁比例,对于任何前近代甚至近代社会来讲,都是惊人的。

——[美] 墨菲《亚洲史》

(1) 根据历史背景判断材料中的平民最有可能以何种方式实现“社会地位升迁”。(2 分)


材料二: 史料三则



史料 1: 福建泉州出土的宋代海船



史料 2: 南宋特罗亚斯肖像



史料 3: 吴钩《原来你是这样的宋朝》

(2) 请指出材料二图文史料的表现形式,并概括它们共同反映的经济状况。(4 分)

材料三: “东南形胜,三吴都会,钱塘自古繁华。烟柳画桥,风帘翠幕,参差十万人家”,词人的词描绘了宋朝大都市的繁华景象。

(3) 英国史学家汤因比说“如果让我选择,我愿意生活在中国的宋朝”,美国学者墨菲认为“宋朝确实是一个充满自信和创造力的时代”。任选一个观点,结合相关史实谈谈你的理解。(6 分)

23. (12 分) 崇法安社稷,尚德润家风。阅读材料,回答问题。

| 一部法律 | 一封家书 | 一份期许 |
|---|--|-------------------------------|
| <p>《中华人民共和国家庭教育促进法》已由中华人民共和国第十三届全国人民代表大会常务委员会第三十一次会议通过,自 2022 年 1 月 1 日起施行,传统“家事”上升为“国事”。</p> | <p>宝贝:</p> <p>时间过的真快,转眼间你就要初中毕业了。在爸妈心中,你永远是最棒的孩子!我们希望你永远诚实守信,自信坚持,也希望你珍惜学习机会,通过努力让自己的未来拥有更多的选择。同时,我们也想提醒你,随着年岁的增长,你将承担更多的责任……</p> <p>永远爱你的爸爸妈妈</p> | <p>A. 热爱劳动</p> <p>B. 光盘行动</p> |
| <p>法律链接:《中华人民共和国宪法》第四十二条 中华人民共和国公民有劳动的权利和义务。 《中华人民共和国反食品浪费法》第三章 国家厉行节约,反对浪费。</p> | | |

(1) 材料表明家庭教育是怎样由“家事”上升为“国事”的?这体现了哪一治国方略?(4 分)

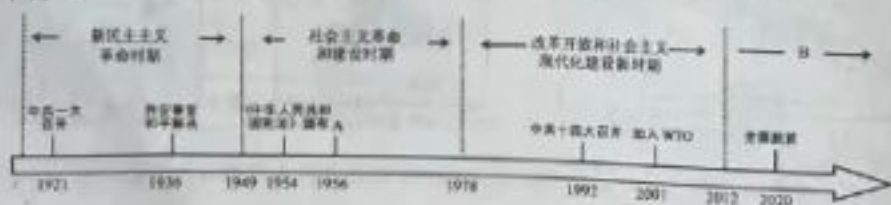
(2) 请从未成年人保护法角度对父母写家书的行为进行评价。(4 分)

(3) 回信是成长的诺言。任选一幅漫画,结合法律链接及所学知识回应父母的期许。(4 分)

(温馨提示:①可以只列提纲;②注意沟通态度;③不得出现考生信息)

24. (12 分) 风雨历百年,问道铸丹心。阅读材料,回答问题。

材料一:年代尺



(太平天国运动)沉重打击了清朝统治者和外国侵略势力……

(由于)太平天国无法提出切合实际的革命纲领,无法制止和克服领导集团的腐败,也无法长期保持领导集团的团结……轰轰烈烈的太平天国农民运动失败。

——八年级上册《中国历史》



淮海战役是人民群众用小推车推出来的。——陈毅

凤阳县梨园公社小岗村18户农民,冒着风险,在包干合同书上按下手印……在党中央的支持下,以包产到户、包干到户为主要形式的家庭联产承包责任制迅速推广。

——《中国共产党简史》

- (1)年代尺A处是中国历史上最深刻的社会变革,请填写A处内容并阐述其历史意义。(3分)
- (2)年代尺B处表示哪一历史阶段?回首百年路,中华民族迎来了怎样的伟大飞跃?(3分)
- (3)是什么力量改变了中国的前途和命运?请亮出你的观点,并运用材料二相关史实加以论证。(3分)
- (温馨提示:此题为分层赋分,要求观点鲜明,逻辑严密,史论结合,正反论证)
25. (12分)群声汇华夏,和合满乾坤。阅读材料,回答问题。
- 【正义之声】**“每一个小群体都不该被放弃”“每砍掉一分钱,就能节省相当可观的医保基金,让更多病人受益”……国家医保局谈判代表张劲松与药企“灵魂砍价”让无数国人动容。
- (1)张劲松的“灵魂砍价”生动诠释了党和政府的哪一发展思想?从正义角度说说让无数国人为之动容的原因。(4分)
- 【航天之声】**“安全着陆”“一切安好”……中国奔向星辰大海的每一次成功都让国人感到无比欣慰。成功背后有这样一些信息:①2020年中国在航天领域的投入为132.8亿美元,仅次于美国;②经过多年努力,我国科技水平大幅提升,造就一大批创新型人才,35岁及以下的青年在中国航天科技集团科技人才队伍中占52.5%。
- (2)根据这些信息,解密中国航天“安全着陆”“一切安好”的主要原因。(4分)
- 【大国之声】**中国国家主席习近平说:“世界命运应该由各国共同掌握,国际规则应该由各国共同书写,全球事务应该由各国共同治理,发展成果应该由各国共同分享。”
- (3)习主席向世界传递了中国怎样的全球治理观?举例说明当代中国是怎样践行这一治理理念的?(2分)