

## 道德与法治学科


历史、道德与法治同场合卷，开卷考试，道德与法治满分 40 分，全场考试时间 110 分钟。  
 注意事项：

1. 答题前，考生须用 0.5mm 黑色字迹的签字笔在本试题卷规定位置填写自己的姓名、准考证号。
2. 考生须在答题卡上作答，不能在本试题卷上作答，答在本试题卷上无效。
3. 考试结束，将本试题卷和答题卡一并交回。
4. 本试题卷分为 I 卷（客观题）和 II 卷（主观题）两部分，包括四道大题 17 道小题，共 6 页。如缺页、印刷不清，考生须声明。

### 第 I 卷（客观题，共 12 分）


一、单项选择题（下列各题的备选答案中，只有一项是最符合题意的。本题共 12 小题，每题 1 分，共 12 分）

1. 下列漫画表明，我国经济已经由



- A. 高速增长阶段转向低质量发展阶段      B. 低速增长转向高速增长阶段  
 C. 高效益阶段转向低效益阶段      D. 高速增长阶段转向高质量发展阶段

2. 2021 年是中小学全面落实“双减”（指减轻义务教育阶段学生作业负担和校外培训负担）部署要求的第一年，教育部重拳出击确保“双减”政策落实。国家力“挺”教育，重视教育健康发展，这是因为



- ①教育是民族振兴和社会进步的基石  
 ②教育是提高国民素质、培养创新型人才的根本途径  
 ③教育是引领社会发展的第一动力  
 ④教育为个人人生幸福奠定基础，为人类文明传递薪火，成就国家和民族未来

- A. ①②③      B. ①③④      C. ②③④      D. ①②④

3. 我国是人民民主专政的社会主义国家，国家的一切权力属于人民。这

- A. 是我国宪法的基本原则      B. 明确了人民行使国家权力的途径  
 C. 确定了我国的国家性质      D. 是我国宪法规定的公民的基本权利





4. 据统计, 全球高新技术专利及其巨额利润的 70% 以上均被发达国家掌握和分享。对国外技术的依存度, 美国、日本在 5% 以下, 中国在 40% 以上。这些数据让我们认识到, 我国科技

- ①在一些重要领域走在世界前列  
②创新能力不强  
③对经济社会发展的支撑能力不足  
④发展水平总体不高

A. ①②③

B. ②③④

C. ①③④

D. ①②④

5. 我们既要尊重他人的知识产权, 又要学会保护自己的知识产权。下列做法错误的是

A. 小明看见地摊卖的盗版课外书很便宜, 就买了几本

B. 小红学习保护知识产权的相关法律

C. 小军对自己的科技发明申请专利保护

D. 小丽的获奖绘画作品被出版社擅自出版, 小丽决定通过法律武器捍卫权益

6. 国务院《政府工作报告》在起草过程中, 不仅召开专家学者和社会各界人士座谈会征求意见, 还会通过大量的调研工作, 反复协商、汇聚民智。征求意见的渠道日益广泛、多样, 体现了

①社会主义民主是真实的民主

②中国共产党领导的多党合作和政治协商制度

③政府的工作要对人民负责

④社会主义民主政治的本质特征是人民当家作主

A. ①②③

B. ①③④

C. ②③④

D. ①②④

7. “法令行则国治, 法令弛则国乱”。在我国, 党领导人民治理国家的基本方略是

A. 依法行政

B. 依宪治国

C. 依法治国

D. 以德治国

8. 小林准备参加学校组织的“宪法进社区”宣传教育活动, 准备以下宣讲内容, 你认为不能选用是

A. 我国宪法是党的主张和人民意志的统一

B. 宪法是治国安邦的总章程

C. 宪法所规定的内容是国家生活中带有全局性、根本性的问题

D. 宪法的制定和修改程序与其他法律一样严格

9. 反映抗美援朝战争的电影《长津湖》在全国持续热映, 其在国庆档一举刷新了 20 余项票房纪录。88 岁抗美援朝老兵看了一场为自己一人放映的《长津湖》, 抬起残臂向战友敬礼, 4 岁的萌娃观影后向鸭绿江断桥行礼, 大学生观影后集体敬礼……《长津湖》热映, 是因为该电影

①充满了做中国人的志气骨气底气, 坚定了保家卫国的信念

②体现了以爱国主义为核心的伟大民族精神, 能够引起观众强烈共鸣

③彰显了伟大的抗美援朝精神, 体现了与时俱进的民族精神品格

④体现了内涵丰富、博大精深的中华文化特点

A. ①②③

B. ②③④

C. ①③④

D. ①②④

10. 2020 年 6 月 30 日, 十三届全国人大常委会第二十次会议经表决, 全票通过了《中华人民共和国香港特别行政区维护国家安全法》。该法律的通过

①表明全国人大常委会行使最高决定权

②有利于依法防范、制止和惩治危害国家安全的行为和活动

③有利于坚持依法治港


④有利于全面准确贯彻“一国两制”、“港人治港”、完全自治的方针

A. ①②

B. ①③

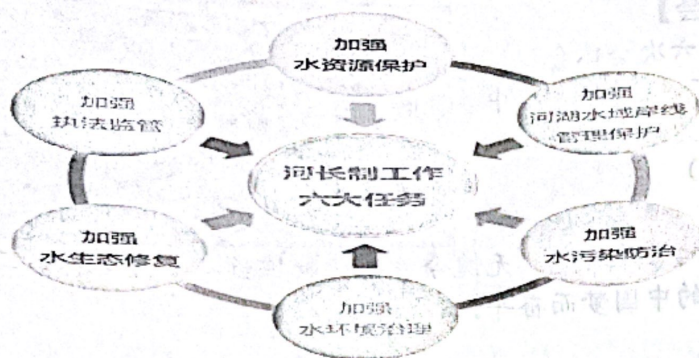
C. ②③

D. ①④





11. 我国实行“河长制”，对此理解错误的是



- A. 有利于我国实现可持续发展
- B. 贯彻了创新、协调、绿色、开放、共享的新发展理念
- C. 有利于推进生态文明建设，建设美丽中国
- D. 能够从根本上解决水污染问题

12. 以下是小明同学期末复习梳理的知识点，正确的个数是

- ①中国成为世界经济增长的主要稳定器和动力源
- ②全面依法治国是中国特色社会主义的本质要求和重要保障
- ③基层群众自治制度是我国的根本政治制度
- ④尊重和保障人权是我国的宪法原则
- ⑤中国力量就是全国各族人民大团结的力量

- A. 2个
- B. 3个
- C. 4个
- D. 5个

## 第11卷 (主观题, 共28分)

### 二、情境问答题 (共6分)

13. 下面是中学生小明在复习《理解权利义务》专题时收集到的三个情境，请你运用所学知识回答问题。

情境一：张先生在纪检委网站实名举报某国家工作人员违法犯罪问题。

(1) 张先生实名举报行使的政治权利是：\_\_\_\_\_。(1分)

(2) 他在举报时，应注意的问题是：\_\_\_\_\_。(1分)

情境二：小红去购买学习机，店主对她说：“要发票638元，不要发票可以便宜20元。”

(3) 王红应当：\_\_\_\_\_。(1分)

(4) 理由：\_\_\_\_\_。(1分)

情境三：小王在中学期间多次被评为“三好学生”，高中毕业后，顺利考入国家一流大学；毕业后，他光荣参军，成为中国最新歼击机的核心研究人员。但是，他家里人从不知道他在干什么；小王因各项工作表现突出，参加了新一届区人大代表选举并当选。

(5) 小王享有的基本权利有：\_\_\_\_\_。(写出一个即可，1分)

(6) 小王履行的基本义务有：\_\_\_\_\_。(写出一个即可，1分)






三、材料分析题（阅读材料并结合所学知识回答问题。本题共3小题，共14分）

14. 【“数”说党的十九届六中全会】

中国共产党第十九届中央委员会第六次全体会议，于2021年11月8日至11日在北京举行，习近平就《中共中央关于党的百年奋斗重大成就和历史经验的决议（讨论稿）》向全会作了说明。（共4分）



【一个“号召”】

大力弘扬伟大建党精神，勿忘昨天的苦难辉煌，无愧今天的使命担当……为实现第二个百年目标、实现中华民族伟大复兴的中国梦而奋斗。

（1）请将材料补充完整。（1分）

此处不得答题

【两个“确立”】

党确立习近平同志党中央的核心、全党核心地位，确立习近平思想的指导地位，反映了全党全军全国各族人民共同心愿，对新时代党和国家事业发展、对推进中华民族伟大复兴历史进程具有决定性意义。

（2）请将材料补充完整。（1分）

此处不得答题

【四大“历史飞跃”】


- 第一次“历史飞跃” 新民主主义革命时期：实现了中国从几千年封建专制政治向人民民主的伟大飞跃。
- 第二次“历史飞跃” 社会主义革命和建设时期：实现了一穷二白、人口众多的东方大国大步迈进社会主义社会的伟大飞跃。
- 第三次“历史飞跃” 改革开放和社会主义现代化建设新时期：实现了人民生活从温饱不足到总体小康、奔向全面小康的历史性跨越，推进了中华民族从站起来到富起来的伟大飞跃。
- 第四次“历史飞跃” 党的十八大以来，中国特色社会主义进入新时代：中华民族迎来了从站起来、富起来到强起来的伟大飞跃。

（3）请用所学知识分析，中华民族从“站起来、富起来到强起来的”伟大飞跃的根本原因是什么？（2分）

此处不得答题

15. 【垃圾现状】

根据统计数据，我国城市生活垃圾每年超过1.5亿吨，并以每年8%-10%的速度递增。全国688座城市已有三分之二的大中城市遭遇垃圾问题，城市垃圾严重威胁居民的健康和安全。每年因垃圾造成的资源损失价值在250亿-300亿元。



《各归各位》





- (1) 结合材料分析,我国实行生活垃圾分类的原因?(写出一点即可,1分)

此处不得答题

- (2) 漫画《各归各位》,体现我国坚持哪一项基本国策?(1分)

此处不得答题

### 【文明互鉴】

#### 比利时的垃圾分类回收经验

比利时政府大力宣传节能知识,让环保理念从家庭垃圾分类开始便深入人心。孩子从小就要学会辨认垃圾,学习不同垃圾的处理方法。	比利时拥有较为完善、严格的垃圾管理制度。如果居民违反了垃圾分类规定,就需要缴纳高额罚款。	比利时还鼓励废旧物品回收再利用。根据垃圾分类法令,相关部门应开设“废旧物品再利用连锁店”,对回收的衣物、家电、玩具等进行分类、清洗、消毒、修理,然后再低价出售。
---	--	--

(共6分)

- (3) 根据材料概括,我国可以借鉴比利时政府的哪些经验?(写出两点即可,2分)

此处不得答题

- (4) 借鉴上述经验后,会给我们的生活带来哪些变化?(变化要体现层次,2分)

此处不得答题

#### 16. 材料一:漫画《自来水提价》



- (1) 漫画体现了公民行使民主权利的哪一种形式?(1分)

此处不得答题

- (2) 保障这一民主形式的制度有哪些?(写出两个即可,2分)

此处不得答题

材料二:“网络问政直通车”在畅通民意渠道的同时,倒逼着政府进行管理创新;设立“领导信箱”既让群众意见与决策过程对接,又推动作风转变……党的十八大以来,群众路线插上“互联网+”的翅膀,在党心和民意同频共振中,走出了一条双向互动提升的路子。(共4分)

- (3) 请用所学知识分析,开通“网络问政直通车”、“领导信箱”有哪些意义?(写出一个即可,1分)

此处不得答题





四、实践探究题（要求结合材料，联系生活实际，结合运用所学知识，回答问题。共8分）

17.【奋斗百年路 启航新征程】

2021年是中国共产党百年华诞，从上海石库门到嘉兴南湖，一艘小小的红船承载着人民的重托、民族的希望，成为领航中国行稳致远的巍巍巨轮。惟愿山河锦绣、国泰民安。

某校九年（1）班开展了“学党史，跟党走”为主题的探究活动。

（1）请你结合主题，为本次活动设计一种活动形式。（1分）

此处不得答题

以下是本次活动选取的素材：

【素材一】

“若不是你送来春风，我走不出漫长的冬。”在少数民族实现整族脱贫“千年跨越”的历史“蝶变”之际，让我们一起聆听来自少数民族的心声：

阿昌族：如今我们地里有产业，家里有养殖业。新村、新路、新学校，我们实现了全面建成小康社会的奋斗目标。在此基础上，到2035年我们一定会实现①\_\_\_\_\_。

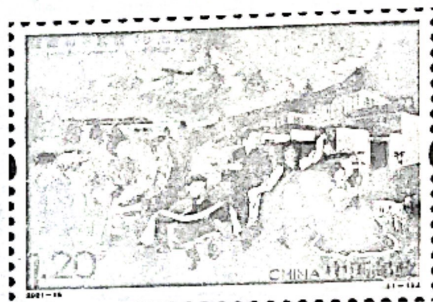
傈僳族：今天我们傈僳族群众看病就医有医保，喝水不再靠人背马驮。党和政府让我们实现了安居梦、脱贫梦。这体现了党的根本宗旨是②\_\_\_\_\_。

（2）请将材料①②补充完整。（2分）

此处不得答题

【素材二】中国邮政于2021年8月19日发行了《西藏和平解放70周年》纪念邮票。70年来，西藏面貌发生历史性变化，邮票中的画面也展示了今天的“幸福新西藏”。

（3）今天的“幸福新西藏”，得益于国家哪些民族政策？（列举两项即可，2分）



此处不得答题

【素材三】1928年，中国共产党领导贫苦农民“打土豪，分田地”，老李家获得了梦寐以求的土地，激动地贴上了一副对联。

上联：分田不忘共产党 下联：幸福牢记毛委员 横批：坚持党的领导

改革开放以来，受益于党的好政策，老李家走上了致富路，今年过年有又贴上了一副对联：

上联：脱贫全靠惠民策 下联：致富迎来幸福春 横批：坚持党的领导

（4）请用所学知识分析：跨越时空的两幅对联，使用的却是同一个横批，这给出我们一个怎样的结论？（写出一点即可，1分）

此处不得答题

（5）通过以上学习，要成为中国共产主义事业优秀的的传承者、接班人，你准备采取哪些具体实际行动？（2分）

此处不得答题

