

# 历史试题


(开卷 本卷共两个大题, 满分 50 分, 同道德与法治学科共用 90 分钟)

注意事项:

1. 试题的答案书写在答题卡上, 不得在试卷上直接作答。
2. 作答前认真阅读答题卡上的注意事项。
3. 考试结束, 由监考人员将试题和答题卡一并收回。

一、选择题: 本大题共 15 小题, 每小题 1 分, 共 15 分。在备选答案中只有一项是符合题目要求的。请按答题卡的要求作答。

1. 历史古迹和文物是古代文明的见证。下列古迹或文物能够见证古巴比伦文明的是 **B**



A



B



C




D

2. 伯里克利时期, 公民大会每年召开 40 次, 大会向与会者发放补贴, 起初为半天饭钱, 后增加到一天半饭钱。这样做是为了

- A. 鼓励公民参政议政
- B. 扩大妇女权利
- C. 调动外邦人积极性
- D. 提高奴隶待遇

3. 扑克牌中的四张 K 分别代表四位国王。右图所示梅花 K 代表的人物, 征服并统一了希腊, 灭亡了埃及、波斯帝国, 足迹远达印度河流域, 建立起地跨欧、亚、非三洲的大帝国。“他”是

- A. 凯撒
- B. 亚历山大
- C. 释迦牟尼
- D. 查理曼

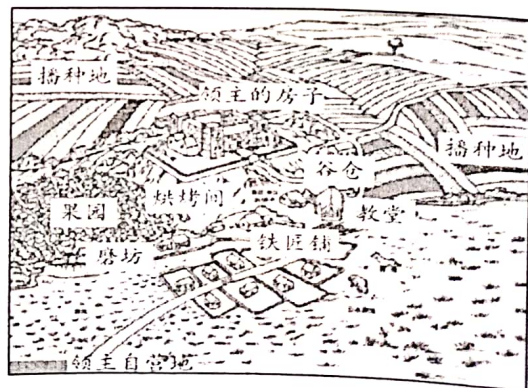


4. 随着帝国的扩张和商业的发展, 社会上各种新的矛盾日益凸显, 罗马缺乏一个适用于罗马公民和非公民之间关系的法律。针对这一情况, 罗马帝国

- A. 推行了万民法
- B. 建立了元首制
- C. 设立平民选出的保民官
- D. 颁布了《十二铜表法》

5. 右图是《西欧封建庄园示意图》, 该图反映出西欧封建庄园的特点是

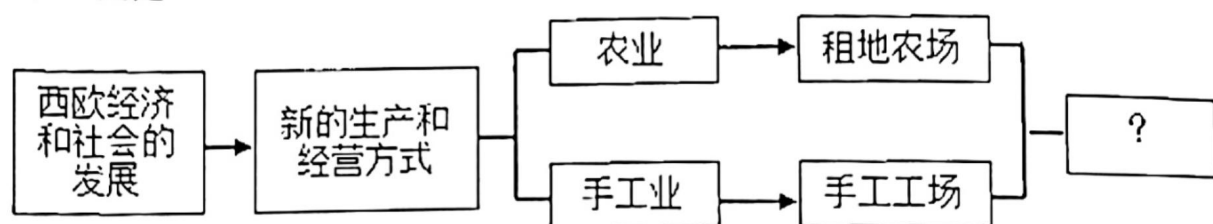
- A. 等级森严
- B. 市民自治
- C. 中央集权
- D. 自给自足



6. 世界文化具有多样性。我们阅读文学作品《天方夜谭》，主要可以了解

- A. 古埃及文化                      B. 阿拉伯文化  
C. 古印度文化                      D. 古希腊文化

7. 构建知识结构图，能很好地从整体驾驭和把握所学知识。下面是一幅未完成的知识结构图，其中“？”处是



- A. 西欧城市的兴起                      B. 生产组织形式资本主义化  
C. 西欧庄园的出现                      D. 资本主义制度的最终确立

8. 马克垚主编的《世界文明史》认为：“在欧洲历史刚刚进入近代的黎明期，在佛罗伦萨和威尼斯诸城升起的一片灿烂星云，成了中世纪和近代的分水岭。”这里的“灿烂星云”是指

- A. 文艺复兴                      B. 启蒙运动  
C. 资产阶级革命                      D. 工业革命

9. 有人认为英国“革命前是国王的议会，革命后是议会的国王”。17 世纪末，英国国王与议会的权力对比发生变化的原因是

- A. 《人权宣言》的颁布                      B. 《独立宣言》的颁布  
C. 《权利法案》的颁布                      D. 1787 年宪法的颁布

10. 某同学上网查阅“米克星顿”“华盛顿”“萨拉托加大捷”等资料，由此可判断出，他学习的相关内容

- A. 英国资产阶级革命                      B. 法国大革命  
C. 美国独立战争                      D. 美国南北战争

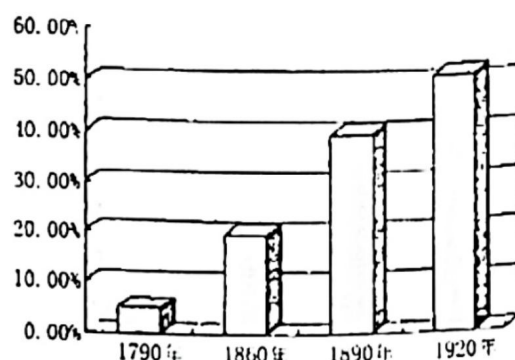
11. 依据下面学习笔记中的内容，可以判断该国是

- 646 年，开始改革，史称“大化改新”
- 12 世纪末，进入幕府政治时期
- 17 世纪建立的德川幕府意图以锁国加强统治，抵御外来影响

- A. 奥斯曼帝国                      B. 印度  
C. 俄国                      D. 日本

12. 右图是 1790-1920 年美国城市人口占全国总人口比例变化示意图，造成图中数字变化的主要原因是

- A. 获得解放的黑人奴隶大量涌入城市  
B. 美国领土向西扩张使城市数量大增  
C. 殖民扩张为美国城市带来了大量外来人口  
D. 工业革命吸引大量农业人口进入工厂工作





13. 列宁说：“如果没有战争，俄国也许几年甚至几十年也不会发生反对资本家的革命。”对这一观点理解正确的是

- A. 一战激化了俄国社会矛盾，引发革命
- B. 俄国资本主义的发展远远落后于它国
- C. 俄国能够通过改革解决发展中的问题
- D. 十月革命后，苏俄退出帝国主义战争

14. 20 世纪 30 年代初期，美国出生的婴儿成年后普遍身材较小；这一期间的青少年，由于营养不良，在后来服兵役时的身体检查中，约 40% 不合格。造成这一现象的主要原因是

- A. 胡佛政府无视儿童的身心健康
- B. 罗斯福新政未能惠及普通家庭
- C. 经济大危机影响民众生活质量
- D. 二战造成粮食供应的紧张局面

15. 1942 年 1 月，以美、英、苏、中为首的 26 个国家签署《联合国宣言》。这是为了

- A. 协调社会主义与资本主义的矛盾
- B. 重建二战后的世界秩序
- C. 协同作战打败德意日法西斯集团
- D. 构建联合国的基本框架

二、非选择题：本大题共 4 小题，第 16 题 5 分，第 17 题 7 分，第 18 题 9 分，第 19 题 14 分，共 35 分。请按答题卡的要求作答。

16. (5 分) 阅读以下材料后判断：

东罗马帝国的法典编纂在查士丁尼皇帝时达到顶峰，他开创了将法律体系化、统一化的先例。罗马法并没有随罗马帝国崩溃而灭种，而是被继续统治古代世界的新民族以不同的方式传播和继承。伴随文艺复兴，出现了罗马法的复兴，后来还逐渐出现将某些主题的法律汇编成现代意义上的法典形式的趋势。受启蒙思想的推动，欧洲近代历史上出现了法典化运动。这一运动的顶峰则是 1804 年《法国民法典》的制定。

《法国民法典》是法国大革命的产物。它克服了以往一切封建制度的羁绊和限制，并实现了法国大革命最重要的、孕育着未来的需求：市民的权利平等，家庭法的世俗化，土地所有权的自由，经济活动自由和家庭结合体的保护等。而这些都是当时受国内外统治者奴役的国家的人民所渴望的理想社会制度，于是《法国民法典》便随着法国革命政治和思想的影响传播到整个世界。

——摘编自高富平《民法法典化的历史回顾》

以下表述是从以上材料中得出的，请在答题卡对应题号后涂“A”；违背了以上材料所表达的意思，请在答题卡对应题号后涂“B”；是以上材料没有涉及的，请在答题卡对应题号后涂“C”。

- (1) 东罗马帝国的查士丁尼皇帝对法律的建设做出了重要贡献。
- (2) 随着罗马帝国的崩溃，罗马法也走向衰败直至消失。
- (3) 1804 年《法国民法典》的制定，使启蒙思想推动的欧洲法典化运动达到顶峰。
- (4) 拿破仑主持制定的 1804 年《法国民法典》奠定了近代民法典的基本原则。
- (5) 1804 年《法国民法典》体现了法国大革命的精神，并随着法国大革命的影响而广泛传播。



17. (7分) 阅读下列材料:

材料一 英国的工业革命是由一系列因素引起的, 其中包括优越的自然资源。富有创造力的工匠在先前的科学发展基础上实现了更大的技术创新。同时, 致力于经济发展的政府也通过鼓励新发明、新贸易和银行体系的种种法规支持了工业化的进展。

——皮特·N·斯特恩斯等《全球文明史》

材料二 1929年4月, 苏联在联共(布)第十六次代表大会决议中提出, “根据国家工业化、加强苏联国防力量与不依赖资本主义国家这一总方针, 工业基建投资主要用于重工业, 它要占全部工业投资的78%”。到一五计划结束, 苏联工业产值在工农业总产值中的比重由1928年的48%上升到1932年的70%, 轻、重工业的比重也由1927年的60.5:39.5, 变成46.6:53.4。

——陆南泉等《苏联真相: 对101个重要问题的思考》

请回答:

- (1) 根据材料一, 归纳推动英国工业革命的有利因素。(3分)
- (2) 根据材料二, 概括苏联工业化的突出特点及“一五计划”取得的建设成就。(4分)

18. (9分) 历史学习需要掌握重要的历史现象。历史现象不是某一个历史事件的具体内容, 而是透过多个历史人物的活动, 或多个历史事件所呈现的历史过程或历史发展趋势。下表是小王同学整理的“两次世界大战之间的重要历史现象”, 请你帮他完善。

历史现象	相应的历史事件		
①	巴黎和会	华盛顿会议	
建设社会主义的探索和实践	战时共产主义政策	②	苏联完成第二个五年计划
亚欧战争策源地的形成	③	希特勒上台, 建立法西斯专政	日本广田弘毅组阁

【任务一】 请从下列选项中, 选择合适的选项, 将表格空格处内容分别补充完整。(3分)

- A.亚非拉民族民主运动的高涨      B.卡德纳斯改革      C.新经济政策  
D.一战后国际新秩序的建立      E.罗斯福新政      F.九一八事变

①: \_\_\_\_\_      ②: \_\_\_\_\_      ③: \_\_\_\_\_ (填英文字母)

【任务二】 请从上表任选一个历史现象, 予以概述和评价。(6分)(要求: 对历史现象的概述和评价准确全面、逻辑清晰、表述通畅。)

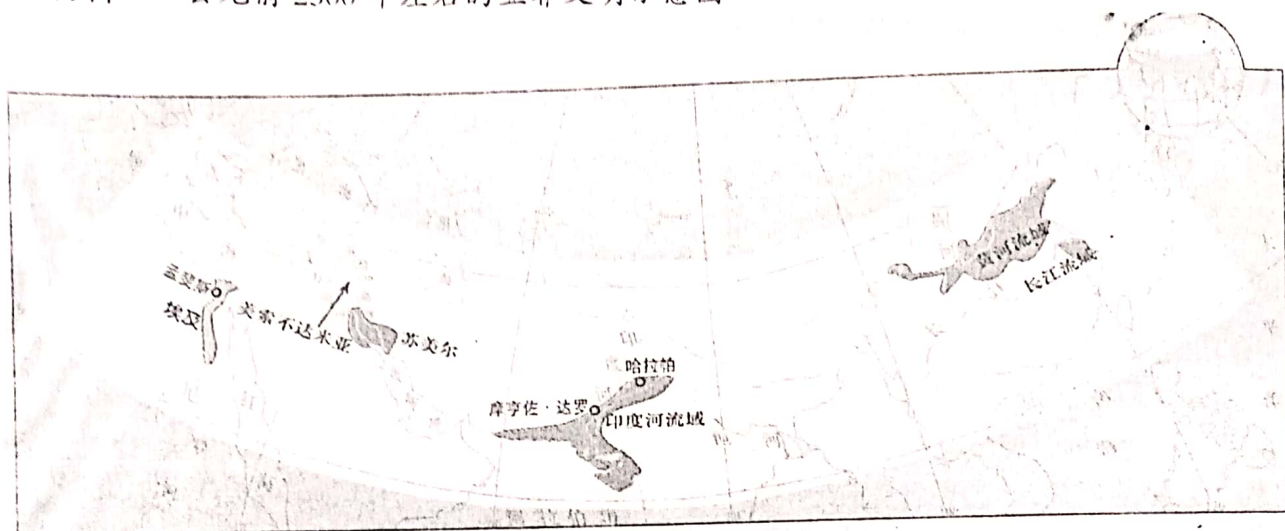




19. (14分) 马克思曾说,“世界史不是一直存在的,作为世界史的历史是结果”。为了论证这个观点,某班同学进行了探究,请和他们一起完成如下任务:

### 【区域的世界】

材料一 公元前2500年左右的亚非文明示意图



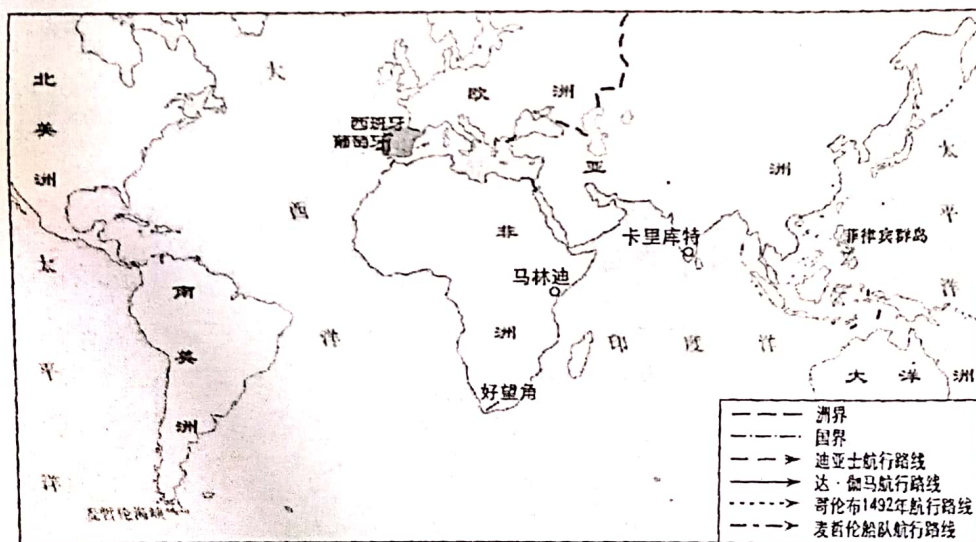
(1) 根据材料一分析,古代亚非文明的分布呈现出哪些特点?(2分)

材料二 西周时期,周王自称“天之子”,其所居之地称为“中国”(即中央之国),文献准确记载的区域大致在黄河流域。古希腊人认为,他们的主神宙斯的居住地就是世界中心,文献中明确记载的地理范围不超过地中海周边地区。罗马人则说罗马是世界中心,罗马帝国初期所能明确认识的地理范围仅限于欧洲、非洲北部和亚洲中西部。上述三个文明对于远离其统治区域的地方则认识模糊。

——马克垚《世界文明史》

(2) 概括材料二中各文明对世界认知的共同之处。(2分)

### 【联系的世界】



新航路的开辟示意图



(3) 请在答题卡上的《新航路的开辟示意图》中用带箭头的线条画出人类第一次环球航行的路线。新航路的开辟对人类历史发展进程产生了重要影响,你认为新航路是\_\_\_\_\_之路。(3分)

【整体的世界】

材料三 19 世纪中期,英国利物浦每年有数千艘船运来紧压的生棉包,它们大部分被运送到附近的纺纱厂。利物浦商人成了全球性棉花种植、制造和销售网络的主导者,在印度的孟买码头、美国南部种植园,商人们都紧张地等待着“利物浦价格”。……

到 1900 年,英国棉花工业总产量的 78%用于出口,其中大部分出口到印度。由于欧洲棉花制造业的大规模扩张,使得全球大部分农村地区转向出口棉花的种植,最终摧毁了手工棉纺织业。

——摘编自[美]斯文·贝克特《棉花帝国》

(4) 材料三中的“利物浦价格”反映了工业革命对世界有何影响? (2分)

材料四 第二次工业革命也扩大了资本主义工业国家之间以及资本主义世界与亚非拉世界间的经济发展不平衡。由于前一不平衡,导致军备竞赛、军事结盟乃至军事对抗。由于后一不平衡,最终导致亚非拉人民反帝反封建的民族民主运动的高涨。19 世纪末以来日趋复杂的国际关系,实际上是世界经济整体化趋势在国际政治领域内的体现。

——摘编自王斯德主编《世界通史》

(5) 材料四中提到的“前一不平衡”,在 1914 年终于引发了哪一重大历史事件? 请以印度为例,结合材料三与所学知识,对材料四中提到的“后一不平衡”及其结果予以简要说明。(5分)

