

开封市 2021-2022 学年第一学期期末考试

九年级历史试卷

说明：

1. 本试卷分试卷 I（选择题）和试卷 II（非选择题）两部分，满分 50 分。
2. 考生务必将自己的姓名、考号、考试科目填写在答题卡上，同时用铅笔涂黑考号对应的位置，选出答案后，用铅笔把答题卡上对应题目的答案标号涂黑，不能答在 I 卷上，第 II 卷的答案答在答题卷的相应位置上。

第 I 卷（选择题，共 25 分）

一、选择题（本大题有 25 小题，每小题 1 分。每题所列的四个选项中只有一个选项是符合题目要求的。）

1. “水是生命之源”。孕育古埃及文明的河流是

- A. 尼罗河 B. 底格里斯河 C. 印度河 D. 黄河

2. 九年级班举行辩论赛，依据下图双方辩论的观点，判断双方辩论的历史事件是

正方：促进了东西方文化的大交汇加强了东西方之间经济的联系。
反方：具有侵略性质，给东方人民带来巨大灾难。

- A. 希腊城邦兴起 B. 查理曼帝国建立 C. 佛教传播 D. 亚历山大东征

3. 德国的一位法学家说：“罗马曾经三次征服世界：第一次以武力，第二次以宗教，第三次以法律。”材料中的“宗教”指的是

- A. 佛教 B. 基督教 C. 道教 D. 伊斯兰教

4. 14 世纪中期，欧洲一些有经济实力的农民通过各种途径扩大耕地面积，同时雇佣少地或无地的农民为自己耕种，这种农业生产经营的新方式被称为

- A. 封建庄园 B. 手工作坊 C. 手工工场 D. 租地农场

5. 文艺复兴时期，作家阿尔贝蒂写道“人们只要想做，没有什么做不到”，莎士比亚称赞“人是了不起的杰作”，以上观点共同体现

- A. 自由平等思想 B. 民主科学精神 C. 人文主义精神 D. 物竞天择理论


6. 右侧资料中①处应填写的是

- A. 《神曲》
B. 《最后的晚餐》
C. 《罗密欧与朱丽叶》
D. 《哈姆雷特》




《思想者》是雕塑家罗丹的著名作品。其灵感来源于意大利诗人但丁的著作①，意在象征着但丁对于地狱中种种罪恶幽灵的思考。

7. 印第安人和欧洲人对 16 世纪时期一位历史人物有不同的看法，请你根据下面的观点，判断该历史人物是



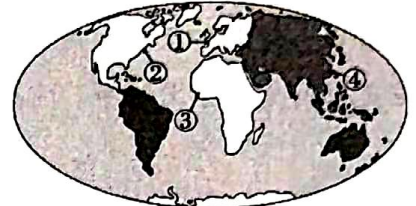
印第安人说：他把欧洲强盗带到了美洲，掠夺我们的财富，他是一个恶魔。



欧洲人说：他把欧洲文明传到美洲，使落后的美洲走向文明，他是一个功臣。

- A. 迪亚士 B. 达·伽马 C. 哥伦布 D. 麦哲伦

8. 17 世纪，满载货物的船只从这些港口出发，装载的货物有布匹、火器和五金等，用这些货物来换取非洲黑奴，船长们从而获得可观的利润。“这些港口”位于右图中



- A. ① B. ② C. ③ D. ④

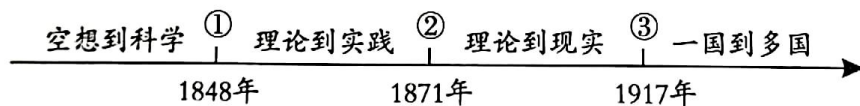
9. “他们联合抵制英国商品，袭击英国官员，组织了如波士顿倾茶事件这样的抗议活动…他们还召开了大陆会议，就反抗英国政策之事达成一致。1775 年，局势已经极为紧张，英国军队和殖民地的民兵在波士顿附近的来克星顿爆发了战斗。”这段叙述反映的历史事件是

- A. 英国“光荣革命” B. 美国独立战争爆发
C. 法国大革命爆发 D. 印度民族大起义

10. 他的墓碑上刻着一句话：“全世界无产者，联合起来！”他是

- A. 罗伯斯庇尔 B. 马克思 C. 克伦威尔 D. 托尔斯泰

11. 下图为国际社会主义运动整体发展趋势示意图，其中①处对应的历史事件是



- A. 英国宪章运动 B. 俄国十月革命
C. 法国巴黎公社 D. 《共产党宣言》发表

12. 一位同学收集了如下资料。他研究的主题是



《玻利瓦尔传》



章西女王纪念邮票

- A. 资本主义制度的产生 B. 殖民地人民的反抗
C. 一战后的世界秩序 D. 走向和平发展的世界

13. 右图摘录了彼得一世改革的措施, 这些措施推行的作用是

- A. 建立起沙皇的专制统治
- B. 废除了腐朽的农奴制度
- C. 开启了俄国近代化的进程
- D. 改变了俄国的社会制度

※创建一支新式常备军;
※鼓励兴办手工工场;
※派遣留学生, 创办科学院、学校、报纸;
※提倡学习西方的礼节和生活方式。

14. 为寻找灯丝的材料, 做过数千次试验; 为试制新的蓄电池, 失败过八千次。这位科学家是

- A. 爱迪生
- B. 爱因斯坦
- C. 卡尔·本茨
- D. 莱特兄弟

15. 科学家达尔文的墓志铭是“他颠覆了世界, 虽然并不完全。” 与之相关的是他

- A. 完成环球航行和考察
- B. 提出了万有引力定律
- C. 提出了进化论的观点
- D. 发明了人造纤维技术

16. 恩格斯说: “他在《人间喜剧》里给我们提供了一部法国‘社会’特别是巴黎‘上流社会’的卓越的现实主义历史。” 恩格斯提到的“他”是

- A. 牛顿
- B. 托尔斯泰
- C. 巴尔扎克
- D. 贝多芬

17. 19 世纪末, 某一同盟条约规定: “如果意大利遭到法国进攻, 德、奥匈两国应全力援助, 如果德国遭受法国侵略, 意大利也担负同样的义务。” 该同盟是

- A. 三国协议
- B. 三国同盟
- C. 法西斯同盟
- D. 北约

18. 李普曼是美国军事情报局在巴黎的宣传干将, 专门负责撰写投放到敌方的传单。他在一份为鼓动敌方士兵投降的传单中, 以俘虏的口吻写道: “不要为我担心, 我已经不打仗了。我吃得很好。美军给战俘的食品定量和给他们自己的士兵一样多: 牛肉、白面包、土豆、牛奶、黄油……” 据此, 可以说明

- A. 欧洲两大军事集团扩军备战
- B. 萨拉热窝事件的背景
- C. 凡尔登战役异常惨烈
- D. 美国已参加协约国一方作战

19. 参战诸国负债累累, 英国在 1914 年是最大的放贷国, 在战后其金融霸权地位让给了美国, 法国这个财政强国亏了不少, 而德国更是亏得一塌糊涂。材料反映出第一次世界大战

- A. 动摇了欧洲优势地位
- B. 促进了殖民地人民觉醒
- C. 彻底摧毁了殖民体系
- D. 给全世界带来深重的灾难

20. 右侧连环画反映的历史事件的意义是

- A. 建立了资产阶级临时政府
- B. 标志着第一次世界大战的结束
- C. 建立了第一个无产阶级专政的国家
- D. 标志着苏维埃社会主义共和国联盟成立



21. 1914~1918 年战争的战胜国要德国支付巨额赔偿。英国政治家格迪斯把德国比作柠檬, 要把它挤到“果仁都吱吱发响”。把德国挤到“吱吱发响”的是

- A. 萨拉热窝事件
- B. 《凡尔赛条约》
- C. 国际联盟成立
- D. 《九国公约》

22. 在巴黎和会上，为了拉拢日本，英、法、美无视中国的反对和抗议，决定把德国在山东的一切权益转让给日本。但是在华盛顿会议上，英美支持中国收回山东主权的要求。英美态度发生转变是因为
- A. 尊重和维护中国主权
B. 中国综合国力的提高
C. 遏制日本独霸中国
D. 二战即将爆发
23. 1921 年夏天，干旱阻碍了俄国经济生活的复苏，农民的收成少得可怜。但到 1923 年时，苏联已经开始出口谷物了，私有商店重新开张，商家开始光明正大地走在大街上。出现这种变化的原因是
- A. 推翻了沙皇专制统治
B. 实施了战时共产主义政策
C. 推行了新经济政策
D. 颁布了新宪法
24. “1928 ~ 1937 年的两个五年计划期间，苏联建成了六千多个大型工矿企业，形成了比较完备的工业体系，工业总产值跃居欧洲第一位、世界第二位。”材料旨在说明
- A. 战时共产主义政策的优越性
B. 新经济政策符合苏联国情
C. 农业集体化取得了巨大成就
D. 工业化建设取得显著成效
25. 根据“抵制在殖民政府和法院中工作；拒绝在英国学校读书；鼓励发展手工纺织业，抵制英国商品；拒绝纳税。”等内容，下列事件中与此内容相关的是
- A. 拉丁美洲独立运动
B. 印度民族大起义
C. 印度非暴力不合作运动
D. 非洲民族独立运动

第 II 卷（非选择题，共 25 分）

二、非选择题（共 25 分）

26. 阅读材料，回答问题。

材料一 正是依靠这部法典，这一时代的巴比伦社会成为古代东方奴隶制国家中统治最严密的国家。从某种意义上也可以说，这部法典照亮了当时的美索不达米亚，也照亮了后世的法制之路。……更重要的是，法典真实而全面的反映了当时的社会政治经济制度，不仅标志着古西亚法律制度的进步和国家的成熟，还对之后的古代西亚及西方法律文化产生了深远的影响。

——摘编自黎暮、陆沉《北大学生最关注的 100 个事件·第 56 章》

材料二 法国大革命是全欧洲的反封建运动中的重要一步。……它对绝对王权造成强有力的打击……大革命扫除了正在衰落的封建残余，还颁布了法律……并推广到欧洲其它国家……

——摘自斯塔夫里阿诺斯《世界通史》

（1）材料一中的“法典”是指什么？结合所学分析其作用。（3 分）

(2) 法国大革命时期颁布对“绝对王权”的打击和“并推广到欧洲其它国家”的法律分别是什么？(2分) 依据材料二，法国大革命有哪些历史作用？(2分)

27. 革命和改革是社会更替与变革的重要形式。

材料一 经过一系列的讨价还价，由议会宣布新国王临朝，威廉和玛丽共同登上王位。在此之前，议会发布了一项法案，作为新国王登基的条件，其中多数条款都是“英国人自古就有的”权利，比如只有议会才可以征税，臣民可以自由地请愿，议会应该定期召开等等。但将所有这些“权利”用书面形式汇聚于一纸，而且作为人民与国王之间的“契约”出现，这是具有重大意义的事。它为现代英国政治制度的形成再打下一个基础。

——钱乘旦、许洁明《英国通史》

材料二 战争之后，美国成为了单一的、联合的、强大的国家，这奠定了美国在20世纪成为世界第一强国的基础。如果美国在19世纪60年代的时候，分裂成了两个或者更多的国家，或者北方没有赢得胜利，这是根本不可能实现的。所以，这场战争对美国的未来产生了深远的影响。

——《大国崛起》

材料三 “废藩置县”，加强中央集权。承认土地私有，允许土地买卖。引进西方技术，鼓励发展近代工业。

材料四 法令规定：农奴在法律上是“自由人”，地主不许买卖农奴和干涉他们的生活；农奴在获得“解放”时，可以得到一块份地，但他们必须出钱赎买。

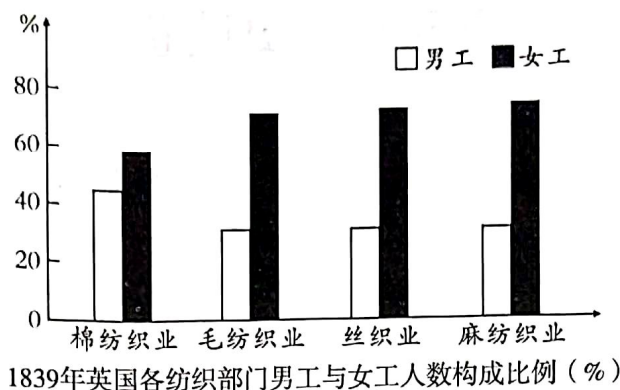
(1) 材料一中的“契约”是指哪一文献？如何认识这一“契约”？(3分)

(2) 材料二中的“战争”是哪一重大事件？(1分) 根据材料二并结合所学知识指出这场战争解决了当时美国发展道路上面临的什么主要问题。(1分)

(3) 材料三、四分别反映的是什么历史事件？(2分) 它们的历史作用有哪些共同之处？(2分)

28. 工业革命推动了人类历史发展。

材料一 随着机器的广泛使用，妇女大量走向社会工作岗位。她们的经济独立日渐形成。



材料二 珍妮纺纱机的发明者哈格里夫斯是个织工；骡机的发明者克伦普顿是个纺织工兼织工；只有……瓦特有一定的科学知识……在19世纪，自然科学特别是热力学、电磁学、化学等方面的新发展，开始与工业生产紧密地结合起来。……第一次工业革命首先发生在英国……第二次工业革命几乎同时发生在几个先进的资本主义国家。

——摘编自吴于廑、齐世荣主编《世界史近代史编》

材料三 工业化时期，英国城市环境问题主要表现为：极其恶劣的居住环境，不容忽视的大气污染，日益严峻的河流污染……城市环境问题的产生，除了受工业化时期的技术制约以外，还与当时人们对环境污染的漠视态度以及“自由放任”的工业化模式有关。

——刘金源《工业化时期英国城市环境问题及其成因》

请回答：

(1) 根据材料一，指出图中纺织业部门男工与女工人数构成比例的特点。结合所学知识“机器的广泛使用”得益于什么动力机械的发明和改良？(2分)

(2) 依据材料二，概括两次工业革命的特点。(4分)

(3) 依据材料三概括工业化时期英国城市环境问题出现的原因是什么？(2分) 人类应如何避免此类现象？(1分)

九年级历史参考答案

一、选择题（每小题 1 分，共 25 分）

1-5 A D B D C 6-10 A C A B B 11-15 D B C A C 16-20 C B D A C 21-25 B C C D C

二、非选择题（共 25 分）

26. (1) 《汉谟拉比法典》。(1 分) 作用：维护了古巴比伦的中央集权和君主专制统治（或者：使巴比伦社会成为古代东方奴隶制国家中统治最严密的国家）；是古巴比伦王国留给人类宝贵的文化遗产，表明人类社会法制传统源远流长；全面的反映了当时的社会政治经济制度，标志着古西亚法律制度的进步和国家的成熟，对之后的古代西亚及西方法律文化产生了深远的影响。(2 分，答出两点，意思相近即可)

(2) 《人权宣言》；《法典》或《拿破仑法典》(2 分) 对法国专制王权造成强有力的打击；扫除正在衰落的欧洲封建残余(打击了欧洲封建势力)。(2 分)

27 (1) (1) 《权利法案》。(1 分) 认识：使英国确立了君主立宪制的资产阶级统治；为现代英国政治制度的形成再打下基础；确立了议会在国家政治生活中的最高地位；分歧可以在议会中协商解决，避免了不必要的暴力和内战；有利于英国资本主义的发展；对其他国家资产阶级建立新的制度也有巨大的影响等。(2 分，答出两点，意思相近即可)

(2) 美国南北战争(或美国内战)；(1 分) 国家的统一问题；(1 分)

(3) 明治维新，俄国农奴制改革(或俄国 1861 年改革，亚历山大二世改革)；(2 分) 都促进了本国资本主义的发展(或都使本国走上了发展资本主义的道路)。(2 分)

28 (1) 特点：纺织业部门女工人数的百分比超过男工。动力机械：蒸汽机。(2 分)

(2) 特点：第一次工业革命的特点：发明者主要是技术工；首先在英国发生。第二次工业革命特点：科学与生产紧密结合；在几个先进的资本主义国家几乎同时发生。(4 分)

(3) 受工业化时期的技术制约；当时人们对环境污染的漠视态度以及“自由放任”的发展模式有关(任答两点即可给分) 给分)(2 分) 在发展经济的同时要加强环境保护；坚持可持续发展理念(符合题意、言之有理、任答一点即可给分)(1 分)