

2021—2022 学年第一学期期末教学质量检测

九年级历史试题 (GY)

注意：1. 本卷为全开卷，只可参考教材。

2. 满分 100 分，时间 80 分钟。

题号	1—20	21	22	23	24	总分	等级
成绩							

卷 I (选择题，共 50 分)

本卷共 25 小题，每小题 2 分，共 50 分。在每小题列出的四个选项中，只有一项是最符合题目要求的。

题号	1	2	3	4	5	6	7	8	9	10
选项										
题号	11	12	13	14	15	16	17	18	19	20
选项										

- “中世纪晚期，西欧土地关系的变化和手工业的发展，推动农业和手工业生产组织逐渐资本主义化，开始改变中世纪欧洲社会的整体面貌。”这一变化主要表现在
 - 租地农场和手工工场的出现
 - 垦殖运动和手工作坊的出现
 - 庄园经济和家庭手工业出现
 - 庄园经济和手工工厂的出现
- 皮科·米朗多拉在一次演说中说，上帝曾对亚当说过：“我把你造成为一个既不是天上的也不是地上的，既不是与草木同腐的也不是永远不朽的生物。为的是使你能够自由地发展你自己和战胜你自己。你可以堕落成为野兽，也可以再生如神明。”他的演说体现的是
 - 专制思想
 - 人文主义
 - 神权思想
 - 民族主义
- 剑桥大学圣约翰学院图书馆收藏着一份标记着“约翰·布鲁姆菲尔德先生的黑人清单”的文件，上面列有 35 名男性和 19 名女性，其中包括年仅 14 岁的儿童。文件上记录着“迪克，25 岁；能做农活的黑人，140 英镑；卡斯蒂利亚，45 岁，烹饪与洗衣女工，60 英镑”等条目，这 54 名黑奴的总价值约 5100 英镑。材料反映了奴隶贸易
 - 使大西洋贸易繁荣
 - 呈现残酷性和商业性
 - 推动了非洲的进步
 - 促进了世界市场的形成



4. 下面是印第安人和欧洲人对某位历史人物的看法，最符合下列看法的历史人物是

印第安人	欧洲人
他把欧洲强盗带到了美洲，破坏我们的文明，掠夺我们的财富，他是一个恶魔。	他“发现”了新大陆，把欧洲文明传到美洲，使落后的美洲走向文明，他是一个功臣。

A. 迪亚士 B. 达·伽马 C. 哥伦布 D. 麦哲伦

5. 1800 年，波拿巴任命了《民法典》4 人的起草委员会，开始起草《民法典》。1801 年参议院开始非常认真地讨论《民法典》草案。在 107 次讨论会中，波拿巴出席了 55 次。1804 年，《民法典》作为正式文件颁布。这表明《民法典》

A. 对其他国家的示范性 B. 代表利益的广泛性
C. 带有明显的专制色彩 D. 制定过程的严谨性

6. 进入 17 世纪，英国王权与议会发生尖锐的冲突。资产阶级和采用资本主义经营方式的新贵族（一部分乡绅）日益强大，在议会中捍卫自己的权利。国王詹姆士一世和查理一世都标榜“君权神授”，宣称议会的权利来自国王。他们独断专行，经常停开议会。这表明当时的英国

A. 议会是最髙权利机关 B. 国王反对采用资本主义生产方式
C. 资产阶级危害了国家利益 D. 封建统治阻碍了资本主义的发展

7. “这一事件本身并没有什么实际作用，不过，它摧毁了平民心目中压迫的象征，掀开了轰轰烈烈的法国革命的序幕。”材料中的“这一事件”是指

A. 巴黎人民攻占巴士底狱 B. 萨拉托加大捷
C. 路易十六被送上断头台 D. “光荣革命”

8. 英国亚当·斯密在其撰写的《道德情操论》（1859 年）中主张：“政府应公平分配财富，以达到社会的公平和正义。然而资本主义发展的事实却与之背道而驰。”为实现这一目标，率先在政治方面进行的实践是

A. 英国宪章运动 B. 《共产党宣言》的发表
C. 巴黎公社的建立 D. 法国大革命的爆发

9. 这次革命，其所涉及的地理范围，除南美洲以外，还包括北美洲的墨西哥、中美洲和加勒比海地区。在这样一个广阔地区，在同一时期（1790-1826 年）爆发革命，并获得成功，建立十多个国家，这在整个人类历史上是从来没有过的。这次革命是

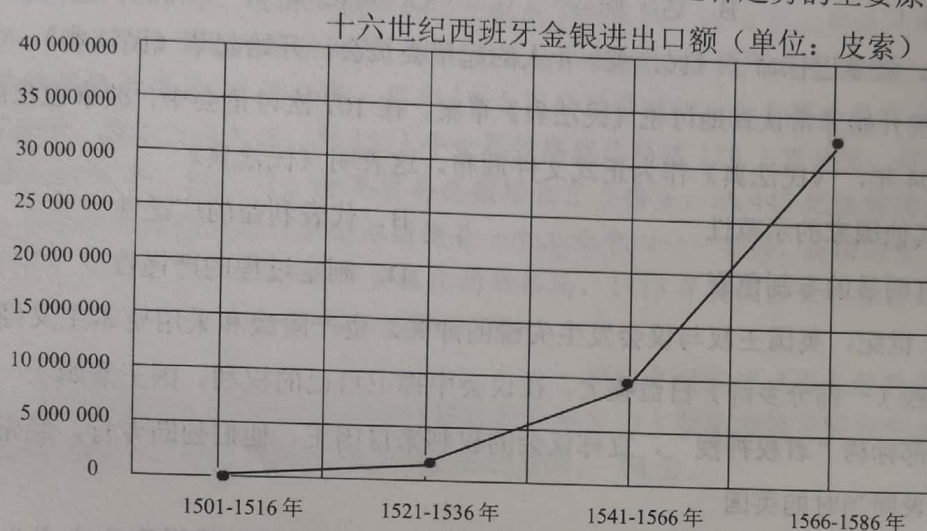
A. 北美独立战争 B. 拉丁美洲独立运动
C. 印度民族起义 D. 墨西哥卡德纳斯改革



10. 1918年列宁在工人合作社第三次代表大会上指出：一个落后的国家竟有幸走在伟大的世界运动的前列，全世界资产阶级都看到了这个运动而且了解这个运动。这场运动范围很大，德国、比利时、瑞士、荷兰都看起来了。列宁提及的这场运动

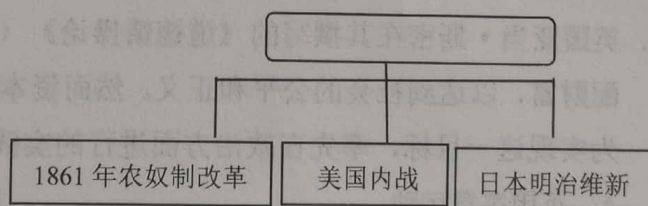
A. 催生两个政权并存的局面
B. 实现了无产阶级的和平夺权
C. 开辟了人类历史发展的新纪元
D. 推动俄国进行改革

11. 如图是十六世纪西班牙金银进出口额统计表。出现这种趋势的主要原因是



- A. 新航路开辟后，西班牙从拉美掠夺大量黄金、白银
B. 西班牙资本主义迅速发展，完成了工业革命
C. 文艺复兴促进了西班牙资本主义的产生
D. 西班牙资产阶级革命推翻了封建君主专制
12. 通过抓关键词和制作学科思维导图掌握知识是学习历史的有效方法之一。请概括出右面导图的时代主题

- A. 资本主义制度的初步确立
B. 工业革命
C. 殖民扩张
D. 资本主义制度的扩展



13. “1917年11月7日晚，全副武装的工人、士兵和水兵向临时政府所在地——冬宫发起了猛烈进攻。这是世界上第一次胜利的社会主义革命，它使科学社会主义理论化为现实，给各国无产阶级和殖民地半殖民地人民展示了一条崭新的寻求解放的道路。”材料中的“革命”和“理论”分别指

A. 法国的巴黎公社运动和马克思主义
B. 俄国的十月革命和马克思主义
C. 中国的新民主主义革命和马克思主义
D. 俄国的二月革命和马克思主义



14. 在俄罗斯长篇小说《切温古尔》中有这样一段话：“令人费解的是，（红军来了）分了土地，却又把每一粒粮食收走了，你倒是自己去尝尝这样的滋味吧！”为改变这种情况，苏俄开始实施

A. 新经济政策 B. 战时共产主义政策 C. 土地改革 D. 第一、二个五年计划

15. 1900 年以后，机器导致的力量革命使男人相对于女人在生产领域的力量优势变得无足轻重，“女性与男性第一次平等地站在机器面前”。这可以说明

A. 科学研究引领技术突破

B. 男女平等基本实现

C. 自然经济解体

D. 科技进步引起社会变化

16. 美国在《农业调整法》（1933年5月通过）生效的第一年，屠宰了二千三百万头牛，六百四十万头猪，减少了三百万公顷小麦和四百万公顷棉花播种面积。美国实施此政策的主要目的是

A. 建立社会保障制度

B. 维护工人的合法权益

C. 增加失业者就业机会

D. 稳定农产品的价格

17. 表格中的内容主要用来研究

A. 美国内战爆发的原因

B. 决定美国内战胜负的因素

C. 美国内战北方的力量强于南方

D. 美国内战的影响

※第一，南北方的物质基础、人力资源与交通条件

※第二，南北生产技术与武器装备

※第三，联邦与联邦总统的能力与性格

※第四，南北主将的战略素养与指挥技巧

※第五，南北部队的士气与士兵军纪

18. 某历史公众号推出学习资源包,包含以下几个链接:“章西女王,傲骨不死”“南美解放者玻利瓦尔”“圣雄甘地”,该资源包的标题应为

A. 民族解放运动风起云涌

B. 殖民帝国统治相继瓦解

C. 社会主义运动空前高涨

D. 民主改革汹涌澎湃

19. 下图展示了第二次世界大战的进程。

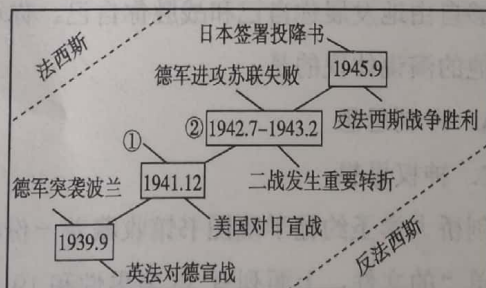
其中的①②分别是指

A. 凡尔登战役：诺曼底登陆

B. 雅尔塔会议召开；斯大林格勒战役

C. 慕尼黑阴谋：诺曼底登陆

D. 日军偷袭珍珠港；斯大林格勒战役



20. 有英国人回忆说：“我们抵达巴黎的时候决心达成一个公正和英明的和平，我们离开的时候却发现强加给敌人的条约既不公平又不英明。”“强加给敌人的条约是”

A. 《和平法令》 B. 《九国公约》 C. 《凡尔赛条约》 D. 《波茨坦公告》



密

封

线

21. 阅读材料，回答问题（16分）

材料一 帝国主义国家之间发展是不平衡的，后起国家随着实力不断加强，要求重新瓜分势力范围；老牌帝国主义国家为了维护既得利益，极力巩固已有优势。……由于当时缺乏比较通畅的大国之间国际性的沟通协商机制……帝国主义国家两大集团的形成，为第一次世界大战的爆发准备了条件。

材料二 二战期间美国向其他盟国提供了总额近 500 亿美元的租借援助物资。英国得到最多，近 300 亿；苏联其次，约 111 亿，包括卡车约 45 万辆（占苏军车总量 50% 以上）；中国约 16 亿。美国也从包括中国在内的其他盟国得到 78 亿美元的军需、设施、资源、劳务等。此外，苏联还得到英国近 20 亿美元的物资援助。

（1）材料一中“两大集团”的名字分别是什么。（4分）据材料一，指出“缺乏沟通协商机制”的后果。（4分）

（2）据材料二，概括盟国之间相互援助的表现（4分）

（3）综合上述材料，你得到的解决国家之间面临共同问题的智慧是什么。（4分）



22. 探究问题 (14 分)

材料一 他是俄国历史上最成功的改革者，也是俄国工业化道路的开拓者。大工场手工业是这一时期工业化的最高成就，是先进的生产技术，落后的农奴制度和极端的专制主义的混合物。

材料二 到近代时期的 1913 年，世界主要资本主义国家中，俄国的工业产值在世界工业总产值中只占 2.7%，等于美国工业产值的 7%，德国的 17%，英国的 22%，法国的 40%。

是什么原因造成俄国该领域的这种状态呢？由于耕作技术水平低下，农作物的单位面积产量不高，不能为城市和工业提供充足的粮食和原料。

……在冶金工业中，当英法等国采用新的工艺时，俄国的冶金生产技术却没有任何改进。在西欧，很多国家早在 19 世纪 30 年代已采用热吹风炉，而俄国则迟迟没有应用这一技术。

除此以外，农奴制度废除后，虽然在国民教育方面也进行了一些改革，学校的数量有所增加，但是沙皇政府却一直没有推行过普及义务教育……必然对农业进而对工业的发展产生不利的影响。

——摘编自《近代俄国工业落后原因论析》

(1) 材料一中的“他”是谁。(2 分)

(2) 材料二表明俄国哪一领域发展的什么状态。(4 分) 并据材料和所学分析其成因。(8 分)



23. 阅读材料，回答问题。（14分）

材料一 1800年，英国的矿山已经使用“铁路”（铁轨），马拉的货车，将煤运到运河或者海边。1829年，利用蒸汽机做动力的火车在新建成的铁路上行驶，达到令人印象深刻的时速16英里。当时，有铁路公司的董事们指出“用机车牵引比用马力牵引可节省经费30%”。到1835年底，政府相继颁布了五十四项各式各样的铁路条例。到19世纪中期，通车的铁路整整五千英里。此时的欧洲正处于建设铁路的时代。

——摘编自（英）克拉潘《现代英国经济史》

材料二 1866年，德国工程师西门子制成了发电机。1870年比利时人格拉姆发明了电动机，从此开始了电力带动机器，使电力成为补充并逐渐取代蒸汽动力的新能源。1870年世界铁路总长度为21万公里，其中10.5万公里在欧洲，9.3万公里在美洲，余下仅1.2万公里，基本上在亚洲。到1913年世界铁路线已经达110.2万公里，超过1870年时的5倍。1870年~1913年，世界贸易总额增长了3倍多，从445亿法郎增至1924亿法郎……原先卷入世界市场的各国都围绕着一个工业中心——英国，英国消费各国的材料，供应各国工业品。20世纪初出现多极化的新格局，1913年英国占世界贸易的15%，美国占11%，德国占13%，法国占8%，俄国占4%……

——摘编自刘宗绪《历史学科专题讲座》

（1）结合所学知识，写出工业革命时期将蒸汽机变为主要动力的发明家是谁？（2分）

根据材料一，概括英国铁路建设发展的原因。（4分）

（2）据材料二指出第二次工业革命的重要能源（2分）并归纳第二次工业革命对世界产生了怎样的影响？（4分）

（3）据材料和问题概括，推动社会进步的主要因素。（2分）



24. 阅读材料，回答问题（16分）

材料一 华盛顿领导美国人民取得独立战争胜利之后；拒绝了部下要他做国王的请求，坚持将美国建成一个民主的联邦共和国。1787年，在他主持下，制宪会议制定了第一部新宪法。在担任了两届总统后，华盛顿拒绝再次连任，开创了美国总统任期制的先例。为纪念他，美国人民在首都的市中心建立了一座高约168米的纪念碑。

——摘编自《简明世界历史读本》

材料二 1787年5月在费城召开了制宪会议，并选举华盛顿为会议主席。与会者没有工人、农民的代表，黑人和印第安人就更不用说了。……会议通过了几项重要决定：一是在奴隶制问题上，华盛顿的态度是很明确的，他说：“国会收到了一些呼吁废除奴隶制的请愿书，但是，这些请愿书简直没人看。我的确相信，马上把他们解放出来，会产生许多不便和危害”。二是在关于选举法的决定上，根据财产限制的原则，新宪法只给美国三百多万人口中的十二万左右的人以选举权，这样的反民主的选举法，引起了一切民主人士和广大人民群众的强烈不满和反对。在激烈的斗争中，华盛顿却想方设法使这个反民主的宪法获得了通过。

——摘编自赛蒙斯《美国史上的社会运动》

（1）据材料一，归纳美国人民在首都中心建立纪念碑纪念华盛顿的原因。（6分）

（2）据材料二，归纳华盛顿主持制定的1787年宪法有何局限性。（4分）据此说明华盛顿代表哪个阶级的利益。（2分）

（3）综合上述材料，评价历史人物应遵循的基本原则是什么。（4分）

