

2022 年邵阳市初中学业水平考试试题卷

历史

温馨提示:

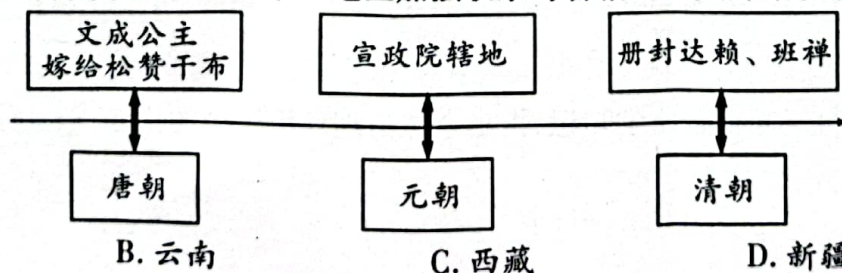
1. 本学科考试形式为闭卷考试;
2. 本学科试卷分试题卷和答题卡两部分,考试时量为 70 分钟,满分为 100 分;
3. 请你将姓名、准考证号等相关信息按要求填涂在答题卡上;
4. 请你在答题卡上作答,写在本试题卷上无效。

一、选择题:本大题共 24 道小题,每小题 2 分,共 48 分。每小题给出的四个选项中,只有一项最符合题意。

1. 中国是农业大国,农业生产具有悠久的历史。如果要考证中国是世界农业起源地之一,下列史料最可信的是
A. 北京人遗址中发现的灰烬
B. 河姆渡遗址出土的稻谷
C. 良渚遗址出土的玉琮和玉璧
D. 炎帝教民开垦耕种的传说
2. 给下面方框内所示内容归纳主题,最合适的是

第 9 课 秦统一中国	第 10 课 秦末农民大起义
第 11 课 西汉建立和“文景之治”	第 12 课 汉武帝巩固大一统王朝
第 13 课 东汉的兴衰	第 14 课 沟通中外文明的“丝绸之路”
第 15 课 两汉的科技和文化	

- A. 早期国家与社会变革
 - B. 统一多民族国家的建立和巩固
 - C. 政权分立与民族交融
 - D. 统一多民族国家的巩固与发展
3. 北魏孝文帝改革后,汉语更成为北方主要通用语言,各民族间思想感情日益沟通,以往的“胡”“汉”观念逐渐淡薄。由此可知,孝文帝改革
A. 完成了国家统一
B. 发展了畜牧经济
C. 促进了民族交融
D. 增强了北魏实力
 4. 在大运河的修建过程中,我们的祖先遇到了许多难题,如所连接的海河、黄河等五大水系的海拔不同,如何控制水的流向等等。但他们克服了重重困难,修成了直到今天我们都为之骄傲的大运河。材料强调大运河的开通
A. 维护了社会秩序的安定
B. 体现了古代人民的智慧
C. 加强了南北地区的联系
D. 促进了社会经济的繁荣
 5. 下图呈现了中国古代中央政府对某一地区加强联系与管辖的历史脉络。该地区是





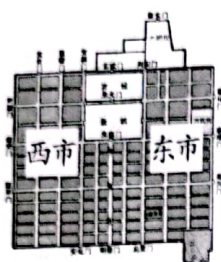
A. 台湾

B. 云南

C. 西藏


D. 新疆

6. 某博物馆计划推出中国古代某专题展览,准备了多种资料,其中有如下所示四幅图片。据此判断,该展览的主题是中国古代



唐朝长安城平面图 北宋纸币铜版拓片 《前门街市图》(局部·清) 《广州十三行》

- A. 货币的发展历程
B. 制瓷业的发展历程
C. 商业的发展历程
D. 丝织业的发展历程
7. 为落实“双减”要求,切实减轻学生负担,培养学生学习兴趣,某班成立了历史兴趣小组。在讨论洋务运动和戊戌变法时,同学们提出了以下观点,符合历史事实的是
- A. 都主张学习西方
B. 都主张暴力革命
C. 都主张民主共和
D. 都主张君主立宪
8. 下列历史事件与其发生的时间搭配正确的一项是
- A. 中华民国成立——1912 年
B. 重庆谈判——1942 年
C. 土地改革完成——1962 年
D. 中美建交——1972 年
9. 诗歌是一种抒情言志的文学体裁,既能抒发个人情怀,也能反映历史的真情实况。右图所示诗歌反映的历史事件是
- A. 北伐战争
B. 南昌起义
C. 红军长征
D. 辽沈战役
10. 史论结合是学习历史的基本方法之一。下列史实与结论之间逻辑关系正确的是
- A. 淞沪会战——正面战场取得的最大的一场胜仗
B. 台儿庄战役——标志着抗日战争进入相持阶段
C. 武汉会战——打破了日本 3 个月灭亡中国的迷梦
D. 百团大战——振奋了全国军民争取抗战胜利的信心
11. 1947 年夏,刘伯承、邓小平率领晋冀鲁豫解放军主力,千里挺进大别山。该事件
- A. 标志着全面内战的爆发
B. 揭开了人民解放军战略进攻的序幕
C. 消灭了国民党军队的主力
D. 结束了南京国民政府在大陆的统治
12. 近代以来,随着社会经济与文化的发展,人们的生活方式和风俗习惯发生深刻变化,出现了自由平等的新风尚。下列生活方式和风俗习惯能体现出自由平等新风尚的是
- A. 见长辈要跪拜
B. 女子缠足
C. 称呼“老爷”“大人”
D. 行鞠躬、握手礼



13. 2021 年 12 月 4 日,国务院新闻办发表《中国的民主》白皮书。白皮书指出“中国的民主是人民的民主,人民当家做主是中国民主的本质和核心”。保障我国“人民当家做主”的根本政治制度是

- A. 民族区域自治制度
B. 政治协商制度
C. 人民代表大会制度
D. 君主专制制度

14. 评价历史人物必须全面把握其历史活动,再给出一个合适的评价结论。对右图人物最合适的评价结论是

- A. 人民的好总理
B. 新中国的缔造者
C. 民主革命的先行者
D. 改革开放的总设计师



邓小平

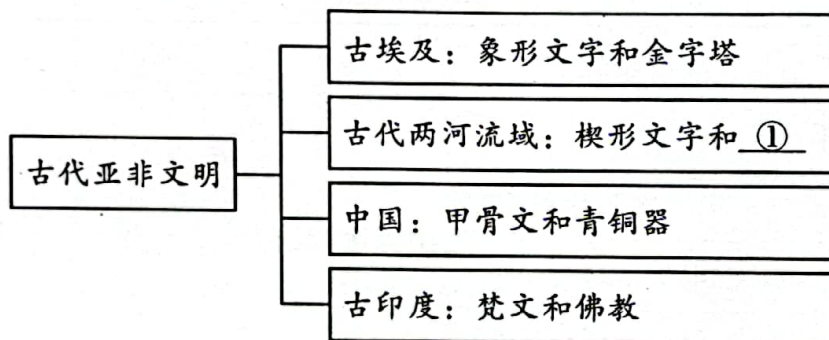
15. 面对强国强军的时代要求,我国国防和军队建设不断推进。2015 年,中国人民解放军调整组建五大军种,其中第二炮兵部队更名为

- A. 陆军
B. 海军
C. 空军
D. 火箭军

16. 2003 年 10 月,乘坐神舟五号飞船升入太空并成功返回地面的航天员是

- A. 翟志刚
B. 杨利伟
C. 叶光富
D. 王亚平

17. 如下所示知识结构图,①处的内容应为



- A. 《汉谟拉比法典》
B. 《十二铜表法》
C. 《查士丁尼法典》
D. 《天方夜谭》

18. 研读历史教材是获取历史知识的有效途径之一。下列关于古代欧洲的说法与教材观点一致的是

- A. 古希腊是欧洲文明的发祥地
B. 屋大维建立了亚历山大帝国
C. 伊斯兰教被确立为罗马国教
D. 中世纪城市没有取得自治权

19. 19 世纪 60 年代,主要资本主义国家通过资产阶级革命或改革,走上了迅速发展资本主义的道路。下列事件发生在这一时期的是

- A. 日本大化改新
B. 英国“光荣革命”
C. 俄国彼得一世改革
D. 美国“南北战争”

20. “1922 年美国召集的华盛顿九国会议签订了一个公约,又使中国回复到几个帝国主义国家共同支配的局面。”该“公约”是

- A. 《凡尔赛条约》
B. 《九国公约》
C. 《开罗宣言》
D. 《波茨坦公告》

21. 1942 年 1 月,美、英、苏、中等 26 个国家的代表在美国首都华盛顿签署《联合国家宣言》。该宣言的签署标志着

- A. 国际联盟的成立
B. 第二次世界大战达到最大规模
C. 两极格局的形成
D. 世界反法西斯联盟的正式形成

22. 2022年2月24日,俄罗斯发动对乌克兰的特别军事行动,引起世界各国关注。引发俄乌冲突的原因之一是乌克兰企图加入成立于1949年、以美国为首的某军事集团。该军事集团是
A. 北约 B. 华约 C. 东盟 D. 欧盟
23. 2022年1月,世界贸易组织宣布中国诉讼美国反补贴案胜诉,认定中国在货物贸易领域每年可对美方实施6.45亿美元贸易报复。该材料体现世界贸易组织的职能是
A. 解决贸易争端 B. 推动民主进程 C. 维护国际和平 D. 反对种族歧视
24. 苏联解体后,美国成为唯一的超级大国,但是,欧盟、日本、中国和俄罗斯等一些具备较强综合实力的国家联盟或国家也在国际和地区事务中发挥着重要作用。这表明
A. 世界经济实现全球化 B. 世界经济区域集团化
C. 世界多极化趋势加强 D. 美国建立“单极世界”

二、探究题: 16分。

25. (16分)近代中国的历史,是一部屈辱史、血泪史,也是一部抗争史、探索史。经过一代又一代仁人志士的抗争、探索,在中国共产党的领导下,中华民族迎来了从站起来、富起来到强起来的伟大飞跃。在庆祝中国共产党成立100周年大会上,少先队员和共青团员代表向党抒发出“请党放心、强国有我”的铮铮誓言。

(1)结合所学知识,将下面表格补充完整。(6分)

时间	侵略战争	影响
1840—1842年	①	中国逐渐沦为②社会
1856—1860年	第二次鸦片战争	
1894—1895年	甲午中日战争	
1900—1901年	八国联军侵华战争	
1931—③年	抗日战争	中国近代以来反抗外敌入侵第一次取得完全胜利的民族解放战争

(2)写出一例近代中国农民阶级反抗西方列强侵略的历史事件。(2分)孙中山领导资产阶级革命的指导思想是什么?(2分)

(3)标志着中国共产党领导中国人民“站起来”的历史事件是什么?(2分)20世纪80年代,为使农民“富起来”,我国在农村推行的经济体制改革的主要内容是什么?(2分)

(4)作为新时代的青少年,你认为怎样才能实现“强国有我”的誓言?(2分)

三、材料解析题:36分。

26. (18分)中华民族在几千年历史中创造和延续的中华优秀传统文化,是中华民族的根和魂。阅读材料,完成下列要求。

材料一 中华优秀传统文化是“民族文化血脉”。中华民族发展过程中,从《竹书纪年》……到文学、史学、农学、医学等,……为人类文明与进步做出不可磨灭的贡献。

——摘编自人民网《习近平与中华优秀传统文化》

(1)根据材料一并结合所学知识,列举我国古代史学、农学、医学方面的优秀著作(各一例)。(6分)

材料二

邵聪同学整理的中国传统文化简表(部分)

类别	成就
思想	孔子:“仁”;老子:“无为而治”;墨子:“兼爱”“非攻”
伟大工程	都江堰、大运河、长城、故宫
科技	四大发明、曲辕犁、筒车
传统节日	春节、清明节、端午节
文学	唐诗、宋词、四大名著
……	……

(2)根据材料二并结合所学知识,对下列表述作出正误判断,正确的画“√”,错误的画“×”。(8分)

- ①孔子提出的一些道德规范对中国社会的发展具有深远的影响。
- ②秦国蜀守李冰主持修建的都江堰,使成都平原成为“天府之国”。
- ③春秋战国时期曲辕犁和筒车出现,推动了农业生产的发展。
- ④清代小说中艺术成就最高、影响最深远的是曹雪芹的《红楼梦》。

材料三 截止2021年6月,邵阳市国家级非物质文化遗产包括岩鹰拳、龙山药王医药文化等共16项。……2021年8月,中共中央办公厅、国务院办公厅印发《关于进一步加强非物质文化遗产保护工作的意见》。意见明确指出:保护好、传承好、利用好非物质文化遗产,对于延续历史文脉、坚定文化自信、推动文明交流互鉴、建设社会主义文化强国具有重要意义。……非物质文化遗产在加深认同感、增强历史感、提升幸福感等方面,尤其彰显出它的重大现实意义。

——摘编自《邵阳新闻网》

(3)根据材料三,指出传承好非物质文化遗产的意义。(2分)

(4)根据上述材料并结合所学知识,你认为我们应该如何正确对待传统文化?(2分)

27. (18分)随着全球联系的加强,工业化的推进,生态问题日益成为实现人类可持续发展的关键问题。阅读材料,完成下列要求。

材料一 新旧大陆之间的接触与联系使得新的生物物种相互流传,特别是起源于美洲的玉米、马铃薯、西红柿等,不仅改变了各洲人们的生活方式,而且促进了世界人口的增加。与此同时,旧大陆食草的马、牛、羊等动物来到气候适宜、水草丰足的新大陆;其繁殖的数量远远超出了土地能提供的牧养量,地表植被因而被逐渐破坏,土地沙化、水土流失日趋严重。

——摘自《从生态环境视角看新航路开辟后世界的变化》

- (1)根据材料一并结合所学知识,指出“新旧大陆之间的接触与联系”始于哪一历史事件。(2分)这一事件对世界产生了什么影响?(4分)

材料二 工业革命使工业化国家发生了重大变化,人们既感受到从未有过的欢欣,也体验到很多新的痛苦。右图为19世纪后期,英国的有钱人乘坐汽船游览泰晤士河的场景。汽船在河中冒着呛人的浓烟;岸边工厂排放的污水,也使河水变得污浊不堪。



机器时代的“享受”

——摘编自部编版教材《世界历史》(九年级下册)

- (2)根据材料二并结合所学知识,完成下列要求。

①列举“机器时代”交通工具方面的发明成果(至少两例)。(4分)

②指出工业化为人类带来的“欢欣”和“痛苦”。(4分)

材料三

全球治理环境问题情况

……

2000年以来,法国巴黎一个高科技的垃圾焚烧站,焚烧已经过分检的垃圾,用其发电输往国家电网。

2009年,在哥本哈根会议上,来自193个国家的代表更新了《京都议定书》的内容,规定了更严格的温室气体排放限制。

2015年,中国专门设立200亿元人民币的气候变化合作基金,协助其他发展中国家一起应对气候变化。

2018年底,中国可再生能源发电装机容量达到7.3亿千瓦,占全部电力装机的38.3%。

……

——摘编自《人民网》

- (3)根据材料三并结合所学知识,指出全球治理环境污染的措施。(4分)