

数学

题号	一	二	三	四	五	六	成绩
得分							

一、我会填一填。(每空1分,共31分)

1. 9元=()角 24角=()元()角

30角=()元 1元9角=()角

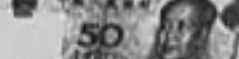

2. 读出或写出下面各数。



60 读作:() 七十二 写作:()

23 读作:() 九十五 写作:()

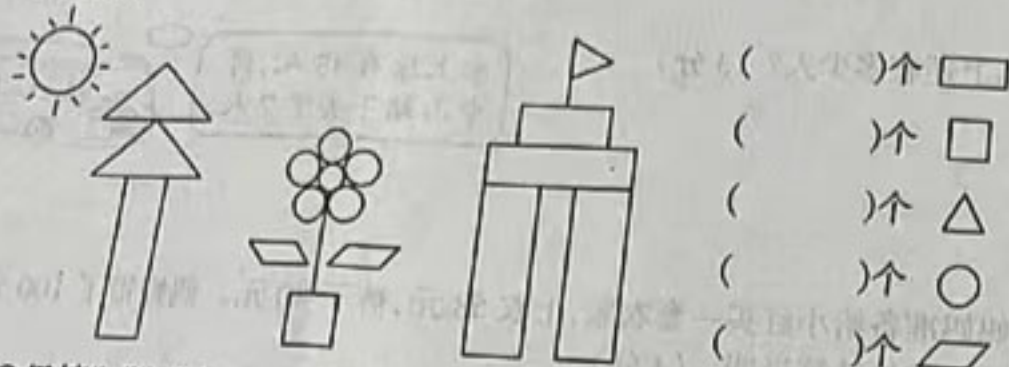
3. (1) 76 里面有()个十和()个一。

(2) 个位上是1,十位上是9的两位数是()。

4. (1) 一张  可以换()张 。

(2) 一张  可以换()张 。

5. 数一数。



6. 在○里填“>”“<”或“=”。

36 ○ 39

12-4 ○ 15-7

36+5 ○ 86

81 ○ 18

19-9 ○ 11-2

75-50 ○ 70

7. 妈妈买了3袋糖,每袋9个,一共买了()个糖。



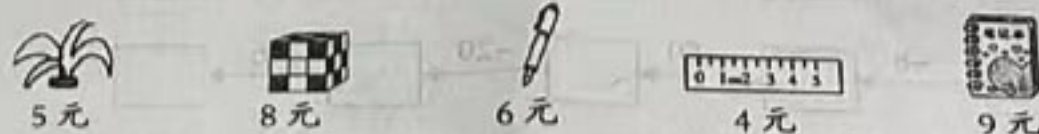
8. 按规律填数。

(1) 80, 70, 60, (), 40, (), ()。

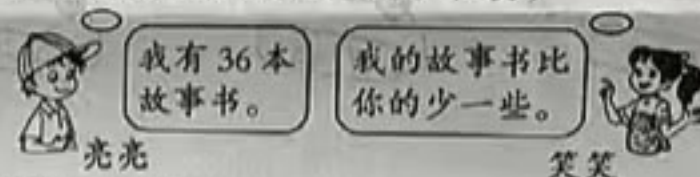


二、按要求完成下面各题。(13分)

1. 用12元钱正好能买下面哪两种物品? 圈出来。(2分)




2. 在合适的答案下面画“√”。(2分)



笑笑有多少本故事书?

30	40	60

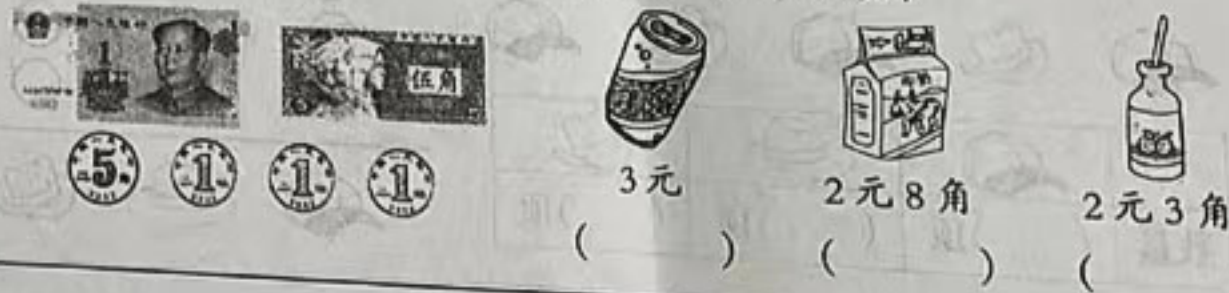
3. 划去不符合规律的文字或图形,圈出正确的。(4分)



4. 圈出十位上是8的数。(3分)

38 82 18 80 85 68

5. 给出的钱能买什么? 在能买的物品下面画“√”。(2分)



三、我来算一算。(30分)

1. 直接写出得数。(12分)

$12-7=$

$60-10=$

$53-7=$

$80-30=$

$13-8=$

$27+8=$

$36+40=$

$36+9=$

$24+40=$

$42-3=$

$75-40=$

$84-6=$

2. 看谁算得又对又快。(6分)

$16+8+40=$

$12-9+5=$

$37-5-10=$

$72-40+6=$

$83-40+8=$

$60+30-20=$

3. 从左往右算一算。(8分)

$36 \xrightarrow{+8} \square \xrightarrow{-20} \square \xrightarrow{+9} \square \xrightarrow{-4} \square$

$14 \xrightarrow{-8} \square \xrightarrow{+50} \square \xrightarrow{-20} \square \xrightarrow{+6} \square$

4. 开锁。(算一算,连一连)(4分)

$14+30$

$56-8$

$72+8$

$90-20$

44

70


48

80

四、整理帽子。(6分)



数量	()顶	()顶	()顶



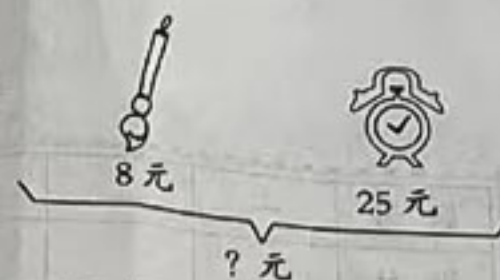
五、看图列式计算。(每式2分,共4分)

1.



$\square \bigcirc \square = \square \text{ (个)}$

2.



$\square \bigcirc \square = \square \text{ (元)}$

六、解决问题。(16分)

1. 动物园里有10只 和50只 。 比 少多少只? (3分)

2. 书架上有17本书,第一小组借走一些,第二小组又借走一些,书架上还剩下9本,两个小组一共借走了几本书? (3分)

3. 兔妈妈拔了37根萝卜,兔宝宝拔了9根萝卜。它们一共拔了多少根萝卜? (3分)

4. 车上还有多少人? (3分)

车上原有45人,到中山站下去了7人。



5. 妈妈准备给小红买一套衣服,上衣58元,裤子40元。妈妈带了100元钱,够吗?通过计算说明。(4分)