

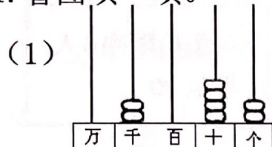
2021 学年第二学期二年级数学期末模块练习

模块一：数与代数

得分	
等级	


一、填一填（共 23 分，其中第 3 题 4 分，其余每空 1 分）

1. 看图填一填。



写作 ()

读作 ()



写作 (), 它是由 () 个百,

() 个十和 () 个一组成的。

2. 在 () 里填上合适的单位。


一个鸡蛋重约 65 (); 小力体重 25 (), 身高 135 ();

400 克 + 600 克 = 1 ()

3. 右图中一共有 () 颗巧克力, 如果每 4 颗装一盒,

可以装 () 盒。可以用除法 () \div () = ()

来计算, 用到的口诀是 ()。



4. 和 1300 相邻的两个数是 () 和 ()。

5. 如果 $24 \div \square = \bigcirc$, 那么 $\square \times \bigcirc =$ ()

6. 在 \bigcirc 里填上 >、< 或 =。

999 克 \bigcirc 1 千克

$54 \div 9 \bigcirc 45 \div 9$

7889 \bigcirc 7900

10 克 \bigcirc 9 千克

$8100 - 800 \bigcirc 1000$

$8 \times 6 - 6 \bigcirc 42$

二、算一算（共 27 分）

1. 直接写出得数。（10 分）

$9 \times 5 =$

$56 - 20 =$

$530 - 100 =$

$35 + 65 =$

$4 \times 8 + 9 =$

$16 \div 8 =$

$36 \div 6 =$

$70 + 60 =$

$52 \div 9 =$

$3 \times 8 \div 6 =$

$35 \div 7 =$

$4 \times 7 =$

$300 - 50 =$

$420 + 30 =$

$30 - 6 \times 4 =$

$20 \div 4 =$

$49 + 7 =$

$40 - 8 =$

$35 \div 8 =$

$21 \div (10 - 3) =$

2. 竖式计算。（8 分）

$430 + 270 =$

$320 - 180 =$

$56 \div 7 =$

$73 \div 8 =$

3. 脱式计算。(9分)

$$54 - 18 + 12$$

$$68 + 7 \times 2$$

$$(100 - 19) \div 9$$

模块二：图形与几何


得分	
等级	

一、填一填(共6分)


1. 下列现象是平移的画√，是旋转的画○。(4分)



()



()

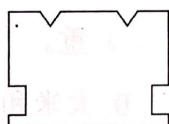


()

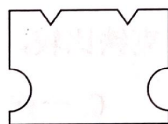


()

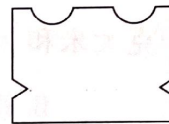
2. 将长方形纸对折后剪去一部分(如下面左图), 打开后会变成右边哪个图形, 请画√。(2分)



()




()



()

二、画一画(共5分)

1. 下面的图形是轴对称图形吗? 如果是, 请画出它的一条对称轴。(3分)




2. 下图中“↓”处表示的数可能是几? 请在合适的数字后面画√。(2分)

4480 ()

4680 ()

4980 ()



模块三：综合运用

得分	
等级	

一、填一填(共4分, 第1题2分, 其余每题1分)

1. 请把算式补充完整: $() \div 4 = 5 \cdots 3$ $48 \div () = 6 \cdots 6$

2. 下面的算式有些数字被■挡住了, 想一想, 在结果大于 400 的算式后面打√。

$776 - 39 \blacksquare ()$ $83 \blacksquare - 307 ()$ $154 + 1 \blacksquare 6 ()$

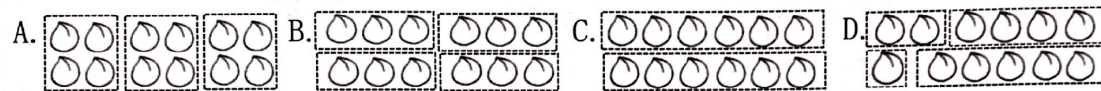
3. $5 \square 73 > 5781$, \square 里可以填 $()$ 。

二、选一选。(共 10 分)

1. 天天、平平、乐乐口算比赛, 天天做的不是最多, 乐乐做的最少, 他们三个人中 $()$ 做的口算最多。

A. 天天 B. 平平 C. 乐乐 D. 都有可能

2. 美猴王把 12 个桃子平均分给 4 只小猴子, 下列分法正确的是 $()$ 。



3. 把 $18 - 12 = 6$, $6 \div 3 = 2$ 这两个算式合并成一个综合算式, 正确的是 $()$ 。

A. $(18 - 12) \div 3$ B. $18 - 12 \div 3$ C. $18 - 6 \div 3$ D. $6 \times 3 - 12$

4. 2 千克大米和 2000 克铁比较, $()$ 重。

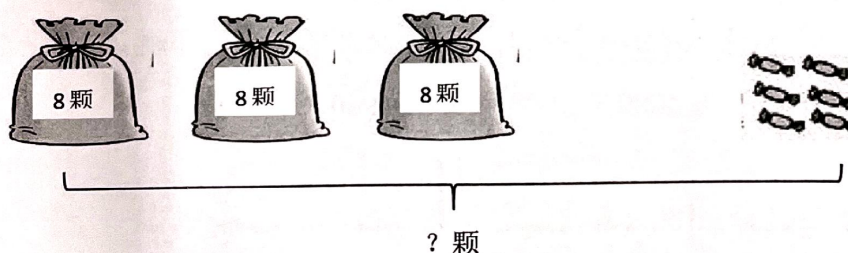
A. 大米 B. 铁 C. 一样 D. 大米和铁都有可能

5. 六一儿童节, 学校门口按红、红、黄、紫、蓝、红、红、黄、紫、蓝、红..... 的顺序挂气球。第 46 个气球是 $()$ 色的。

A. 蓝 B. 黄 C. 紫 D. 红

三、解决问题(共 25 分)

1. 看图列式计算。(3 分)



2. 水果店原来有水果 650 箱, 上午卖出 230 箱, 下午卖出 180 箱, 这一天一共卖出多少箱?

3. 哪种袜子便宜？



第一种

2 双 18 元

4 双 32 元



第二种

4. 202 班 44 名小朋友去儿童公园划船，他们至少要租几条船？

每条船限乘 6 人
租金 20 元

5. 爸爸带了 700 元，想买下面两样物品，钱够吗？




530 元



210 元

6. 根据统计图回答下面的问题。（6 分）

二年级同学参加拓展课程情况统计图



(1) 一共调查了 () 名同学。

(2) 参加 () 的人数最多，参加 () 的人数最少，相差 () 人。

(3) 今天有一名同学没来，他最有可能参加 ()，因为 ()。