

准考证号：\_\_\_\_\_

# 乐山市 2022 年初中学业水平考试

## 道德与法治·历史

本试题卷分第 I 卷（选择题）和第 II 卷（非选择题），共 10 页。考生作答时，须将答案答在答题卡上，在本试题卷、草稿纸上答题无效。满分 100 分。考试时间 120 分钟。考试结束后，将本试题卷和答题卡一并交回。

### 第 I 卷（选择题 共 48 分）

#### 注意事项：

1. 选择题必须使用 2B 铅笔将答案标号填涂在答题卡上对应题目标号的位置上。
2. 本卷共 32 个小题，第 1-16 题为道德与法治试题，第 17-32 题为历史试题，每小题 1.5 分，共 48 分。在每小题给出的四个选项中，只有一项是最符合题目要求的。

1. 2021 年 11 月 3 日，2020 年度国家科学技术奖励大会在北京人民大会堂隆重召开。中国航空工业集团有限公司\_\_\_\_\_院士和清华大学\_\_\_\_\_院士获国家最高科学技术奖。  
A. 黄旭华 王大中 B. 顾诵芬 王大中  
C. 黄旭华 屠呦呦 D. 顾诵芬 屠呦呦
2. 2022 年 2 月 28 日，国家统计局发布《中华人民共和国 2021 年国民经济和社会发展统计公报》。初步核算，2021 年全年国内生产总值达\_\_\_\_\_万亿元，比上年增长\_\_\_\_\_。  
A. 96.0 8.1% B. 96.0 6.8%  
C. 114.4 8.1% D. 114.4 6.8%
3. 2022 年 1 月 1 日，\_\_\_\_\_（RCEP）生效实施，这标志着全球人口最多、经贸规模最大、最具发展潜力的自由贸易区正式启航。  
A. 区域全面经济伙伴关系协定 B. 跨太平洋伙伴关系协定  
C. 泛太平洋战略经济伙伴关系协定 D. 数字经济伙伴关系协定
4. 据我国《禁毒法》之有关规定，以下不属于我国目前戒毒模式的是  
A. 家庭戒毒 B. 自愿戒毒 C. 强制隔离戒毒 D. 社区戒毒
5. 下列哪项不是艾滋病急性感染期的临床表现  
A. 发热 B. 咽痛 C. 淋巴结肿大 D. 口腔真菌感染
6. 右图漫画“如果你攥紧了拳头，谁也无法和你握手”启示我们  
①不能封闭自我，要善于感受生活的美好  
②应屏蔽外界，自我面对生活的困境和难题  
③应敞开胸怀，不断尝试与他人建立联系  
④应拒绝关怀，让有限的生命更独立  
A. ①③ B. ①④  
C. ②③ D. ②④



五通桥区融媒体中心制作了多期关于抗疫的短视频情境剧，涉及戴口罩、当志愿者、核酸检测等内容。视频内容有趣，形式新颖，语言生活化，在诙谐幽默中宣传了正确的抗疫行为、传达了正确的防疫价值观。据此完成 7-9 题。

7. 下列对抗疫行为解读正确的是

| 序号 | 抗疫行为        | 行为解读            |
|----|-------------|-----------------|
| ①  | 减少人员聚集和人员流动 | 消除新冠病毒、避免寻衅滋事   |
| ②  | 主动出示健康码、行程码 | 筑牢防控战线、巩固防控战果   |
| ③  | 勤洗手、多运动、常通风 | 提高个体免疫力、增强人民幸福感 |
| ④  | 公共场所佩戴口罩    | 防范飞沫传染、降低感染几率   |

- A. ①③                      B. ①④                      C. ②③                      D. ②④
8. 抗疫短视频情境剧传达了正确的防疫价值观，以下为正确防疫价值观的是
- ①敬畏自然、向大自然妥协                      ②生命至上，个人生命重要性高于他人生命重要性
- ③争当志愿者，在奉献中实现人生价值                      ④养成健康生活方式、爱护自己的身体
- A. ①②                      B. ①③                      C. ②④                      D. ③④
9. 针对今年四五月份乐山市部分地区新冠疫情的变化状况，各级政府因时因势采取措施积极应对。部分学生的学习生活受到了一定的影响，只能在校集中学习或者居家学习。面对这一挫折，我们应该
- ①与师长积极沟通，学会换位思考                      ②追求物质享受，转移焦躁情绪
- ③坚定学习目标，与同学互帮互助                      ④藐视疫情，相信短期内即可消灭疫情
- A. ①②                      B. ①③                      C. ②④                      D. ③④
10. 在倡导文明新风尚的进程中，乐山市坚持以社会主义核心价值观为引领，深入开展“践行十爱·德耀嘉州”活动，德的力量、爱的力量成为嘉州大地一道靓丽的风景线。乐山市开展该项活动的目的是
- ①推动经济社会发展，提供强大物质力量                      ②共创文明社会风尚，树立良好城市形象
- ③促进社会和谐，建设幸福嘉州                      ④坚持依法治市，共建法治乐山
- A. ①③                      B. ①④                      C. ②③                      D. ②④



据数据统计，近三年，我国交通事故年均发生数 23.19 万次；交通事故年均死亡人数 63243 人。其中 2021 年中国交通事故死亡人数为 61703 人、交通事故受伤人数为 250723 人。据此完成 11-12 题。

11. 公安部交管局统计显示，超过两成的交通事故是因闯红灯引起的。小陈同学放学后着急回家，闯红灯导致一辆正常行驶的摩托车侧翻，驾驶员受轻伤。此事件中小陈同学的行为属于
- ①民事违法行为                      ②行政违法行为                      ③刑事违法行为                      ④严重违法行为
- A. ①②                      B. ①④                      C. ②③                      D. ③④


12. 夏季是道路交通事故易发多发季节, 为全面加强道路交通事故预防, 乐山交警持续推进“打、防、宣”并举的专项整治行动, 不断改善路面交通秩序, 引导人民群众守法守规。这有利于

- ①维护正常交通秩序
- ②根除道路交通事故
- ③人与自然和谐共生
- ④保障人身财产安全

A. ①②                      B. ①④                      C. ②③                      D. ③④

13. 家庭教育关乎未成年人的健康成长和家庭的幸福安宁, 也关乎国家发展、民族进步、社会稳定。2021 年 10 月 23 日, 十三届全国人大常委会第三十一次会议表决通过了《家庭教育促进法》, 这是我国首次就家庭教育进行专门立法, 并于 2022 年 1 月 1 日起施行。《家庭教育促进法》的制定实施

- ①是引导未成年人正确履行家庭教育职责的重要保证
- ②是大力弘扬中华民族家庭美德的法治体现
- ③是评价家庭教育是否正确的唯一手段
- ④是促进未成年人健康成长和全面发展的法治保障



A. ①③                      B. ①④                      C. ②③                      D. ②④

14. 2021 年 11 月 29-12 月 5 日, 第四个“宪法宣传周”活动在各地广泛开展。从开展宪法宣誓到组织宪法晨读, 从推出宪法主题专刊到开设群众法治讲堂, 一系列具有鲜明特色、群众喜闻乐见的宣传活动, 让宪法贴近民众的生活、走进百姓的心里。开展“宪法宣传周”活动的目的是

- ①让宪法成为国家的根本法和治国安邦的总章程
- ②确保法律被信仰, 让国家机关权力稳定有序运行
- ③让厉行法治成为社会共识和基本准则
- ④厚植法治根基, 让宪法精神在全体人民中落地生根

A. ①②                      B. ①④                      C. ②③                      D. ③④

15. “一带一路”倡议提出以来, 中国已同 140 个国家和 32 个国际组织签署了 206 份共建“一带一路”合作文件, 建立了 90 多个双边合作机制。“一带一路”不仅联通亚太和欧洲经济圈, 还穿越非洲、环连亚欧, 成为世界上跨度最长、最具潜力的合作带。以下能正确反映我国提出“一带一路”倡议、构建国际合作平台初衷的古文佳句是

- ①己所不欲, 勿施于人
- ②守望相助, 康庄大道
- ③聚沙成塔, 积水成渊
- ④兼听则明, 偏信则暗


A. ①②                      B. ①④                      C. ②③                      D. ③④

16. 当今世界并不太平, 百年变局和疫情相互交织, 大国博弈日趋激烈, 国内改革发展稳定任务艰巨繁重。需要我们坚定信心、坚持改革开放、按经济规律和大国发展规律踏踏实实办好每一件事情。建设美好中国, 青少年应该

- ①树立科学精神, 掌握科学思维方法
- ②继承传统文化, 摒弃外来文化
- ③适应世界发展趋势, 关起门来搞建设
- ④参与社会实践, 培养创新能力

A. ①③                      B. ①④                      C. ②③                      D. ②④

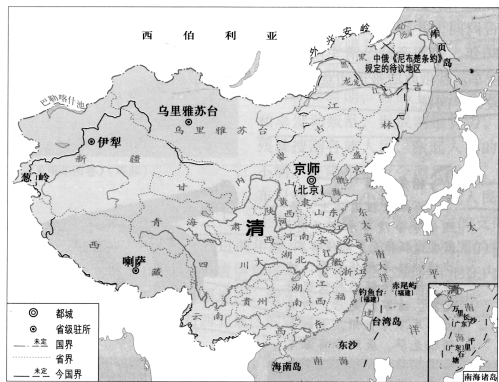
17. 文物承载灿烂中华文化。以下图片中的文物按所属时代的先后顺序排列正确的是



①秦始皇陵兵马俑（秦）                      ②大同云冈石窟（魏晋南北朝）                      ③摩崖造像乐山大佛（唐）                      ④大足石刻养鸡女（宋）

- A. ④③②①                      B. ①②③④                      C. ②③④①                      D. ①④③②
18. 河南安阳殷墟（殷是商朝都城）出土的带有文字的甲骨有十多万片，甲骨上的文字是我国已发现的年代最早、体系较为完整的文字。该文字是
- A. 甲骨文                      B. 陶文                      C. 玉石文                      D. 金文
19. 十七世纪英国著名哲学家培根写道：“举世皆知的印刷术、火药和磁石，人类的世界因为这三种发明而为之改观。首先在学术上，其次在战争中，最后是在航行方面，而因此又引出了不计其数的变化。”材料中作者讨论的是中国古代的
- A. 文学成就                      B. 军事力量                      C. 科学技术                      D. 政治制度

20. 下图所示朝代的阶段特征是



清朝疆域图（1820 年）

- A. 繁荣与开放的时代                      B. 政权分立与民族交融
- C. 早期国家与社会变革                      D. 统一多民族国家的巩固与发展
21. 1842 年清政府被迫与英国签订了《南京条约》，条约内容严重损害了中国领土主权完整的是
- A. 割香港岛给英国
- B. 赔款 2100 万银元
- C. 开放广州等五处为通商口岸
- D. 英国进出口货物应纳的税款，必须经过双方协议



22. 右图是乐乐同学在学习了中国近代史某一课后绘制的漫画。据此推测他学习的课题是

- A. 鸦片战争
- B. 洋务运动
- C. 戊戌变法
- D. 武昌起义



23. 下面是某班同学为艺术节演出而编写的历史人物剧的提纲。据此推断这位历史人物是

**第一幕**

青年时期：出生于广东，自幼熟读经史，饱受封建儒学教育。游历香港，始读西学之书。到北京参加乡试。

**第二幕**

中年时期：六次上书皇帝，提出变法改良主张。著书立说，创办报纸，成立保国会，参与百日维新运动。

**第三幕**

晚年时期：变法失败，组织保皇会，反对资产阶级革命，发动复辟帝制。

- A. 李鸿章
- B. 康有为
- C. 孙中山
- D. 陈独秀

24. 天下兴亡，匹夫有责。下图所示的四位历史人物都参与了



朱德



杨靖宇



蒋介石



张学良

- A. 五四运动
- B. 中共一大
- C. 抗日战争
- D. 解放战争

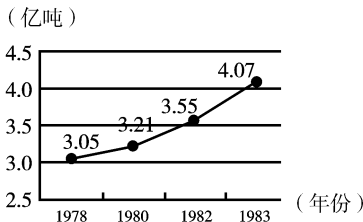
25. “十一届三中全会确定了解放思想、开动脑筋、实事求是、团结一致向前看的指导方针，果断结束‘以阶级斗争为纲’，重新确立马克思主义的思想路线、政治路线、组织路线，作出了把党和国家的工作中心转移到经济建设上来，实行改革开放的历史性决策。”材料叙述的是十一届三中全会的

- A. 时间
- B. 背景
- C. 内容
- D. 影响

26. 为下面两幅图表设计一个主题，最恰当的是



1984 年国庆游行标语“联产承包好”



1978—1984 年我国粮食产量增长表

- A. 真理标准问题的大讨论

B. 城市经济体制改革
- C. 社会主义市场经济体制

D. 农村经济体制改革

27. 毛泽东提出“为人民服务”，邓小平说“我是人民的儿子”，习近平提出“不负历史，不负时代，不负人民”。由此可见，他们所代表的中国共产党人的初心是

- A. 追求民族独立

B. 建立新中国
- C. 为中国人民谋幸福

D. 实行改革开放

28. 古希腊帕特农神庙（如右图所示）是为雅典娜女神所建，神庙的白色大理石中富含铁，在适宜的光线和蔚蓝天空映衬下，便能发出柔和的金色光芒，从远处看，神庙和周围的环境和谐统一。这体现了古希腊

- A. 政治体制完善

B. 建筑艺术高超
- C. 神人同形同性

D. 发达的工商业



帕特农神庙

29. 马克思说：“资产阶级在它的不到一百年的阶级统治中所创造的生产力，比过去一切世代创造的全部生产力还要多，还要大。”他还说：“资本来到世间，从头到脚每个毛孔都滴着血和肮脏的东西。”对此理解正确的是

- A. 资本主义既有进步性又有局限性

B. 资本原始积累具有残酷性
- C. 资本主义推动了人类历史的进程

D. 工业革命创造巨大生产力

30. 历史学家傅斯年认为“直接史料”是“未经中间人修改或者转写的史料”，即当时人的记述，具有较高的研究价值。下列材料都与美国内战有关，可信度最高的是

|   | 资源 | 名称         |
|---|----|------------|
| A | 文章 | 《论美国内战》    |
| B | 电影 | 《乱世佳人》     |
| C | 小说 | 《黑奴吁天录》    |
| D | 文件 | 《解放黑人奴隶宣言》 |

31. 在第二次世界大战中，不同社会制度的国家为了正义事业而协同作战，逐渐扭转了战争的形势，标志着世界反法西斯同盟形成的事件是

- A. 美英盟军诺曼底登陆

B. 斯大林格勒保卫战
- C. 《联合国宣言》签署

D. 雅尔塔会议的召开

32. 下列哪个史事是其它三个的原因

- A. 德国的分裂

B. 马歇尔计划的实施
- C. 北大西洋公约组织成立

D. 美国推行“冷战”政策

## 第Ⅱ卷（非选择题 共52分）

### 注意事项：

1. 考生使用0.5mm黑色墨迹签字笔在答题卡上题目所指示的答题区域内作答，答在试题卷上无效。

2. 本卷共6个小题，第33-35题为道德与法治试题，第36-38题为历史试题，共52分。

### 33. 阅读材料，完成下列要求。（4分）

某校八年级一班开展“全民国家安全教育日”主题班会活动。邀请法制副校长向同学们宣讲关于国家安全的相关法律法规知识，热心解答同学心中的疑虑和关切的问题。同学们主要围绕“公民个人如何维护国家安全”这一主题展开探究。最后，该班道德与法治课代表对同学们的讨论进行了总结。

假如你是该班道德与法治课代表，请运用维护国家安全知识，就“公民个人如何维护国家安全”主题探究进行总结。（4分）

### 34. 阅读材料，完成下列要求。（16分）

来时迎客松，走时送别柳！这是中国给全世界的浪漫！北京冬奥会秉承奥林匹克精神，坚持绿色办奥、共享办奥、开放办奥、廉洁办奥的理念，突出科技、智慧、绿色、节俭特色，给全世界呈现了一届无与伦比的冬奥会。

### 【人文奥运】

2022年2月4日20时，第二十四届冬季奥林匹克运动会开幕，恰逢中国二十四节气的立春日。北京冬奥开幕式，以二十四节气的方式开启倒计时。从“雨水”开始，到“立春”落定，满目绿色在鸟巢中央涌动滋长。整个过程一气呵成，充满了令人心动神往的生命力。二十四节气倒计时很美很中国！




虽然开幕式已然结束，但是它发出的弘扬中国传统文化的信号在每个人心中激起了回响。

（1）结合材料，概括中华文化的特点（2分），并谈谈新时代应如何坚定文化自信。

（5分）

## 【科技奥运】

2021 年 12 月 26 日，国家速滑馆“冰丝带”正式建成。冰丝带采用先进的二氧化碳制冰技术，冰面温差不超过  $0.5^{\circ}\text{C}$ ；先进的硬件设施与“最强大脑”——智慧集成和数字孪生平台紧密配合，打造了一座有感觉、会呼吸、有记忆、会思考、能自我调节的智慧场馆。它的冰面被称为世界上最快的冰，帮助多位运动员在冬奥会上赛出了个人最好成绩。



习近平总书记指出：“同我们国家的强国之路一样，中国冰雪运动也必须走科技创新之路。”

(2) 结合材料和所学创新知识，说说为什么我国冰雪运动也必须走科技创新之路。

(6 分)

## 【绿色奥运】

可持续性和冬奥遗产计划也是北京冬奥会成功的关键因素。首钢滑雪大跳台是在首钢遗址上建造的。既能满足冬奥会的比赛要求，赋予首钢新的意义，又能保留工业遗址的完整性。庞大的首钢旧工厂已经变成了一个美丽的城市绿洲。不吐烟圈的工业烟囱，凝结着北京冬奥组委践行可持续发展和节俭办奥理念，闪耀着中国智慧的光芒。



(3) 结合材料，思考应怎样坚持绿色发展，走可持续发展之路。(3 分)

35. 时政评议 (6 分)

2022 年十三届全国人大五次会议审议修改地方组织法。多次召开座谈会，广泛征求地方人大、基层立法联系点、高校等各方意见；立法机关工作人员奔赴多地调研，倾听一线心声；修正草案先后两次提请全国人大常委会会议审议并在网上全文公布，征求到 1100 多条意见；全国两会期间，根据各方意见，对修正草案做出 23 处修改；将“发展全过程人民民主”写入总则。

请你围绕所学民主知识对上述时政材料进行评议。(6 分)

要求：结合所学知识，围绕时政材料，任选一个角度进行准确全面评议，主题明确，不超过 150 字。

36. 阅读材料，完成下列探究问题。(10 分)

材料一

子曰：“学而时习之，不亦说乎？有朋自远方来，不亦乐乎？人不知而不愠，不亦君子乎？”  
——《论语》

材料二



元墓出土的杂剧陶俑

- (1) 材料一记录的是中国古代哪位思想家的言论？指出他是哪一学派的创始人？（2 分）
- (2) 根据载体不同，史料可以分为①文字史料、②实物史料、③口述史料等类型，分别指出材料一、材料二属于上述哪种类型（写出对应的序号即可）。请写出至少两种获取史料的方法。（4 分）

材料三

“沉沦”与“上升”，近代中国社会走出了一条 U 字形路线，帝国主义侵略使中国社会发生“沉沦”……20 世纪初，新文化运动和五四运动发生了，马克思主义传入以及中国共产党成立，中国社会内部发展明显呈现上升趋势……经过了 110 年的艰苦奋斗，终于凤凰涅槃，浴火重生，结束了半殖民地半封建的中国，诞生了人民的新中国。  
——摘编自张海鹏《中国近代通史》

- (3) 根据材料三并结合中国近代史的内容，分别举例论证近代中国社会的“沉沦”和“上升”。（4 分）

37. 世界近代史的一条主要线索就是资本主义制度产生、确立、发展，并向整个世界扩张的历史。阅读材料，完成下列要求。(8 分)

材料一 下表是小明同学在学习了《资本主义制度的初步确立》以后所做的表格。

| 国家 | 主要原因                | 手段        | 纲领文献   | 结果              |
|----|---------------------|-----------|--------|-----------------|
| 英国 | 封建专制统治阻碍了英国资本主义的发展  | 内战和“光荣革命” | ②      | 建立了资产阶级君主立宪制国家  |
| ①  | 英国的殖民统治阻碍了北美资本主义的发展 | 武装斗争      | 《独立宣言》 | 赢得了独立，建立资产阶级共和国 |

(1) 请分别写出上表中①、②对应的内容。据上表并结合所学知识，分别指出上述两个国家的社会性质发生了怎样的变化。(4分)

材料二

|                                             |                                                                                                     |
|---------------------------------------------|-----------------------------------------------------------------------------------------------------|
| <p>逆之則亡<br/>蕩蕩順之則昌<br/>世界潮流浩浩<br/>——孙中山</p> | <p>辛亥革命以暴力推倒了帝制，代之以民国，为 2132 年的历史打了一个用铁和血铸成的句号。只有漫长的历史才能称量出这个句号的真正意义和重量。<br/>——陈旭麓《近代中国社会的新陈代谢》</p> |
|---------------------------------------------|-----------------------------------------------------------------------------------------------------|

(2) 辛亥革命的领导人是谁？根据材料二并结合所学知识，请回答辛亥革命是否顺应了当时的“世界潮流”（请回答是或否），并说出你的理由。(4分)

38. 阅读材料，完成下列要求。(8分)

近现代中外大事记（部分）

| 时间                    | 历史事件      |
|-----------------------|-----------|
| 15 世纪末—16 世纪初         | 新航路开辟     |
| 1640—1688 年           | 英国资产阶级革命  |
| 18 世纪中期—19 世纪中期       | 英国工业革命    |
| 1840—1842 年           | 鸦片战争      |
| 1848 年                | 《共产党宣言》发表 |
| 19 世纪 60—90 年代        | 洋务运动      |
| 19 世纪 60、70 年代—20 世纪初 | 第二次工业革命   |
| 1914—1918 年           | 第一次世界大战   |
| 1917 年                | 俄国十月革命    |
| 1919 年                | 五四运动      |
| 1921 年                | 中国共产党成立   |
| 1949 年                | 中华人民共和国成立 |

- (1) 从材料中找出世界开始连为一个整体的标志性事件，并列出一位该事件的参与者。(2分)
- (2) 从材料中选择有关联的历史事件（明确写出所选择的历史事件），结合所学知识自定一个观点，加以阐述或说明。（要求：观点正确，史论结合，条理清晰）(6分)