

姓名: \_\_\_\_\_ 准考证号: \_\_\_\_\_

## 眉山市 2022 年初中学业水平暨高中阶段学校招生考试

### 文科综合能力测试卷

#### 考生注意事项:

1. 本堂考试为开卷考试, 试卷满分 100 分, 道德与法治和历史各 50 分, 考试时间 120 分钟。
2. 在答题前, 考生应将自己的姓名、准考证号、座位号准确填写在答题卡相应的位置。
3. 本试卷分 I 卷、II 卷, 共 10 页。第 I 卷第 1—12 题为道德与法治试题, 第 13—24 题为历史试题, 每题 2 分, 共 48 分; 第 II 卷第 25—28 题为道德与法治试题, 第 29—31 题为历史试题, 共 52 分。
4. 考生选出第 I 卷答案后, 用 2B 铅笔把答题卡上对应题目的答案标号涂黑。如需改动, 请用橡皮擦干净, 再选涂其它答案。不能直接在试卷上作答。第 II 卷试题答案用 0.5 毫米的黑色签字笔在答题卡相应的答题区作答, 超出限定区域的答案无效。

#### 第 I 卷 (选择题 共 48 分)

一、选择题 (下列每小题只有一个备选项符合题目要求。每小题 2 分, 共 48 分)

1. 观察漫画, 接下来小孙子最恰当的做法应该是



- A. 质疑关爱, 挑战权威  
C. 积极沟通, 寻求认同

- B. 顺从爷爷, 听之任之  
D. 表达不满, 固执己见

2. 情绪是我们与生俱来的生理本能,是身体对外界的自然反应,它携带着身体的需求来与我们的思想进行交流,不达目的誓不罢休。情绪这一特征要求我们

- A. 感受到消极情绪,应该排斥它或无视它
- B. 正视自己的情绪,学会合理地调节情绪**
- C. 激发正面的情绪,避免接收负面的情绪
- D. 掩饰自己的情绪,不要向别人表露感受

庄子,名周,战国时期宋国人。战国中期思想家、哲学家、文学家,道家学派代表人物,代表作《庄子》。据此回答3—4题。

3. 据世界图书馆平台数据库数据显示,截止2021年12月,有关《庄子》的非中文图书有2945种,涉及30多个语种。从心理咨询、健康养生到家居艺术,都可以看到中国道家思想改头换面为“美国道”“欧洲道”,进入欧美普通民众的日常生活。这一现象表明

- ①彼此理解与包容才是消解文化冲突的根本之道
- ②坚定文化自信是实现中华民族伟大复兴的条件
- ③中华优秀传统文化穿越时空继续发挥独特魅力
- ④不同文化交流互鉴应做到和而不同,兼收并蓄

- A. ①②                      B. ①③                      C. ②④                      **D. ③④**

4. 下文是《庄子·至乐》中记述的一则寓言故事

从前有只海鸟栖息在鲁国都城的郊外,鲁侯亲自把它迎接到祖庙,给海鸟演奏《九韶》古乐来取乐,准备了牛、羊、猪三牲来作为它的膳食。结果海鸟晕头转向,忧惧悲伤,不敢吃一块肉,不敢喝一杯酒,三天就死了。

这则寓言故事告诉我们,关爱他人要

- A. 心怀善意                      B. 尽己所能                      **C. 讲究策略**                      D. 以己度人

5. 近年来,我市加快建立以国家公园为主体的自然保护地体系,构筑起保护生物多样性的坚实屏障,珍稀野生动物频频“露脸”。岷江彭山区河段发现国家二级保护动物赤麻鸭;青神县龙泉山拍摄到珍稀濒危野生动物豹猫;洪雅县首次发现钳嘴鹳、白额雁……这体现了

- A. 践行绿色生活方式                      B. 向自然索取有节制
- C. 节约自然生态资源                      **D. 人与自然和谐共生**

6. 在眉山,志愿者活跃在交通路口、社区小区、景区景点、田间地头等,或协助交警维持交通秩序,或认真清理卫生死角,或为游客提供暖心服务,或为缺少劳动力的家庭抢收庄稼……志愿者的行动表明

- ①要在社会实践中养成亲社会行为
  - ②自觉承担社会责任可以获得回报
  - ③要在奉献社会中实现人生的价值
  - ④参与志愿服务就是为了获得赞誉
- A. ①②                      **B. ①③**                      C. ②④                      D. ③④



7. 晓东最近成了“宅男”，一到周末和假期就喜欢整天待在电脑面前，与动漫圈的朋友聊得火热，不再愿意出门和小伙伴一起玩。假如你是他的好朋友，应该提醒他

- A. 网络生活不沉迷，避免脱离现实生活
- B. 网络交友不可靠，不要进行网络社交
- C. 网络信息不可信，谨慎对待网络资讯
- D. 网络言行不随意，自觉遵守法律规定



8. “七一勋章”获得者、时代楷模张桂梅寄语广大青年：“我相信，人生在必经的‘寒冬’里也带着必然的希望。”下列诗句蕴含的思想与其最接近的是

- A. 黄鹤一去不复返，白云千载空悠悠
- B. 山重水复疑无路，柳暗花明又一村
- C. 我寄愁心与明月，随君直到夜郎西
- D. 欲渡黄河冰塞川，将登太行雪满山


9. 你知道吗？100年前，嘉兴南湖游船上，立志要给苦难中国开辟一条光明道路的13名年轻人，平均年龄只有28岁；参加长征的红军平均年龄只有18岁；东京奥运会上1/3的奖牌是“00后”斩获的。这启示我们

- A. 理性选择，考虑自己的兴趣和特长
- B. 珍惜时间，初中毕业马上步入社会
- C. 不负时代，利用社会条件实现成长
- D. 不负韶华，用奋斗擎起中国的未来

10. “好焊工”艾爱国工作50多年来，靠一把“焊枪”，凭借“当工人就当个好工人”的职业信条，赢得了无数军功章：全国劳模、全国技术能手、国家科技进步奖……他的事迹告诉我们

- A. 劳动创造人生价值，书写生命华章
- B. 劳动提升精神境界，培育无私人格
- C. 劳动汇集财富源泉，改善物质条件
- D. 劳动成就中国梦想，助力伟大复兴

11. 下图是2013—2021年中国实际使用外资金额和外贸进出口总额的数据



上述材料表明

- ①中国以开放态度参与全球规则制定
  - ②中国为世界各国提供更多发展机遇
  - ③中国积极发展更高水平开放型经济
  - ④中国努力推动建立国际政治新秩序
- A. ①②      B. ①④      C. ②③      D. ③④

12. “以前娃娃读书对农村家庭来说负担很大，现在每个月都有政府补贴。以前是9年义务教育免费，现在学生享受的都是15年免费教育……”云南省迪庆藏族自治州郑志平老人自豪地诉说着家乡的变化。材料说明

- ①国家重视民族地区教育事业                      ②我国坚持民族团结基本原则  
③少数民族地区群众获得感强                      ④国家支持民族地区经济发展
- A. ①②                      B. ①③                      C. ②④                      D. ③④

13. 古书上记载，春秋时期，人们已经用铁制农具耕种土地。最能印证此结论的是

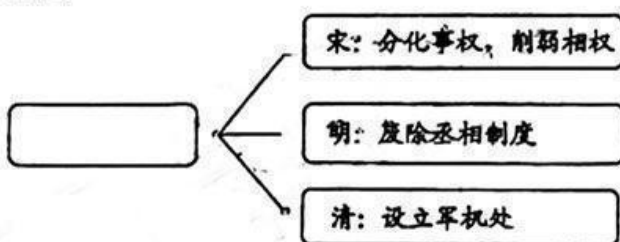
- A. 多处春秋墓葬发掘出的铁农具                      B. 影视剧作品里的有关生产场景  
C. 民俗研究学者的相关学术文章                      D. 有关春秋时期的历史故事传说

14. 右图是我国统一货币秦半两钱。下列对它的叙述正确的是

- A. 半两形制沿用至今  
B. “半两”字体是草书  
C. 春秋战国各国通用  
D. 促进交流巩固统一



15. 思维导图是一种有效的学习工具，对历史学习有独特价值。下图是某同学绘制的思维导图，空白处应填的关键词是



- A. 君主专制                      B. 经济发展                      C. 思想控制                      D. 边疆管理

16. 1854年，英、美、法三国向清政府提出修约要求。提出：“准英人随意往内地各处并海滨各城邑”，自由贸易，“往来无碍”；“俱不得在内地津关，重行征税”；“内地完全开放”等。这些要求旨在

- A. 方便外国人来华旅游                      B. 进口更多的中国茶叶  
C. 进一步打开中国市场                      D. 向中国出口更多粮食

17. 近代著名爱国教育家张伯苓认为，经过体育训练，国民体格才能增强，道德才能得到提升，从而才有充足的精力为国家和民族的事业奋斗。由此可见他倡导

- A. 加强锻炼强身健体                      B. 发展体育救亡图存  
C. 学习西方发展教育                      D. 培养竞技为国增光

18. 美国总统尼克松在一份对外报告中说，如果没有中国这个拥有7亿多人民的国家出力量，要建立稳定和持久的国际秩序是不可设想的。为此他

- A. 遏制中国的经济发展                      B. 以敌视态度对待中国  
C. 谋求中美关系正常化                      D. 放弃美国的国家利益




19. 1949 年我国粮食产量有 2 263.7 亿斤。1978 年粮食产量提高到 6 095 亿斤。2014 年粮食产量是 12 142 亿斤。但由于土地减少、农村劳动力转移、大量耕地撂荒、种子问题和国际形势风云变幻等原因，我国粮食安全还面临严峻挑战。对此解读准确的是

- A. 粮食已能够满足全国人民需要  
B. 粮食增产得益于党的农村政策  
C. 当前农村应发展经济作物生产  
D. 粮食增产但仍存粮食安全问题

20. 古埃及最大的金字塔是胡夫金字塔，建于约公元前 2600 年，原塔高约 146.5 米，基底每边长 230 多米，用石 200 多万块，平均每块重 2.5 吨左右。这一工程的修建主要得益于

- A. 统治者胡夫很富有  
B. 科学技术领先于世  
C. 国家组织力量强大  
D. 建筑材料非常丰富

21. 下图是某同学学习过程中绘制的早期资产阶级革命示意图，下列理解正确的是



- A. 资产阶级革命始于 16 世纪的英国  
B. 各国革命因国情不同而各具特色  
C. 法国大革命影响了美国独立战争  
D. 资产阶级革命都消除了封建残余

22. 1921 年春，苏维埃政府开始实施新经济政策。其主要内容有：以征收粮食税代替余粮收集制；实行自由贸易；允许私人经营中小企业；实行按劳取酬的工资制。这些政策措施

- A. 促进了经济恢复  
B. 实现了共产主义  
C. 繁荣了文学艺术  
D. 改变了国际格局

23. 1951 年，法国、德国、意大利、荷兰、比利时及卢森堡六国签订《巴黎条约》，成立欧洲煤钢共同体。1967 年，欧洲煤钢共同体、欧洲经济共同体及欧洲原子能共同体合并成为欧洲共同体。1993 年，欧盟宣告成立。这一发展过程反映了

- A. 欧洲国际影响达到顶峰  
B. 世界政治格局彻底改变  
C. 欧洲实力已经超过美国  
D. 欧洲经济政治合作加强

24. 据统计 1997 年世界贸易额达到 7 万亿美元。4 万家跨国公司及其 30 万家子公司遍布世界各个国家和地区的几乎所有经济领域和产业部门。这反映了

- A. 经济区域集团化趋势  
B. 经济全球化发展趋势  
C. 各国经济矛盾已消除  
D. 各国领土边界已消失

## 第II卷（非选择题 共 52 分）

### 二、非选择题

25. (6分) 2月4日至20日,北京冬奥会成功举行。某校开展“筑梦冰雪·同向未来”的主题宣传活动,同学们为制作展板选择了四则材料,请你参与其中,完成任务。

材料一 开幕式上,代表90多个国家或地区的“小雪花”构成一朵像中国结和橄榄枝编织成的“大雪花”,寓意全世界人民紧密团结,传递了“天下大同,世界一家”“一起向未来”的人类共同情感。

中国主张: 构建人类命运共同体

材料二 首钢工业遗产化身“雪飞天”,千余辆氢能大巴穿梭于赛场,所有场馆实现100%绿电供应,临时设施拆除后仍能重复利用……北京冬奥会成为迄今为止第一届碳中和的冬奥会。

中国国策: ①

材料三 吉祥物、会徽、火炬、奖牌、体育图标和场馆……所有的设计都融入了鲜明的中华文化元素。二十四节气倒数、焰火打造“空中迎客松”、十二生肖冰嬉、光影水墨人形、折柳寄情……

中华文化: ②

材料四 “水立方”成为世界首个实现水冰转换的双奥场馆;中国首例变角度斜行电梯;首个核心系统100%上云的奥运会;北京冬奥会票务系统是奥运会历史上首个数字化票务系统……

中国战略: ③

运用所学知识,将其余三则材料补充完整。(6分)

26. (6分) 某班在学习《公民义务》和《尊重自由平等》后,组织开展时政述评活动,同学们围绕新闻素材各抒己见,请你参与进来。

李某,男,23岁,2021年10月28日从外地返回居住地后,拒绝执行疫情防控要求,隐瞒其14天内疫情中高风险地区旅居史,后确诊感染新冠病毒并引发社区传播。李某的行为违反《中华人民共和国刑法》第三百三十条之规定,涉嫌妨害传染病防治罪,已被公安机关立案侦查。





按照相关法律规定和疫情防控的要求，公民应当主动如实报备自己的行程。李某因隐瞒行程引发病毒社区传播，被公安机关立案侦查，是他应得的教训。

李某为了不受防疫要求的束缚和限制，违反法律规定，隐瞒中高风险地区旅居史，他的为所欲为导致出现病毒社区传播。对此，我们一定要引以为戒。



你赞成谁的观点，请运用所学知识说明理由。（6分）

27.（8分）回望来路，我们感慨万千；审视现实，胸中豪情万丈。

材料一 下面四幅图是一位画家为参加某主题画展创作的一组作品。



二十世纪五六十年代，人们很少出游，路少，车少，电话也少，走亲戚，一半车路一半走路。



二十世纪七八十年代，自行车是家里的大件儿，骑上车，载上老婆孩子，按几下铃铛，心情飞扬。



21世纪初，私家车越来越多，自驾游出现，说走就走，探索未知之头。



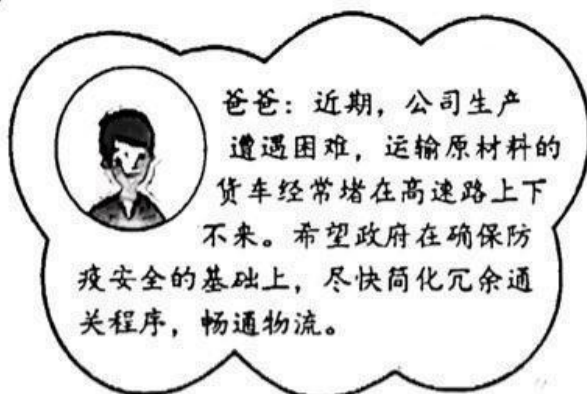
近年来，交通突飞猛进，坐高铁看风景，乘游轮看大海，出游变得越来越从容舒适。

材料二 1978年12月，中共十一届三中全会召开，及时果断地把全党和全国工作的重点转移到社会主义现代化建设上来。1980年，中央决定兴办深圳、汕头、珠海、厦门4个经济特区，家庭联产承包责任制也在全国各地逐步推广开来。2021年，我国基础研究经费、教育投资分别增长15.6%、11.7%，发明专利有效量359.7万件，科技对经济增长的贡献率稳步提升。

(1) 请你为这组参展作品拟写一则恰当的标题。(2分)

(2) 运用所学知识，结合材料二，分析为什么会出现参展作品所反映的现象。(6分)

28. (6分) 围绕提高政府治理能力和治理水平，小明一家说起了自己的愿景。



运用所学知识，谈谈当地政府应该如何回应小明一家的愿景。(6分)



29. (10分) 阅读材料, 完成下列要求。

材料一 唐朝时期, 政府开办了医学校, 编写了《唐本草》; 名医辈出, “药王”孙思邈写成《千金方》; 鉴真东渡日本, 在日本传授佛经, 还传播中国的医药、文学、书法、建筑、绘画等; 新罗引入中国的医学、天文、历算等科技成就。

——据统编版历史教科书七年级(下)

(1) 根据材料一并结合所学知识, 概括唐朝医学发展的主要特点及影响。(3分)

材料二 1941年至1942年, 晋绥边区流感、伤寒、疟疾、天花等伴随自然灾害和战争流行频繁, 严重影响了军民健康和部队战斗力。为此, 边区党和政府组织人员编写《防疫宣传材料》, 举办活动展示中西药, 宣传科学防疫知识。新设医院、医药合作社, 采用中西医结合的方法诊治病患。鼓励研制中药、求秘方, 吸引中医医生及中药商人来边区参与抗疫, 弥补西医药的不足。还借鉴传统中医做法, 实施交通阻断、隔离封村、打扫卫生等措施。多措并举, 控制了疫情蔓延, 为边区建设和抗战胜利打下了重要基础。

——摘编自张荣杰《抗战时期晋绥边区的全民防疫》

(2) 根据材料二并结合所学知识, 概括边区政府利用中医抗疫采取的措施和影响(3分)

材料三 新冠肺炎疫情暴发后, 在没有特效药的情况下, 中国筛选出的“三药三方”正是在《伤寒杂病论》等古籍的经方基础上化裁而来。中医药积极参与全球抗疫, 被多个国家借鉴和使用, 成为疫情防控中国方案的一大亮点。习近平特别指出“中西医结合、中西药并用, 是这次疫情防控的一大特点, 也是中医药传承精华、守正创新的生动实践”。

——摘编自《医圣祠前观古今, 习近平“把脉”中医药发展》

(3) 根据材料三并结合所学知识, 指出中医对当今国际社会抗疫的作用。(1分) 综合

上述材料, 谈谈你对祖国中医的认识。(3分)

30. (6分) 阅读材料, 完成下列要求。

材料 黄旭华(1926——), “中国核潜艇之父”, 共和国勋章获得者。生活在战乱时代的黄旭华少年求学时立志学习航空和造船, 抵御外敌的侵略。1945年, 黄旭华考入上海交通大学造船系。1958年黄旭华奉命调往中国“造船技术研究室”, 负责我国第一代核潜艇的总体设计工作, 从此隐姓埋名三十载。黄旭华带领团队从调查研究入手, 在报纸杂志里面去寻找拼凑世界保密控制很严的核潜艇资料, 在没有任何技术外援下用算盘和计算尺演算了数以亿计的数据, 用了8年时间攻克了反应堆技术、艇体线型设计、水下发射等7个核潜艇关键技术, 使中国在1964年成为世界上第5个拥有核潜艇的国家。1988年62岁的黄旭华亲自下潜300米, 是世界核潜艇总设计师亲自深潜试验的第一人。

——摘编自《人民日报》《中国核潜艇之父黄旭华: 痴心不改强国梦》

根据材料并结合所学知识, 指出黄旭华获得共和国勋章的理由并简析他取得成就的原因。

31. (10分) 阅读材料, 完成下列要求。

材料一 1801-1911年英、法、德、美四国的人口情况表(单位: 万人)

	1801年	1851年	1881年	1901年	1911年
英国	889	1 793	2 597	3 253	3 607
法国	2 735	3 578	3 740	3 845	3 919
德国	2 400	3 341	4 523	5 637	6 493
美国	530	2 319	5 016	7 600	9 197

1800年, 伦敦有近100万人, 是当时欧洲最大的城市。1851年, 伦敦人口达到236万。1801年, 巴黎有将近55万人, 1851年, 巴黎人口达到100万以上。1800年, 维也纳人口约为25万, 柏林人口约为17万; 到1850年, 维也纳人口已超过44万, 柏林人口达到42万。

——据统编版历史教科书九年级(下)

(1) 依据材料一结合所学知识, 指出19世纪欧美主要国家人口发展的特点和影响(4分)

材料二 建国以来, 我国人口的部分情况简表

时间	人口数量	来源
1949年	4.75亿	毛泽东《中国人民站起来了》
1953年	6.02亿	1954年11月1日, 《人民日报》发表的《中华人民共和国国家统计局关于全国人口调查登记结果的公报》
1957年	6.57亿	1960年《人民手册》P272

——据谢忠梁《中国历代人口略计表》

(2) 依据材料二并结合所学知识, 分析建国后我国人口发展的原因。(4分)

(3) 综合上述材料, 谈谈你对人口发展的认识。(2分)