

2022 年和平区九年级教学质量监测（二）

文科综合试卷

（考试时间：110 分钟 满分：100 分）

道德与法治部分

（满分 40 分）

注意事项：
1. 考生务必将考场 / 座位号、姓名、班级填写在答题卡相应位置上。
2. 考生应把试题答案答在答题卡上对应题目处，答在试卷上无效。
3. 选择题，需用 2B 铅笔涂黑在答题卡对应的选项中。

第 I 卷 选择题（12 分）

一、单项选择题（下列各题的备选答案中，只有一个是符合题意的。本题共 12 小题，每小题 1 分，共 12 分）

1. 我国宪法第二条规定：“中华人民共和国的一切权力属于

A.人民 B.公民 C.人大代表 D.国家干部

2.2021 年是“十四五”开局之年。这一年，我国重大创新成果竞相涌现，创新能力持续提升，创新的“脉动”尤为强劲。“海牛 II 号”钻机钻出 231 米的新纪录，刷新深海钻机钻探深度纪录；海洋一号 D 卫星和海洋二号 C 卫星“闪耀”星河；金沙江白鹤滩水电站里，实现 100 万千瓦满负荷发电……这表明

A.我国将发展科技作为中心工作 B.我国自主创新能力不断提升

C.我国已经成为创新型国家 D.我国科技水平已走在世界前列

3. 两岸关系的政治基础是

A.一个中国原则 B.平等、团结、共同繁荣

C.“和平统一、一国两制” D.坚持社会主义道路

4. 对全面放开二孩儿、三孩儿政策认识正确的是

A.说明国家将取消生育限制，增加人口数量

B.直接制约我国经济的可持续发展

C.这是对我国计划生育基本国策的调整和完善

D.能从根本上解决我国人口老龄化问题，改善男女性别比

5. 我国在少数民族聚居的地方实行的一项基本政治制度是

A.社会主义制度 B.民族区域自治制度

C.一国两制 D.人民代表大会制度

6. 下列目标中与新中国成立一百年时的发展目标相吻合的是 ()

- A.解决人民的温饱问题
- B.全面建成小康社会
- C.基本实现社会主义现代化
- D.全面建成社会主义现代化强国

7. 在抗击新型冠状病毒时期，人民群众积极响应党中央号召，感染病人或疑似病人自觉接受隔离、广大医务工作者和党员群众投入战“疫”一线；在灾难面前中华儿女众志成城，一方有难，八方支援，表现出空前的凝聚力。上述材料说明 ()

①中国人民有集中力量办大事的信心和勇气②公共利益和个人利益在根本上是矛盾的③中华民族精神具有强大的生命力和时代特点④中华民族精神是维系我国各族人民团结奋斗的精神纽带

- A.①②③
- B.①②④
- C.①③④
- D.②③④

8. 每年的三月“学雷锋”月。中宣部要求各地各有关部门要扎实深入开展岗位学雷锋活动，推动学雷锋活动常态化机制化，形成人人践行雷锋精神、争当先进模范的生动局面。开展学雷锋活动 ()

①有利于弘扬先进文化，彰显新时代文化正能量②践行了社会主义核心价值观③提高了所有公民的道德素质④能够增强我们的社会责任感

- A.①②③
- B.①②④
- C.①③④
- D.②③④

9. “止于至善”是一种“虽不能至，心向往之”的实践过程，是一种向往美好、永不言弃的精神状态。这说明“止于至善”

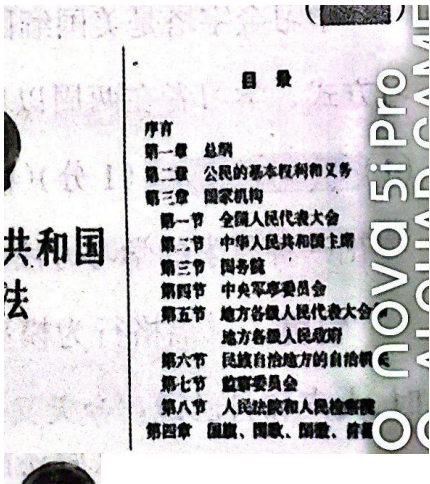
①需要我们有羞耻之心，不断提高辨别“耻”的能力②需要我们从点滴小事做起，积善成德③要求我们通过自省和慎独，端正自身行为④只要求“独善其身”，不要求“兼济天下”

- A.①②
- B.①③
- C.②③
- D.③④

10. 我国宪法是党的主张和人民意志的统一，是治国安邦的总章程。以下表述正确的有 ()

- ①宪法规定了国家生活中最根本、最重要的问题
- ②宪法的制定和修改程序比其他法律更为严格
- ③宪法是国家法制统一的基础
- ④宪法与我的关系不大，现在可以不学习宪法

- A.①②③
- B.①②④
- C.①③④
- D.②③④



11.2022 年 1 月 17 日，国家主席习近平出席世界经济论坛视频会议并发表演讲，强调面对世界百年未有之大变局，中方愿同国际社会一道，合力打造开放多元的世界经济，努力建设普惠包容的幸福社会。面对全球性挑战，各国应坚持

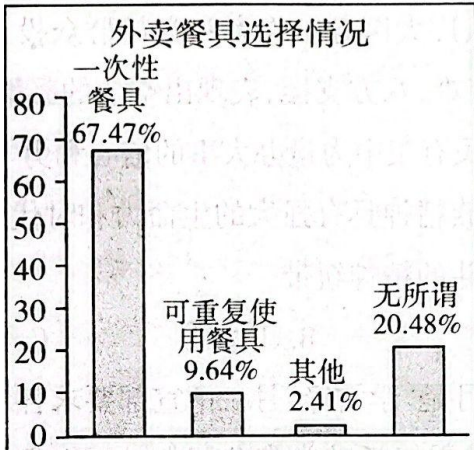
①对话协商，建设一个持久和平的世界②共建共享，建设一个普遍安全的世界 ③合作共赢，建设一个共同繁荣的世界④交流互鉴，建设一个开放包容的世界

- A.①②③
- B.①③④
- C.②③④
- D.①②③④

12. 针对图表信息反映的问题，我们应

- ①合理消费，不点餐避免浪费
- ②重视环境，减少使用一次性餐具
- ③关注卫生，用什么餐具无所谓
- ④注意节约，避免使用一次性餐具

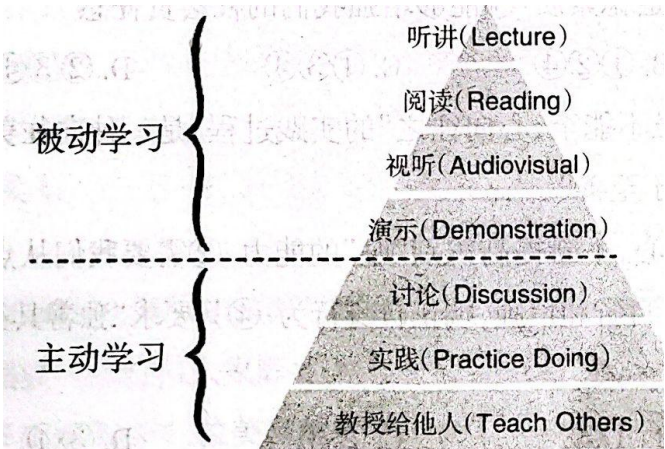
- A.①②
- B.①③
- C.②④
- D.③④



非选择题（共 28 分）

二、情境问答题（共 6 分）

13. 情境一：



学习金字塔


学习金字塔是美国缅因州的国家训练实验室研究成果，它形象显示了：采用不同的学习方式，学习者在两周以后还能记住学习内容的多少。你认为自己属于哪种学习方式：(1)_____

(1 分)（根据图片作答）；学会学习，需要我们掌握科学的学习方法。请写出一种科学的学习方法：(2)_____。（1 分）


情境二：《福格行为模型》的作者在书中说，大家一定要养成的习惯是：每天早上起床时，大声和自己说：“今天又是美好的一天呀！”有梦想，就有希望。即将面临升学考试的你，

为自己编织的梦想是：（3）_____。（1分）（请从学习生活的角度作答）梦想，不应止

情境三：



小交警指挥交通



当志愿讲解员

每个人都是社会生活中的一员，你参加过哪些类似的活动？（4）_____（1分）（写出一种切实可行的活动）请与同学们分享一下你的感受：（5）_____。（2分）

三、材料分析题（阅读材料并结合所学知识回答问题。本题共 3 小题，共 15 分）

14. （5分）2022 年 3 月 3 日晚，感动中国 2021 年度获奖人物揭晓。极不平凡的 2021 年，他们或在危难中逆行，或在逆境中坚守，以凡人之力，书写中国人的年度精神史诗。

★失聪女孩考上清华大学-江梦南

因一场意外半岁时失聪，她不能像常人一样交流，却完成了学业并考上大学、研究生。人生虽无常，学业无止境。对人生不服输的她，又考上清华大学博士研究生。湖南郴州宜章失聪女孩江梦南的逆袭故事，感动了很多。

★矢志报国的飞机设计专家--顾诵芬

他致力于飞机设计研究，是中国自行设计、制造的高空高速歼击机的主要技术负责人之一。他直接组织、领导和参与了低、中、高三代飞机中的多种飞机气动布局 and 全机的设计，成功研制歼 8II 飞机。

“言行是品德的一面镜子”。请回答：

（1）从这些感动中国人物身上分别折射出哪些正能量？（2分）



（2）在日常生活中，我们应该如何传递这一正能量？（要求围绕一个方面写出切实可行的做法并写出这样做的意义。）（3分）



15. （4分）2022年1月8日，在沈阳市第十七届人民代表大会第一次会议上，沈阳市人民政府代理市长吕志成在政府工作报告中强调，以体制机制创新引领发展方式转变，激发发展活力。

【报告节选一】深化国资国企改革。

开展国有企业战略性重组，深化国企“三项制度”改革。提升国资监管效能，完善国资监管平台，增强风险防范能力。

【报告节选二】促进民营经济发展。

推进公平竞争政策深入实施，新建一批中小微企业创新创业基地，出台大力支持中小微企业发展的系列政策，让民营企业的环境更优良、赛场更公平、舞台更宽广、前途更光明！

（1）阅读【报告节选一】，根据所学知识指出国有经济的地位。（1分）

请勿在此区域答题

（2）【报告节选二】说明沈阳市对民营经济的态度是怎样的？（3分）

请勿在此区域答题

16. （6分）关心社会发展是现代中学生具备的核心素养，为了增长知识、拓展眼界，培养家国情怀，某校九年级（4）班同学以“家事、国事、天下事，事事关心”为主题分组开展了系列探究活动，请你参与其中。

国情组关注两会的召开，通过搜集、整理等形式，绘制出以下表格。请你运用所学知识，帮助完成该表格。（4分）

新闻直播间	体现的道理
创新能力进一步增强。国家战略科技力量加快壮大。关键核心技术攻关取得重要进展，载人航天、火星探测、资源勘探、能源工程等领域实现新突破。	（1）材料中提到的国家战略是： 0 （1分）（写出一个即可）
改革开放不断深化。供给侧结构性改革深入推进。2021年，全国新设市场主体2887.2万户，同比增长15.4%，基本恢复疫情前水平，经济稳定增长。	（2）由材料可以看出，改革开放是 （1分）
深化多双边经贸合作。区域全面经济伙伴关系协定形成了全球最大自由贸易区，推动与更多国家和地区商签高标准自贸协定。中国与世界各国加强互利合作，实现共赢多赢。	（3）说明中国的国际影响力不断提升，在 等多个领域发挥 的引领作用越来越大。（2分）

时政组收集到以下新闻素材，请你回答问题。（2分）

时政一：中华人民共和国第十三届全国人民代表大会第五次会议审议《中华人民共和国地方各级人民代表大会和地方各级人民政府组织法（修正草案）》的议案。

时政二：2022 年 3 月 8 日在第十三届全国人民代表大会第五次会议上，最高人民法院院长周强作工作报告中指出，最高人民法院受理案件 33602 件，审结 28720 件。通过发挥审判职能作用，推动建设更高水平的平安中国、法治中国，为实现“十四五”良好开局提供有力司法服务。

(5) 时政二说明全面依法治国要不断推进_____。(a.科学立法 b.严格执法 c. 公正司法 d. 全民守法) 体现了全国人大行使哪一职权？(1 分)

请勿在此区域答题

17.5 月 15 日至 21 日是 2022 年全国城市节约用水宣传周。今年第 31 届全国城市节约用水宣传周以“建设节水型城市，推动绿色低碳发展”为主题，通过持续、深入的城市节水宣传，使节约用水的理念深入人心，有力推动了城市节水工作的开展。同学们为此展开了一些调查并做了如下记录：

记录一：中国的水资源基本状况是人多水少、水资源时空分布不均匀，南多北少，沿海多内地少，山地多平原少，近 31%的国土是干旱区（年降雨量在 250mm 以下），生产力布局和水土资源不相匹配，供需矛盾尖锐，缺口很大。

(1) 请根据记录一概括我国的水资源现状。（写出两点即可）（2 分）

请勿在此区域答题

记录二：水资源污染严重
在七大水系 100 个国控省界断面中，I-III 类、IV-V 类和劣 V 类水质断面比例分别为 36%、40%和 24%。此外，城市地下水约有 64%遭受严重污染，33%的城市地下水为轻度污染。水资源的重复循环利用率偏低：

工业生产用水效率低，导致成本偏高，单方水的 GDP 产出为世界平均水平的 1 / 3。全国大多数城市工业用水浪费严重，平均重复利用率只有 30-40%，无法与先进国家相比。

(2) 记录二的调查数据表明我国必须坚持哪一基本国策？（2 分）

记录三：水资源的管理和宣传不到位
长期以来，科学有效使用水资源的引导和督察不到位，水资源短缺现状的宣传教育力度不够，民众节水意识淡薄，各行各业用水浪费现象普遍存在。

(3) 针对记录三的问题，同学们打算积极行动起来。请选择其中一个问题写出对应的解决办法。（要求解决办法科学合理，具体有效）（3 分）

请勿在此区域答题