

准考证号

姓名

班级

学校

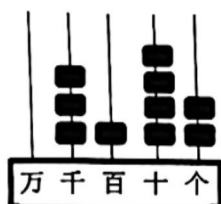
大渡口区 2021-2022 学年下期 小学二年级数学综合练习题

时间：60 分钟

总分：100 分

一、填空。（每空 1 分，其中第 10 题 2 分，共 23 分）

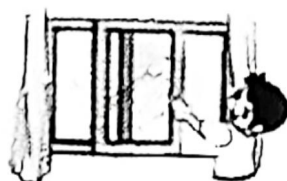
1. 看图读、写数。



写作：_____

读作：_____

- 泰山为五岳之首，主峰玉皇顶海拔约 1532 米，这个数是由 1 个千，（ ）个百，3 个十和（ ）个一组成的。
- 在 $27 \div 4 = 6 \cdots 3$ 的算式中，被除数是（ ），余数是（ ）。
- 在 $\square \times 9 < 43$ 中， \square 里最大填（ ）。
- 下图中，平移现象画“△”，旋转现象画“○”。



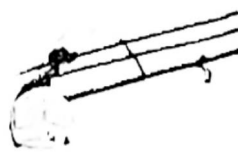
推拉窗户的运动

（ ）



电风扇扇叶的运动

（ ）



缆车的运动

（ ）

- 900 的前一个数是（ ），248 后面的第三个数是（ ）。
- 一袋盐约重 500 克，（ ）袋盐约重 2 千克。
- 小雨骑自行车行了 1987 米，姐姐骑自行车行了 2038 米，两人共骑行了约（ ）米。
- 在○里填上“>”、“<” “=”。

$$54 \div 9$$

$$7865$$

$$36 \div 6$$

$$7839$$

$$9000 \text{ 克} - 3000 \text{ 克}$$

$$5 \times (6 - 3)$$

$$4 \text{ 千克}$$

$$5 \times 6 - 3$$

10. 圈一圈，填一填。



丽丽有 12 个苹果，每（ ）个分一份，可以分（ ）份。算式是

$$\square \div \square = \square$$



11. 小红、小丽和小青赛跑，小红不是跑得最快的，但是小红比小丽跑得快，跑得最快的是（ ）。

12. 在右面的方格中，每行、每列都有 1—4 这四个数，并且每个数在每行、每列都只出现一次，A 是（ ） B 是（ ）。

4	A	1	
		3	
	4	B	
	2		3


二、选择正确答案的字母填在括号里。（每题 1 分，共 6 分）

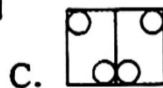
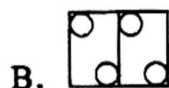
1. 下面各数中，一个零都不读的是（ ）。

- A. 3100 B. 3010 C. 3001

2. 4 个梨子约重 1 千克，24 个这样的梨子约重（ ）千克。

- A. 3 B. 6 C. 12

3. 笑笑在一张对折一次的纸上剪了两个圆 ，展开后得到的图案是（ ）



4. 在有余数的除法中，除数是 8，余数最大是（ ）

- A. 7 B. 8 C. 9

5. 将算式“ $45-40=5$ ”和“ $5\times 6=30$ ”列成综合算式是（ ）

- A. $45-40\times 6$ B. $6\times 45-40$ C. $(45-40)\times 6$

6. $\square\triangle\bigcirc\square\triangle\bigcirc\square\triangle\bigcirc\cdots\cdots$ 照这样画下去，第 20 图形应画（ ）。

- A. \square B. \triangle C. \bigcirc

三、判断：对的画“√”，错的画“×”。（每题 1 分，共 5 分）

- 2 千克棉花和 2000 克铁一样重。 ()
- 1808 中的两个 8 表示的意思一样。 ()
- 计算 $56\div 8$ 和 7×8 使用的是同一句乘法口诀。 ()
- $9+9\div 3$ 与 $(9+9)\div 3$ 的结果相同。 ()
- 七千零一写作 701。 ()

四、计算。（33 分）

1. 直接写得数。（每题 1 分，共 10 分）

$$\begin{array}{ccccc} 68-32= & 24\div 6= & 9\times 8= & 8+53= & 1600-700= \\ 340+70= & 500+500= & 2000-400= & 48+6= & 6\times 4-9= \end{array}$$

2. 请用竖式计算下面各题。（每题 3 分，共 9 分）

$$56\div 7= \quad 22\div 3= \quad 33\div 5=$$

3. 脱式计算。（每题 3 分，共 12 分）

$$12\div 6\times 8 \quad 72-18\div 9 \quad 4\times (20-17) \quad (14+49)\div 7$$



4. 儿童书社中, 科技书与漫画书各有多少本? 猜一猜, 填一填。(2分)

1026 本	990 本	1890 本	256 本
童话书			

科技书比童话书多得多, 漫画书比童话书少一些。



五、数一数, 填一填。(共 10 分)

下表是二年级 2 班同学最喜欢的季节调查情况。

春季	夏季	秋季	冬季
正 正 正	○ ○ ○ ○ ○ ○ ○ ○	√ √ √ √ √ / / /	正 一

1. 请你根据上面记录的结果, 完成下表。(4分)

季节	春	夏	秋	冬
人数				


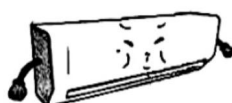

2. 二年级 2 班一共有 () 人参与调查, 喜欢 () 季的人数最多。(2分)

3. 喜欢 () 季的人数比喜欢 () 季的人数多 () 人。(3分)

4. 如果组织二年级 2 班的同学去游玩, 最好安排在 () 季。(1分)

六、解决问题。(共 23 分)

1. 妈妈在超市买一台洗衣机和一台空调一共需要多少钱?(2分)

		
1600 元	3000 元	2000 元

2. 妈妈买了 5 千克番茄, 每千克番茄 7 元, 妈妈一共花了多少钱?(3分)



李叔叔要挖一条长为 80 米的水沟，已经挖了 26 米，剩下要 6 天挖完，平均每天挖多少米？（4 分）

汉堡店搞促销活动，原来 10 一个的汉堡，现在 24 元 3 个，现在每个汉堡多少钱？
每个比原来便宜多少钱？（4 分）

仓库里有 56 箱货物，货车每次最多能运走 9 箱，至少要多少次才能全部运完？（4 分）



手套：8 元



帽子：6 元



茶杯：9 元



娃娃：5 元

1) 丽丽带了 45 元钱，最多可以买几双手套？（3 分）

2) 军军买了一个茶杯和 6 顶帽子，一共花了多少钱？（3 分）

