

# 小学一年级数学综合练习题

时间：50+10 分钟

总分：100 分

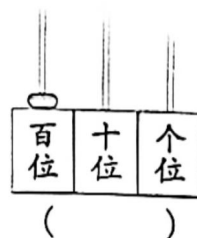
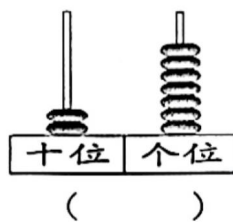
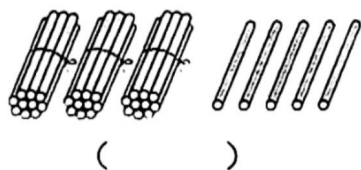
## 一、算一算。（20 分）

- $10+6=$        $38-30=$        $2+63=$        $35-2=$   
 $30-9=$        $18-8=$        $30+7=$        $54+40=$   
 $35-20=$        $25+9=$        $0+49=$        $26-9=$   
 $45+2-6=$        $19-3+4=$        $42+8-7=$        $20+(42+3)=$

- $6\text{元}+5\text{角}=(\quad)\text{元}(\quad)\text{角}$        $1\text{元}-7\text{角}=(\quad)\text{角}$   
 $6\text{元}9\text{角}-5\text{角}=(\quad)\text{元}(\quad)\text{角}$        $9\text{角}+8\text{角}=(\quad)\text{元}(\quad)\text{角}$

## 二、填一填。（每空 1 分，共 31 分）

### 1. 看图写数



- 79 是由 (      ) 个十和 (      ) 个一组成。与它相邻的数是 (      ) 和 (      )。

- $34+8=$

$23-9=$

先算：(      )

先算：(      )

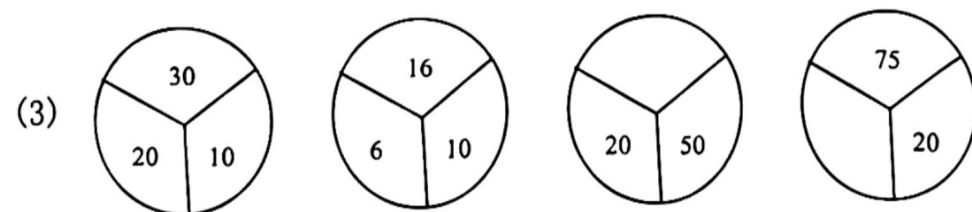
再算：(      )

再算：(      )





### 4. 找规律填空。

(1) 3    6    9    12    (      )    (      )

(2) 40    35    30    (      )    20    (      )    (      )



5. 38 比 9 多 ( )。 比 5 多 43 的数是 ( )。  
( ) 比 80 多 1。 39 比 ( ) 少 1。

6. 一张  能换 ( ) 张 。  
( ) 张  合起来是 1 张 。

7. 比较大小。


$89 \bigcirc 97-7$

$56+10 \bigcirc 56-10$

$19 \text{ 元 } \bigcirc 90 \text{ 角}$

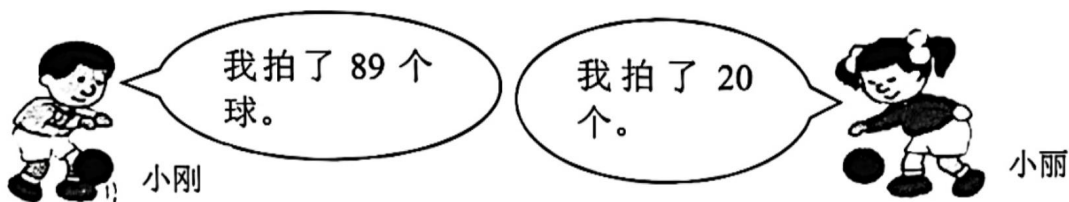
8. 折一折，用 

6
4 2 3
5

 做一个 ，“3”的对面是 ( )，“1”的对面是 ( )。

### 三、选一选，把正确的答案圈起来。(10分)

1. 小刚拍的球比小丽 ( 多一些      多得多      少得多 )



2. 回忆百数表，下面图中“?”代表的数是

28	
?	

( 29      38      39 )




3. 把一张正方形纸对折一次，可能出现的图形是



4. 与  $30-(5+5)$  的得数相等的算式是

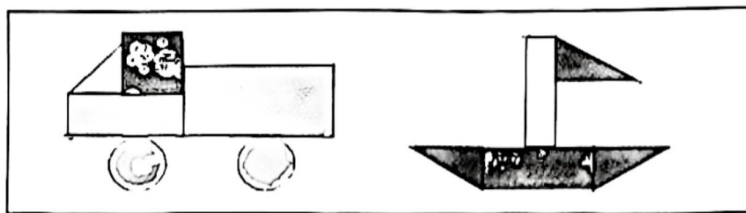
( 30-5+5      30-5-5      30+5-5 )

5.           \_\_\_\_\_

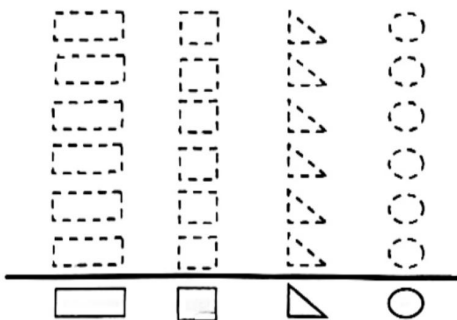
按照规律，横线上接着画的一个图形是 (    )



四、我会分类整理。（3题2分，共11分）



1. 看上图，按形状分一分、涂一涂。



2. 填表。

( )个	( )个	( )个	( )个

3. ( ) 和 ( ) 的个数同样多，( ) 的个数最少。


4. 三角形比圆多 ( ) 个。

五、分一分。（4分）

1. 画一画，用一条直线把正方形分成两个长方形。（1分）



2. 圈一圈，22颗糖果，5颗装一袋，可以装满 ( ) 袋，还剩 ( ) 颗。（3分）



六、解决问题。（每题4分，24分）

1. 买一个书包和一个文具盒，一共花了多少元钱？



算式：\_\_\_\_\_

答：一共要花 ( ) 元钱。



2



我上午看了 46 页，  
下午看了 20 页。

他上午比下午多看  
多少页？



算式：\_\_\_\_\_

答：他上午比下午多看（    ）页。

3. 每条小鱼用 5 块卡片拼成，拼 3 条小鱼，一共用了多少块卡片？



算式：\_\_\_\_\_

答：一共用了（    ）块卡片。

4. 车上原来有 26 人，现在车上有多少人？



算式：\_\_\_\_\_

答：现在车上有（    ）人。

5. 班级联欢会，8 个同学要吹 48 个气球，已经吹好了 20 个，还要吹多少个气球？

算式：\_\_\_\_\_

答：还要吹（    ）个气球。

6. “冰墩墩”是 2022 年北京冬奥会的吉祥物，某商店原有 75 个。



第一天卖出 35 个，  
第二天卖出 20 个。



现在还有多少  
个？

算式：\_\_\_\_\_

答：现在还有（    ）个。

