

## 四年级数学

(答卷时间:80分钟, 满分:100分)

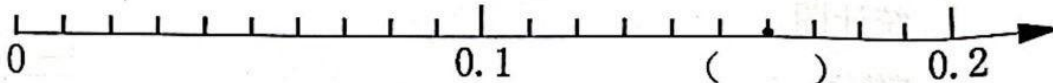
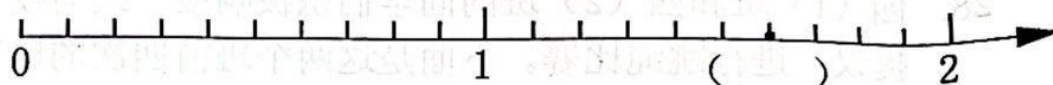
题次	一	二	三	四	五	总分
得分						

班 别

一、填空。(第3、6小题各4分, 其余每小题2分, 共20分)

1. 据国家和省市卫健委发布消息: 截止2022年5月, 国外新冠疫情累计确诊约517000000人, 横线上的数改写成用“亿”作单位是( )亿人, 精确到十分位约是( )亿人。

2. 在括号里填入合适的小数:



3. 下面各数中的8, 分别表示什么? 填一填。

56.038

80.57

2.857

300.28

( ) ( ) ( ) ( )

4. 在○里填上“>”、“<”或“=”。

9.9999 ○ 10

57.3 ÷ 10 ○ 5.73 × 10

80.080 ○ 80.08

0.6平方分米 ○ 6平方厘米

5. 在□里填上一个合适的数, 使计算简便。

25 × □ × 13

70.2 - 19.8 - □

6. 在( )里填上合适的数。

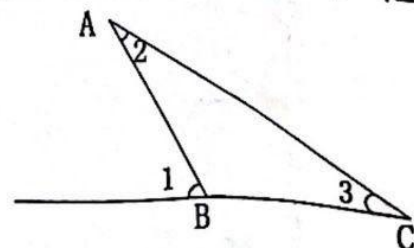
68厘米 = ( )米

3.6吨 = ( )千克

195700 = ( )万

10869000000 = ( )亿

7. 三角形ABC是一个等腰三角形,

BA = BC, 如右图:  $\angle 1 = 60^\circ$ , $\angle 2 = \angle 3$ , 那  $\angle 3 = ( )^\circ$ 。

8. 一次抢答题游戏规定：答对一题加10分，答错一题扣4分。

一位选手抢答了10题，最后得分16分。他答对了( )题。

二、判断下面各题，对的在( )里画“√”，错的画“×”。(4分)

9. 20.0改写成两位小数是2.00。..... ( )

10. 大于0.7而小于0.8的小数有9个。..... ( )

11. 三角形任意两边的和大于第三边。..... ( )

12. 计算小数加减法时，小数点要对齐，也就是把相同数位对齐。..... ( )

三、选择正确答案的序号填在( )里。(6分)

13. 下面各小数，与6最接近的是( )。


A. 6.02

B. 6.002


C. 5.9

D. 5.099


14. 下面各图中的阴影部分，可以表示0.30的是( )。




A.



B.




C.




D.

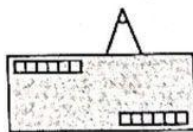
15. 下面图( )中被信封遮住的三角形一定是锐角三角形。



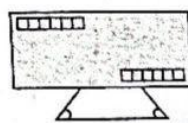
A.



B.

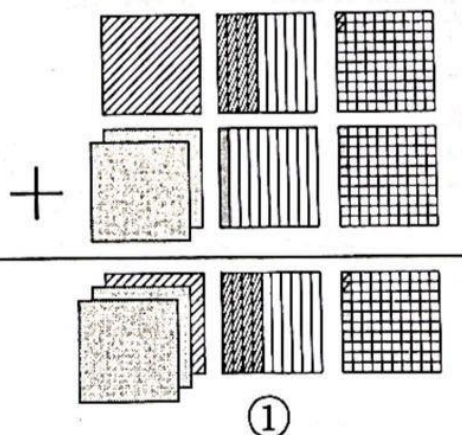


C.



D.

16. 下面计算“ $1.42 + 2.15$ ”的方法中，( )是合理的。



$$\begin{array}{r} 1.42 \\ + 2.15 \\ \hline 3.57 \end{array}$$

②

A. 只有①

B. 只有②

C. ①②

D. 都不合理



分。

题。

1分)


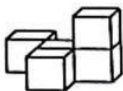
)

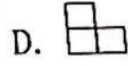

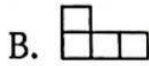
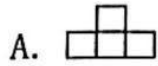
)

)

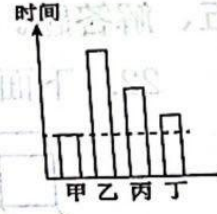
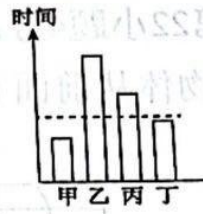
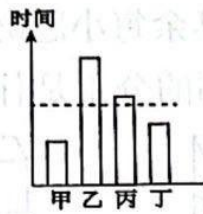
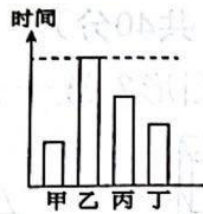
对

)

17. 用5个同样的  摆成 ，从左面看到的图形是( )。



18. 牛牛对四个同学的读书时间进行了统计。如果用虚线位置表示平均每人读书时间,那么下面选项中正确的是( )。



#### 四、计算。(30分)

19. 直接写得数。(6分)

$3.4 + 5.9 =$

$2.8 - 2 =$

$2.4 + 4.2 =$

$10 - 0.9 =$

$4.6 + 6.4 =$

$9.6 - 7.8 =$

20. 用竖式计算下面各题。(6分)

(1)  $17.65 + 3.85 =$

(2)  $9.69 - 3.75 =$

21. 计算下面各题,能用简便方法的要求用简便方法算。(18分)

(1)  $39.2 - 6.13 - 3.87$

(2)  $5.9 + 1.4 + 4.1 + 8.6$

(3)  $12 \times 35 - 35 \times 2$

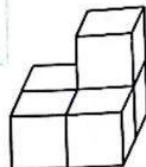
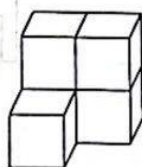
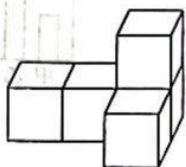
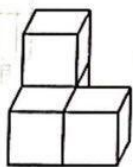
(4)  $250 \times 9 \times 4$

(5)  $3900 \div 25 \div 4$

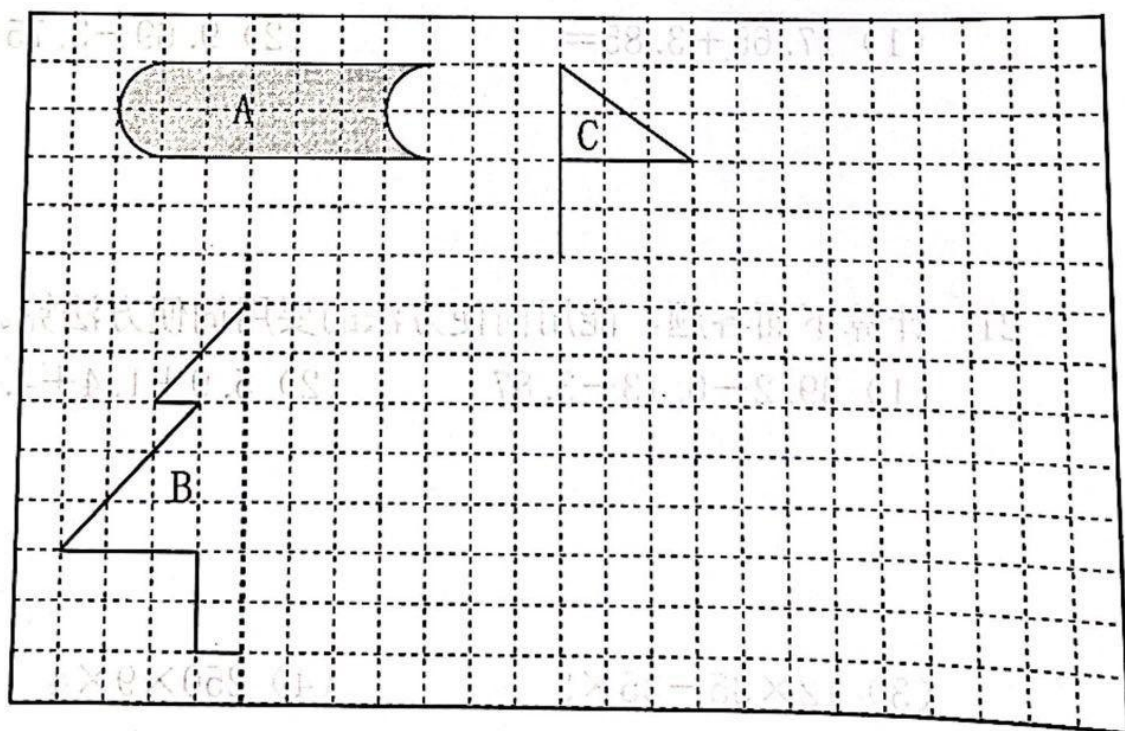
(6)  $450 \div [50 - (25 - 20)]$

五、解答题。(第22小题4分, 其余每小题6分, 共40分)

22. 下面的物体从前面看到的分别是什么图形? 连一连 (4分)



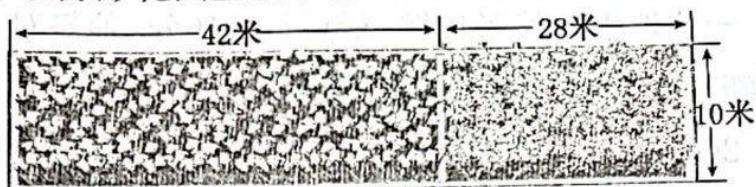
23. 下面每个小方格都代表边长1厘米的正方形, 请按要求画一画, 填一填。



- (1) 图A的面积是 ( ) 平方厘米。
- (2) 画出轴对称图形B的另一半。
- (3) 画出图C向右平移6格后的图形。

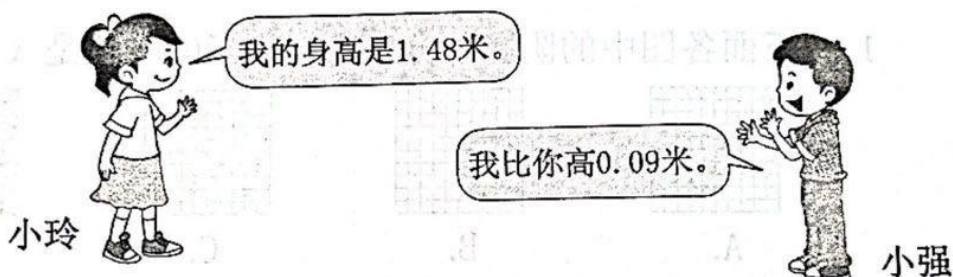


24. 在一个长方形花圃里栽了郁金香和菊花（如下图）



这个花圃一共占地多少平方米？

25. 小强身高多少米？



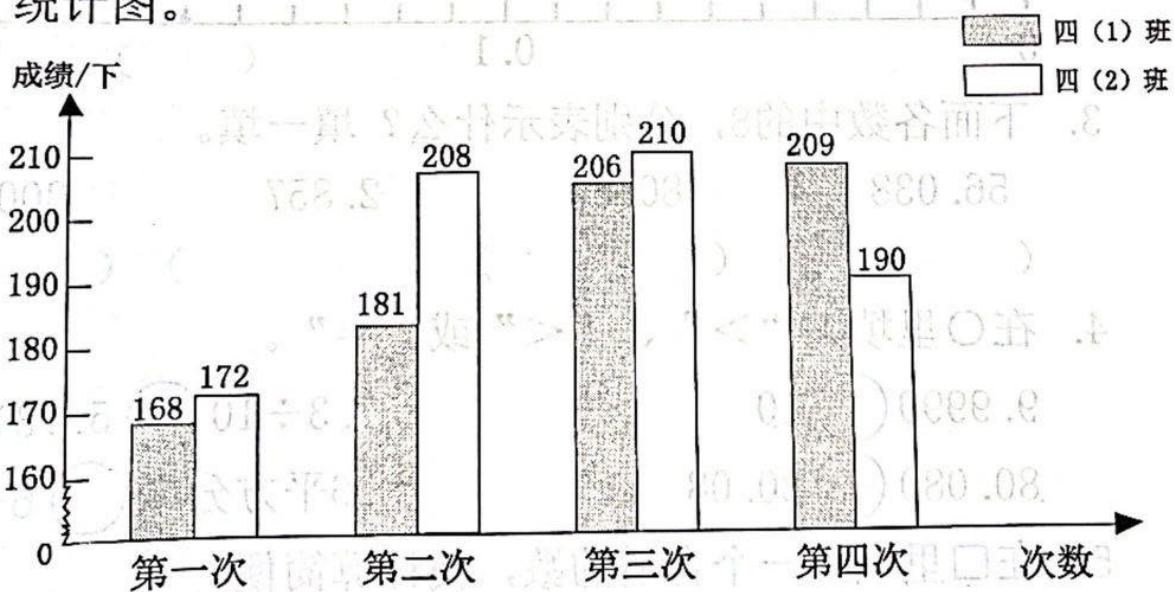
26. 水深多少米？

这根竹竿长2.15米，  
插入泥中0.3米，  
露出水面的部分  
长0.7米。





28. 四(1)班和四(2)班的同学们积极响应“跳动校园”的提议,进行跳绳比赛。下面是这两个班前四次的比赛成绩统计图。



- (1) 在第二次比赛中,四(1)班的成绩是( )下。
- (2) 在这四次比赛中,四(2)班最好成绩是( )下。
- (3) 如果进行第五次比赛,你认为哪个班的成绩好?把你的理由及结论写在下面。