

道德与法治·历史

温馨提示:

1. 本试卷分道德与法治、历史两部分,卷面分值各 80 分,共 8 页,考试时间 120 分钟。请合理安排答题时间!
2. 答题前,考生务必将姓名、座位号、考生号填写在答题卡的相应位置上,并仔细阅读答题卡上的“注意事项”。
3. 答题时,请将答案填涂在答题卡上,写在本试卷上无效。
4. 考试结束后,将本试卷和答题卡一并交回。

道德与法治

一、选择题(每小题给出的选项中只有一项符合题意,请将符合题意的选项序号,在答题卡的对应位置上按要求涂黑。每小题 2 分,共 32 分。)

1. 《论语·学而》中说:孝悌也者,其为仁之本欤!孝亲敬长是中华民族的传统美德,也是每个中国公民的法定义务。因此,对于父母,我们
A. 要知恩、感恩,用心去爱,用行动去表达
B. 孝敬父母长辈是长大成人以后的事,现在不用考虑
C. 在产生矛盾时,不必理睬,父母会主动沟通
D. 应该适当与父母冲突,以证明自己成长
2. 暑期夏令营,辅导员说:“我们的新集体成立了,你对这个集体有什么憧憬?”下面是同学们的观点,你认为正确的是
①美好集体是民主、公正的 ②美好集体是善于合作、充满关怀与友爱的
③美好集体是充满活力的 ④美好集体是讲哥们儿义气,有福同享、有难同当的
A. ①②③ B. ①②④ C. ①③④ D. ②③④
3. 2022 年 6 月 5 日上午,“神舟十四号”航天员见面会上,三位航天员侃侃而谈,自信的风貌给我们留下深刻的印象。对于自信的认识正确的是
①自信的人必定自负,因此要战胜自己、超越自己
②有了自信,我们能怀着坚定的信心和希望,开始伟大而光荣的事业
③自信能够展现优势与才华,激发潜能与活力,获得更多的实践机会与创造可能
④自强可以让我们更自信
A. ①②③ B. ①②④ C. ①③④ D. ②③④

4. 小兰最近在网上结交了一个网友,两人有很多共同话题,几天时间就达到了无话不谈的地步,对方甚至还问到小兰的家庭住址等隐私问题,小兰的学习成绩也受到影响。你认为,小兰应该注意的是

- ①网上交友要学会理性辨别、慎重选择 ②网上交友要增强自我保护意识
③要利用网络交友优势,争取尽快见面 ④避免沉迷网络,影响学习和生活
A. ①②③ B. ①②④ C. ①③④ D. ②③④

5. 2022 年北京冬奥会上,18 岁的中国单板小将苏翊鸣成功摘得单板滑雪冬奥首金,并最终获得一金一银的好成绩。据回忆,苏翊鸣从小就想成为单板王和奥运冠军,为了实现梦想,他刻苦训练,其专注力、抗挫能力都非常强。从苏翊鸣的故事可以看出

- A. 从小立志就一定能成功
B. 抗挫能力强的人就不会遇到挫折
C. 有梦想更要付诸行动,努力才是梦想与现实之间的桥梁
D. 挫折容易使人消沉

6. 2022 年 4 月 15 日,是我国第七个全民国家安全教育日,司法部、全国普法办联合印发通知,部署开展今年的全民国家安全教育日普法宣传活动。重视全民国家安全教育是因为

- ①国家安全是人民幸福安康的前提
②国家安全是国家生存与发展的重要保障
③宪法和法律规定了公民和组织应当履行维护国家安全的义务
④18 周岁以上的公民才有维护国家安全的义务

- A. ①②③ B. ①②④ C. ①③④ D. ②③④

7. 下列行为属于依靠法律维护自己的合法权益的是

- ①丽丽在网购时买了假货,嫌麻烦选择了放弃追责
②李某的健身年卡用了几天,健身房老板就卷钱走人,李某选择报警
③正上初中的小红被迫辍学,她求助于法律援助机构,要求复学
④王芳发现自己发表的诗作被人非法转载,向人民法院提起诉讼

- A. ①②③ B. ①②④ C. ①③④ D. ②③④

8. 我国宪法规定:“中华人民共和国人民法院是国家的审判机关。”人民法院的基本职权包括

- ①审理刑事、民事和行政案件
②通过行使国家审判权,惩办犯罪分子,解决民事和行政争议
③依法行政
④维护社会秩序,引导公民自觉遵守宪法和法律

- A. ①②③ B. ①②④ C. ①③④ D. ②③④

9. 请看右侧漫画,对其行为的评价正确的是

- A. 他的权利观念强,只行使权利不履行义务
B. 他的义务观念强,只履行义务不行使权利
C. 坚持权利和义务相统一,既行使权利又履行义务
D. 混淆了权利与义务的概念,认为权利等于义务



10. 2021年10月,习近平主席在联合国《生物多样性公约》第十五次缔约方大会上宣布,中国正式设立第一批国家公园。从此,“人与天谐,天人共美”的国家公园画卷即将在中国的广袤土地上徐徐展开。这说明

- ①我国在应对资源和环境问题上已经取得明显进步
- ②我国以牺牲经济发展和人民生活水平为代价,换取绿水青山
- ③走绿色发展道路,建设生态文明,实现可持续发展,已经成为当代中国的发展共识
- ④中国走绿色发展道路,建设资源节约型、环境友好型社会,实现经济繁荣、生态良好、人民幸福,是建设美丽中国的时代图景

A. ①②③ B. ①②④ C. ①③④ D. ②③④

11. 新时代党的民族工作的“纲”是

- A. 铸牢中华民族共同体意识
- B. 不断巩固中华民族的经济基础
- C. 坚定“四个自信”,贯彻新发展理念
- D. 保持风清气正的政治环境

12. 新中国成立后,在党的领导下,逐步形成了社会主义新型民族关系,这种新型民族关系是

- A. 奋斗、平等、团结、互助
- B. 平等、团结、互助、和谐
- C. 自治、团结、互助、和谐
- D. 团结、互助、繁荣、平等

13. “中国在制度上走出了一条有中国特色解决民族问题的正确道路。”这里说的“道路”,包含了我国在少数民族地区实行的一项基本政治制度

- A. 人民代表大会制度
- B. 中国共产党领导的多党合作和政治协商制度
- C. 民族区域自治制度
- D. 基层群众自治制度

14. 中华民族共同体意识是民族团结之本。对“共同体”这一概念理解全面的是

- ①中华民族共同体是经济共同体
- ②中华民族共同体是政治共同体
- ③中华民族共同体是文化共同体
- ④中华民族共同体是命运共同体

A. ①②③ B. ①③④ C. ②③④ D. ①②③④

15. 民族团结之根、民族和睦之魂是

- A. 心理认同
- B. 文化认同
- C. 道路认同
- D. 制度认同

16. 各民族交往交流交融是中华民族发展的历史大势。当前,我国56个民族交流交往交融的共同纽带是

- A. 通用的货币
- B. 相同的饮食习惯
- C. 相同的生活方式
- D. 国家通用语言文字

二、非选择题(请将答案按要求写在答题卡的对应位置上。本题2个小题,共48分。)

17. (22分)阅读材料,回答问题。

材料一:吴天一,中国工程院院士,著名低氧生理学与高原医学专家,我国高原医学事业的开拓者。他响应祖国号召,扎根高原六十载,从当时国内高原医学研究一片空白到如今开创“藏族适应生理学”研究,提出高原病防治的国际标准,取得了一系列开创性成果。吴天一克服自身头痛、胸闷、失眠等高原反应,频繁出入高寒地带,爬冰卧雪,为牧民治病,收集生理病理数据。在调研途中,他6次遭遇车祸,全身14处骨折。长期奔波中,他先后耳膜穿孔、双眼白内障,患上了慢性高原心脏病……青藏铁路建设期间,吴天一用缜密周全的方案,保障14万筑路大军无一例因高原病死亡,被称为“生命的保护神”,并荣获“国家科技进步奖特等奖”。2021年6月29日,他站上人民大会堂金色大厅领奖台,戴上了代表党内最高荣誉的“七一勋章”。2022年3月3日,在感动中国2021年度人物颁奖盛典中,吴天一被评为“感动中国2021年度人物”。

(1)根据材料说一说,吴天一响应祖国号召,承担了什么责任?(6分)

(2)结合所学知识谈一谈,吴天一在承担责任的过程中付出了什么?又有什么收获?(8分)

材料二:八年级下册第三单元的导语中有这样的陈述:“依据宪法设立的国家机关都以为人民服务为宗旨。”

(3)请结合法治教育专册所学知识,分析说明为什么“国家机关都以为人民服务为宗旨”?(8分)

18. (26分)某校为庆祝中国共产主义青年团成立100周年,开展“青春奋斗,强国有我”主题系列活动。下面是同学们分享的部分内容,请你参与同学们的述评,说出自己的观点。

【话说辉煌】我国科技创新取得历史性成就。“海斗一号”成功实现万米下潜并完成科考应用;“奋斗者”号投入常规科考应用;北斗卫星导航顺利完成全球系统组网;“神舟十三号”顺利完成任务返回地球;“神舟十四号”顺利升空;“天鲲号”首次试航成功;“华龙一号”三代核电技术取得新突破……

(1)我国科技创新取得历史性成就得益于哪些发展战略?(6分)

【坚定自信】2022年早春,北京冬奥会、冬残奥会胜利举办,举国关注,举世瞩目。蕴含中华文化的巧妙设计——寓意深远的冬奥场馆、活泼敦厚的“冰墩墩”、喜庆祥和的“雪容融”、扑面而来的中国年味儿……饱含圆融和合等中国理念的开、闭幕式——二十四节气、黄河之水、中国结、迎春松、折柳寄情……这些意蕴隽永的场面构思独到、匠心独运,在人们心中留下了美轮美奂、直击人心的深刻印象。各国运动员在冬奥会期间“沉浸式”体验中国文化,各类媒体也向全世界展示和传播了中国文化。“国风”不只是在国内出圈,在国外也同样出彩。

(2)对上述材料,你产生了怎样的思考?(6分)

【人民民主】我国实行的“全过程人民民主”,是中国共产党团结带领人民追求民主、发展民主、实现民主的伟大创造,是党不断推进中国民主理论创新、制度创新、实践创新的经验结晶……全过程人民民主是一个完整的制度链条,中国人民有着高度的政治自信,根本原因就在于我国全过程人民民主是民主含量高、民主成色足、深受中国人民欢迎的民主。

(3)说说我国人民民主的本质和特点分别是什么?(6分)

【担当重任】主题活动进行中,同学们纷纷表示,作为当代中国青少年,生逢盛世,要不负青春,不负韶华,努力奋斗,赓续红色血脉,传承红色基因,做堪当民族复兴重任的时代新人!

(4)你准备怎样做堪当民族复兴重任的时代新人?(8分)

历史

一、选择题(每小题给出的选项中只有一项符合题意,请将符合题意的选项序号,在答题卡的对应位置上按要求涂黑。每题2分,共36分)

1. “红山文化”是我国新石器文化极为重要的一支,因其最早发现于内蒙古赤峰红山而得名。从考古发掘来看,距今5000多年前的红山人墓地多为积石冢,是规划的墓地,处于中心的大墓随葬品是精美的玉器,向边缘依次为少量的玉器、猪狗、陶器,个别的没有随葬品。这些随葬品的分布反映了

A. 阶级分化的出现
B. 宗教信仰的多元化
C. 敬畏祖先观念的产生
D. 生产力水平的低下

2. 开元时期的长安、扬州、广州等城市,云聚着从海陆丝绸之路来华的胡商蕃客,仅长安就有留居的“胡人”4000—5000家,许多外商在“西市”经营店铺,国子监接受了众多外国留学生。材料可以印证

A. 隋朝经济繁荣
B. 唐朝社会开放
C. 宋代经济重心南移
D. 明清对外交往

3. 由下表可推知

| 朝代 | 科技文化成就 |
|-----|--|
| 南北朝 | 祖冲之把圆周率精确到小数点以后的第七位数字,这项成果领先世界近千年。 |
| 唐朝 | 政府编写颁布的《唐本草》,是世界上第一部由国家制定的药典。 |
| 宋朝 | 毕昇发明了活字印刷术,对人类文明的发展产生了重大的影响。 |
| 明朝 | 宋应星编写了《天工开物》一书,是世界上第一部有关农业、手工业和科学技术的百科全书,被誉为“中国17世纪的工艺百科全书”。 |

A. 科举制度促进科技文化发展
B. 国家支持推动科技文化发展
C. 中华文明对世界文明做出突出贡献
D. 中国古代科技文化全面领先世界

4. 明太祖时期编成《孟子节文》作为科举考试的内容,书中将《孟子》“民为贵,社稷次之,君为轻”等“非臣子所宜言”的内容尽行删去,不准学习。这反映了明初

A. 重视文献整理
B. 科举制度完善
C. 君主专制加强
D. 重文轻武政策

5. 某同学撰写的地方史小论文中出现了“西域都护、安西都护府、伊犁将军”等关键词。据此判断,他主要研究的地区应是

A. 内蒙古
B. 西藏
C. 广西
D. 新疆

6. 下表是中国近代某一时期三个新式学校的课程内容,与这三个学堂的设立直接相关的历史事件应是

| 学堂 | 开设课程 |
|----|------------------------|
| 一 | 《圣谕广训》、《孝经》、船舶驾驶、射击、指挥 |
| 二 | 经学(儒家经典)、化学、天文测算、万国公法 |
| 三 | 学员需通儒家经典、微积分、重学、汽学 |

A. 鸦片战争
B. 洋务运动
C. 新文化运动
D. 五四运动

7. “中国大地从南到北、从珠江三角洲到长江三角洲,处处燃烧着革命的火焰”,使“孙中山先生致力国民革命凡四十年还未能完成的革命事业,在仅仅两三年之内,获得了巨大的成就。”与以上材料相契合的是

A. 太平天国运动
B. 义和团运动
C. 辛亥革命
D. 北伐战争

8. 毛泽东在《中国的红色政权为什么能够存在?》中提出了关于中国革命新道路理论的一个科学概念。它是“在中国共产党的领导下,以武装斗争为主要形式,以土地革命为中心内容,以农村革命根据地战略阵地,三者密切结合的一种斗争形式。”“红色政权”能够存在和发展的最关键因素是

A. 中国共产党的正确领导
B. 武装斗争
C. 土地革命
D. 根据地的建设

9. 中共七大,“总结了我们民主革命二十多年曲折发展的历史经验,制定了正确的纲领和策略,克服了党内的错误思想,使全党的认识在马克思列宁主义、毛泽东思想的基础上统一起来,达到了全党的空前团结。”这次大会

A. 为争取解放战争的最后胜利准备了条件
B. 确立毛泽东思想为中国共产党的指导思想
C. 总结了建国以来的历史经验,制定了正确的纲领和策略
D. 为中国共产党和中国人民指明了社会主义建设的奋斗目标

10. 《人民日报》1954年1月25日文:“中央、华北和北京各机关选民投票的队伍中,充溢着格外热烈的气氛。好多单位的首长们和住地选区的选民们一起参加投票。”这则材料说明

A. 社会主义改造的成效显著
B. 社会主义民主法制体系完备
C. 制定宪法是建国初期的首要任务
D. 人民当家作主行使国家权力


11. 史论结合是历史学习的基本方法。下列史实与结论对应正确的选项是

| 选项 | 史实 | 结论 |
|----|-----------|------------------|
| A | 1950年土地改革 | 土地公有制建立 |
| B | 1953年一五计划 | 优先发展农业 |
| C | 1953年三大改造 | 变生产资料私有制为公有制 |
| D | 1956年中共八大 | 开始进入社会主义现代化建设新时期 |

12. “一国两制”是中国特色社会主义的一个伟大创举。对“一国两制”理解正确的是

A. 一国就是一个独立的国家,即中华人民共和国
B. 一国就是一个统一的国家,即中华人民共和国
C. 两制就是两种制度,即人民代表大会制度和政治协商制度
D. 两制就是两种制度,即政治协商制度和民族区域自治制度

13. 观察下面图片,分析城乡变化原因




70年代的深圳



现在的深圳



70年代的农村



现在的美丽乡村

A. 中国特色的社会主义制度和自强不息的民族精神
B. 中国在经济全球化背景下发挥了计划经济体制的优势
C. 人民生活水平的提高使生活方式发生了巨大的变化
D. 中国全面建成小康社会历史性地解决了绝对贫困问题

14. 下表是古巴比伦王国汉谟拉比在位时统治者的行为和职责。据此可以推断古巴比伦

| 国王汉谟拉比 | 国王任命的总督 | 基层公社的首领 |
|---|---------------------------|-----------------------------|
| 下令并严厉监督总督兴修水利,在位的好几个年份都作为“开凿河渠之年”而载入史册。 | 分管各城市和州的军事、行政、税收、司法和水利灌溉。 | 管理公社的土地、分配水流、管理市场、管理税收和司法等。 |

- A. 重视发展农业

B. 法律体系严密
- C. 维护奴隶主阶级利益

D. 商品经济活跃
15. 某文献提到:“工人变成赤贫者,贫困比人口和财富增长得还要快。由此可以明显地看出,资产阶级再不能做社会的统治阶级了,再不能把自己阶级的生存条件当做支配一切的规律强加于社会了”。据此推断“某文献”是
- A.《权利法案》

B.《人权宣言》

C.《独立宣言》

D.《共产党宣言》
- 16.《欧洲史》中写道:“第一次世界大战标志着一个时代的结束,……欧洲强国在战争中失去了世界霸权。人们从此转向华盛顿和莫斯科。”对这句话理解正确的是
- A. 这里的“时代”是资本主义时代

B. 一战使传统的国际格局发生改变

C. 欧洲因一战失去国际政治话语权

D. 美国、苏联因参加一战实力大增
17. 下表是美国政府投资修建的公共工程。其直接目的是

| 时间 | 项目 |
|-------------|-------------------------|
| 1933—1937 年 | 国有林区 740 万英亩;国有公园 20 万亩 |
| 1935—1942 年 | 公路 664 万英里;机场 285 个 |

- A. 缓解就业压力

B. 完善基础设施

C. 加速战争准备

D. 推广科技成果
18. 20 世纪 40 年代末某文件规定:“对于欧洲或北美一个或数个缔约国的武装进攻,应视为对缔约国全体之攻击。”此段材料中的“缔约国”指的是
- A. “三国协约”成员国

B. “反法西斯同盟”成员国

C. “北大西洋公约组织”成员国

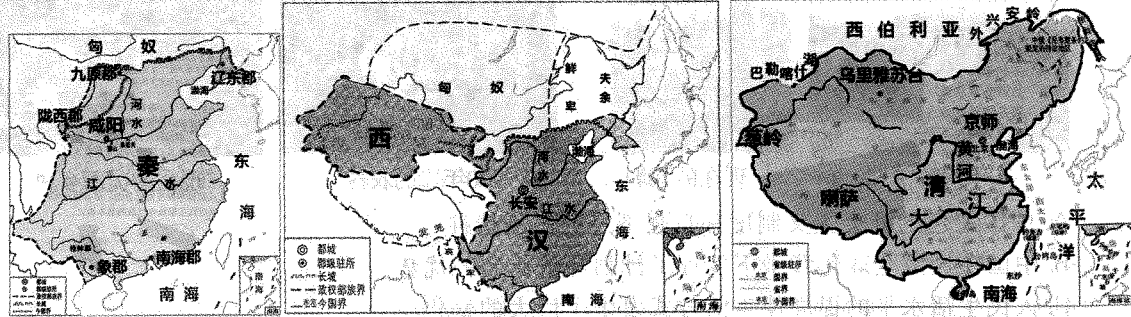
D. “华沙条约组织”成员国

二、非选择题(请将答案按要求写在答题卡的对应位置上,本题 3 个小题,共 44 分)

19. (14 分)中华民族在不断演进中形成多元一体的历史发展格局。阅读材料,回答问题。

材料一 秦皇一死,秦帝国荡然无存,可是他统一中国的功绩并不因之而湮灭。不出 10 年之内一个新朝代继之勃兴,兹后汉朝廷续达 400 年,在公元前后各经历约 200 年,全盛时管辖的人口约 6000 万,足可与罗马帝国相比拟,就是从所控制地域和存在的时间上讲,两个帝国也可以相提并论,只是中国方面内在的凝聚力,非西方所能望其项背。——黄仁宇《中国大历史》

材料二



(1)从材料一中提取一个你想论述的观点,并结合所学加以阐述或说明。(10 分)(答题要求:观点正确,史论结合,条理清楚)

(2)根据材料二,说出图一到图三疆域的主要变化(2 分);综合以上材料,概括出一个恰当的主题(2 分)。

20. (16 分)口号标语等是一个时代的鲜明印记。阅读材料,回答问题。

| 口号 标语 | | | |
|-------|---|-----|--|
| 第一组 | “自强”、“求富” “法者,天下之公器;变者,天下之公理” “驱除鞑虏,恢复中华,创立民国,平均地权” “民主”“科学” | 第三组 | “一切反动派都是纸老虎” “打过长江去,解放全中国” |
| 第二组 | “宁为战死鬼,不作亡国奴” “停止内战,一致对外” “一寸山河一寸血,十万青年十万军” | 第四组 | “联产承包好” “要想富,先修路” “发展才是硬道理” “再苦不能苦孩子,再穷不能穷教育” “绿水青山就是金山银山” |

- (1)写出第一组口号标语反映出的中国近代前期的时代主题。(4 分)
- (2)在第二组、第三组两组中任选一组,写出该组口号标语出现的历史时期(2 分);并分析其在当时所起的作用(4 分)。
- (3)第四组口号标语体现了“十一届三中全会”以来我国的哪些决策、战略和理念?(6 分)

21. (14 分)近代以来,社会快速发展的同时也带来一些问题。阅读材料,回答问题。

材料一 1870 年至 1900 年间,科学与技术的关系,比以前任何时期都密切得多。19 世纪最后 30 年间,几乎没有什么工业部门未曾受到科学新发现的影响,自 1870 年以后,我们可以清楚地看到 20 世纪科学工业的开端。新兴工业,完全是科学发现中首创的工业。

——F. H 欣斯利主编《新编剑桥世界近代史》第Ⅱ卷

材料二 1870—1913 年,世界贸易总额增长了 3 倍多,从 445 亿法郎增至 1924 亿法郎。……20 世纪初出现多极化的新格局;1913 年英国占世界贸易的 15%,美国占 11%,德国占 13%,法国占 8%,俄国占 4%。

——摘编自刘宗绪《历史学科专题讲座

材料三 1900 年,欧洲和北美的大城市超过了 150 座,到 1914 年,英美等西方国家城市人口已经占到总人口的绝对多数。1911~1913 年,英国 25 岁以上人口中,4.93%的人拥有 60%以上的财富。在德国,1911 年 3425 个富人平均每人拥有的财产价值是 532 万马克,另外 161 万的人均财产价值只有 2.3 万马克,最贫困人口尚不在此列。

——摘编自《世界文明史

- (1)写出与以上材料反映的历史现象密切相关的世界历史大事。(4 分)
- (2)根据材料二、三归纳概括这个大事产生的影响。(6 分)
- (3)通过以上材料和问题,我们能得出哪些认识?(4 分)