

一年级数学期末综合练习

一、我会算。

1. 直接写得数 (16 分)

$60-30=$

$49-40=$

$28+8=$

$16-8=$

$20+50=$

$81-5=$

$58-9=$

$70+6=$

$91-80=$

$27+0=$

$36+7=$

$4+28=$

$54+9=$

$100-60=$

$50+20=$

$62-30=$

2. 列竖式计算。(12 分)

$96-48=$

$46+27=$

$84-59=$

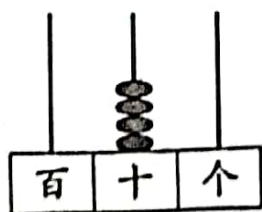
$73+17-38=$

$84-27-19=$

$53-24+38=$

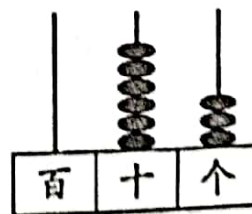
二、认真填一填。(36 分)

1.



() 个十

写作: ()



() 个十和 () 个一

写作: ()



2. 与 90 相邻的两个数是 () 和 ()。

3. 63 是由 () 个十和 () 个一组成的。

个位上是 7，十位上是 5 的数是 ()。

4. 最大的两位数与最大的一位数的差是 ()。


() 厘米



6. 在 () 里填上适当的时间



() 时



() 时



快到 () 时



刚过 () 时

7. 2 元 7 角 = () 角

7 元 = () 角

30 分 = () 角

20 角 = () 元

8. 填上合适的长度单位。

一张桌子高约 80 ()

黑板长约 4 ()

铅笔盒宽约 8 ()

教室宽约 6 ()

9. 在 ○ 里填上 “>”、“<” 或 “=”。

$$43 - 20 \bigcirc 25$$

$$45 - 9 \bigcirc 36$$

$$17 + 6 \bigcirc 33$$

$$86 \bigcirc 25 + 60$$




10. 按规律填一填

① 28, 38, 48, (), 68, (), 88

② 95, 90, 85, (), 75, (), 65

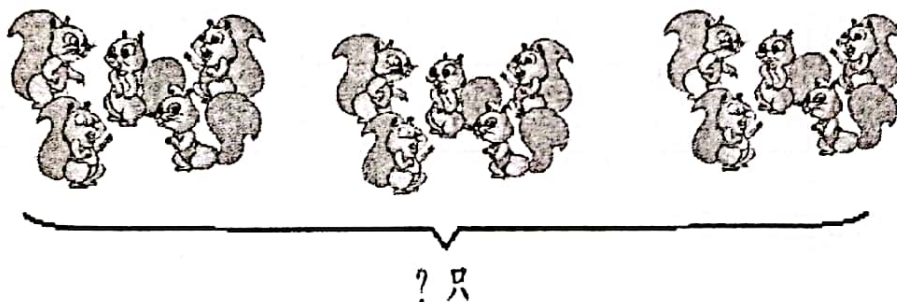
③ ○△□○△□○(), ()。

11.



() 元 () 角

12.




加法算式是 ()

乘法算式是 ()

三、综合实践 (6 分)

1. 铅笔有多长 (4 分)

() 厘米



() 厘米




2. 猜一猜 (2 分)



小涛可能拍了多少下? 画“√”; 小珍可能拍了多少下? 画“○”。

7 下	46 下	55 下	98 下

四、看图列算式。(6 分)



$$\square + \square + \square + \square + \square = \square$$

$$\square \times \square = \square$$

$$\square \times \square = \square$$



五、数一数、填一填。(4分)

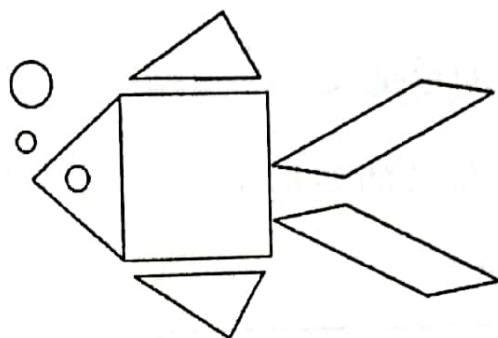






图 形				
个 数				

六、解决问题。(20分)

1. 树上结了许多桃子，小猴摘了 19 个，还剩 35 个，树上原来有多少个桃子？

$$\square \bigcirc \square = \square \text{ (个)}$$

2. 操场上原来有 78 个同学，走了 26 个同学，又来了 10 个。现在操场上一共有多少个同学？

$$\square \bigcirc \square \bigcirc \square = \square \text{ (个)}$$



3.



我养了 46 条金
鱼。

明明



我养了 30 条金
鱼。

丽丽

明明比丽丽多养了多少条金鱼？

$$\square \bigcirc \square = \square \text{ (个)}$$

4.



37 元



28 元



56 元

(1)



比



贵多少钱？

$$\square \bigcirc \square = \square \text{ (元)}$$

(2)



和



共多少钱？

$$\square \bigcirc \square = \square \text{ (元)}$$

