

2021—2022 学年下期期末教学质量检测

四年级数学试题

题号	一	二	三	四	五	六	总分
得分							

得分	评卷人

一、填空题。(每空 1 分, 计 21 分)

- $8\text{t}40\text{kg}=(\quad)\text{t}$ $13\text{cm}=(\quad)\text{dm}$
- 在○里填上“>” “<” 或“=”。 $0.6\bigcirc0.60$ $0.51\bigcirc0.509$
- $(\quad)-(\quad)=\text{减数}$
- 0.42 里面有 (\quad) 个 0.01 ; 1 元 2 角 5 分写成小数是 (\quad) 元。
- 9.984 精确到十分位是 (\quad) , 保留两位小数约是 (\quad) 。
- 两点间所有连线中 (\quad) 最短, 这条线段的长度叫做 (\quad) 。
- 由 8 个一, 4 个十分之一和 6 个千分之一组成的数是 (\quad) , 读作 (\quad) 。
- 三角形按角可分为 (\quad) 三角形、 (\quad) 三角形和 (\quad) 三角形。
- 36 与 48 的和乘 64 与 39 的差, 积是 (\quad) , 列成综合算式为 (\quad) 。
- 根据三角形内角和是 (\quad) 度, 可求出四边形内角和是 (\quad) 度。

得分	评卷人

二、判断题。(正确的打“√”, 错误的打“×”; 每小题 2 分, 计 10 分)

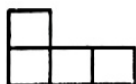
- 观察一个物体, 从不同位置观察到的形状可能相同。 (\quad)
- 5.29 在自然数 5 和 6 之间, 它约等于 5。 (\quad)
- 三角形中有一个角是 95° , 它一定是钝角三角形。 (\quad)
- 在有加法、有减法的算式里, 一定先算加法。 (\quad)
- 小数都比整数小。 (\quad)

得分	评卷人

三、选择题。(将正确答案的序号填写在题中括号里; 每小题 2 分, 计 10 分)

- 下面各数中, 读数时只读一个零的是 (\quad) 。
A. 1.005 B. 100.07 C. 2.0400


2. 下面的物体，从正面看到的形状是（ ）。



A



B



C

3. 大于 8.0 且小于 8.9 的小数有（ ）个。

A. 9

B. 8

C. 无数

4. 在任何一个钝角三角形中，最多能画（ ）条高。

A. 1

B. 3

C. 无数条

5. 下面算式的计算过程正确的是（ ）。

A. $45 \times 36 = 45 \times 30 \times 6$

B. $103 \times 23 = 100 \times 23 + 3$

C. $12 \times 25 = 3 \times (4 \times 25)$

得 分	评卷人

四、计算题。（计 24 分）

1. 直接写出得数。（每小题 1 分，计 8 分）

$392 \times 0 =$

$24 \times 5 =$

$11.7 + 2 =$

$-5 - 2.7 =$

$2.05 \div 100 =$

$72 \div 9 \times 7 =$

$0.093 \times 100 =$

$1 - 0.01 =$

2. 灵活合理地计算。（每小题 3 分，计 12 分）

$169 + 306 - 306 \div 9$

$99 \times 38 + 38$

$0.6 + 7.91 + 3.4 + 0.09$

$125 \times 32 \times 25$

3. 计算下面两题，并且验算。（每小题 2 分，计 4 分）

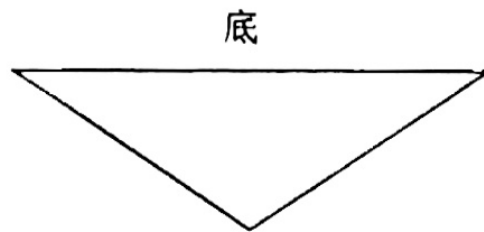
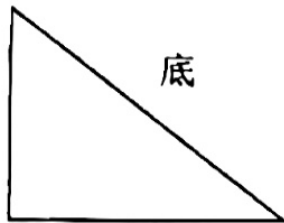
$8.3 - 6.45 =$

$113.04 + 7.8 =$


得分	评卷人

五、实践操作。（第1小题4分，第2小题6分，计10分）

1. 画出下面三角形底边上的高。（4分）



2. 先根据对称轴补全这个轴对称图形，再画出这个轴对称图形向右平移10格后的图形。（3分+3分=6分）



得分	评卷人

六、问题解决。（每小题5分，计25分）

1. 一等奖和二等奖各有多少个？
（5分）

西亚超市购物大抽奖：
 一等奖 300 元
 二等奖 100 元
 共 60 个中奖名额，奖金总额达 10000 元！

2. 在一次跳远比赛中，强强跳了 3.05m，星星比强强少跳 0.18m，宁宁比星星多跳 0.03m，宁宁跳了多少米？（5分）

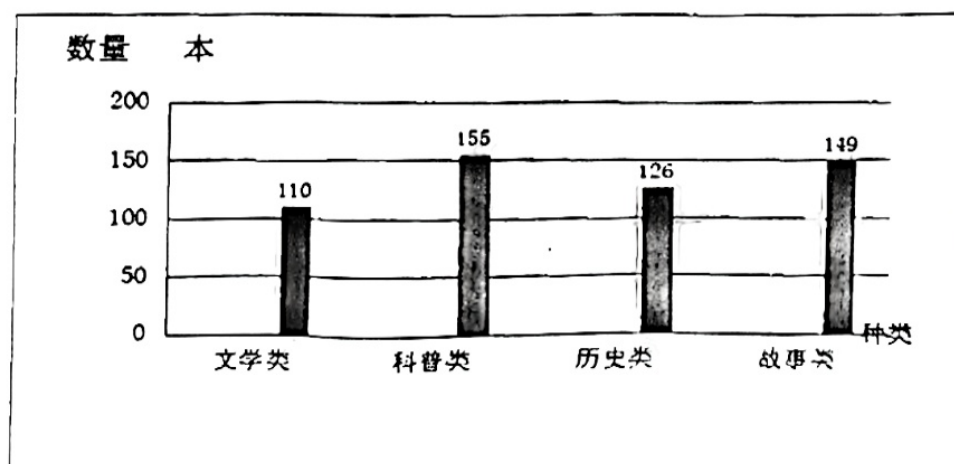
3. 王叔叔用卡车运送抗疫物资，每次运 24 吨，运 5 次后还有 32 吨没运完。这批物资共有多少吨？（5 分）

4. 万达影城和横店影城同时放映《长津湖》这部电影。（5 分）

万达影城 成人：每人 40 元 儿童：每人 20 元	横电影城 团体 10 人以上（包括 10 人） 每人 30 元
----------------------------------	---------------------------------------

如果有 7 个成人和 4 个儿童，那么到哪个影城看电影合算？

5. 实验小学图书馆上周借阅情况统计如下：



上周这四类图书平均每类借阅多少本？