

三年级数学

题 号	一	二	三	四	五	等 级
评 价						

一、我会选。

- 在除法中，0 不能做（ ）。
A. 被除数 B. 除数 C. 商 D. 差
- 下列现象中，不属于平移的是（ ）。
A. 风车的转动 B. 沿着旗杆升起的国旗
B. 火车在轨道上行驶 D. 在水平地面上移动的箱子
- 下面算式的积中，（ ）最接近 800。
A. 41×19 B. 26×30 C. 25×31 D. 38×21
- 三年级数学课本封面的面积大约是 5（ ）。
A. 平方米 B. 平方分米 C. 平方厘米 D. 平方毫米
- 一张桌子的桌面宽为 $\frac{4}{9}$ 米，长比宽多 $\frac{2}{9}$ 米，这张桌子的长是（ ）米。
A. $\frac{1}{9}$ B. $\frac{2}{9}$ C. $\frac{7}{9}$ D. $\frac{6}{9}$
- 用两根 16 米长的铁丝分别围成一个正方形和一个长方形，（ ）的面积大。
A. 正方形 B. 长方形 C. 一样大 D. 无法确定
- 至少要（ ）个相同的小正方形才能拼成一个大正方形。
A. 2 B. 4 C. 6 D. 8
- 下面的算式中，商是两位数的是（ ）。
A. $412 \div 4$ B. $714 \div 7$ C. $452 \div 6$ D. $846 \div 8$
- 下列图形中，是轴对称图形的有（ ）个。



A. 2

B. 3

C. 4

D. 5

10. 边长是()的正方形, 它的面积是1平方米。

A. 10 米

B. 1 米

C. 100 米

D. 1 分米

11. 在 $\frac{1}{5}$, $\frac{2}{3}$ 和 $\frac{4}{8}$ 三个分数中, 最大的是()。

A. $\frac{4}{8}$

B. $\frac{1}{5}$

C. $\frac{2}{3}$

D. 无法确定

12. 把3米长的绳子平均剪成4段, 每段的长度占全长的()。

A. $\frac{1}{4}$ 米

B. $\frac{1}{4}$

C. $\frac{3}{4}$ 米

D. 0.3 米

13. $5 \square 5 \div 5$, 要使商中间有0, \square 里可以填()。

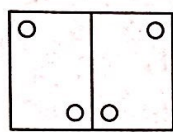
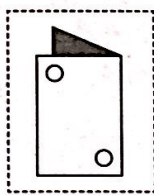
A. 4

B. 5

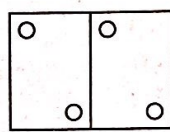
C. 6

D. 7

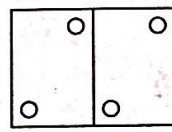
14. 如图, 把长方形纸对折后穿了几个孔, 展开后的图形是()。



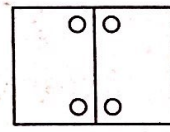
A



B



C



D


15. 如图所示, 比较图形甲和图形乙, 下列说法正确的是()。

A. 周长相等, 面积相等

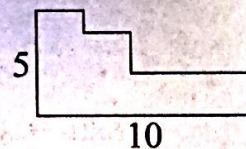
B. 周长不相等, 面积相等

C. 周长相等, 面积不相等

D. 周长和面积都不相等



甲



乙

二、我会填。

1. 在 \bigcirc 里填上“ $>$ ”“ $<$ ”或“ $=$ ”。

$$666 \div 6 \bigcirc 721 \div 7$$

$$0 \div 35 \bigcirc 0 \times 35$$

2. 6 吨 = () 千克

7000 平方厘米 = () 平方分米

3. $\frac{4}{7}$ 读作 (), $\frac{4}{7}$ 加上 () 就是 1。

4. 比 45 的 13 倍少 30 的数是 ()。

5. 已知 $\square \div 7 = 32 \cdots \triangle$, \triangle 最大能填 (), 此时 \square 里的数是 ()。

6. 做口算题: 奇思 4 分钟做对 84 道题, 妙想 5 分钟做对 95 道题, () 口算又快又准确。

7. 把边长 6 厘米的大正方形彩纸剪成边长 2 厘米的小正方形彩纸, 可以剪 () 个。

8. 笑笑在计算 26×34 时，把 34 错看成 43，这样计算的结果比正确结果多（ ）。
9. 在一张长 10 厘米、宽 8 厘米的长方形纸上，剪下一个最大的正方形，这个正方形的周长是（ ）厘米。
10. 图形按 $\square \bigcirc \bigcirc \triangle \square \bigcirc \bigcirc \triangle \square \bigcirc \bigcirc \triangle \dots$ 顺序排列下去，从左往右数，第 110 个图形是（ ）。

三、我会算。

1. 用竖式计算。

$$32 \times 56 =$$

$$804 \div 4 =$$

$$464 \div 8 =$$

2. 用递等式计算。

$$240 \div 2 \times 3$$


$$819 \div (3 \times 3)$$

$$680 - 80 \div 4$$


$$732 \div 4 + 259$$

四、我会画。

1. 把三角形向左平移 3 格。



2. 画一个面积为 24 平方厘米的长方形。
(每个小格的面积表示 1 平方厘米)



五、我会解决问题。

1. 学校图书馆购买了 840 本书，放在 6 个书架上，每个书架有 5 层，平均每一层放多少本书？

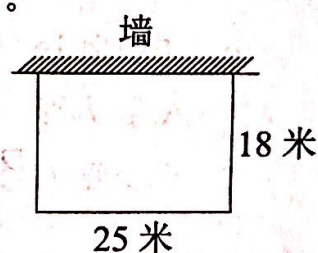
2. 下面是一张购物收据，不小心被弄脏了，请你算一算椅子每张多少元？

物品	单价	数量	总价
桌子	140 元	1 张	560 元
椅子	元	6 张	

3. 笑笑看一本故事书，第一天看了全书的 $\frac{2}{7}$ ，第二天看了全书的 $\frac{4}{7}$ ，两天一共看了全书的几分之几？还剩全书的几分之几没有看？

4. 一块长 25 米、宽 18 米的长方形菜园，它的一面靠墙（如图）。

(1) 这块菜园的面积是多少？



(2) 如果要给这块菜园围上护栏，需要多少米护栏？

5. 希望小学三年级的 8 名教师带 40 名学生去参观动物园，成人票每张 50 元，学生票是成人票的一半，买门票一共要花多少钱？