

三年数学

(时间: 60 分钟 满分: 100 分)

班级

姓名

一、填一填。(25 分)

1. 写出与千位相邻的两个数位。

.....	() 位	千位	() 位	十位	个位
-------	-------	----	-------	----	----

2. 在有余数的除法中, () 一定小于()。

3. 比一比。

$206 \div 2 \bigcirc 260 \div 2$

$60 \text{ 千克} \bigcirc 600 \text{ 克}$

$70 \times 30 \bigcirc 69 \times 31$

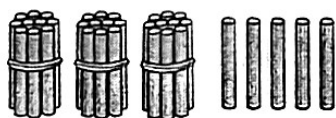
$30 \times 50 \bigcirc 50 \times 30$

$90 \text{ m}^2 \bigcirc 900 \text{ dm}^2$

$\frac{1}{9} \bigcirc \frac{1}{11}$

4. 妈妈打开冰箱门的运动是()现象。

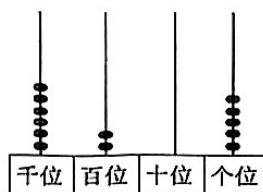
5. 写数。




()



()



()



()
()

6. 一个正方形水池的周长是24m, 它的面积是()m²。


7. 估算91×27, 可以把91看作(), 把27看作(), 结果大约是()。

8. 5dm²=()cm² 100dm²=()m² ()克=7千克 8吨=()千克

9. 加工厂的赵伯伯从早上8时到中午12时一共加工了840个环保垃圾桶, 平均每小时加工()个。

10. 看右图, 桌子上有桃、西瓜、香蕉三种水果。

小芳说: 我不喜欢吃西瓜, 琪琪说: 我不喜欢吃桃子, 兵兵说: 我喜欢吃香蕉。每人只喜欢吃一种水果, 三人不重样。小芳喜欢吃()。



二、辨一辨。(5分)

1. 把一个○分成4份,每份是 $\frac{1}{4}$ 。 ()


2. Z 轴对称。 ()

3. 一个文具盒上面的面积大约是70cm。 ()

4.
$$\begin{array}{r} 19 \\ 4 \overline{) 706} \\ \underline{4} \\ 36 \\ \underline{36} \\ 0 \end{array}$$
 ()

5. 欢欢的生日是6月9日,这个月是小月。 ()

三、选一选。(6分)

1. 把  平均分成2份,每份是多少? 正确列式是()

A. $24 \div 2$

B. 24×2

C. $42 \div 2$

D. 42×2

2.
$$\begin{array}{r} 28 \\ \times 31 \\ \hline \end{array}$$
 题中3和8相乘表示()。

A. 3个8

B. 8个3

C. 30个8

3. $294 \div 3$ 的商是()位数。

A. 两

B. 三

C. 一

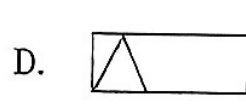
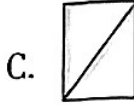
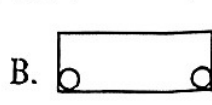
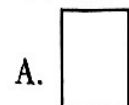
4. $\frac{5}{7} \bigcirc \frac{3}{7}$ ()。

A. <

B. >

C. =

5. 不是轴对称图形的是()。



6. 一辆卡车载重3()。

A. 吨

B. 千克

C. 克

四、算一算。(38分)

1. 直接写得数。(10分)

$45+27=$

$14 \times 5=$

$906 \div 3=$

$88 \times 0=$

$340 \div 2=$

$78-62=$

$42 \times 8=$

$7 \times 43=$

$840 \div 4=$

$50 \times 40=$

$11 \times 60=$

$7000-600=$

$65 \div 5=$

$320 \div 4=$

$17 \times 50=$

$\frac{2}{3} + \frac{1}{3} =$

$1 - \frac{1}{12} =$

$\frac{1}{7} + \frac{3}{7} =$

$\frac{9}{10} - \frac{3}{10} =$

$\frac{8}{9} - \frac{4}{9} =$

2. (4分)

$$\begin{array}{r} \text{元 角} \\ 4.5 \\ + 7.8 \\ \hline \end{array}$$

$$\begin{array}{r} \text{元 角} \\ 2.0 \\ - 1.5 \\ \hline \end{array}$$

$$\begin{array}{r} \text{元 角} \\ 10 \\ - 4.4 \\ \hline \end{array}$$

$$\begin{array}{r} \text{元 角} \\ 9.8 \\ + 0.2 \\ \hline \end{array}$$

3. (4分)

$$\begin{array}{r} 49 \\ + 526 \\ \hline \end{array}$$

$$\begin{array}{r} 408 \\ - 65 \\ \hline \end{array}$$

$$\begin{array}{r} 205 \\ \times 4 \\ \hline \end{array}$$

$$3 \overline{) 606}$$

4. 用竖式计算,带※的要验算。(8分)

$$37 \times 5 =$$

$$\text{※ } 482 \div 4 =$$

$$51 \times 51 =$$

$$40 \times 28 =$$

5. (4分) $27 \times 13 =$

×		

()

$$1 - \frac{1}{4} = \frac{(\quad)}{4} - \frac{(\quad)}{4} = \frac{(\quad)}{(\quad)}$$

6. 脱式计算(8分)

$$(306 - 249) \times 18$$

$$510 \div 3 + 632$$

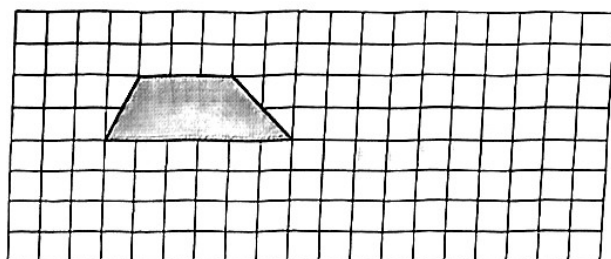
$$60 \times 13 - 395$$

$$275 \div 5 \times 59$$

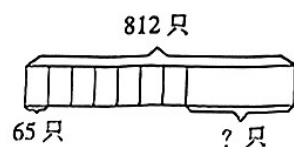
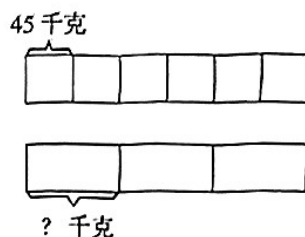
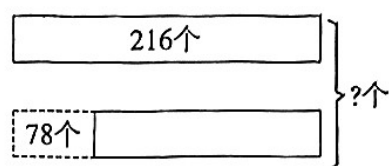
五、解决问题。(共 26 分,2 题 6 分)

1.

先向右平移4格
再向下平移3格



2. 看图列式解答。



3. 小小商店一共进了300个冰墩墩,第一天卖了98个,第二天卖了一些后,还剩136个,第二天卖了多少个?

4. 京京、小美在信封里装了一张彩纸,你能根据下面的对话,算出这张纸的面积吗?

京京

有4条边
4个直角

小美

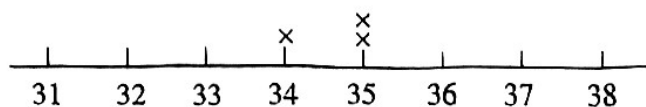
两条长边的长分别是12厘米,另外两条是短边,长边是短边长度的2倍。

5. 粮库里有72吨粮食,第一次运走了全部粮食的 $\frac{2}{9}$,第二次运走的和第一次的同样多,两次一共运走全部粮食的几分之几?

6. 学校为舞蹈队的同学统一买舞蹈鞋。

①根据表格完成下图

舞蹈鞋号						
35	32	37	35	34	32	33
37	35	35	34	36	35	36
33	35	36	35	35	35	34



②买的最多的是()号鞋,占全部的 $(\frac{\quad}{\quad})$ 。