

2022 年内蒙古通辽市八年级学业考试试卷

地 理

注意事项:

1. 本试卷共 8 页, 30 道题, 满分为 100 分, 与生物同卡不同卷, 作答时间为 120 分钟。
2. 根据网上阅卷需要, 本试卷中的所有试题均按要求在答题卡上作答, 答在本试卷上的答案无效。
3. 考试结束后, 将本试卷与答题卡分别封装一并上交。

一、选择题(本大题 25 小题, 每题 2 分, 共 50 分。每题只有一个正确答案, 请在答题卡上将代表正确答案的字母用 2B 铅笔涂黑。)

我国疆域辽阔, 自然环境多样, 文化丰富多彩。读图 1, 完成 1~2 题。

1. 下列关于我国疆域与邻国的描述, 正确的是

- A. 我国陆地面积约 960 万平方千米, 仅次于俄罗斯与美国, 居世界第三位
- B. 图中①和②是我国的内海
- C. 图中③是哈萨克斯坦
- D. 图中④是我国第二大岛海南岛

2. 图中序号⑤~⑧分别表示我国四个省级行政区, 下列说法正确的是

- A. 图中⑤省区的饮食以麻辣口味为主
- B. 图中⑥省区的民族传统节日是泼水节
- C. 图中⑦省区简称川或蜀, 与陕西省相邻
- D. 图中⑧省区是我国壮族人口最多的省区

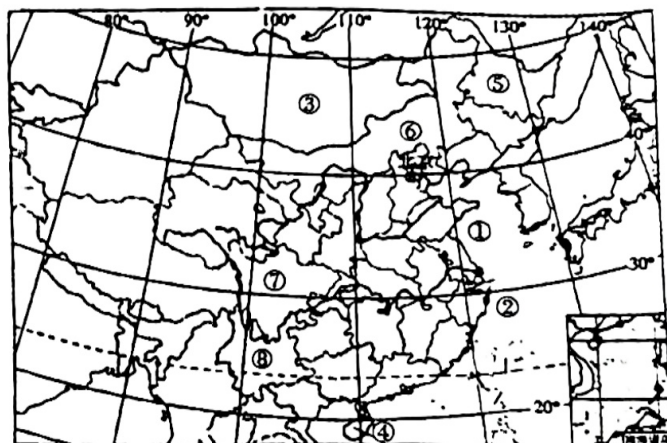


图1 中国疆域和邻国示意图

· 读图 2, 下面关于撒哈拉以南非洲特点的解读, 不正确的是

- A. 黑——黑土地分布广泛
- B. 热——绝大部分地区位于热带
- C. 高——地形以高原为主
- D. 富——矿产和生物资源丰富

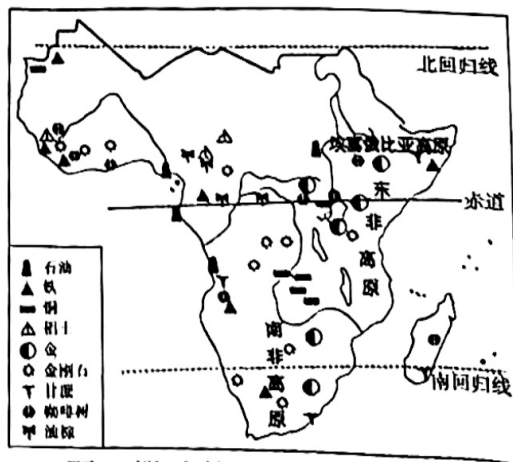


图2 撒哈拉以南非洲示意图

古诗《乡村四月》描述了这样的场景“乡村四月闲人少，才了蚕桑又插田”。结合图3和图4，完成4~5题。

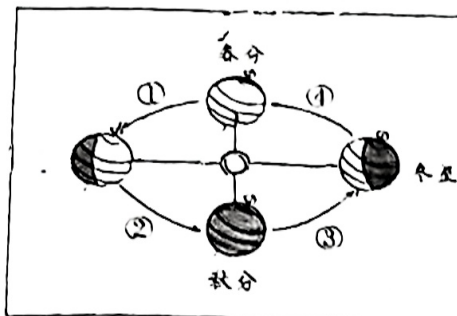


图3 地球公转示意图

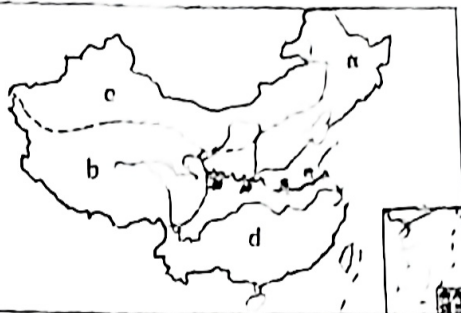


图4 我国四大地理区域示意图

4. 诗中描述的场景出现时，下列说法正确的是

- A. 图4中d地区的河流将要进入枯水期
B. 此时地球位于图3中的④段
C. 诗中描述的劳动景象多出现在图4中的b地区
D. 通辽市昼长夜短

5. 关于图4中我国四大地理区域描述不可信的是

- A. a地区降水少，屋顶坡度较小，窗户较大利于冬季获取更多阳光
B. b地区一些河谷地带适合发展青稞等为主的高寒农业
C. “早穿皮袄，午穿纱”描述的是d地区
D. a地区与d地区划分的主导因素是气候

6. 结合图5，找出说法正确的一项

- A. ①大洋是面积最大的大洋
B. ②、③大洲分界线是白令海峡
C. ④国家位于板块内部，地壳活跃，多火山地震
D. ⑤山脉是印度洋板块和亚欧板块挤压形成的

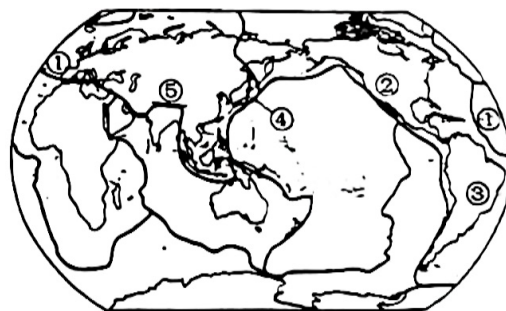


图5 六大板块示意图

7. 读图6，下列关于我国四大工业基地叙述正确的是

- ①四大工业基地都分布在沿海地区
②四大工业基地矿产丰富，交通便利
③连接京津唐工业基地和珠江三角洲工业基地的铁路线是A京广线
④沪宁杭工业基地是我国北方最大的综合性工业基地

- A. ①③
B. ②③
C. ①②
D. ③④

8. 全球使用人数最多和使用范围最广的语言分别是

- A. 汉语、英语
B. 英语、阿拉伯语
C. 阿拉伯语、汉语
D. 西班牙语、阿拉伯语

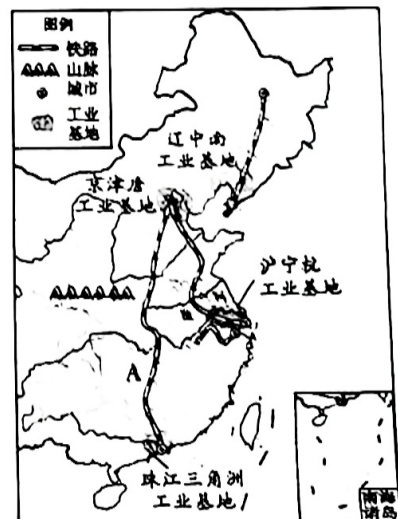


图6 中国四大工业基地示意图

9. 我们的家乡通辽市位于美丽的科尔沁草原, 风光秀美, 物产丰富, 结合图 7, 下列说法正确的是

- A. 属于温带大陆性气候
- B. 通辽市行政区划分为五旗二县一市一区
- C. 图中铁路线 A 是京通线
- D. 图中行政单位 B 是扎鲁特旗

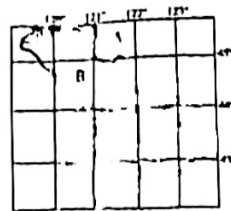


图7 通辽市地图

10. 读图 8, 关于北半球年平均气温的分布, 能够总结出的规律是

- A. 从高海拔向低海拔递减
- B. 从北向南递减
- C. 从内陆向沿海递减
- D. 从低纬度向高纬度递减

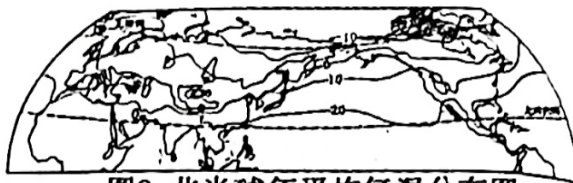


图8 北半球年平均气温分布图

11. 观察图 9 的一组漫画, 分析下列说法正确的是




图9

- A. 图①反映的现象会带来交通拥堵, 国防兵源不足等问题
- B. 为了缓解图②问题的加剧, 我们中学生能参与的行动有节约用水, 修建水库等
- C. 针对图③的现象, 我国实施了一对夫妻可以生育三个子女的政策
- D. 图④反映的现象是全球气候变暖, 是二氧化碳减少导致的

2022 年 2 月 4 ~ 20 日, 中国成功举办了第 24 届冬奥会。北京承办了冰上项目, 张家口承办了雪上项目。据此完成 12 ~ 13 题。

12. 北京举办冬奥会, 体现了北京是我国的

- A. 政治中心
- B. 文化中心
- C. 科技创新中心
- D. 经济中心

13. 北京冬奥会的成功举办, 离不开高新技术产业的助力。下面关于高新技术产业的说法, 正确的选项是

- ①我国高新技术产业起步较晚, 但发展迅猛
- ②多分布在大城市, 产品的技术复杂程度低
- ③是衡量一个国家综合国力的重要标志
- ④对资源的依赖程度较大, 废物少, 污染小

- A. ①④
- B. ①③
- C. ②③
- D. ②④

14. 读图 10, 关于两国地理特征的叙述, 正确的是

- ①两国都位于西半球, 濒临太平洋
- ②两国矿产资源丰富, 工业发达
- ③两国地势特征都是东西高、中间低
- ④美国农业实现了专业化, 图中 a 是小麦区
- ⑤澳大利亚首都堪培拉有“花园城市”之称



图 10

- A. ②③⑤ B. ①②④ C. ①②③ D. ②④⑤

15. 2022 年 4 月 16 日, 我国“神舟十三号”载人飞船经历 6 个月的太空之旅, 成功返回地球, 标志着我国航空航天事业又有了新的突破。此次返回舱着陆地选择在内蒙古自治区的东风着陆场, 不属于着陆场的有利条件是

- A. 地域辽阔, 地势较平坦
- B. 晴天多, 能见度较高
- C. 位于黑河——腾冲一线以东, 人口密度小
- D. 属于内流区, 河流、湖泊数量少

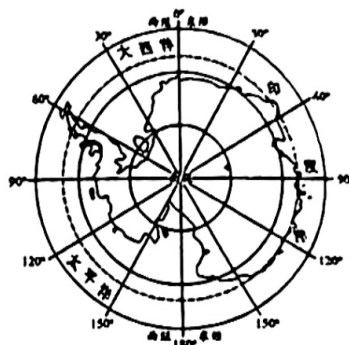


图 11 南极地区示意图

16. 读图 11, 关于南极地区描述正确的是

- A. 科学考察最佳时期为每年 6~8 月
- B. 科学考察队员会时常遇到驯鹿和北极熊
- C. 气候特征是酷寒、干燥、烈风
- D. 科学考察队员应将生活垃圾就地掩埋

中国人均资源占有量与世界平均水平比较数据表(世界平均 = 100%)

资源种类	水	林地	耕地	天然气	石油
中国人均/世界平均	25%	20%	33%	6.5%	6.1%

17. 分析上面表格中的数据, 得出的正确结论是

- A. 表中所有资源都是可再生资源
- B. 表中反映出我国自然资源人均占有量较少
- C. 我国不需要进口石油和天然气
- D. 跨流域调水能提高我国水资源人均占有量

18. 结合图 12, 下列说法正确的是

- A. 我国地形类型多样, 以山地、平原为主
- B. 图中①地区主要的农作物有水稻、花生、棉花等
- C. 图中②地区有“鱼米之乡”美称, 耕地以水田为主, 农作物两年三熟
- D. 图中③山脉是我国地势二、三阶梯分界线, 适合发展林业

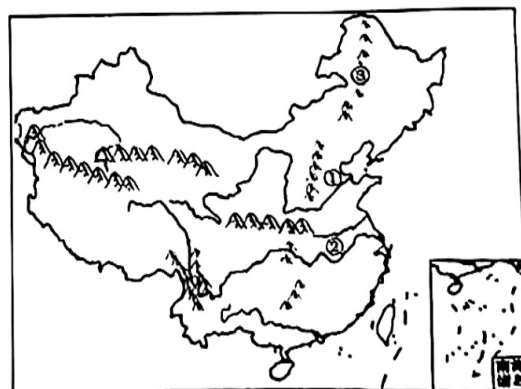


图 12 中国地形图

世界森林覆盖面积减少最严重的国家是巴西,森林的减少对该国乃至世界影响都很大。结合图 13,回答 19~20 题。

19. 下列关于巴西热带雨林的保护措施,说法正确的是

- ①设立各种形式的热带雨林保护区 ②在雨林地区开辟大型农场和牧场 ③利用卫星遥感技术,提供实时、高质量的信息 ④减少砍伐森林

- A. ①③④ B. ②③④ C. ①②④ D. ①②③

20. 下列有关巴西的说法,正确的是

- A. 该国有世界海拔最高的高原 B. 南美洲面积最大的国家
C. 经济增长主要来源于信息技术产业 D. 里约热内卢是该国最大城市



图13 巴西示意图

21. 读图 14,关于亚洲地理事物说法错误的是

- A. 亚洲地势特点是中部高,四周低
B. 亚洲的东部和南部,季风气候显著
C. 亚洲河湖众多,内流区域面积小
D. 黄色人种的故乡,西亚和南亚居民主要是白色人种

22. 香港、澳门是我国的两个特别行政区,与祖国内地有着密切的经济联系,港澳突出的优势表现在

- A. 低廉的地价 B. 金融、技术、管理等优势
C. 低廉的劳动力 D. 丰富的淡水资源



图14 亚洲示意图

23. 初中生小丽给外省的朋友介绍通辽市的旅游资源,介绍有误的一项是

- A. 奈曼旗王府 B. 珠日河牧场 C. 乌拉盖草原 D. 大青沟自然保护区

“海绵城市”就是使城市像“海绵”一样,在雨季时增强对雨水的吸收、存储、净化功能,而在干旱缺水时可将雨水“释放”出来加以利用。读图 15,完成 24~25 题。



图15

24. “海绵城市”的试点城市集中分布在

- A. 面积广大的山区 B. 年降水量在 400~800 毫米之间地区
C. 东部的季风气候区 D. 西北内陆干旱地区

25. “海绵城市”的建设将有利于缓解当地

- ①用地紧张 ②交通压力 ③雨季内涝 ④淡水不足

A. ①② B. ③④ C. ②③ D. ①④

二、综合题(本大题共5小题,除赋分题外,其余每空均1分,共50分。)

26. 某学校制定了研学方案并组织学生对山地开展活动。读图16,完成下列问题。(8分)

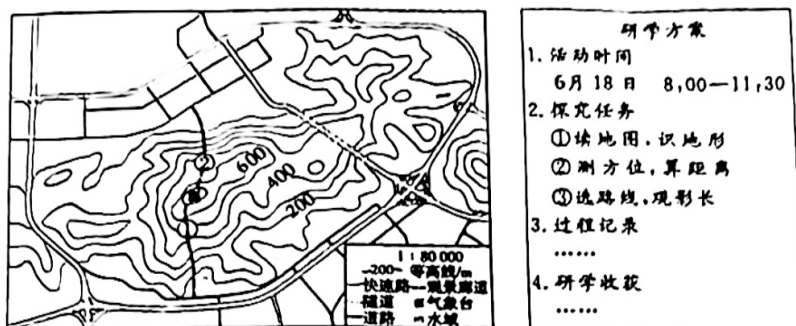


图16 山地及其周边等高线图

- (1) 气象台所在的地形部位是_____,海拔在_____~_____米之间。
- (2) 隧道的走向是_____。量得隧道图上长度为1.2厘米,则实地长度是_____千米。
- (3) 拟修建的①②两条观景廊道中,登顶更省力的廊道是_____,理由是_____。
- (4) 研学活动过程中,同学们观测到自身日影的长短变化情况是_____。

27. 北京雨燕是北京地区典型的候鸟,每年7月中下旬,它们离开北京开始迁徙,于次年4月中上旬返回北京。读图17和图18,结合所学知识,完成下列问题。(11分)

(1) 北京雨燕飞行路径跨越了_____。(单项选择,2分)

- ①东、西半球 ②南、北半球

- ③中、高纬度 ④亚、非两洲

A. ①③ B. ②④

C. ②③ D. ③④

- (2) 雨燕迁徙途中经过世界最大的半岛①_____,这里的气候相比北京更加_____(选填“凉爽”“湿润”或“干燥”),写出判断理由_____。

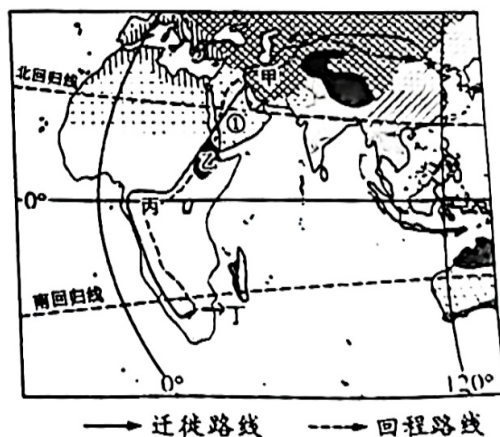


图17 世界部分地区气候图

- (3) “燕南飞”时,通辽市处于夏季,气候特点是_____.受气候等因素影响,通辽市种植面积最广的粮食作物是_____。
- (4) 雨燕返回时,图17中甲、乙、丙、丁四地的景观,可能看到的是_____(单项选择,2分)
- A. 甲地冰雪覆盖,企鹅嬉戏
- B. 乙地沙漠广布,骆驼成群
- C. 丙地降水丰富,森林茂密
- D. 丁地雪峰连绵,河湖众多

(5) 在北京进入初冬之时,雨燕到达了非洲南部的丁地(如图17)越冬,原因是此时当地的气候能够促进昆虫的大量羽化,为雨燕提供充足的食物以补充能量。请在图18的A、B、C、D四幅图中,选出与丁地气候相符合的图_____。(单项选择,2分)

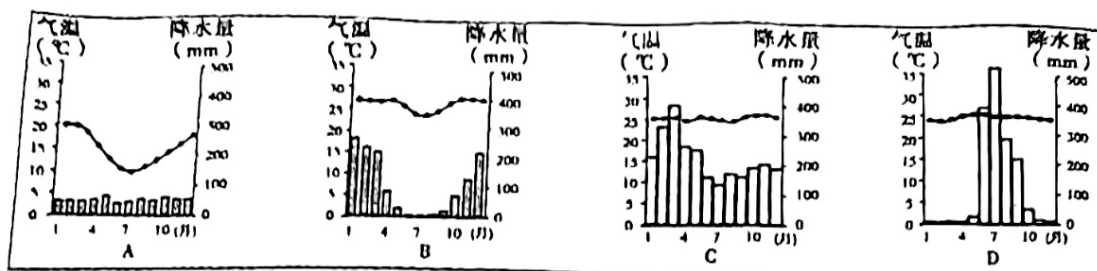


图18

28. 结合图文资料,完成下列问题。(11分)

苏伊士运河航线是世界上最繁忙的贸易路线之一。2021年3月23日,苏伊士运河因巨型货轮搁浅,航道拥堵,造成巨大经济损失,29日恢复通航。期间,中欧班列成为货运关注的焦点之一。便利的交通,加强了国家、地区之间的联系。中国某企业想在中欧班列沿线寻找企业合作伙伴,对沿线地区进行了如下考察。

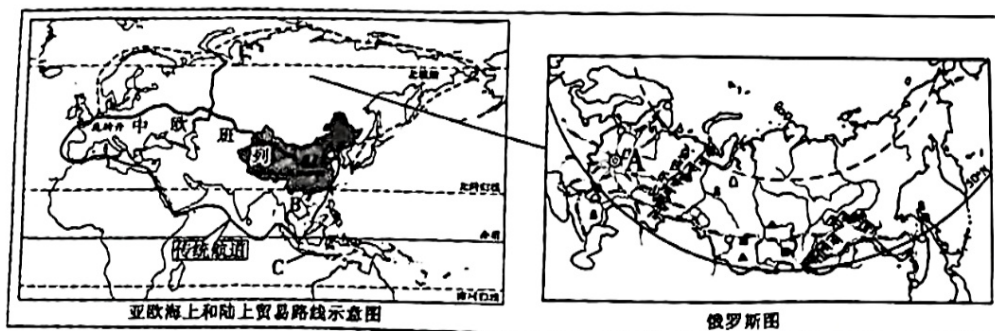


图19

(1) 第一站:考察团到达俄罗斯,发现俄罗斯有良好的工业基础,____、核工业和航空航天工业尤为突出,民用工业比较落后。以城市A____为中心的铁路网和____铁路,将全国主要城市和工业区连接在一起。乌拉尔山以东地区河流航运价值低,原因是_____。

(2) 第二站:考察团到达欧洲西部,该地区三面临水,运输方式深受海洋的影响。依靠便利的____运输,从世界各地大量进口原料、燃料,向外出口____,促进了经济的发展。

(3) 第三站:考察团告别欧洲西部,沿传统航道回国。进入苏伊士运河就来到了中东,所见所闻不可信的是_____。(单项选择,2分)

- A. 波斯湾沿岸石油资源丰富
- B. 沙特阿拉伯的麦加是佛教发祥地
- C. 位于“三洲五海之地”
- D. 阿拉伯男子喜欢穿白色长袍

(4) 第四站:继续航行在回国路上,抵达位于“十字路口”位置的____地区,位于该地区的B半岛,地势特点是____。该半岛上的____河向南注入太平洋,是亚洲流经国家最多的河流。

最后,考察团顺利回国。

29. 结合图 20 和图 21, 完成下列各题。(8 分)

(1) 黄河发源于①_____山脉北麓, 中游接纳了很多支流, 其中支流②是_____。

(2) 黄河流经③_____之后(上、中游的分界点), 进入中游。黄河中游流经水土流失严重的黄土高原。图 21 中 A、B、C、D 四组实验, 探究了黄土高原地区水土流失与坡度、土壤性质、降水、植被的关系。请同学们选出任意一组实验, 写出组别, 并说明水土流失与自然要素的关系_____。



图20 黄河流域图

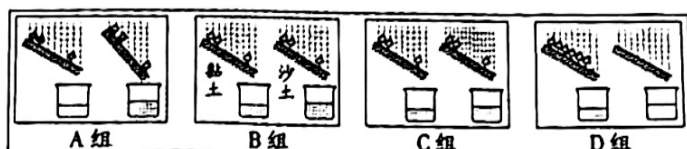


图21 探究实验

(3) 经过几十年的探索 and 治理, 黄土高原的生态环境得到改善, 黄河中下游的水文特征可能发生的变化有_____。(写出一点即可)

(4) 请写出黄河对社会经济的有利影响_____。(写出一点即可)

(5) 列举两例家乡的生态环境问题, _____, _____。

30. 读图 22, 完成下列问题。(12 分)

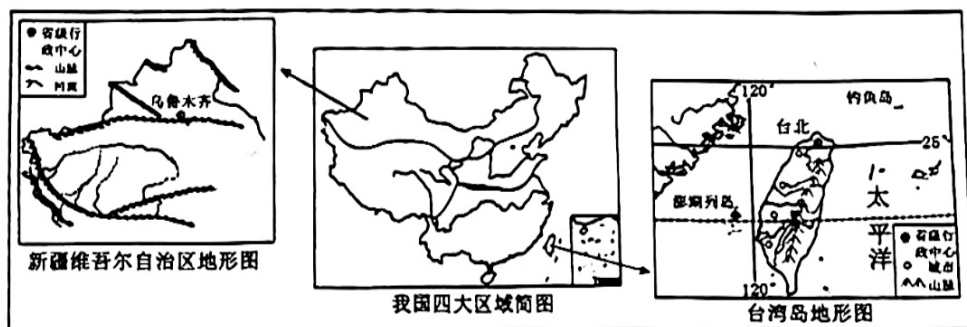


图22

(1) 据图可知, 台湾岛四面临海, 北回归线从台湾岛穿过, 因此, 台湾岛的气候特点是_____, 四季常绿, 到处呈现着迷人的热带和亚热带风光。

(2) 从地形上看, 台湾岛的西部多为_____, 东部多为山地。山地东部降水量比西部_____ (选填“多”或“少”), 主要影响因素是_____。

(3) 台湾岛人口、城市多分布在_____, 试分析自然原因_____, _____。(写出两点)

(4) 新疆维吾尔自治区地处我国四大地理区域中的西北地区, 本区典型的自然地理特征是_____。这里有我国最大的内流河_____, 河水补给主要来源于高山冰雪融水。

(5) 所谓“一方水土养育一方人”, 各地区自然环境不同, 必然会影响到人们的生产和生活。对比新疆维吾尔自治区和台湾省人们的农业生产或生活方式, 写出差异, 并说明该差异与当地自然环境的关系。(从农业部门、耕作制度、主要农作物、民居等方面对比, 对比一方面即可, 共 3 分)_____。