

2022 年河池市初中学业水平考试

地理试题卷

地理、生物合堂分卷，考试时间 120 分钟。本卷满分 60 分，分第 I 卷和第 II 卷。

注意事项：

1. 试卷分为试题卷和答题卡两部分，在本试题卷上作答无效。
2. 答题前，请认真阅读答题卡上的注意事项。
3. 考试结束后，将本试题卷和答题卡一并交回。

第 I 卷（选择题 共 30 分）

一、单项选择题（本大题有 15 小题，每小题 2 分，共 30 分。请从每小题的四个选项中，选择一个最符合题意的答案填涂在答题卡相应位置上，多选、错选或不选，该小题均不得分。）

1. 地球对我们来说有多大？下列数据能告诉我们答案的是

- A. 最大直径 12614 千米 B. 平均半径 6371 千米
C. 平均周长约 4 万千米 D. 表面积约 5.1 万平方千米

2. 七大洲各具特色。图 1 中

- ①甲是发达国家最集中的大洲 ②乙是人口自然增长率最低的大洲
③丙是人口最多的大洲 ④丁是跨经度最广的大洲

- A. ①②③ B. ①②④
C. ①③④ D. ②③④

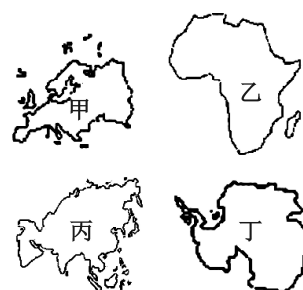


图 1

3. 气温和降水的分布具有一定的规律：

- A. 纬度越高气温越高
B. 海拔大致每升高 100 米，气温约下降 0.6°C
C. 中纬度内陆地区降水多
D. 南、北回归线两侧，大陆西岸降水多

4. 看图片（图 2）猜人物。他最有可能

- ①是白种人 ②说阿拉伯语 ③信仰基督教 ④来自发达国家
A. ①② B. ①③ C. ②③ D. ①④



图 2

5. 我们在世界地理学习中认识的国家各有不同，它们是

- ①日本——多火山、地震的岛国 ②巴西——咖啡王国
③美国——世界办公室 ④澳大利亚——世界活化石博物馆

- A. ①②③ B. ①②④ C. ①③④ D. ②③④

6. 我国大致位于 4°N — 53°N 。这意味着, 我国
- A. 全部位于北温带 B. 地跨寒、温、热三带
- C. 全部位于中、低纬度地区 D. 大部分位于北半球

7. 山脉往往成为天然的区域界线。图 3 中山脉两侧的省级行政区完全正确的是
- A. ① B. ②
- C. ③ D. ④

8. 在我国民族大家庭里, 很多民族都有自己的特色文化。图 4 中表现壮族文化的是

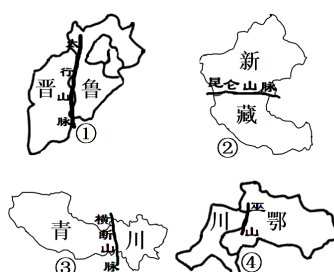


图 3



图 4

9. 红水河作为珠江的上游河段, 给流域内的发展带来的影响包括
- ①水能开发 ②水运便利 ③提供灌溉水源 ④提供大量的耕地

- A. ①②③ B. ①②④
- C. ①③④ D. ②③④

10. 图 5 中土地利用类型②应该是

- A. 以水田为主的耕地 B. 林地
- C. 以旱地为主的耕地 D. 草地

11. 从兼顾防疫和低碳方面考虑, 小韦上学最好
- A. 骑自行车 B. 坐公交车
- C. 坐出租车 D. 坐私家车

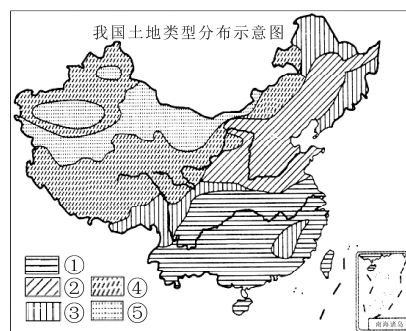


图 5

12. 乡村振兴的驻村干部可推荐河池农户种植
- A. 甘蔗、榴莲 B. 猕猴桃、苹果
- C. 贡梨、芒果 D. 龙眼、柑橘

13. 我国新冠病毒疫苗的研发生产属于
- A. 传统加工业 B. 高新技术产业
- C. 服务业 D. 传统制造业

14. 我国积极协调人地关系, 建设生态文明, 走可持续发展的道路。主要是为了应对

- ①人口老龄化 ②能源紧缺
- ③环境污染 ④生态环境恶化

- A. ①②③ B. ①②④
- C. ①③④ D. ②③④

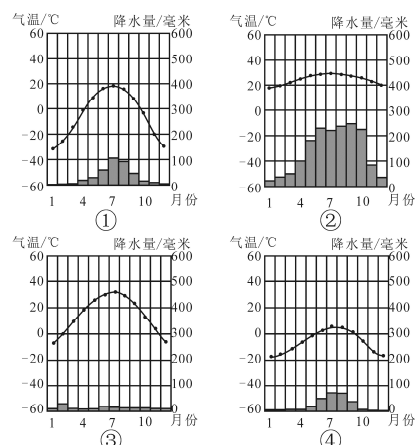


图 6

15. 我国四大地理区域气候差异显著。图 6 中最能反映西北地区气候特征的是
- A. ① B. ② C. ③ D. ④

第Ⅱ卷（非选择题 共 30 分）

二、综合题（本大题有 6 小题，共 30 分）

16. 阅读图文材料，回答问题。（5 分）

材料一：继神舟十三号载人飞船安全返回后，2022 年 6 月 5 日 10:44，神舟十四号载人飞船搭载陈冬、刘洋、蔡旭哲三位航天员在酒泉卫星发射中心成功发射。三位航天员将开展为期 6 个月的巡天之旅，中国空间站建设进入一个新阶段。

材料二：“我国四大卫星发射中心分布示意图”和“地球二分二至公转示意图”（图 7）。

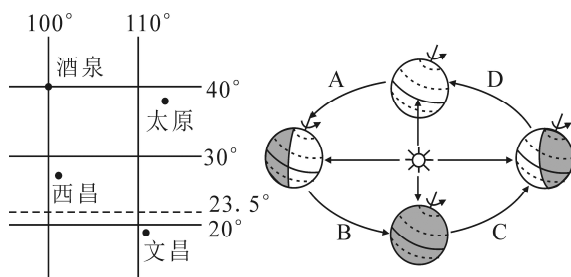


图 7

- (1) 酒泉卫星发射中心的经纬度是_____，_____。
 - (2) 三位航天员返回时，地球将处于公转轨道 ABCD 四段中的_____段。
 - (3) 在一年中，四大卫星发射中心有太阳直射的是_____发射中心。
 - (4) 太原发射中心位于酒泉发射中心的_____方向。
17. 全球变暖已经成为北极航运的“助推器”，未来航行在北冰洋上的商船数量将会迅速增加。图 8 为北极东北航道示意图，读图回答问题。（5 分）

- (1) 从北极上空看，地球作_____时针方向自转。
- (2) 国家 A 是_____，号称“_____”，该国可以通过北极航道将其石油、天然气大量出口。

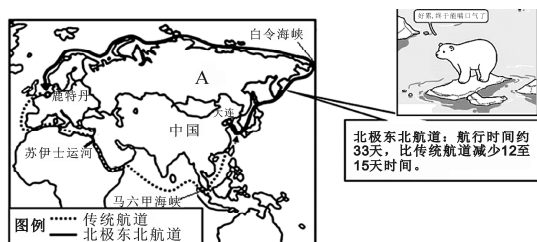


图 8

- (3) 我国进行北极科考时，走北极航道将大大_____（“增加”或“缩短”）航程。
- (4) 图中漫画反映的是全球变暖的严重后果：即极地地区的_____，引起全球海平面上升。

18. 读亚洲三大半岛示意图（图 9），回答问题。（5 分）

- (1) 甲乙丙三大半岛中面积最大的是_____半岛。
- (2) 甲半岛的石油主要分布在_____及其沿岸地区。
- (3) 乙半岛因夏季风不稳定，经常发生_____灾害。

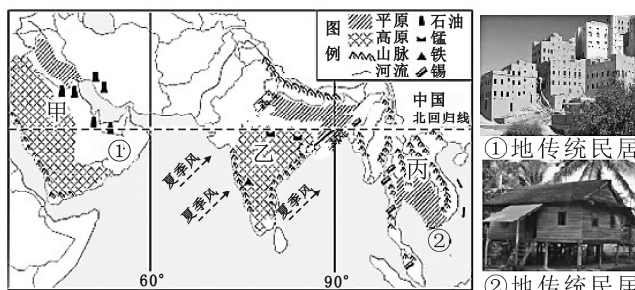


图 9

- (4) 丙半岛上与广西接壤的国家是_____。
- (5) 图中传统民居反映出①、②两地自然环境存在明显差异，这种差异主要表现在_____方面。

19. 习近平总书记在党的十九大报告中强调，要“实施区域协调发展战略”。我国在新世纪跨区域修建了著名的四大工程，目的是实现区域间相互促进、优势互补、共同发展。读中国新世纪四大工程分布图（图10），回答问题。（5分）

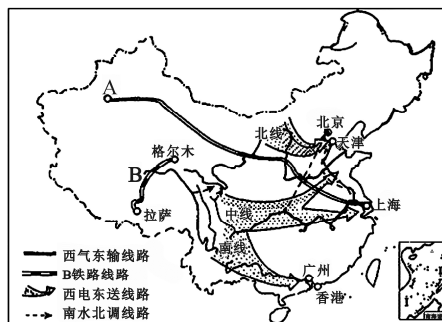


图10

- (1) 西气东输一线工程西起我国新疆的(A) _____ 油气田，东至上海。
 - (2) 南水北调工程主要是把 _____ 流域丰富的水资源调到 _____ 和西北地区。
 - (3) 西电东送南线线路的输电工程中，位于河池市境内的最大工程是 _____ 水电站。
 - (4) B 是 2006 年建成的世界上海拔最高的铁路—— _____。
20. 2022 年 2 月 4 日至 2 月 20 日，第 24 届冬季奥林匹克运动会在北京成功举行，北京也因此成为世界上唯一的“双奥”城市。本届冬奥会在北京市和张家口市两地举办，分为北京城区、延庆、张家口三个赛区。读图 11，回答问题。（5分）

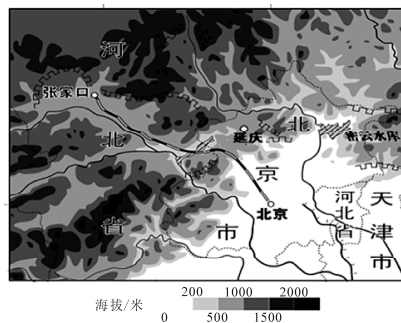


图11

- (1) 成功举办奥运会体现了北京作为我国 _____ 的城市职能。
 - (2) 据图判断，该区域的总体地势特点是 _____。
 - (3) 本届奥运会赛区位于我国重要的地理分界线 _____ 一线以北，1 月份平均气温 _____（“高于”或“低于”） 0°C ，有利于比赛进行。
 - (4) 运动员在北京可游览多个被列入《世界遗产名录》的名胜古迹，请列举其中的一处： _____。
21. 阅读资料和图 12，回答问题。（5分）

材料：“乡愁是一湾浅浅的海峡，我在这头，大陆在那头”，这一诗句抒发了台湾同胞对祖国大陆浓浓的思念。台湾是祖国神圣不可分割的领土，台湾地处中国与太平洋地区各国海上联系的重要交通枢纽。

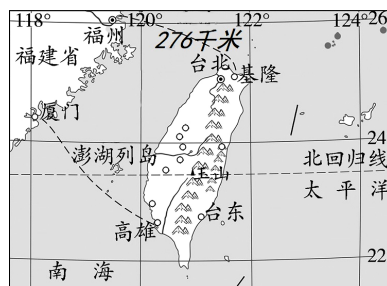


图12

- (1) 材料中“一湾浅浅的海峡”是指 _____。
- (2) 若福州到基隆的图上距离为 1.84 厘米，这幅地图的比例尺应该是 _____（用数字式表示）。
- (3) 台湾有“海上米仓”的美称，主要粮食作物是 _____，该粮食作物主要分布在台湾的 _____ 地区。
- (4) 台湾是中国的神圣领土。请从地缘、血缘、历史、文化等方面，说一说台湾与祖国大陆深厚的渊源关系： _____。（任选一个方面作答即可）