

初三道德与法治保温测试

一、单项选择题（本大题共 30 小题，每小题 3 分，共 60 分。）

1. “青年成长为有理想、敢担当、能吃苦、肯奋斗的新时代好青年，用青春的能动力和创造力激荡起民族复兴的澎湃春潮，用青春的智慧和汗水打拼出一个更加美好的中国！”习近平总书记在中国共产主义青年团成立 100 周年大会上的这句话告诉青少年

A. 前程渺茫，只能奋斗 B. 努力追梦，砥砺前行
C. 自强不息，定创佳绩 D. 珍惜青春，征服一切

2. 航天员聂海胜曾表示，作为航天员，无论职务高低、年龄大小，都需要始终坚守“天地一体、乘组一心”的信条。“天地一体”，就是乘组在天上执行任务，战友在地面轮流值班，提供技术和心理支持；“乘组一心”，就是乘组相互信任，保持默契，团结一心。这主要启示我们

A. 事业的成功离不开个人的努力 B. 弘扬集体主义精神，团结协作
C. 在集体中个人的力量微不足道 D. 个人力量在集体中会变得强大

3. 半岁时因药物导致失聪，在父母帮助下，她通过读唇语学会了“听”和“说”，并凭借不懈努力，最终成为清华大学的一名博士。生活、成长、求学的每一步都是“困难模式”，她却说，我从来没有把自己看成一个弱者，我的目标是成为一名救死扶伤的医生。“感动中国”人物江梦南的经历告诉我们

①挫折是我们事业取得成功的关键 ②自强是实现人生价值的必备品质
③成长是一个不断磨砺自己的过程 ④面对困难要善于发掘生命的力量

- A. ①②③ B. ①②④ C. ①③④ D. ②③④

4. 右侧漫画《大与小》启示我们

A. 个人无法正确认识自己
B. 要重视他人的态度和评价
C. 要学会接纳和欣赏自己
D. 要客观地认识和评价自己



5. 2022 年 5 月 6 日，全国人大常委会 2022 年度立法工

作计划今年将围绕“保障国家经济安全，完善风险防控机制”，制定粮食安全保障法、金融稳定法、能源法等。从法律的特征看，这表明

A. 法律是由国家制定或认可的 B. 任何违法行为都需要承担法律责任
C. 法律由国家强制力保证实施 D. 法律对全体成员具有约束力

6. 每年的 3 月 1 日是“世界零歧视日”，它的设立提醒我们，每个人都有权利过上充实的、自足的且有尊严的生活。零歧视需要

A. 保证每个公民的权利无差别 B. 每个公民都要履行相同的义务
C. 我们勇敢抵制不平等的行为 D. 反对特权，扩大公民政治权利

7. 国家市场监管总局、国家知识产权局以及中宣部版权局先后出台《北京 2022 年冬奥会和冬残奥会奥林匹克标志知识产权保护专项行动方案》《关于开展冬奥版权保护集中行动的通知》，对防范和打击涉冬奥知识产权盗版盗播等侵权行为进行全面部署。这表明我国政府

①从社会实际需要出发尊重创新成果 ②不断深入推进知识产权的立法工作
③深度参与全球知识产权的治理工作 ④加强保护知识产权的行政执法力度

- A. ①② B. ①④ C. ②③ D. ③④

8. 2022 年 4 月 23 日，首届全民阅读大会在北京开幕。习近平总书记发来贺信，在贺信中，总书记希望孩子们养成阅读习惯，快乐阅读，健康成长；希望全社会都参与到阅读中来，形成爱读书、读好书、善读书的浓厚氛围。对此，下列说法正确的是

①读书可以提升思维能力，使人聪慧 ②读书能够滋养心灵，点亮心中的明灯
③读书能够磨砺意志，战胜所有挫折 ④读书是促进个人全面发展的根本途径

A. ①② B. ①③ C. ②④ D. ③④

9. 新型冠状病毒肺炎的肆虐，让长春这座城市按下了暂停键。两个月的线上学习，九年级同学小鑫进入了“疲劳期”。随着中考的临近，小鑫同学压力倍增，最近出现了紧张、焦虑等心理。下列建议，有助于小鑫同学缓解学习压力的有

①顺其自然，忽视考试成绩 ②合理宣泄，积极调节情绪
③持续加压，增强学习动力 ④自我暗示，保持身体放松

- A. ①② B. ①③ C. ②④ D. ③④

10. 2022 年 1 月 7 日，国家发改委召开东北振兴工作推进会。会议强调，要持续抓好党中央、国务院关

于支持东北全面振兴一系列重要政策文件的贯彻落实。这表明我国

A. 促进区域协调发展 B. 加速城乡一体化发展
C. 推动实现同步富裕 D. 推进新型城镇化建设

11. “双减”之后，学生周末及节假日没有校外学科培训，平日

里书面作业也变少了（如右图）。此举有利于青少年

A. 拒绝冷漠，勇敢书写生命价值
B. 珍爱生命，务必做到十全十美
C. 勇于应对挫折，增强生命韧性
D. 身心健康发展，提高学习效率



12. 近年来，电子烟凭借着“健康无害”、“时尚个性”、“口味众多”等概念成为千万年轻人眼中的“潮

玩”新贵。而事实是电子烟中的尼古丁会影响青少年大脑的发育，影响青少年的注意力、情绪波动和冲动控制等，甚至可能造成多种疾病。下面是中学生小康给同龄人的建议，你同意的是

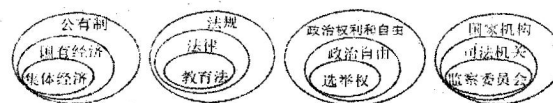
①增强辨别能力，拒绝不良诱惑 ②学会批判思维，追求独特新奇的感受
③认识毒品危害，学会自我保护 ④筑牢拒毒底线，养成健康生活的习惯

- A. ②③④ B. ①③④ C. ①②④ D. ①②③

13. 2022 年 3 月，一货车司机为逃避疫情防控检查，故意隐瞒行程后确诊。因涉嫌妨害传染病防治罪，已被公安部门立案侦查。从道德角度看，该司机的行为

A. 构成了犯罪，受到刑罚处罚 B. 违背诚信要求，缺乏责任感
C. 滥用权利，损害了公共利益 D. 公安机关依法行政严格执法

14. 厘清概念之间的关系是一个重要学习方法。下列图示关于概念之间关系理解正确的有



- A. 1 个 B. 2 个 C. 3 个 D. 4 个

15. 2022 年 5 月 8 日，新当选的香港特别行政区行政长官李家超在记者会上表示，中央将全面积极考虑特区政府的协助请求，全力支持特区政府采取一切措施遏制疫情。这表明

①中央关心人民生命健康，确保香港市民安全 ②加强和巩固民族团结是中华民族的最高利益
③政府坚持以人民为中心，关注香港疫情发展 ④国家坚持“九二共识”，推进两岸关系发展

- A. ①③ B. ②③ C. ②④ D. ③④

16. 某社区线下设立“移动居委会”，将居委会办公桌搬到社区广场，在居民楼下解决群众最关心的问题，对于腿脚不便的居民还提供入户服务；线上搭配“网上议事厅”“微提案”等平台，广泛征集群众意见建议、共商社区公共事务。如果对这些做法进行新闻报道，以下观点可以采用的有

①我国社会主义民主是维护人民根本利益最广泛、最真实、最管用的民主 ②居民委员会作为行政

机关，实行自我管理、自我教育、自我服务 ③民主决策是我国社会主义民主政治的特有形式和独特优势 ④基层群众自治制度的落实有利于人民群众直接行使民主权利

- A. ①② B. ①④ C. ②③ D. ③④

17. 2022年3月23日，全球同步直播“天宫课堂”第二课。神舟十三号乘组航天员在中国空间站展示了太空“冰雪”实验、液桥演示实验、太空抛物实验，并与“地面课堂”进行实时交流，激发了广大青少年对科学的兴趣。面对青少年开展“太空授课”，意在

- A. 启迪科学智慧，弘扬个体精神 B. 引领文明风尚，塑造健全人格
C. 发挥科技作用，推进教育改革 D. 彰显航天成就，激发爱国情感

18. 10年率先垂范，10年带头植树。2022年3月30日，习近平总书记同首都群众一起参加义务植树。挥锹铲土、培土围堰、提水浇灌……党的十八大以来，习近平总书记连续10年同群众一起参加首都义务植树。这体现了

- A. 我国生态环境形势已经发生彻底好转 B. 党和政府积极引领推进生态文明建设
C. 义务植树能解决我国面临的环境问题 D. 我国坚定不移贯彻落实协调发展理念

19. 2022年是国企改革三年行动的收官之年，中央工作会议和政府工作报告都明确要求今年完成国企改革三年行动任务。之所以重视国企改革是因为

- A. 国有经济是我国经济制度的基础 B. 我国坚持多种分配方式并存
C. 国有经济是国民经济的主导力量 D. 我国支持非公有制经济发展


20. 在乌克兰局势问题上，中方倡导共同、综合、合作、可持续的安全观，支持和鼓励一切有利于和平解决乌克兰危机的外交努力。针对中方立场，下列分析最准确的是

- A. 坚持人道主义，推动了世界多极化 B. 顺应时代潮流，国际秩序日趋合理
C. 坚持对话协商，中国贡献彰显担当 D. 维护和平环境，坚定捍卫国家利益

二、非选择题（共40分）

21. 阅读材料，回答问题。（10分）

观察下面漫画，回答下列问题。



漫画一

漫画二

(1) 漫画一体现依法治国新方针的什么要求？体现法律的什么作用？（4分）

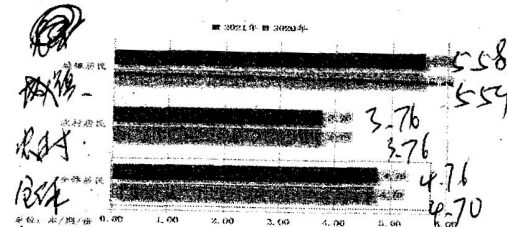
(2) 结合漫画一，对漫画二反映的现象进行简要评析。（6分）

22. 阅读材料，回答问题（14分）

材料一：2022年4月23日，首届全民阅读大会在北京开幕。当日下午，中国新闻出版研究院发布了“第十九次全国国民阅读调查”成果，该调查自1999年开展起，如一年一度的国民阅读“体检报告”，综合反映着我国国民阅读水平，下图属于此次调查成果之一。

纸质图书阅读量城乡对比

通过对我国城乡成年居民图书阅读量的考察发现，2021年，我国城镇居民纸质图书阅读量为5.58本，较2020年的5.54本多0.04本；农村居民纸质图书阅读量为3.76本，高于2020年的3.73本。



材料二：2022年2月，《中共中央国务院关于做好2022年全面推进乡村振兴重点工作的意见》，即2022年中央一号文件发布。文件指出，要扎实有序做好乡村发展、乡村建设、乡村治理重点工作，推动乡村振兴取得新进展、农业农村现代化迈出新步伐，创新农村精神文明建设有效平台载体。

(1) 结合材料一，谈谈如图所示反映了什么问题？（4分）

(2) 乡村振兴既要塑形，也要铸魂。推动乡村阅读对于促进乡村振兴有何重要意义？（6分）

(3) 在新时代推进全民阅读，乡村不能缺位、农民更不能缺席。为更好地推进乡村阅读助力乡村振兴，你有什么好的建议？（4分）

23. 阅读材料，回答问题（16分）

材料一：2022年2月，我国启动建设8个国家算力枢纽节点并规划了10个国家数据中心集群，“东数西算”工程正式启动。当前，算力已成为国民经济发展的重要基础设施和数字经济发展的核心能力之一，随着数字技术向经济社会各领域全面持续渗透，全社会对算力需求日益迫切。“东数西算”能有效缓解地区数字经济发展不平衡的问题。“东数西算”将推动数据和信息要素从东部向西部流动，提升西部地区对人才和资金的吸引力和吸纳能力，从而引领带动物流、资金流等从东部向西部流动，也能促进东部地区的互联网、大数据等企业产业链环节向西部地区延伸，激发西部数字经济活力，促进西部经济快速发展。

材料二：2022年3月，中央网信办、教育部等部门联合印发的《2022年提升全民数字素养与技能工作要点》明确，到2022年底，提升全民数字素养与技能工作取得积极进展，系统推进工作格局基本建立。《工作要点》部署了加大优质数字资源供给、促进全民终身数字学习、提高数字创新创业创造能力等8个方面重点任务。

(1) 结合材料一，谈谈我国推动数字经济均衡发展对实现中华民族伟大复兴有何积极意义？（6分）

(2) 结合材料二，你认为青少年应该怎样提升自己的数字素养？（4分）

材料三：为贯彻落实积极应对人口老龄化国家战略，国务院印发《“十四五”国家老龄事业发展和养老服务体系规划》，《规划》提出了“十四五”时期的发展目标，即养老服务供给不断扩大，老年健康支撑体系更加健全，为老年服务多业态创新融合发展，要素保障能力持续增强，社会环境更加适老宜居；并明确了养老服务床位总量、养老机构护理型床位占比等9个主要指标，推动全社会积极应对人口老龄化格局初步形成，老年人获得感、幸福感、安全感显著提升。

(3) 结合材料三，谈谈国家出台《规划》的重要意义？