

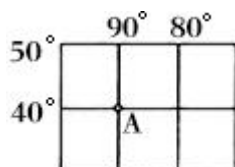
2022 年辽宁省鞍山市中考地理试卷

一、单项选择题（将正确答案选项前的字母涂在答题卡上，每小题 6 分，共 60 分）

读图，完成 1~3 题。



1. 图中北京、东京、雅加达、悉尼四个地点中，所在纬线圈最长的是（ ）
A. 北京 B. 东京 C. 雅加达 D. 悉尼
2. 如图所示，此时北京所处的节气是（ ）
A. 春分 B. 夏至 C. 秋分 D. 冬至
3. 悉尼在五带中的（ ）
A. 南温带 B. 北温带 C. 热带 D. 南寒带
4. 如图中 A 点的经纬度位置是（ ）

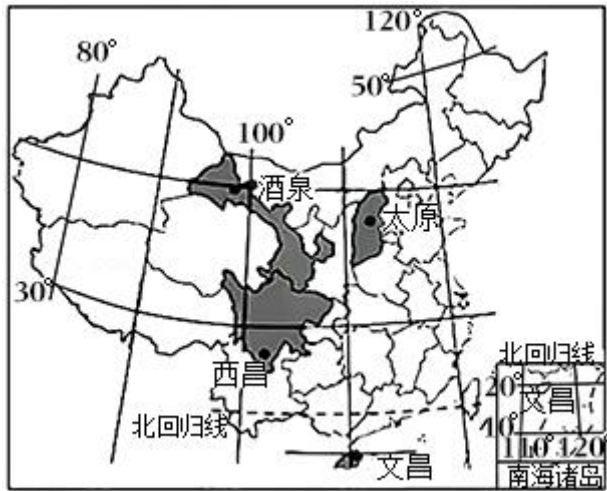


- A. B.
 - C. D.
5. 地图的种类很多，想要知道鞍山有哪些旅游景区，需要选择的地图是（ ）
A. 中国政区图 B. 鞍山市旅游图
C. 辽宁省地形图 D. 中国气候图
 6. 喜马拉雅山脉的成因是（ ）
A. 板块张裂 B. 板块碰撞 C. 填海造陆 D. 火山喷发

读四种气温曲线和降水量柱状图，完成 7~8 题。

- A. 韩国 B. 缅甸 C. 印度 D. 蒙古

读中国四大卫星发射中心分布图，回答 14~16 题。



14. 太原所在省级行政区的名称和简称分别是 ()
- A. 安徽省，皖 B. 山西省，晋 C. 湖北省，鄂 D. 海南省，琼
15. 四大卫星发射中心所在地中，年降水量最少的是 ()
- A. 酒泉 B. 西昌 C. 文昌 D. 太原
16. 四大卫星发射中心所在地中，气候终年炎热的是 ()
- A. 酒泉 B. 西昌 C. 文昌 D. 太原
17. 在我们伟大祖国辽阔的土地上，共同生活着 56 个民族，组成了统一和谐的中华民族大家庭，其中少数民族主要分布在 ()
- A. 西南、西北和东北地区 B. 西南、东南和东北地区
- C. 西北、西南和东南地区 D. 东南、东北和西北地区
18. 下列位于我国第二级阶梯的地形区是 ()
- A. 华北平原 B. 黄土高原 C. 东南丘陵 D. 柴达木盆地
19. 夏季我国大部分地区普遍高温，只有青藏高原等少数地区，气温相对较低，主要影响因素是 ()
- A. 纬度位置 B. 地形因素 C. 海陆位置 D. 人类活动
20. 我国土地的基本国策是 ()
- A. 围湖造田
- B. 营造防护林，防治土地沙化、盐碱化
- C. 退耕还林
- D. 十分珍惜、合理利用土地和切实保护耕地

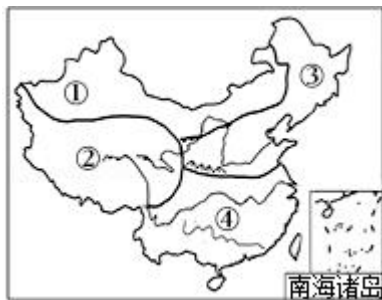
21. 下列科学家在各自研究领域都取得了卓越成就，其中被誉为“杂交水稻之父”的是()

- A. 竺可桢 B. 胡焕庸 C. 李四光 D. 袁隆平

22. 神舟十三号载人飞行任务取得圆满成功，体现了我国在高新技术领域取得突破性进展，这主要依靠()

- A. 丰富的自然资源 B. 广阔的消费市场
C. 科学技术的进步 D. 优美的自然环境

读图，完成 23~24 题。



23. 高原山地气候主要分布的地理区域是()

- A. ① B. ② C. ③ D. ④

24. 下列描述符合③地区景观的是()

- A. 树木常绿，山清水秀，河湖密布
B. 高原坦荡，盆地宽阔，气候干旱
C. 北国风光，千里冰封，万里雪飘
D. 地高天寒，雪山连绵，湖泊星罗

25. 在春秋季节，容易引发我国东北地区低温冻害的是()

- A. 寒潮 B. 台风 C. 洪涝 D. 春旱

26. 我国机械化程度最高、提供商品粮最多的粮食生产基地是()

- A. 河套平原 B. 华北平原 C. 东北平原 D. 成都平原

27. 长江三角洲地区城市之间“同城效应”的实现主要借助于()

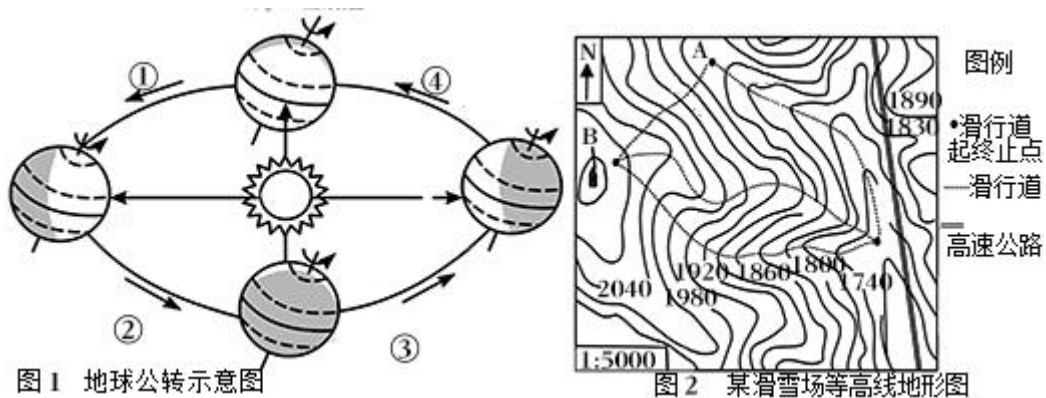
- A. 优越的地理位置
B. 发达的高速铁路和高速公路
C. 信息技术的应用
D. 秀美的湖光山色和名胜古迹

28. 香港与祖国内地的经济合作优势互补，改革开放初期祖国内地具备的优势是()

- A. 劳动力众多 B. 先进的管理 C. 先进的技术 D. 雄厚的资金
29. 台湾树种丰富，其中特有的树种是（ ）
- A. 桉树 B. 红桧 C. 樟树 D. 胡杨
30. 三江源地区位于我国青海省南部，是长江、黄河、澜沧江发源地，被誉为（ ）
- A. “黄金水道” B. “水能宝库” C. “植物王国” D. “中华水塔”

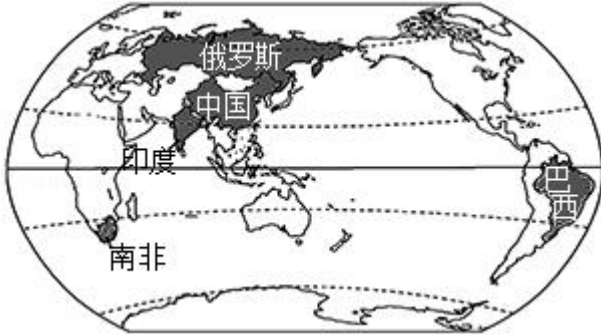
二、综合题（5道小题，每空1分，共40分）

31. 第24届冬奥会于2022年2月4日至20日在北京和张家口联合举行。读图1和图2，回答下列问题。



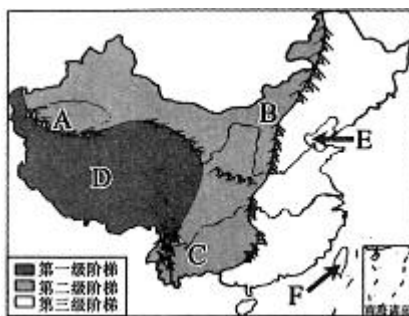
- (1) 读图1，北京冬奥会举行期间地球位于公转轨道的 _____（填序号）段，此时北京的白昼时间逐渐变 _____（填长或短），太阳直射点向 _____（填南回归线或赤道）移动。
- (2) 北京冬奥会于北京时间2022年2月4日晚上开幕，而远在美国的小海则需要当地时间上午同步收看直播，产生这种时间差异的原因是 _____（填地球自转或地球公转），冬奥会举行期间南半球澳大利亚的季节是 _____。
- (3) 图2中，该滑雪场所在地区的地形类型主要是 _____；B是山体部位中的 _____。
- (4) 图2中，A地在B地的 _____方向。
32. “金砖国家”包括巴西、俄罗斯、印度、中国、南非五个国家。读“金砖国家”示意图，回答下列问题。
- (1) “金砖国家”中，中国是世界 _____（填人口或民族）最多的国家，俄罗斯是世界最大的能源出口国之一，被称为“_____”，巴西有世界流域面积最广、水量最大的河流是 _____，印度是 _____（填东南亚或南亚）面积最大的国家。
- (2) 中国和印度都是亚洲国家，两国主要的粮食作物是 _____和小麦，两国受季风影响，降水不稳定，容易发生 _____灾害，影响农业生产。

- (3) 南非地处撒哈拉以南非洲，撒哈拉以南非洲是 _____ 种人的故乡。
- (4) 根据发展水平划分，巴西是 _____（填发达或发展中）国家；北美洲有世界上最发达的工业国家是 _____。

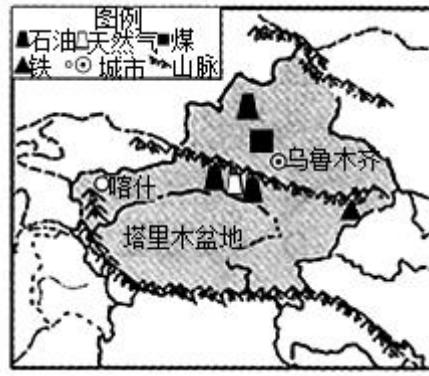


33. 读中国地势三级阶梯分布示意图，回答下列问题。

- (1) 我国地势第一级阶梯和第二级阶梯的分界线是 A _____ 山脉—祁连山脉—横断山脉。
- (2) “天苍苍，野茫茫，风吹草低见牛羊” 常用来形容 B _____ 高原，该地区的主要少数民族是 _____ 族。
- (3) C 地区是 _____ 高原。D 地区具有独特的高寒气候，能适应高寒、缺氧、低气压等特殊高原环境的牲畜有 _____、藏绵羊、藏山羊。
- (4) 长江中下游平原地势低平，耕地以 _____（填旱地或水田）为主。
- (5) 我国大陆濒临的海洋中，属于内海的 E 是 _____ 海。
- (6) 我国面积最大的岛屿 F 是 _____ 岛。



34. 读黄土高原略图和新疆略图，回答下列问题。



(1) 黄土高原东起太行山脉，西至乌鞘岭，北以长城为界，南抵 A _____ (填山脉名称)。黄土土质疏松，极易遭受流水的侵蚀，使得黄土高原形成 _____、塬、峁、川等地貌景观。

(2) 塔里木盆地位于我国新疆南部，是我国面积 _____ 的盆地。这里蕴藏着丰富的油气资源，通过 _____ 工程将天然气输送到我国东部地区。

(3) 环境问题是人类面临的共同问题，黄土高原最主要的生态环境问题是 _____ 严重，当地人采取的 _____ 措施与工程措施相结合的方法，可以起到保持水土的作用。

35. 读我国区域发展战略示意图，回答下列问题。

(1) 京津冀协同发展规划区中，北京是全国最大的 _____ 交通枢纽和国际航空港，这里有我国首个国家级高新技术产业开发区—_____。

(2) 图中阴影部分为国家发展规划区，其中地处东部沿海与长江流域结合部的是规划区，这里形成了我国最大的城市群—长江三角洲城市群，城市群核心城市的简称是 _____。

(3) 粤港澳大湾区中，香港和澳门依托祖国内地强有力的支持，在国内外的影响力越来越大，被誉为“_____”(填东方明珠或鱼米之乡)。

(4) 成渝双城经济圈位于长江的 _____ (填上游或中游或下游) 河段。“成渝”双城分别指的是 _____ 市和重庆市。

(5) 我国四大工业基地中，_____工业基地位于京津冀协同发展规划区，长江三角洲工业基地位于长三角一体化规划区，两个工业基地通过 _____ 铁路线相连接。

