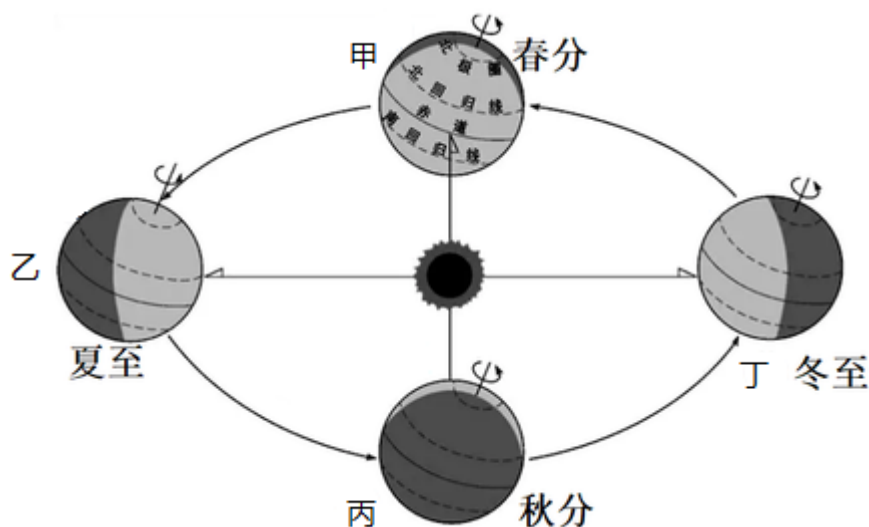


第一章 地球运动与海陆分布 测试题

一、选择题：每小题 2 分，共 60 分。

2022 年 6 月 5 日、中国神舟十四号载人飞船在酒泉卫星发射基地成功发射。下图为地球公转示意图。

据此完成下面小题。



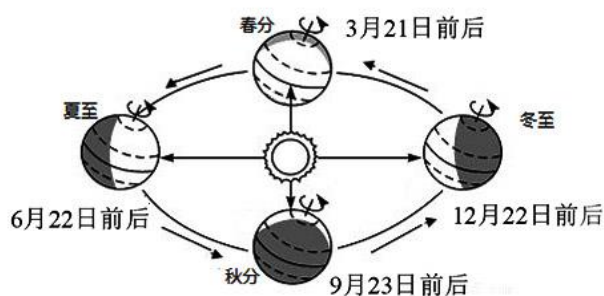
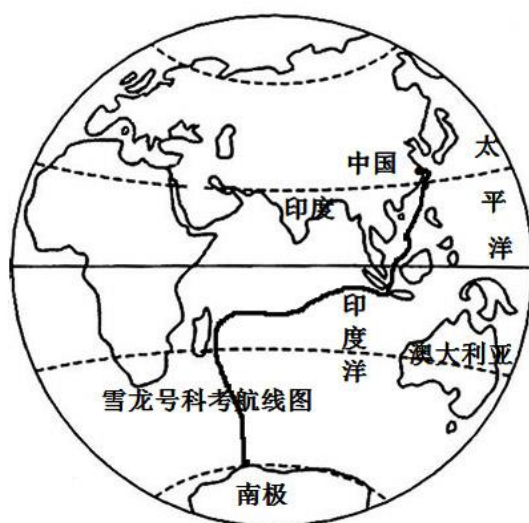
1. 神舟十四号载人飞船成功发射时，地球运转位置处于公转示意图中的之间。（ ）

- A. 甲—乙 B. 乙—丙 C. 丙—丁 D. 丁—甲

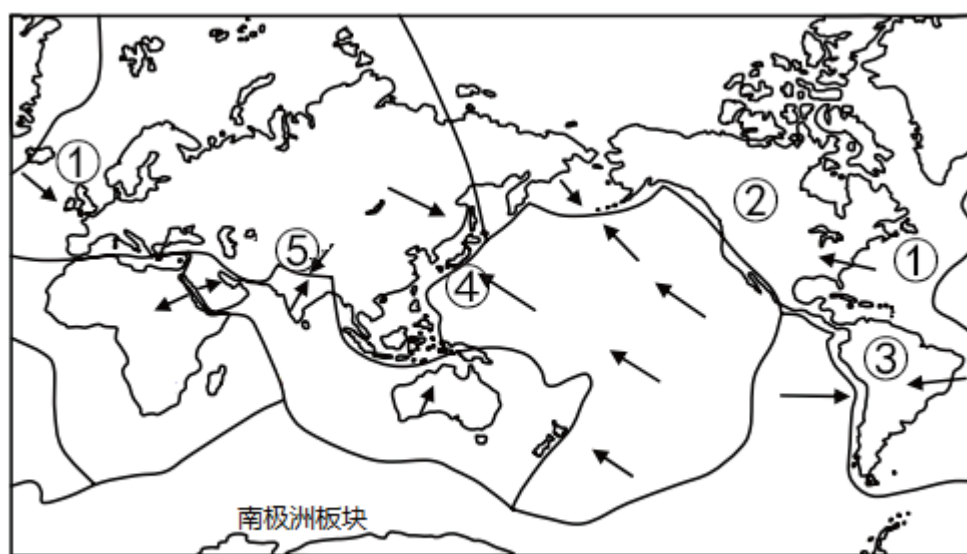
2. 神舟十四号载人飞船成功发射当天，广东省昼夜长短情况是（ ）

- A. 极昼 B. 昼长夜短 C. 昼夜平分 D. 昼短夜长

2021 年 11 月 5 日，中国第 38 次南极科学考察队乘坐雪龙号从上海出发，前往南极中山站等地执行科学考察任务，于 11 月 22 日到达中途补给点毛里求斯路易港，预计 2022 年 4 月返回国内。读“雪龙号科考航线图”，完成下列小题。



3. 本次前往南极过程中, 雪龙号的航线依次经过什么大洋 ()
- A. 太平洋、北冰洋 B. 大西洋、印度洋 C. 太平洋、大西洋 D. 太平洋、印度洋
4. 雪龙号出发当天, 中国上海 ()
- A. 昼长夜短 B. 昼短夜长 C. 昼夜等长 D. 出现极昼
5. 结合图, 找出说法正确的一项 ()

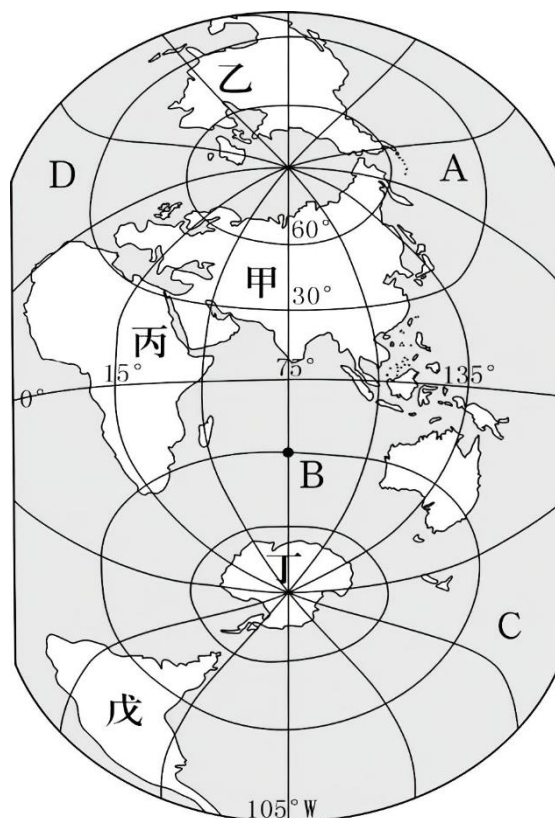


图例 ——— 板块边界 ———> 板块运动方向

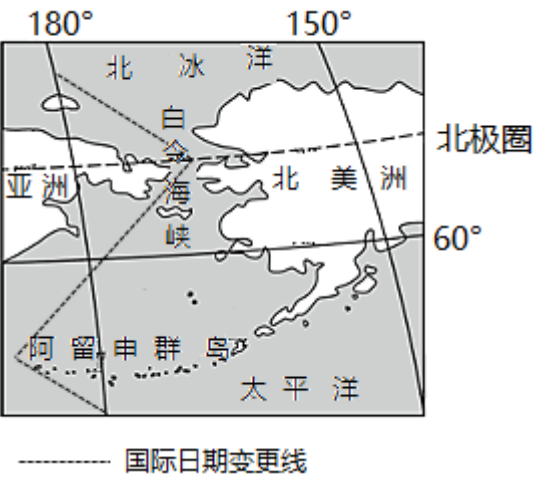
- A. ①大洋是面积最大的大洋
- B. ②、③大洲分界线是白令海峡
- C. ④国家位于板块内部, 地壳活跃, 多火山地震
- D. ⑤山脉是印度洋板块和亚欧板块挤压形成的

读“竖版地图”, 完成下面小题。

6. 图中甲、丙两大洲的分界线是 ()
- A. 马六甲海峡 B. 苏伊士运河
- C. 巴拿马运河 D. 土耳其海峡
7. 下列说法, 判断正确的是 ()
- A. 甲所在大洲跨纬度最广
- B. 乙所在大洲经济最落后
- C. 丙所在大洲终年寒冷
- D. 丁所在大洲终年炎热



图为白令海峡周围区域图，读图完成下面小题。



8. 白令海峡沟通的海洋是（ ）
- A. 太平洋和大西洋 B. 北冰洋和太平洋
- C. 大西洋和北冰洋 D. 印度洋和大西洋
9. 关于白令海峡的地理意义，以下说法不正确的是（ ）
- A. 东西半球的分界线 B. 美国和俄罗斯的国界线
- C. 亚洲和北美洲的分界线 D. 国际日期变更线
10. 自西向东越过白令海峡，日期需要（ ）
- A. 加上一天 B. 减去一天 C. 减一个月 D. 加一个月
11. 白令海峡航运价值不大的主要原因是（ ）
- A. 海底多火山和地震 B. 气候变暖，海洋浮冰多
- C. 水道较浅，通航能力小 D. 结冰期长，通航时间短

读下图，完成下面小题。

12. 根据大陆漂移说的内容，乙大洋的面积在不断（ ）
- A. 扩大 B. 缩小
- C. 不变 D. 先变大后变小
13. 下列事例不能证明地球表面海陆处在不断运动和变化之中的是（ ）
- A. 青藏高原上发现海洋生物的化石
- B. 台湾海峡海底发现森林遗迹和古河道
- C. 日本冲绳岛涨潮淹没，退潮露出



D. 冰雪覆盖的南极洲发现了万顷煤田

14. 宋朝哲学家朱熹《朱子语类》中写到：“常见高山有螺蚌壳，或生石中，此石乃旧日之土，螺蚌即水中之物，下者却变而为高，柔者变而为刚”。材料中反映的现象是（ ）

- A. 地质灾害 B. 火山喷发 C. 海陆变迁 D. 大陆漂移

2022 年 3 月 22 日第三十届“世界水日”的主题为“珍惜地下水，珍视隐藏的资源”，完成下面小题。

15. 过量开采地下水会造成（ ）

①地表塌陷，地面沉降②地下水质恶化③火山喷发④海水倒灌

- A. ①②③ B. ②③④ C. ①③④ D. ①②④

16. 下列做法能有效缓解水资源短缺问题，并且符合可持续发展原则的是（ ）

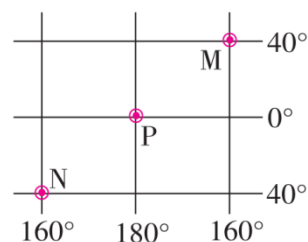
①推广喷灌、滴灌技术②生活、工业污水直接灌溉农田

③生活用水一水多用④推广节水器具

- A. ①②③ B. ②③④ C. ①③④ D. ①②④

17. 对图中三地的叙述，正确的是（ ）

- A. 从 M 地一直向北，可以回到原地
B. N 地无极昼极夜现象，P 地位于西半球
C. 当太阳直射在 P 地所在的纬线时，M 地的节气是春分
D. 当太阳直射在 P 地所在的纬线时，N 地昼短夜长



在学习了地球运动的相关知识后，同学们用灯泡和地球仪演示地球运动（如下图）。据此，完成下面小题。



18. 该实验能够直观演示的地理现象是（ ）

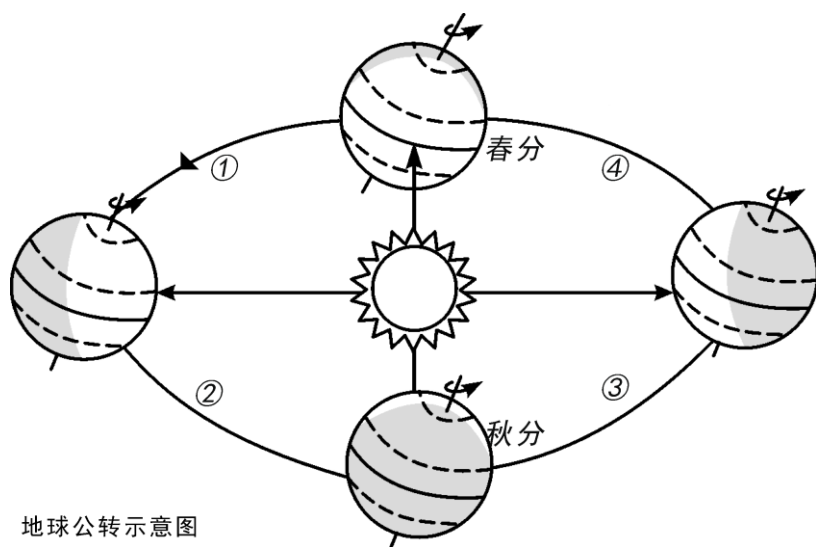
- A. 昼夜的更替 B. 四季的更替 C. 昼夜长短的变化 D. 太阳直射点的回归运动

19. 地球自转的方向、周期分别是（ ）

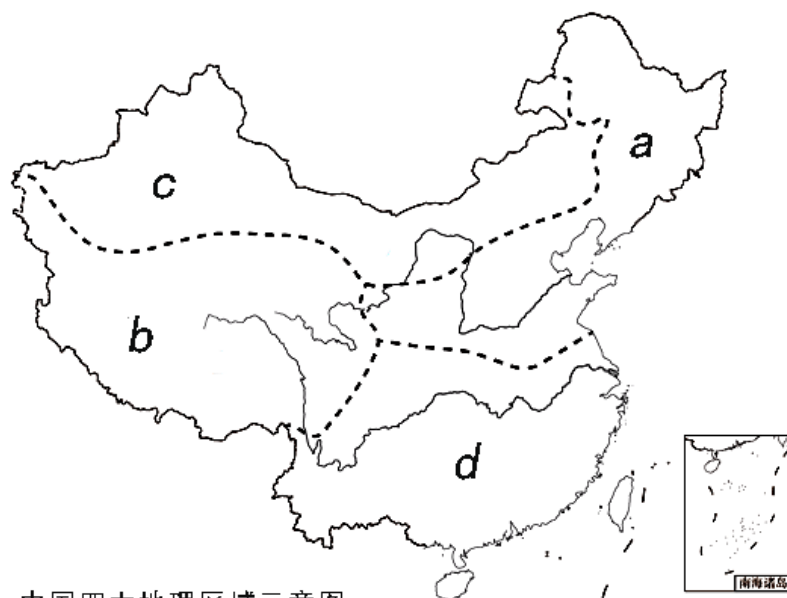
- A. 自东向西、一天 B. 自西向东、一天 C. 自东向西、一年 D. 自西向东、一年

古诗《乡村四月》描述了这样的场景“乡村四月闲人少，才了蚕桑又插田”。结合图，完成下面小

题。



地球公转示意图



中国四大地理区域示意图

20. 诗中描述的场景出现时，下列说法正确的是（ ）

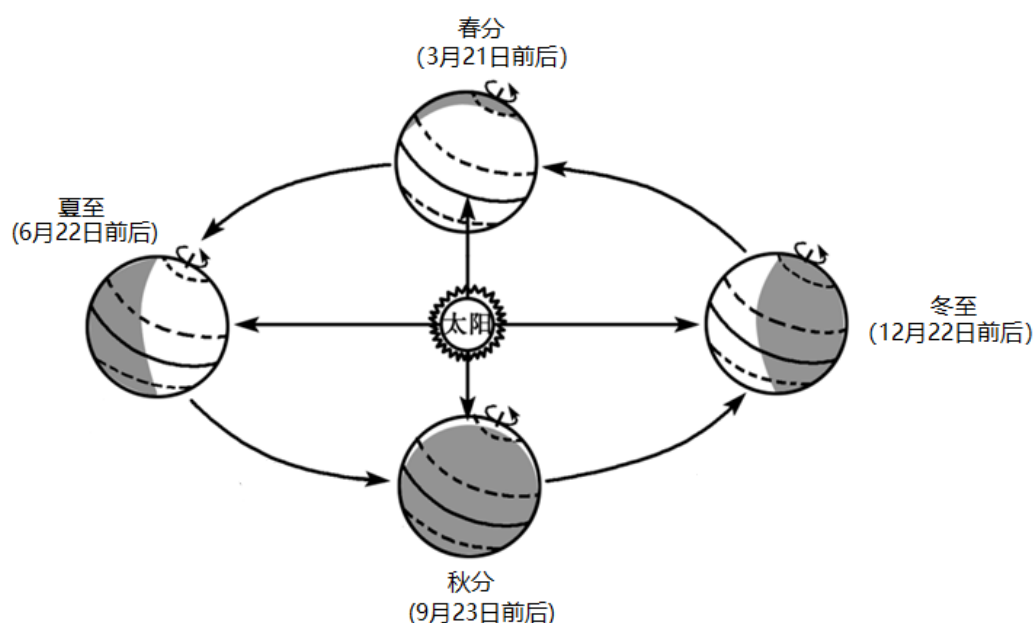
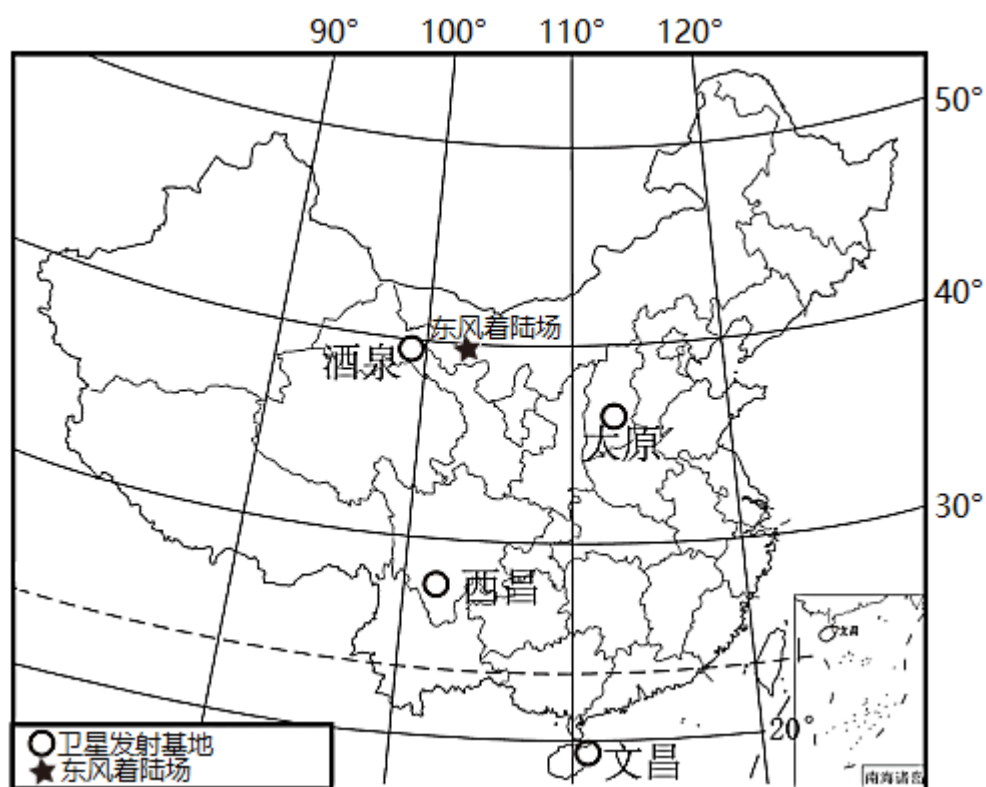
- A. 右图中 d 地区的河流将要进入枯水期
- B. 此时地球位于左图中的④段
- C. 诗中描述的劳动景象多出现在图 4 中的 b 地区
- D. 通辽市昼长夜短

21. 关于右图中我国四大地理区域描述不可信的是（ ）

- A. a 地区降水少，屋顶坡度较小，窗户较大利于冬季获取更多阳光
- B. b 地区一些河谷地带适合发展青稞等为主的高寒农业

- C. “早穿皮袄，午穿纱”描述的是 d 地区
- D. a 地区与 d 地区划分的主导因素是气候

“摘星星的妈妈”回来了！北京时间 2022 年 4 月 16 日 09 时 56 分，神州十三号载人飞船返回舱在东风着陆场成功着陆。航天员翟志刚、王亚平、叶光富圆满完成为期 6 个月的太空飞行任务，成功返航。读图左中国四大卫星发射中心和东风卫星回收场分布图、图右地球公转示意图，完成问题。



22. 神州十三号载人飞船返回舱着陆当天，下列相关地理现象的说法正确的是（ ）

- A. 四大卫星发射基地均昼短夜长
- B. 文昌白昼时间最长
- C. 地球正公转到冬至和春分之间
- D. 酒泉正午太阳高度角最小

23. 以下关于四大卫星发射基地与所在的省区名称及其简称对应错误的是（ ）

- A. 酒泉—甘肃—甘
- B. 太原—山西—秦
- C. 西昌—四川—蜀
- D. 文昌—海南—琼

24. 某地理兴趣小组为四大卫星发射基地建立了如下地理信息资料卡，表示酒泉卫星发射基地的是（ ）

| | |
|--|-------------------------------|
| ①号基地 年降水量：125 毫米 气温年较差：30.7℃ | ②号基地 温度带：暖温带 矿产资源：煤炭丰富 |
| ③号基地 1 月平均气温：9.4℃ 7 月平均气温：22.9℃ 所处地区：长江流域 | ④号基地 干湿地区：湿润区 作物热制：一年三熟 |

- A. ①号
- B. ②号
- C. ③号
- D. ④号

25. 东风着陆场位于内蒙古阿拉善盟额济纳旗境内，面积约 2000 多平方公里，是内蒙古四王子旗着陆场的 10 倍。东南部紧挨着巴丹吉林沙漠，共分为东、西两个区域。关于返回舱选择在东风着陆场着陆的原因，以下说法不正确的是（ ）

- A. 人口稀少，回收安全
- B. 靠近酒泉卫星发射中心，有效降低搜救成本
- C. 地域辽阔，返回舱可选择的落点多
- D. 公路、铁路网密集，交通四通八达

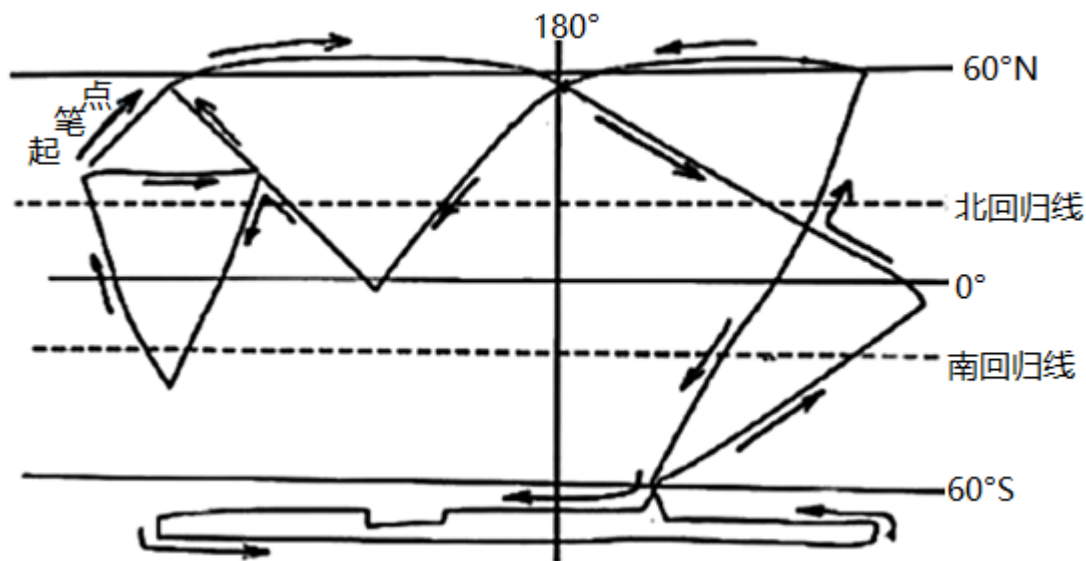
26. 七大洲中，面积最大的大洲和纬度最高的大洲分别是（ ）

- A. 亚洲、大洋洲
- B. 非洲、亚洲
- C. 亚洲、欧洲
- D. 亚洲、南极洲

27. 位于北冰洋和太平洋、亚洲和北美洲之间的唯一通道是（ ）

- A. 苏伊士运河
- B. 白令海峡
- C. 土耳其海峡
- D. 里海

某校同学通过“一笔画世界”活动学习世界的海陆分布。下图为“小顺同学的作品”，读图完成下面小题。



28. 从小顺同学的作品中，可以读出（ ）

- A. 南美洲完全位于南半球 B. 南极洲处于中纬度
C. 赤道横穿了非洲的中部 D. 亚洲所跨经度最大

29. 在小顺同学的作品中，没有画出的是（ ）

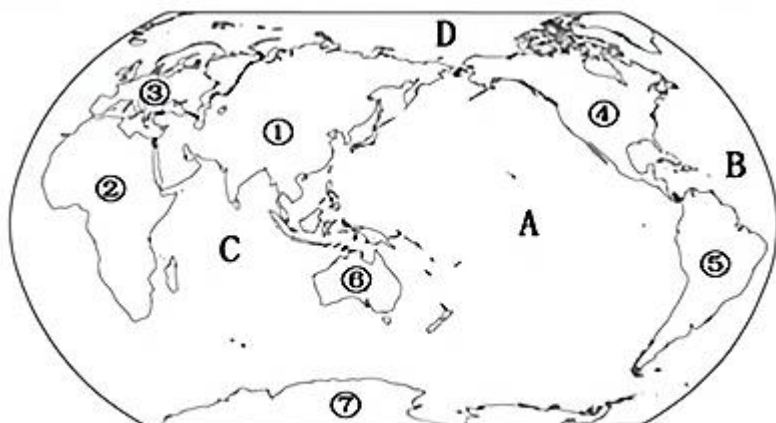
- A. 大洋洲 B. 欧洲 C. 南极洲 D. 非洲

30. 自 27 届至 31 届夏季奥运会分别在悉尼、雅典、北京、伦敦、里约热内卢举办，那说明以下哪个大洲在此期间没有举办夏季奥运会（ ）

- A. 欧洲 B. 亚洲 C. 非洲 D. 大洋洲

二、综合题：每题各 20 分，共 40 分。

31. 读东西半球图完成下列问题。



世界七大洲和四大洋分布图

(1) 写出图中字母所表示的大洋名称 A____，B____，C____，D____。

(2) 写出图中数字所表示的大洲名称①____，②____，③____，④____，⑤____，⑥____，⑦____。

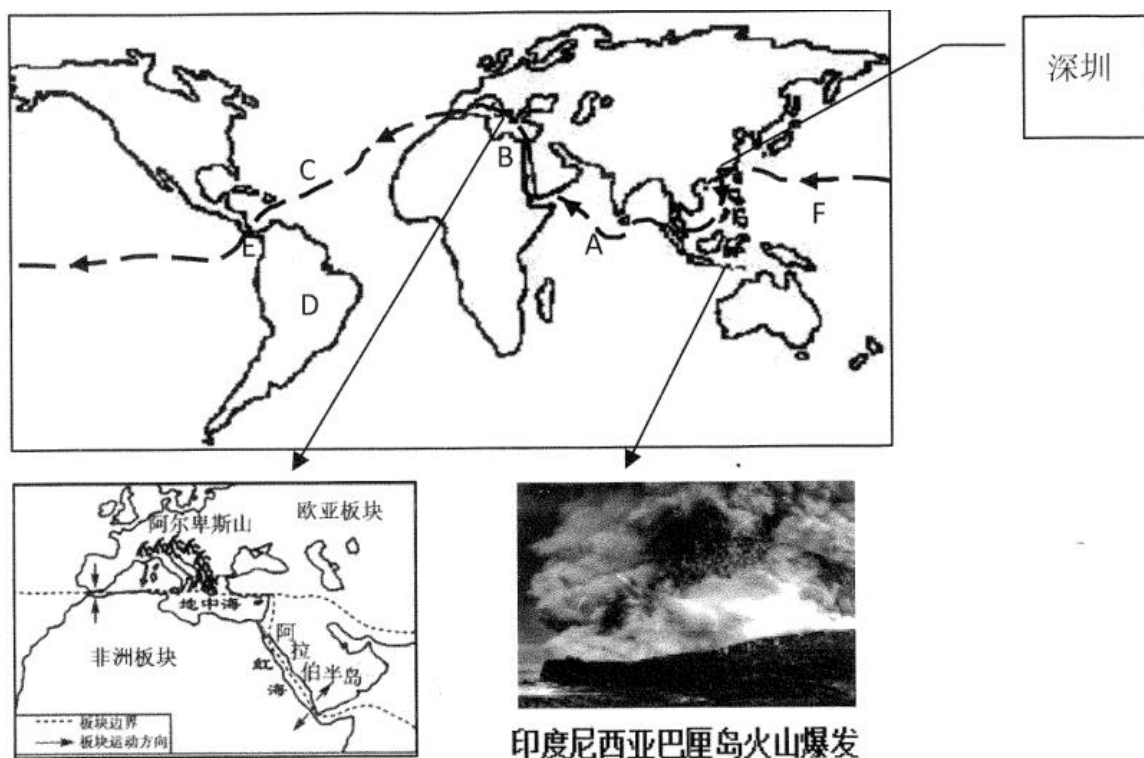
(3) 图中①、②洲的分界线是____运河，④、⑤洲的分界线是____运河。

(4) 亚洲和欧洲的分界线是乌拉尔山、____、____、____。

(5) 沟通 A、D 两大洋的是____。

(6) 七大洲中，面积最大的洲是____；纬度最高、跨经度最广的大洲是____。

32. “世界那么大，我想去看看”，成为现代生活的时尚。某中学地理社团在暑假进行了环球网上模拟旅游。如图是他们确定的旅游线路，请结合所学地理知识完成下列各题。



(1) 此次模拟旅游路线起止点均为深圳，路线经过了 A____洋、B____运河。

(2) D 位于六大板块中的____板块。

(3) 四大洋里面积最大的大洋为____（填字母）。

(4) 运用所学地理知识解释下列现象的原因。

现象 1：印度尼西亚火山多发的原因：_____。

现象 2：地中海的面积在不断缩小的原因：_____。

(5) 根据图中信息及所学知识判断正误。对的填写“正确”，错的填写“错误”。

①模拟旅游路线的方向与地球自转方向一致。()

②B 和 E 运河都是两大洲的分界线。()