

2022 年襄阳市初中毕业生学业水平考试

道德与法治、历史、美术试题

(本试题卷共 10 页, 满分 130 分, 考试时间 135 分钟)

★ 祝 考 试 顺 利 ★

注意事项:

1. 答卷前, 考生务必将自己的姓名、准考证号填写在试题卷和答题卡上, 并将准考证号条形码粘贴在答题卡上指定位置。
2. 选择题每小题选出答案后, 用 2B 铅笔将答题卡上对应题目的答案标号涂黑, 如需改动, 用橡皮擦干净后, 再选涂其它答案标号, 答在试题卷上无效。
3. 非选择题(主观题)用 0.5 毫米的黑色签字笔直接答在答题卡上每题对应的答题区域内, 答在试题卷上无效。作图一律用 2B 铅笔或 0.5 毫米黑色签字笔。
4. 考试结束后, 请将本试题卷和答题卡一并上交。

一、选择题 (客观题) (本部分 34 小题, 共 34 分)

本大题共 34 小题, 其中 1—15 小题为道德与法治部分, 16—30 小题为历史部分, 31—34 小题为美术部分。各小题选项中只有一个选项符合题意, 请将正确选项的序号在答题卡上涂黑作答。每小题 1 分, 共 34 分。

1. 一百年前, 中国共产党的先驱们创建了中国共产党, 形成了“坚持真理、坚守理想, 践行初心、担当使命, 不怕牺牲、英勇斗争, 对党忠诚、不负人民”的
A. 红船精神 B. 延安精神 C. 伟大抗疫精神 D. 伟大建党精神
2. 党的十九届六中全会强调, 党确立习近平同志_____地位, 确立习近平新时代中国特色社会主义思想的_____, 反映了全党全军全国各族人民共同心愿。
A. 党中央的核心 指导地位 B. 党中央的核心、全党的核心 指导地位
C. 党中央的核心 历史地位 D. 党中央的核心、全党的核心 历史地位
3. 他人评价是认识自己的一面镜子。对于他人的评价, 正确的态度是
A. 虚心听取, 全盘接受 B. 认同他人所有的评价
C. 保持独立, 全盘否定 D. 冷静分析, 正确对待
4. 爱国主义是中华民族精神的核心。以下体现爱国主义情感的诗句是
A. 宝剑锋从磨砺出, 梅花香自苦寒来 B. 烽火连三月, 家书抵万金
C. 寄意寒星荃不察, 我以我血荐轩辕 D. 海内存知己, 天涯若比邻
5. 右框时事共同反映的主题是
A. 落实科教兴国战略
B. 依法保护知识产权
C. 完善创新制度体系
D. 实施健康中国战略
6. 请人指导, 要说“赐教”; 麻烦别人, 要说“打扰”。这些用语启示我们生活中要
A. 谦虚谨慎 B. 信守承诺 C. 关爱他人 D. 礼貌待人
7. 2021 年 10 月 23 日, 第十三届全国人民代表大会常务委员会第三十一次会议表决通过《中华人民共和国家庭教育促进法》。这表明全国人民代表大会常务委员会行使了
A. 立法权 B. 决定权 C. 监督权 D. 表决权

★2021 年 7 月 24 日, 中共中央办公厅、国务院办公厅印发《关于进一步减轻义务教育阶段学生作业负担和校外培训负担的意见》。
★2022 年 6 月 6 日, 科技创新大会指出, 10 年来我国科技事业走上了一条从人才强、科技强到产业强、经济强、国家强的发展道路。

8. 下列一组图片宣传的主题可能是



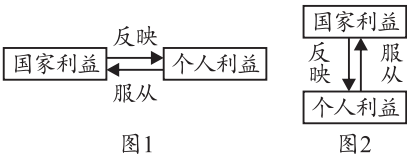
- 增产增收 组装施工 攻关创新 护航生命
- A. 珍惜粮食 B. 为劳动喝彩 C. 创新与生活 D. 尊重生命

9. 依照法律规定，襄阳市对所有行使公权力的公职人员进行监察的机关是

- A. 襄阳市监察委员会 B. 襄阳市人民政府
C. 襄阳市人民检察院 D. 襄阳市中级人民法院

10. 根据所学知识，小林同学绘制了国家利益与个人利益的关系图（图 1），老师对此图略作调整（见图 2）。老师做这样的调整，想要告诉我们

- ①国家利益至上，国家利益高于一切
②国家利益与个人利益根本一致
③以国家利益为重，始终把国家利益放在第一位
④要树立总体国家安全观

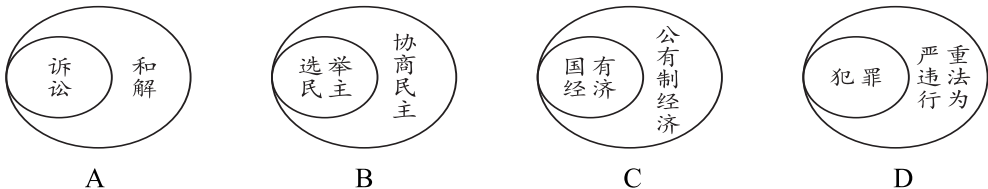


- A. ①② B. ①③ C. ②④ D. ③④

11. 2022 年 3 月 28 日是第 27 个“全国中小学生安全教育日”，我们要做自己的“首席安全官”。下列做法正确的是

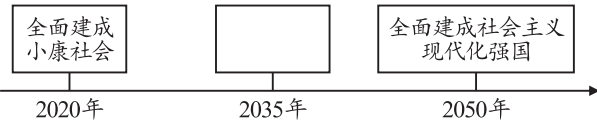
- ①上下学结伴而行，不走偏僻小道 ②发现有人触电，跑过去将他拉开
③炒菜油锅起火，立即往锅里浇水 ④传染病多发季，戴口罩，勤洗手
- A. ①② B. ②③ C. ①④ D. ③④

12. 下列图形能正确反映概念之间所属关系的是



13. 伟大的目标在召唤，从 2020 年到 2035 年再到 2050 年，中华民族将一张蓝图绘到底。右图中，2035 年上面的方框中应该填

- A. 基本实现社会主义现代化
B. 实现全体人民共同富裕
C. 实现中华民族伟大复兴
D. 全面建成科技创新强国



14. 要实现中华民族伟大复兴的“中国梦”，必须坚持走“中国道路”。这里的“中国道路”是指

- A. 改革开放的道路 B. 自主创新的发展道路
C. 民族复兴的道路 D. 中国特色社会主义道路

15. 习近平主席在 2022 年新年贺词中指出，不忘初心，方得始终。我们唯有踔厉奋发、笃行不怠，方能不负历史、不负时代、不负人民。这里的“初心”是指

- ①全面建成小康社会 ②建设成现代化强国
③为中国人民谋幸福 ④为中华民族谋复兴
- A. ①② B. ①④ C. ③④ D. ②③

16. 右边文本框的内容摘自《历史襄阳》。横线上应该填入的人物是

- A. 诸葛亮 B. 徐庶
C. 皮日休 D. 米芾

钟灵毓秀 名人辈出
★浪漫赋祖、悲秋骚人之宋玉
★龙腾白水、奠基东汉之刘秀
★千古名相、三分天下之_____
★田园诗祖、文坛奇葩之孟浩然

17. 东汉史学家班固在其著作《汉书》中称赞汉武帝雄才大略。能论证这一观点的史实是
A. 创立皇帝制 B. 颁布“推恩令” C. 实行科举制 D. 废除丞相制

18. 鉴真东渡，带去了中国的医药、文学、建筑、绘画等。这说明了鉴真东渡
A. 推动了朝鲜民族汉化 B. 促进了中日文化交流
C. 促进了中华民族交融 D. 缓和了中日民族矛盾

19. 百度关键词“少数民族贵族建立的统一王朝”“我国历史上版图最大的朝代”，搜索出的结果是
A. 唐朝 B. 宋朝 C. 元朝 D. 清朝

20. 明朝李时珍历经 27 年编写的《本草纲目》，其内容总结了我国古代
A. 医药学成就 B. 数学成就 C. 农学成就 D. 天文学成就

21. 鸦片曾是“旧中国最难医治的社会溃疡之一”。为禁鸦片做出巨大贡献的民族英雄是
A. 陈化成 B. 林则徐 C. 陈独秀 D. 左权

22. “甲午大败，中国的民族具有群体意义的觉醒也因此而开始。”因“觉醒”而开始的爱国运动是
A. 虎门销烟 B. 太平天国运动 C. 戊戌变法 D. 西安事变

23. “广大青年前赴后继，勇当先锋，书写了中国青年运动的华章。”符合这一结论的史实是
A. 洋务运动 B. 义和团运动 C. 五四运动 D. 七七事变

24. “红军从瑞金出发时八万多人，历经十一个省，到陕北仅剩六千多人。”这一艰苦卓绝的革命壮举是
A. 秋收起义 B. 红军长征 C. 百团大战 D. 渡江战役

25. 右图是丰子恺漫画《散沙团结，可以御敌》（1938 年），表达的是
A. 发动北伐战争 B. 实行全民族抗战
C. 进行抗美援朝 D. 开展“大跃进”运动

26. 陈毅曾说：“淮海战役是人们用小车推出来的。”他表达的是淮海战役
A. 爆发的原因 B. 战役的进程
C. 战役的影响 D. 胜利的原因



27. 下列属于古埃及文明象征的是
A. 金字塔 B. 长城 C. 佛教的创立 D. 《汉谟拉比法典》

28. “国王不经议会许可，不能随意废除法律，也不能停止法律的实施。”符合材料的文献是
A. 《权利法案》 B. 《人权宣言》 C. 《共产党宣言》 D. 《联合国宪章》

29. 下列体现两极格局的史实是
A. 《九国公约》的签订 B. 法西斯势力的扩张
C. “北约”和“华约”的对峙 D. 不结盟运动的兴起

30. 下列对国际组织的表述正确的是
A. 国际联盟体现了欧洲一体化进程 B. 联合国是维护世界和平的最大的国际组织
C. 欧盟是解决贸易争端的国际组织 D. 世界贸易组织是以美国为核心的军事集团

31. 《兰亭序》是书法家_____的作品。
A. 王羲之 B. 陶渊明 C. 文同

32. 下列作品中_____是梵高的作品。



A.



B.



C.

33. _____是中国人物画艺术表现最突出的特征。

A. 以形写神

B. 神形兼备

C. 以形写意

34. 米开朗基罗是意大利雕塑家、建筑师、画家和诗人。他的雕塑代表作是_____。

A. 大卫（大理石）

B. 菩萨像（泥塑彩绘）

C. 倚卧的人体（青铜）

二、非选择题（主观题）（本部分 13 题，共 96 分）

道德与法治部分（共 6 题，共 45 分）

35. 【学会认识自己 培养优良品质】（4 分）

回望三年成长路，我们记录了难忘的青春印记。

根据下列成长印记，写出你的体会和行动。

★印记一 疫情期间，网课让我们重新认识了学习，学习点亮生命。

(1) 我懂得了：_____

★印记二 遇到挫折，我们会产生一些负面感受，但还是学会了面对。

(2) 我学会了：_____

★印记三 “止于至善”是“虽不能至，然心向往之”的实践过程。

(3) 我做到了：_____

★印记四 中共中央办公厅、国务院办公厅印发了《粮食节约行动方案》。

拒绝食品浪费，人人有责。

(4) 我养成了：_____

36. 【学会沟通交流 不负青春时光】（8 分）

【感悟师恩】习近平总书记在北京师范大学考察时说：“教过我的老师很多，至今我都能记得他们的样子，他们教给我知识、教给我做人的道理，让我受益匪浅。”

(1) 在众多老师中，哪些学科的老师让你受到哪些益处？（2 分）

【感恩父母】“父兮生我，母兮鞠我。拊我畜我，长我育我，顾我复我，出入腹我。欲报之德……”意思是“父母生我养我，拉扯我长大，呵护备至，我想好好报答……”

因为他们不求回报的呵护，我们才能恣意生长，活出自己想要的模样；因为他们坚实的臂膀，我们才能飞得更高、更远，追求梦想。无论何时，都要记得，在那个梦开始的地方，还他们一份爱的守望……

(2) 从道德和法律的角度分析“欲报之德”“还他们一份爱的守望”这样做的道理。（2 分）

(3) “在那个梦开始的地方”，你打算采取哪些措施与父母共同努力创建和谐家庭？（2 分）

(4) 如何做更好的自己，才能飞得更高、更远？（2 分）

37. 【法律护航成长 维护宪法权威】（9 分）

材料一 某市对未成年人犯罪中存在的不良行为类型进行了调查，结果是：旷课违纪占87%，夜不归宿占81%，辱骂他人占78%，强行向他人索要财物占64%。结果显示，未成

年人犯罪大多呈现这样的轨迹：不良行为 → 一般违法行为 → 犯罪。

(1) 根据材料一，你能得到哪些启示？(2分)

材料二 为了保护青少年健康成长，该市人民政府开展了“雏鹰护航”行动，强化家庭教育、学校教育，净化学校周边环境，认真落实十三届全国人大常委会第十三次会议修订的《未成年人保护法》和《预防未成年人犯罪法》。

(2) 材料二中的“雏鹰护航”行动，体现了对未成年人的哪一项保护？(1分)

(3) 有同学认为：“只要有了法律的保护，未成年人就能健康成长。”请你对此观点作简要评析。(2分)

材料三 2022 年是现行宪法实施 40 周年，某校开展了宪法宣传活动，同学们对下列问题进行了探究。

(4) “宪法的生命在于实施，宪法的权威也在于实施。”对此，青少年可以做些什么？(2分)

(5) 请列举一项你所享有的权利(或所承担的义务)，说说这一权利的实现需要他人付出怎样的努力(或履行这一义务对自己和他人具有什么意义)。(任选一方面回答，2分)

38. 【北京冬奥会 一起向未来】(9 分)

以下是同学们观看北京冬奥会相关报道后搜集的资料卡片，请你一起来分析：


卡片 1 【冬奥会展现精神力量】

伟大事业孕育伟大精神，伟大精神推进伟大事业。北京冬奥会、冬残奥会广大参与者在冬奥申办、筹办、举办的过程中，共同创造了北京冬奥精神。

(1) 在冬奥申办、筹办、举办的过程中，共同创造的北京冬奥精神是_____。(2分)

卡片 2 【冬奥会“遇见”中国文化】

“冬梦”会徽将抽象的滑道、冰雪运动与传统书法艺术“冬”字相结合，冬残奥会会徽设计采用汉字“飞”的动感和力度。吉祥物大熊猫“冰墩墩”，意喻敦厚、敦实、可爱；吉祥物灯笼“雪容融”，代表着收获、喜庆、温暖和光明。“冬奥遇见中国风”，将中国文化的活力与创意传递到世界。



(2) 会徽、吉祥物的设计体现的中华文化的特点是_____。(1分) 这样的设计对我们延续文化血脉有什么启示？(2分)


卡片 3 【冬奥会凸显“绿色”理念】

“绿色”是本届冬奥会最主要的理念。为实现碳中和目标，北京冬奥会大量采用风能、太阳能等绿色电力，展现了人与自然和谐共生的美丽中国。

(3) 这一理念体现了哪种文明？(1分) 如何建设这种文明？(至少答两点，1分)

卡片 4 【冬奥会携手向未来】

北京 2022 年冬奥会和冬残奥会主题口号是“一起向未来”。北京冬奥会再次为世界奉献了一届令人难忘的奥运盛会，以其精彩、非凡、卓越赢得世界瞩目和好评。



(4) 结合主题口号，谈谈各国应如何携手“一起向未来”？(2分)

39.【峥嵘百年史 砥砺青年行】（6分）

【时代强音】2022年是中国共产主义青年团成立100周年。

“停止内战，一致抗日” 1935年12月9日，北平学生在中国共产党的领导下举行示威游行，反对华北自治，反抗日本帝国主义，掀起全国抗日救国新高潮。

“向荒原进军”“向困难进军” 社会主义革命和建设时期，共青团组织的青年志愿垦荒队奔黑龙江、走鄱阳湖、登大陈岛。在“北大荒”诞生了“北京庄”，在鄱阳湖畔建起了“共青团城”，把一片废墟的大陈岛变成祖国东海上的一颗明珠……

“团结起来，振兴中华” 改革开放时期，围绕社会主义现代化建设，共青团积极带领广大青年投身改革和建设实践，以实现祖国的繁荣富强为己任，奉献了青春和力量。

“请党放心，强国有我” 在实现第二个百年奋斗目标、建设社会主义现代化强国的新征程中，我们将不忘初心、接续奋斗，创造更大光辉成就。这是青年人对历史作出的庄严回答，也是对未来许下的铮铮誓言。

(1) 少年强则国强。结合上述“时代强音”，谈一谈你感悟到了什么？（2分）

【砥砺奋进】习近平总书记勉励我们：“青年一代有理想、有担当，国家就有前途，民族就有希望，实现中华民族伟大复兴就有源源不断的强大力量。”“当代中国青年是与新时代同向同行、共同前进的一代，生逢盛世，肩负重任。”作为新时代的青年人，在未来全面建设社会主义现代化国家征程中，需要用自己的实际行动回应时代要求。

(2) 奋斗的青春最美丽。结合材料，请你谈谈个人命运与国家命运的关系。（2分）

(3) 建功新时代，作为青年人应具备哪些素养才能回应时代的要求？（2分）

40.【喜迎二十大 奋斗新征程】（9分）

党的十九届六中全会审议通过了《中共中央关于党的百年奋斗重大成就和历史经验的决议》《关于召开党的第二十次全国代表大会的决议》。请同学们共同探究问题。

【公报学习】

《决议》指出，人民生活全方位改善，社会治理社会化、法治化、智能化、专业化水平大幅度提升，发展了人民安居乐业、社会安定有序的良好局面，续写了社会长期稳定的奇迹。……

积极发展全过程人民民主，我国社会主义民主政治制度化、规范化、程序化全面推进，中国特色社会主义政治制度优越性得到更好发挥，生动活泼、安定团结的政治局面得到巩固和发展。……

一百年来，党领导人民浴血奋战、百折不挠，创造了新民主主义革命的伟大成就；自力更生、发愤图强，创造了社会主义革命和建设的伟大成就；解放思想、锐意进取，创造了改革开放和社会主义现代化建设的伟大成就；自信自强、守正创新，创造了新时代中国特色社会主义的伟大成就。

《决议》以“十个坚持”总结了党百年奋斗的宝贵历史经验。

- (1) “人民生活全方位改善”体现了发展的根本目的是什么？（1分）
- (2) 人民民主的真谛是什么？（1分）我国政治制度中的根本政治制度是什么？（1分）
- (3) 党的百年奋斗重大成就和历史经验充分说明了什么？（至少答四点，2分）

【金句领悟】

(4) 请将金句内容与相关观点正确连线。(2分)

- | | |
|--------------------------|---------|
| ① “绿水青山就是金山银山。” | A. 改革开放 |
| ② “民之所忧，我必念之；民之所盼，我必行之。” | B. 绿色发展 |
| ③ “改革开放的大门不会关闭，只会越开越大。” | C. 执政为民 |
| ④ “幸福都是奋斗出来的。” | D. 实干兴邦 |

【接续奋斗】

2022年是党的二十大召开之年。站在“第二个百年”的历史起点上，征途漫漫，惟有奋斗。我们通过奋斗，披荆斩棘，走过了万水千山；我们还要继续奋斗，勇往直前，创造更加灿烂的辉煌！

(5) “征途漫漫，惟有奋斗。”我们青少年将如何接续奋斗，站在时代的潮头？(2分)

历史部分 (共6题，共45分)

41. 【祖国统一与香港回归】(5分)

(1) 请将下面的历史事物填在对应的横线上。(填字母)(3分)

历史事物：A. 郑成功收复台湾 B. 郡县制 C. 澎湖巡检司


- ① 这一制度的实行，开创了此后我国历代王朝地方行政基本模式：_____；
- ② 这是历史上中央政府首次在台湾地区正式建立的行政机构：_____；
- ③ 至此，被荷兰侵略者占据了38年的台湾重新回到祖国的怀抱：_____。

材料 1990年4月，中华人民共和国全国人民代表大会通过的《香港基本法》规定：“香港特别行政区是中华人民共和国不可分割的一部分。……香港特别行政区保持原有资本主义制度和生活方式，五十年不变。”

(2) 材料反映了实现祖国统一的哪一项重要制度？(1分) “香港回归洗雪百年国耻。”这里的“百年国耻”始于哪一条约的签订？(1分)

42. 【文明传播与内向吸纳】(7分)

某中学的同学们以“文明互鉴”为主题开展探究性学习。请完成以下四项学习任务：

<p>任务一 促进世界远洋航海技术发展的科技成就是_____。(填字母)(1分)</p> <p>A. 造纸术 B. 印刷术 C. 火药 D. 指南针</p>	<p>丝绸、漆器、铸铁技术等 胡琴、胡瓜、胡萝卜等</p> <p>中亚、西亚 ← → 中原</p>  <p>图1</p>	<p>任务二 根据图1，能准确描述汉代中外交往特点的是_____。(填字母)(1分)</p> <p>A. 以海路为主 B. 双向交流 C. 抵御外来侵略 D. 加强行政管理</p>
---------------------------------------------------------------------------------------------------	-----------------------------------------------------------------------------------------------------------------------------------------------------	---------------------------------------------------------------------------------------------------------------

任务三 结合所学知识，完成图2中的任务。(3分)

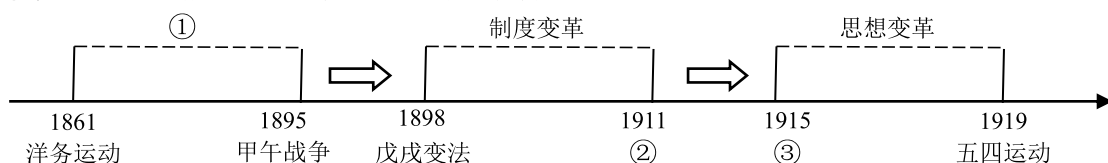


图2 中国近代向西方学习进程图

任务四 根据下面知识卡片内容，比较洋务运动和明治维新的不同点。（2分）

洋务运动

①总共办了120个企业，其中军工企业是21个，且属于封建企业。

②在社会制度变革层面，当时完全不可能考虑，而日本在这方面比中国先进很多！

明治维新

①办了5600个公司，属于资本主义企业，这些企业完全引用了西方的企业制度。

②日本还进行社会制度的改造，运用西方的资本主义制度。

43. 【民本思想与民生措施】（8分）

下列是某班学生围绕“如何解决民生问题”这一主题创作的剧本。

<div>对话一 梁惠王问政于孟子</div> <div>梁惠王：卿对治国有何良策？</div> <div>孟子：施仁政于民，省刑罚，薄赋敛。</div>	<div>对话二 唐太宗与魏征议政</div> <div>魏 征：本朝立国初始，中原地区人烟断绝，陛下如何与民休息？</div> <div>唐太宗：首先，从我做起，去奢节俭，轻徭薄赋；其次，不夺农时，不误农事，发展农业生产。</div>
-------------------------------------------------------------------------------	------------------------------------------------------------------------------------------------------------------------

(1) 根据对话一，概括孟子民本思想的基本主张。（1分）指出对话二中唐太宗践行孟子民本思想的具体措施。（2分）

对话三 毛泽东与埃德加·斯诺论中国革命

埃德加·斯诺：中国共产党如何赢得中国？

毛泽东：谁赢得农民，谁就会赢得中国；谁解决土地问题，谁就能赢得农民。

(2) 举一例史实并说明毛泽东的思想主张。（2分）

对话四 美国总统罗斯福与国会议员的对话

议 员：在目前经济大危机冲击下，工人失业人数逐渐增多。对此，总统先生有何对策？

罗斯福：我准备采取两大措施：①推行“以工代赈”，兴办公共工程，为失业者提供就业机会；②颁布《社会保障法》，建立社会保障制度。

(3) 根据对话四并结合所学知识，请你从经济、社会和实质三个方面对罗斯福两大措施进行评价。（3分）

44. 【百年变局与开创新局】（9分）

【变局：沉沦与上升】

材料一 中国历史学会原会长张海鹏说：“中国从鸦片战争以后的历史是往下沉沦的历史（沉沦是指中国沦为半殖民地半封建社会）。近代中国沉沦的谷底，是从1901年《辛丑条约》的签订开始的，一直到1920年。1921年中国共产党诞生以后，中国社会呈现出向上的发展趋势。”（如图3所示）

图3 中国近代社会发展趋势

(1) 《辛丑条约》的签订是近代中国沉沦到谷底的开始。你如何理解这一历史结论？（1分）

(2) “1921年中国共产党诞生以后，中国社会呈现出向上的发展趋势。”根据所学知识，以1921年至1949年的相关史实论证该观点的正确性。（要求：列举三例史实并进行论证）（3分）

【开局：工业化起步】

材料二 “特等劳动模范”王崇伦主要事迹

1953 年，我国开始实施第一个五年计划，鞍山钢铁厂的生产建设在突飞猛进地发展。

王崇伦积极投身鞍钢生产和技术竞赛活动，不断创新技术，加工卡动器的纪录连连取得新突破，由 45 分钟缩短到 30 分钟，最后缩短到 19 分钟，大幅度提高了生产效率。他操作的“牛头刨”，成了“千里马”。

(3) 根据材料二，指出鞍山钢铁厂开展生产和技术竞赛活动的历史背景。(1 分) 归纳王崇伦的劳动精神。(1 分)

【新局：走进新时代】

材料三

2010-2020 年中国与世界经济增长率比较

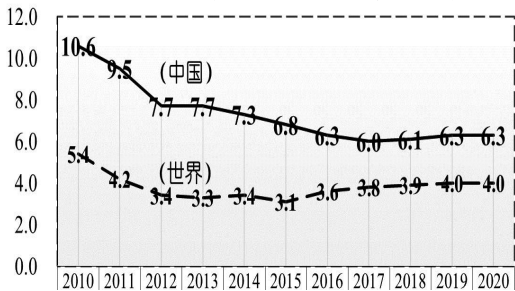


图 4



图 5

(4) 根据图 4，对比中国与世界经济增长率的整体变化，指出其中的一种变化情况。(1 分) 根据图 5 并结合所学知识，分析变化的原因。(2 分)

45. 【近代变革与社会进步】(7 分)

材料一 人是一件多么了不起的杰作！多么高贵的理性！多么伟大的力量！多么优美的仪表！多么文雅的举动！在行为上多么像一个天使！在智慧上多么像一个天神！

——节选自莎士比亚《哈姆雷特》

(1) 根据材料一，指出文艺复兴运动的核心思想。(1 分) 这一思想的内涵是什么？(1 分)

材料二 美国民主政治之路

1776 年 7 月 4 日，大陆会议通过了《独立宣言》，宣布人人生而平等，享有生命权、自由权和追求幸福的权利。宣言宣告北美 13 个殖民地脱离英国而独立。

——摘自《世界历史》九上

美国 1787 年宪法规定：立法权属于合众国的国会，行政权力赋予总统，司法权属于最高法院。

美国 1787 年宪法也有很多不足之处，如允许奴隶制存在，不承认妇女、黑人和印第安人具有和白人男子相等的政治权利。

——摘编自《世界历史》九上

1865 年宪法修正案规定：在合众国境内受合众国管辖的任何地方，奴隶制和强制劳役都不得存在。

1870 年宪法修正案规定：合众国公民选举权，不得因种族、肤色或以前是奴隶而被合众国或任何一州加以拒绝或限制。

(2) 根据材料二，简述美国民主政治的发展历程。(3 分)

材料三




图6 早期火车



图7 早期汽车

(3) 根据图6、图7，分析两次工业革命对社会生活的影响。(2分)

46. 【世界战争与向往和平】(9分)

材料一

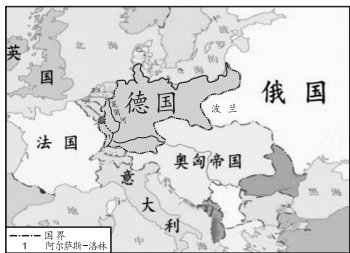


图8 第一次世界大战前的欧洲



图9 第一次世界大战后的欧洲

(1) 观察图8，指出一战前形成的两大军事集团。(2分) 观察图8、图9并结合所学知识，分别指出与德国疆界变化和俄国国名变化的事件。(一战这一事件除外)(2分)

材料二 纳粹德国武装力量在对苏战争中损失累计近1200万人，其中死亡320多万人，被俘160多万人……

(2) 根据材料二，概括苏联在世界反法西斯战争中的地位。(1分) 举一例史实并予以说明。(2分)

材料三 欧洲在二战后失去了大部分殖民地，在1944年至1985年间，总共有96个国家赢得了独立，这些国家的人口大约占世界总人口的三分之一。

——摘编自斯塔夫里阿诺斯《全球通史》

(3) 根据材料三，指出二战对世界的重要影响。(1分)

材料四 1941年10月，一名11岁的苏联男孩带着两个小包，独自一人从莫斯科出发，20多天后，抵达苏联大后方亲戚家。他本应拥有一个无忧无虑的童年，但战争……

(4) 根据材料四，续写材料中省略的内容。(续写内容应简明扼要，符合史实，表达出男孩的心愿)(1分)

美术部分 (共1题，共6分)

47. 线条的变化可以表现质感，临摹下图进行体验。(6分)

请在答题卡相应位置用2B铅笔临摹下图。

