

第一单元《克、千克、吨》检测题(B 卷)(西师版)

(时间 :60 分钟 总分 :100 分)

一、想一想,填一填。(36 分)

1. 在()里填上合适的单位(克、千克、吨)。(6 分)



一个乒乓球
约重 1()



一个菠萝
约重 1()



小明约重
35()



四根香蕉
约重 400()



一艘轮船载
重约 3()



一只小猴
约重 45()

2. 在()里填上合适的数。(12 分)

31 千克 = () 克

8 000 克 = () 千克

11 吨 = () 千克

15 000 千克 = () 吨

10kg = () g

2 吨 = () kg

200 克 + 300 克 = () 克

1 吨 - 300 千克 = () 千克

1 600 千克 + 400 千克 = () 吨

5 500 千克 - 500 千克 = () 吨

200 克 + () 克 = 1 千克

2 吨 - 1 400 千克 = () 千克

3. 我是小小裁判员!(10 分)

(1)1 千克的木块比 1 000 克的铁轻。()

(2)爸爸的体重约 65 克。()

(3)6 个苹果大约 1 千克。()

(4)一个苹果重 20 千克。()

(5)1 吨铁和 1 吨水一样重。()

(6)1 千克就是 1 吨。()

(7)4 个成年人的体重约 300 克。()

(8)一支牙膏重约 90 克。()

(9)1 枚 5 分硬币重约 1 千克。()

(10)5 千克水比 5 000 克棉花重一些。()

4. 排队。(按从大到小的顺序排列)(8 分)

990 克 1 千克 2 吨 200 千克

二、选一选。(将正确答案的序号填在括号里)(15 分)

1. 一本语文课本约重()。
- A. 20 克 B. 120 克 C. 20 千克
2. 500 克 + 5 千克等于()。
- A. 10 吨 B. 5 500 克 C. 5 500 千克
3. 一辆汽车的载重是 5 000 千克,即()吨。
- A. 5 000 B. 50 C. 5
4. 下面各数量中最轻的是(),最重的是()。
- A. 300 克 B. 2 千克 C. 12 吨
5. 15 个鸡蛋 1 千克,13 个鸭蛋 1 千克。一个鸡蛋比一个鸭蛋()。
- A. 重 B. 轻 C. 无法比较

三、解决问题。(49 分)

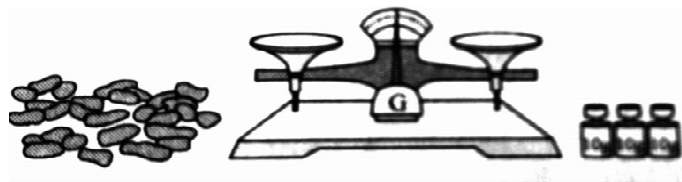
1. 小刚的体重为 25 千克,比爸爸少 62 千克,爷爷比爸爸少 9 000 克,爸爸和爷爷的体重分别是多少千克?

2. 果品公司收购苹果 26 吨,先运走 6 000 千克,剩下的用载重为 4 吨的卡车一次运完,请问需要几辆这样的卡车?

3. 欧阳抱着两个玩具一起称,共重 30 千克,现知每个玩具重 2 千克,欧阳体重是多少?

4. 运西瓜过河。小熊重 40 千克,小兔重 3 千克,3 个西瓜各重 4 千克、2 千克、500 克,一只船载重 45 千克,另一只船载重 7 千克,他们怎样坐船运西瓜过河?


5. 一架天平配有 3 个 10 克砝码。想一想怎样才能知道多少粒花生约重 50 克。





6. 同学们认真阅读下面一段话,你能发现什么? 把错误的地方改过来。

早晨,我从 2 千米长的床上起来,用 18 分米长的牙刷刷牙,洗脸后,坐在 8 米高的餐桌前喝了一杯 150 千克的牛奶,吃了一个 65 千克的鸡蛋,然后背起 3 克重的书包上学去了。

7.



如果  重 200 克,那么  重()克。