

九年级道德与法治试题

题 号	一	二		总 分
		26	27	
得 分				

一、选择题(在每小题列出的四个选项中,只有一项是最符合题目要求的,把所选项前的字母填入下面的答题表内。每小题 2 分,共 50 分。)

题号	1	2	3	4	5	6	7	8	9	10	11	12	13
答案													
题号	14	15	16	17	18	19	20	21	22	23	24	25	
答案													

1. 下列为 2021 年政府工作报告的部分内容,其中能够直接体现我国深化改革扩大开放的有
- ①弘扬伟大抗疫精神和脱贫攻坚精神,推进公民道德建设。
②推进能源、交通、电信等基础性行业改革,提高服务效率,降低收费水平
③巩固蓝天、碧水、净土保卫战成果,让我们生活的家园拥有更多碧水蓝天
④加强贸易促进服务,办好进博会、广交会及首届中国国际消费品博览会等重大展会。
- A.①② B.①③ C.②④ D.③④
- 2.“十四五”时期经济社会发展必须遵循的原则之一是坚持深化改革开放,坚定不移推进改革,坚定不移扩大开放。下列对改革开放的认识,正确的是
- ①改革开放是我国的一项基本国策②改革开放是我国的强国之路、富民之路
③改革开放是引领发展的第一动力④改革开放是决定当代中国命运的关键抉择
- A.①②④ B.③④ C.②④ D.①③
3. 下列举措直接体现“以人民为中心”的是
- A.加大基础研究和应用基础研究支持力度,加强关键核心技术攻关。
B.推动共建“一带一路”,加强国际产能合作,拓展第三方市场合作。
C.推进城乡义务教育一体化发展,加快改善乡村学校办学条件。
D.全面贯彻党的民族政策,深化民族团结进步教育。
4. 某校学习园地开展“话说改革”的栏目,下列选项中对改革的认识正确的是
- ①我国推行的改革是一场全面而深刻的社会变革

- ②我国改革包括经济、政治、文化、社会、生态、国防和军队以及党的建设等领域改革
③总目标是完善和发展中国特色社会主义制度,推进国家治理体系和治理能力现代化
④总目标是建设社会主义法治体系,建设社会主义法治国家

A.①③④ B.①②③ C.②③④ D.①②④

5.中国特色社会主义进入新时代,社会的主要矛盾已经发生转化。下列能够体现我国政府致力于解决新的矛盾的是

- ①下大力气改善空气质量 ②限制非公有制经济发展
③加强财政对民生领域倾斜 ④慈善活动鼓励民众捐款捐物

A.①③ B.②④ C.②③ D.③④

6.坚持共享发展,就是使全体人民在共建共享发展中有更多获得感,增强发展动力,增进人民团结,朝着共同富裕方向稳步前进。下列举措体现这一点的是

- ①实施“一带一路”,加强国际合作 ②实施脱贫攻坚工程
③增加医疗、教育等公共服务 ④实施城乡居民大病保险制度

A.①②③ B.①②④ C.②③④ D.①③④

7.近年来,我国科技成果呈“喷发”态势,取得了一批具有国际先进水平的成果,如“载人航天”“北斗导航”“FAST 望远镜”……这说明我国

- ①科技整体水平已经跻身于世界前列 ②实施科教兴国战略和人才强国战略
③科技创新能力在不断增强 ④处于并长期处于社会主义初级阶段

A.①② B.②③ C.①④ D.③④

8.在我国经济社会发展步入关键时期,党中央做出了建设创新型国家的重大战略决策,为我国经济可持续发展指明了方向。建设创新型国家,归根到底靠人才,作为青少年应该

- ①培养敢于实践探索,善于创新的精神 ②树立科学研究意识,培养创新性思维
③不断激发好奇心,保持旺盛的求知欲 ④加大对创新的投入,营造良好创新环境

A.①②③ B.①②④ C.①③④ D.②③④

9.《中共中央关于制定国民经济和社会发展第十四个五年规划和二〇三五年远景目标的建议》提出要建设高质量教育体系,要求全面贯彻党的教育方针,深化教育体制改革,促进教育公平。建设高质量教育体系是因为

- ①教育创新是全面创新的核心 ②教育是民族振兴、社会进步的基石
③教育寄托着亿万家庭对美好生活的期盼 ④重视教育是发展的根本目的

A.①② B.③④ C.②③ D.①④

10.河北省在石家庄市召开渐进式延迟法定退休年龄改革征求意见座谈会,人大代表、政协委员、妇女代表、用人单位代表、职工代表参加,这体现公民行使民主权利的方式是

A.民主管理 B.民主选举 C.民主决策 D.民主监督

- 11.“十四五”规划编制工作分别在人民日报新闻客户端、“学习强国”等平台开展网上征集意见,累计收到网民建言超过 101.8 万条。这体现了
- ①网络拓宽民主渠道,保证人们直接行使国家权力
 - ②我国的发展坚持对人民负责,为人民服务
 - ③民主决策是保障人民权益得到充分实现的有效方式
 - ④国家的一切权力属于公民,要规范政府行政权,加大民主监督力
- A.①② B.①④ C.②③ D.③④
- 12.在我国,宪法和法律法规的许多规定主要靠行政机关贯彻执行的。有专家说,依法治国,80%以上是行政机关的行政行为。因此,国家行政机关工作人员要
- A.努力为人民服务
 - B.严格依法行政
 - C.多制定法律
 - D.保证司法公正
- 13.习近平总书记指出,天下之事,不难于立法,而难于法之必行。如果有了法律而不实施、束之高阁,或者实施不力、做表面文章,那制定再多法律也无济于事。这告诉我们
- A.法治要求实行良法之治
 - B.法治能够确保为人们提供良好的生活秩序
 - C.善治是现代政治文明的核心
 - D.依法治国要求实行善治。
- 14.“法令行则国治国兴,法令弛则国乱国衰”说明了
- ①国家的治理离不开法律
 - ②法治和德治相辅相成,可以相互代替
 - ③要实施全面依法治国的基本方略
 - ④法律和道德都约束人们的行为,但两者都有区别
- A.②④ B.③④ C.①② D.①③
- 15.汉语是中华民族五千年文化的积淀,是无法用其他语言代替的。同时,汉语也吸收了许多外来语,这说明
- ①语言是一种文化,文化存在差异,不分优劣
 - ②多元的世界文化就像是一曲和谐的文化乐章
 - ③不同文化相互交融且相互促进
 - ④对待文化差异可以全盘吸收
- A.①②④ B.①②③ C.②③④ D.①②③④
- 16.下列名句中,与中华民族精神核心内容相符的是
- ①少小离家老大回,乡音无改鬓毛衰
 - ②人生自古谁无死,留取丹心照汗青
 - ③今夜月明人尽望,不知秋思落谁家
 - ④苟利国家生死以,岂因祸福避趋之
- A.①② B.②④ C.①③ D.③④

- 17.2021 年初,中央电视台推出了一档全新文化节目《典籍里的中国》,节目融合“戏剧+影视+文化访谈”的手法,用符合当代人审美的表达方式与历史握手,让更多人感受到中华文化的魅力。这
- ①体现了中华优秀传统文化的创造性转化、创新性发展
②有利于中华优秀传统文化的自信表达
③展现了中华文化穿越时空焕发出的现代活力
④表明中华文化只有加强媒体传播才有价值
- A.①②③ B.①②④ C.①③④ D.②③④
- 18.由于疫情原因口罩成为生活必备的防护用品,世界范围内口罩的精耗量大增。然而,口罩垃圾也成为了一大环境污染隐患,为解决废弃口罩污染环境的问题,济南 8 名高中生研究出可降解口罩获全球金奖。作为中学生应该
- A.树立先发展后保护的环保观念 B.践行绿色环保的生活方式
C.制定完善生态文明法律法规 D.参与解决环境问题的执法活动。
- 19.2021 年 5 月 31 日,中共中央政治局召开会议,会议指出进一步优化生育政策,实施一对夫妻可以生育三个子女政策及配套支持措施。这一政策的实施
- ①有利于改善我国人口结构 ②表明我国放弃实行计划生育政策
③彻底解决了我国的人口问题 ④有利于更好地适应经济社会发展需要
- A.①② B.②③ C.①④ D.③④
- 20.香港回归以来,在中央政府和祖国内地的全力支持下,香港的经济体制转型克服了亚洲金融危机的冲击和影响,继续保持自由港及国际大都市的特色,继续保持国际金融、贸易和航运中心的地位,这些成就印证了
- ①一国两制方针的独特魅力 ②改革开放是新时期的伟大抉择
③香港和祖国内地的优势互补 ④我国制度创新具有勃勃生机
- A.①②③ B.①②④ C.②③④ D.①②③④
- 21.在改革开放伟大实践中,我国形成的中国特色社会主义理论体系包括
- ①马克思主义 ②毛泽东思想
③邓小平理论 ④习近平新时代中国特色社会主义思想
- A.①②③ B.②③④ C.①④ D.③④
- 22.去年暑假,小文跟随父母去民族风情街游玩,风情街上有很多不同民族的特色美食,令人垂涎欲滴。小文拍了很多图片,下列图片中的特色美食属于同一个民族的是




①糍粑



②糍粑



③糍粑



④青稞酒

A.①③

B.②④

C.②③

D.①④

- 23.近年来,国家不断加强对新疆、西藏等少数民族地区的扶贫工作,实施精准扶贫、精准脱贫,提高扶贫实效。这样做有利于
- ①巩固统一的多民族国家,维护国家安全
 - ②增进民生福祉,落实共享发展理念
 - ③促进少数民族地区经济发展,消除民族差异
 - ④促进民族团结,实现国家统一
- A.①③ B.②③ C.①② D.③④
- 24.当今人类必须共同面对的发展课题是
- ①消除贫困,让人们过上幸福的生活
 - ②建设和平公正、包容的社会
 - ③人们平等有尊严地在健康环境中生活
 - ④人与自然和谐共生
- A.①②③④ B.①②③ C.②③④ D.①②④
- 25.下列选项中,体现建设“命运共同体”思想的是
- ①和羹之美,在于合异
 - ②溃堤蚁穴、气泄针芒
 - ③孤举者难起,众行者易趋
 - ④滴水不成海,独木难成林
- A.①②③ B.②③④ C.①③④ D.①②④

二、非选择题(共 4 题共 50 分)

26【法治在线】(17 分)

新闻事件

2021 年 3.15 晚会曝光:【河北养羊大县惊曝又见瘦肉精,瘦肉精羊流向多地】青县
是河北省一个重要的养羊基地,每年大约出栏 70 万只羊。关于如何养羊,青县的养殖
户对陌生人基本都是三缄其口。在熟悉了相当长一段时间之后,养殖户才向记者透露,
这里的羊在饲养过程中添加了瘦肉精。

法律链接

《食品安全法》第四条规定:食品生产经营者应当依照法律、法规和食品安全标准从
事生产经营活动,保证食品安全,诚信自律,对社会和公众负责,接受社会监督,承担社
会责任。

跟踪报道

青县瘦肉精羊肉被曝光后,沧州市委市政府高度重视此次事件,相关部门迅速成立
专门处置工作领导小组,目前相关涉事企业单位负责人已被依法控制,食品经营许可证
被监管部门依法注销,并对存在问题的羊肉进行封存,追根溯源。

网友观点

造成瘦肉精事件出现的原因是多方面的:有人向当地监管部门反映,工作人员没有及时调查;部分养殖户唯利是图,只顾眼前利益,无底线追求高利益所致,违法成本低,处罚力度远远未能令企业感到切肤之痛……

(1)从道德角度分析,青县养殖户应增强哪些意识?(4分)

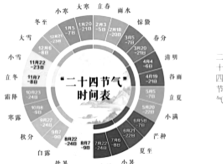
(2)联系“法律链接”,评析“新闻事件”中青县养殖户的行为。(4分)

(3)根据“法律链接”和“网友观点”,概括解决“新闻事件”问题的途径有哪些?(6分)

(4)综合以上材料和问题,从国家治理角度,你能得出什么结论。(3分)

27.【聚焦文化热点】(8分)

材料一:中华文化在几千年的发展历程中,薪火相传,历久弥新。不同时代都有其特有的文化标识。观察下图,回答问题。




上古农耕文明的产物“二十四节气”



3000年前的三星堆黄金面具



明永乐大典



一直延续至今的传统节日春节

(1)以上图片体现了中华文化具有怎样的特点?(2分)

材料二:2021年电影《长津湖》在国庆档上映,该剧以抗美援朝战争中的长津湖战役为背景,讲述了一段波澜壮阔的历史:71年前,中国人民志愿军赴朝作战,高举保卫和平,反抗侵略的正义旗帜,在极寒严酷环境下,同朝鲜人民一道浴血奋战,奋勇杀敌,扭转了战场态势,赢得了抗美援朝战争的伟大胜利,也锻造了伟大的抗美援朝精神。

(2)据材料二,谈谈中国人民志愿军赴朝作战的壮举带给我们哪些精神滋养?(6分)

28.【保护生态】(15分)

材料一:无论是多彩的鲜花,还是绿色的青苔,无论是翱翔天际的猛禽,还是畅游沧海的鱼儿,每一个物种都是大自然的馈赠。人类的衣、食、住、行,无不得益于自然界的慷慨,得益于生物多样性的惠赠。然而,一些野生动物正在悄然告别世界,究其原因,最主要的无外乎两点:猎杀和栖息地破坏。

(1)材料一的内容证明了哪些观点?(4分)给人类带来哪些警醒?(4分)

材料二:在长江、黄河、淮河、海河、珠江等七大流域,“流域管理机构+省级河长制办公室”联席会议制度开始实施,省、市、县、乡级河湖长年均巡查河湖700万人次,有力地保护着河湖的水质。在浙江平湖,农民买农药要“刷脸”,数据系统根据每个农户的种植面积自动算出农药的总用量,控制农户的农药购买总量,提醒农户绿色种植。

(2)材料二的内容证明哪些因素在我国的生态文明建设中发挥着重要作用。(4分)

材料三:2021 年 10 月中下旬,内蒙古、甘肃、青海、宁夏 4 省区集中组织开工了一批以沙漠、戈壁、荒漠地区为重点的大型风电光伏基地项目,规模近 3000 万千瓦,拉开第一批装机容量约 1 亿千瓦项目开工序幕。我国还大力发展推进农光互补、“光伏+设施农业”、“海上风电+海洋牧场”等低碳农业模式。

(3)由据材料三中的行动看我国的发展方式,你能看出我国怎样的决心?(3 分)

29.【世界舞台上的中国】(10 分)

材料一:2020 年 8 月,中欧班列累计开行 1247 列、发送货物 11.3 万标箱,同比分别增长 62%和 66%,综合重箱率 98.5%,再创历史新高。中欧班列不断开拓新业务,增添新线路,为保障中欧及沿线国家物流畅通和物资供应稳定发挥了重要作用。

(1)据材料一,概括中欧班列对我国和沿线国家发展分别带来的影响。(4 分)

材料二:国际防疫物资已纳入中欧班列重点保障运输对象,采取优先承运的措施,确保应运尽运。疫情期间,中欧班列不断运送防疫物资,在欧亚大陆开辟了“生命之路”,为驰援全球战疫提供了有力支撑。

(2)据材料二,谈谈中欧班列展现了我国怎样的大国担当。(2 分)

材料三:如今,越来越多国外优质商品通过中欧班列被运到国内。“比利时的啤酒、巧克力,西班牙的红葡萄酒,意大利的植物蛋白冰淇淋…”只要轻轻一点,这些最新商品就能送到家。河南郑州市民程飞是“班列购”网站的粉丝,“中欧班列给我家餐桌带来了很大变化!”

(3)结合所学,请你分析出现材料三中划线部分现象的有利条件。(2 分)

(4)据上述材料和问题,概括中国与世界的关系。(2 分)