

第三单元《表内乘法(二)》检测题(B卷)(西师版)

(时间:80分钟 总分:100分)

一、填空。(每空1分,共25分)

1. $7+7+7+7+7=(\quad)$,可以写成乘法算式 $(\quad)\times(\quad)=(\quad)$,表示 (\quad) 个 (\quad) 相加的和是 (\quad) 。

2. 计算 8×7 和 7×8 时,我们可以想乘法口诀 (\quad) 。

3. 一个因数是9,另一个因数是7,积是 (\quad) 。如果再加上17,和是 (\quad) 。

4. \bigcirc 里面应该填几。

$8\times\bigcirc=64$ $\bigcirc\times 7=21$ $8\times\bigcirc=72$

$\bigcirc\times 4=36$ $7\times\bigcirc=42$ $\bigcirc\times 9=45$

5. 8个3相加的和是 (\quad) ,再加上1个3是 (\quad) 。

6. 1个星期有 (\quad) 天,4个星期有 (\quad) 天,算式是 (\quad) 。

7. 一本书看了6页,没看的是看了的6倍,这本书还有 (\quad) 页没看。

8. $\square\square$

$\bigcirc\bigcirc\bigcirc\bigcirc\bigcirc\bigcirc\bigcirc\bigcirc\bigcirc\bigcirc\bigcirc\bigcirc$

$\triangle\triangle\triangle\triangle\triangle\triangle$


(1) \bigcirc 的个数是 \square 的 (\quad) 倍。

(2) \triangle 的个数是 \square 的 (\quad) 倍。

(3) \bigcirc 的个数是 \triangle 的 (\quad) 倍。

二、选择。(每题2分,共10分)

1. 下图算式错误的是 (\quad) 。



- A. 3×8 B. $8+8+8$ C. 7×3

2. 下面算式中,得数比60小的是 (\quad) 。

- A. 9×7 B. $9+8$ C. $73-8$

3. 从45里面连续减 (\quad) 个6就等于9。

- A. 7 B. 6 C. 5

4. 从0、1、2、9中任意选两个数相乘,积最大是 (\quad) ,积最小是 (\quad) 。

A. 18

B. 1

C.0

5. 小明沿着马路栽树,每隔 9 米栽一棵,从头到尾共栽了 7 棵,这条路一共长 () 米。

A. 63

B. 54

C. 45

三、在○里填上“>”、“<”或“=”。(每题1分,共9分)

$7 \times 8 \bigcirc 9 \times 6$

$8 \times 6 \bigcirc 3 \times 9$

$$7 + 5 \bigcirc 7 \times 5$$

$$6 + 4 \bigcirc 3 \times 5$$

$$8 + 8 \bigcirc 8 \times 8$$

$$6 \times 2 \bigcirc 4 \times 3$$

$$2 \times 9 \bigcirc 39 - 27$$

$$8 \times 9 \bigcirc 54 - 4$$

$6 \times 7 \bigcirc 5 \times 9$

四、在○里填上“+”、“-”或“×”。(每题1分,共9分)

$$8 \bigcirc 8 = 16$$

$$7 \bigcirc 7 = 49$$

$$6 \bigcirc 8 = 48$$

$$8 \bigcirc 9 = 72$$

$$63 \bigcirc 9 = 54$$

$$6 \bigcirc 9 = 54$$

$$5 \bigcirc 8 = 40$$

$$6 \bigcirc 6 = 36$$

$$8 \bigcirc 7 = 56$$

五、括号里最大能填几。(每题 1 分,共 6 分)

$9 \times () < 74$

$$7 \times (\quad) < 31$$

$$(\quad) \times 5 < 37$$

$9 \times (\quad) < 64$

$8 \times () < 60$





$$(\quad) \times 6 < 45$$

六、算一算。(每空 0.5 分,共 9 分)



球价/个	1	2	3	4	5	6	7	8	9
买足球()元/个	8								
买篮球()元/个	9								

七、列式计算。（每题 2 分，共 8 分）

 <p>7 捆萝卜多少根？</p> <p><input type="text"/> ○ <input type="text"/> = <input type="text"/> ()</p>	 <p>买 8 本书多少钱？</p> <p><input type="text"/> ○ <input type="text"/> = <input type="text"/> ()</p>
 <p>7 张两元共多少？</p> <p><input type="text"/> ○ <input type="text"/> = <input type="text"/> ()</p>	 <p>7 张 5 元共多少？</p> <p><input type="text"/> ○ <input type="text"/> = <input type="text"/> ()</p>

八、解决问题。（1 题 6 分，2 题 3 分，3 - 5 题各 5 分，共 24 分）

1. 看图解决问题。

(1) 一共开了多少朵花？



(2) 钢笔每支 8 元，铅笔每支 1 元，一共需要多少钱？



2. 妈妈这个月放了 3 个星期的假，一共放了多少天？



3. 学校举行运动会。



一共有 60 名运动员参加 100 米赛跑,8 次可以比完吗?

4. 幼儿园李老师给 6 个小朋友分糖,每个小朋友分 8 颗,还剩 4 颗,李老师一共有多少颗糖?

5.



6元



9元



8元

(1)买六本《意林》和一本《少儿百科全书》一共需要多少钱?

(2)买五本《童话故事》和一本《少儿百科全书》,50 元钱够吗?

(3)你还能提出其他的数学问题并解答吗?