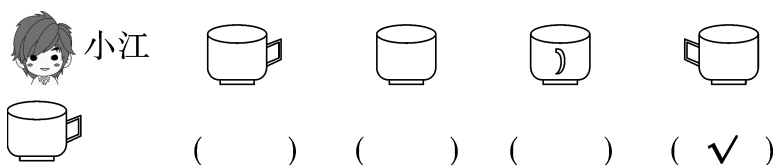


第四单元素质测评试卷

(总分:100 分 时间:60 分钟)

题 号	一	二	三	四	五	六	七	八	总 分
得 分									

一、下面哪幅图是小江看到的？在括号里打“√”。(3 分)



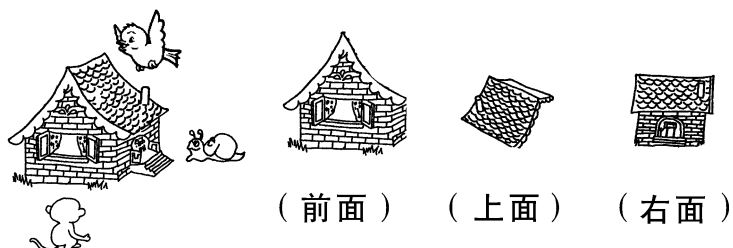
二、下面这些图分别是谁看到的？将名字填在相应的括号里。(8 分)



三、三个小朋友站在不同的方向给小熊照相,下面的照片分别是谁拍到的？在括号里写出他们的名字。(6 分)



四、下面的图分别是小动物们从房子的哪个面看到的？填一填。(9 分)

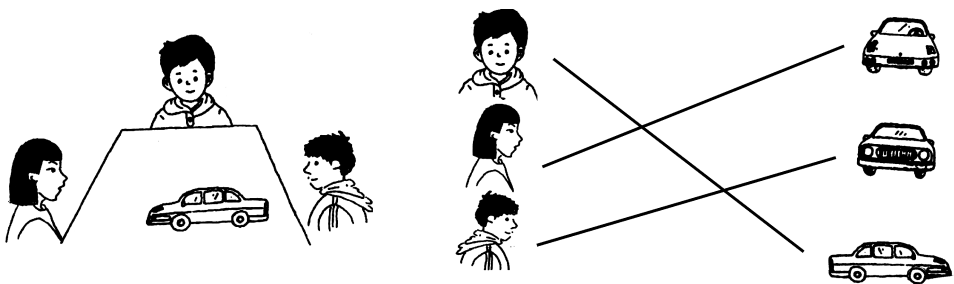


五、两个小朋友从不同方向观察同一个圆柱,下图分别是谁看到的? (8 分)




六、观察物体我能行。(48 分)


1. 下面的这些图分别是谁看到的? 连一连。(6 分)




2. 他们分别拍到车的哪一面? 连一连。(6 分)




3. 他们分别看到椅子的哪一面? 连一连。(6 分)




4. 他们分别看到了什么？连一连。(6 分)



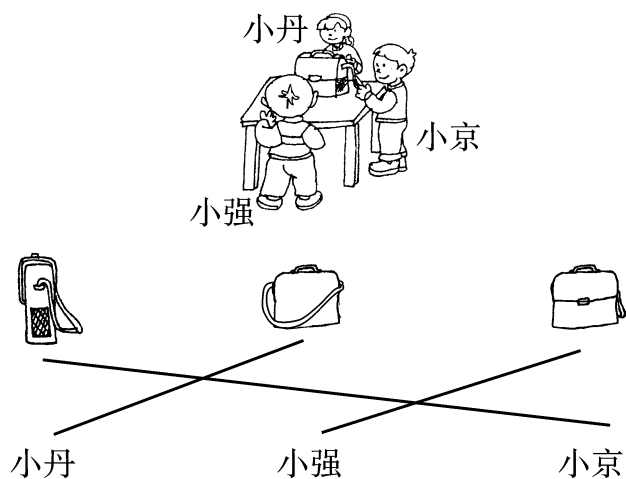
5. 他们分别看到礼盒的哪一面？连一连。(6 分)



6. 下面的图分别是谁看到的？连一连。(12 分)



7. 他们分别看到书包的哪一面？连一连。(6 分)



七、从汽车的前面看到的填“前面”，从侧面看到的填“侧面”，从后面看到的填“后面”。(9 分)



(侧面)



(前面)



(后面)

八、看一看下面的照片，从前面拍到的填“前面”，从后面拍到的填“后面”，从侧面拍到的填“侧面”。(9 分)



(侧面)



(后面)



(前面)