

# 第五单元《测量长度》检测题(A卷)(西师版)

(时间:60分钟 总分:100分)

## 一、填一填。(26分)

1. 量较长物体的长度,可以用( )作单位。量较短物体的长度可以用( )作单位。

2. 量物体的长度时,要把尺子的( )刻度对准物体的一端,再看物体的另一端对着几。

3. 1米=( )厘米

400厘米=( )米

15厘米+8厘米=( )厘米

30米+6米=( )米

16厘米-9厘米=( )厘米

6米-5米=( )厘米

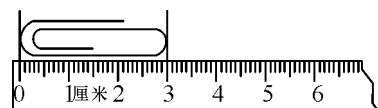
30米+8米=( )米

12厘米-7厘米=( )厘米

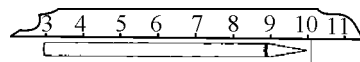
27厘米+6厘米=( )厘米

54米-4米=( )米

4. 看一看,填一填。



这支回形针长( )厘米



这支铅笔长( )厘米。

5. 在( )里填上合适的单位。

(1)一本书厚1( )

(2)手掌的宽约1( )

(3)操场长约60( )

(4)课桌的高65( )

(5)一条跳绳长2( )

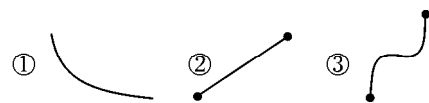
(6)哥哥的身高1( )28( )

6. 把30厘米、25厘米、1米、90厘米按从小到大顺序排列。

( ) < ( ) < ( ) < ( )

## 二、选一选。(把正确答案的序号填在括号里)(8分)

1. 下面三条线中,( )是线段。



2. 要知道学校的操场有多长,应该用( )来量。

①三角尺

②米尺

③卷尺

3. 你的椅子大约高( )。

①45厘米

②45米

③45分米

4. 一棵树的高度大约是3( )。

①厘米

②米

③分米

## 三、辨一辨。(对的在括号里打“√”,错的打“×”)(20分)

1. 一张单人床长2米。

( )

2. 一块橡皮擦厚10厘米。

( )

3. 一支自动水笔的长是 16 厘米。

(     )
4. 小红爸爸的身高有 170 米。

(     )
5. 长 1 米的木棒要比长 100 厘米的铁丝短一些。

(     )
6. 一棵大树高 6 厘米。

(     )
7. 小明比小红高 3 分米。

(     )
8. 一支铅笔长 16 厘米。

(     )
9. 教室的宽是 60 厘米。


(     )
10. 一个国旗杆高 5 厘米。

(     )

四、量一量。(30 分)

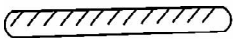
1. 先量出下面每条线段的长度填在右边的括号里,再回答问题。

第一条  (     ) 厘米

第二条  (     ) 厘米

①两条一共有(     )厘米。      ②第二条比第一条长(     )厘米。

2. 估一估,量一量,填一填。



估计长(     )厘米

实际长(     )厘米



估计长(     )厘米

实际长(     )厘米

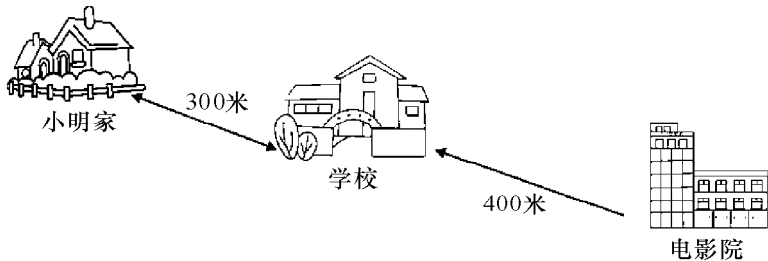
3. 先量一量,再填空。



五、应用题。(共 26 分)

1. 小明身高 80 厘米,小刚身高 90 厘米,谁高? 高多少厘米?(6 分)

2. 小明家到学校有 300 米,从学校到电影院有 400 米。



(1)小明每天上午到学校上课,下午回家,要走多少米?(3 分)

(2) 小明从家出发到电影院看电影,要走多少米? (3 分)

3. 把一根 8 米长的绳子对折一次,再对折一次。这时,每段长几米? (6 分)

4. 小山羊家要买新房,爸爸量得新房的门高是 78 厘米。小山羊一家的身高分别是:小山羊 60 厘米,妈妈比小山羊高 10 厘米,爸爸比妈妈高 10 厘米。请你帮他们算一算,新房子的门合适吗? (8 分)