

## 第六单元《条形统计图》检测题(A卷)(西师版)

(时间:60 分钟      总分:100 分)

### 一、填空题(16 分)

1. 统计的结果可以制成( )或( ).
2. 条形统计图比统计表更加( ),能直观看出各种数量的多少.
3. 在一幅条形统计图中,如果用 4 厘米高的直条表示 2000 本,那么 5 厘米高的直条表示( )本,表示 500 本要画( )厘米高.
4. 条形统计图的横轴和纵轴是两条互相( )的射线.
5. 条形统计图上,如果用横轴表示事物,那么纵轴就表示( ),这条轴一般从 0 开始.
6. 三年级学生有 90 人,在作业本上画条形统计图用 5 毫米表示( )人比较合适.

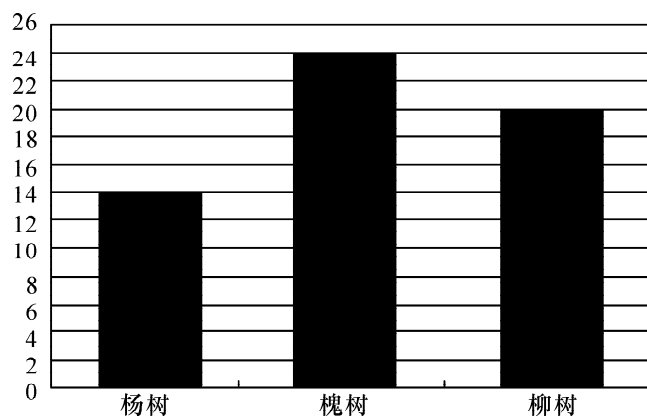
## 二、选择(25 分)

1. 杨树再种( )棵就和柳树同样多.

## A.4

B. 6

C. 8

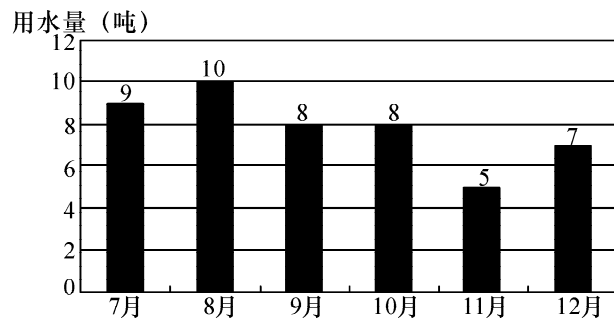


2. 芳芳家下半年各月用水量最多相差( )千克.

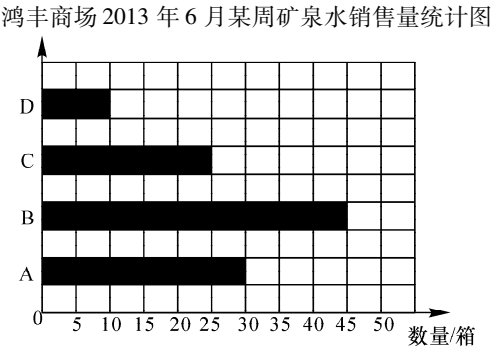
## A.5

B. 5000

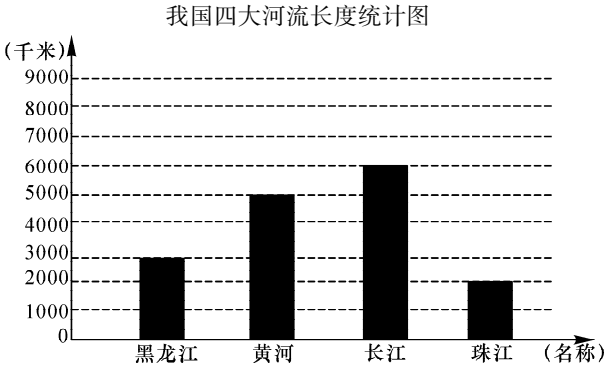
C. 50




3. 你认为鸿丰商场再进货应多进( )种矿泉水.
- A. A                      B. B                      C. C                      D. D



4. ( )条河流是我国的第一大河,它大约长( )千米.
- A. 长江,6000              B. 黄河,6000              C. 黑龙江,6000              D. 珠江,6000



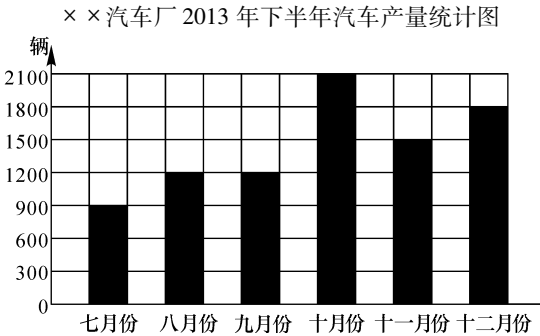
5. 根据统计结果,你认为 D 选项的数值大约是( )比较合理.
- A. 10                      B. 12                      C. 16                      D. 24



三、解答(59 分)

1. 请你来统计. (21 分)

下面是汽车厂 2013 年下半年汽车产量的情况的统计图.



(1)产量最少是几月份,是多少辆? 产量最多是几月份,是多少辆?

(2)十二月份生产的汽车是七月份的多少倍?

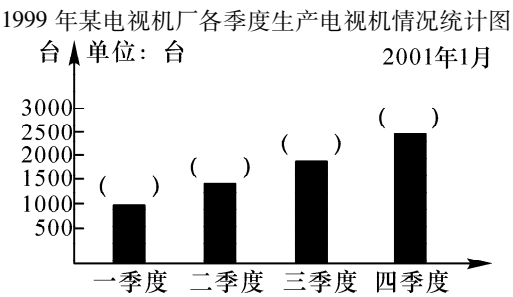
(3)下半年一共生产了多少辆汽车?

2. 完成统计图,并回答问题. (24 分)

(1)填出每个季度的产量.

(2)全年共生产( )台.

(3)平均每个季度生产( )台.



3. 根据育兴小学各兴趣小组人数完成统计图. (14 分)

名称	篮球队	美术组	合唱队	舞蹈队	计算机组	管乐队
人数(人)	30	18	58	46	32	54

