















第四单元《认位置》检测题(A卷)(江苏版)


(时间:40分钟 总分100分)

一、说一说,填一填,  的上面、下面、左面、右面是什么(共12分)



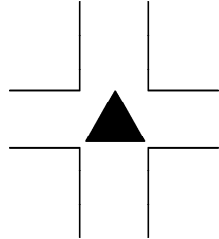
 在  的 _____ 面,  在  的 _____ 面。
 在  的 _____ 面,  在  的 _____ 面。
 在  的 _____ 面,  在  的 _____ 面。

二、看一看,填一填(共14分)




小猴的前面是(),后面是()。
小兔的前面是(),后面是()。
()的前面是(),后面是()。

三、画一画(共12分)



在 ▲ 的下面画1个○。
在 ▲ 的左面画1个△。
在 ▲ 的上面画2个□。
在 ▲ 的右面画2个●。

四、看图,认一认,勾一勾(共8分)



 的(左、右)面是 。
 在  的(上、下)面。
 的(前、后)面是 。
 在 () 的右面。

五、判断(对的画“√”,错的画“×”)(共12分)




1.  在  的右边。()

2.  在  的右边。()

3.  在  的左边。()

4.  在  的左边。()

六、仔细观察,认真填空(共14分)



李红 小明 小花 丁一 小月 小洁 王强 小英 张文

1. 小花的左边是(),右边是()。

2. ()在小洁的左边,小洁的右边是()。

3. 丁一的右边是(),左边是()。

4. 把王强右边的一个同学的衣服涂上红色。


七、填一填(共12分)



1. 小狗跑在最()面,小象跑在最()面。

2. 小象跑在小牛的()面,小狗跑在小兔的()面。

八、填一填,一定要仔细观察(共16分)



1. 桃子的()面是苹果。

2. 梨子的()面是苹果。

3. 西瓜的()面是桃子。

4. 苹果的()面是菠萝。

思维冲浪

同学们排队做操,小明前面有4个人,后面有4个人,这一队一共有多少人?