

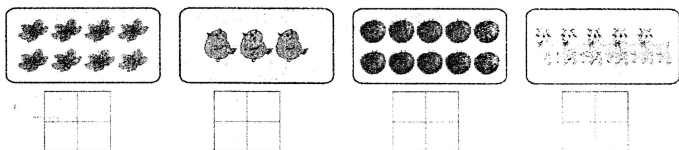
# 小学一年级数学（上册）期中检测

（时间：60 分钟，满分 100 分）

评分：\_\_\_\_\_

## 一、填一填。（每空 1 分，共 24 分）

### 1、看图写数。



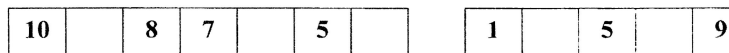
### 2、按顺序填数。



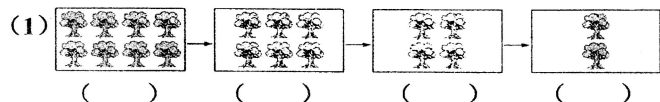
一共有（ ）只小动物， 排第（ ）， 排第（ ），  
它的前面有（ ）只小动物。

3、 一共有（ ）个水果。

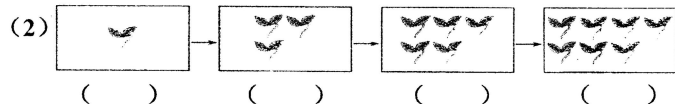
### 4、按规律填数。



### 5、数一数，填一填。



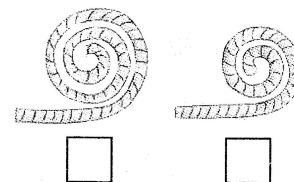

每次少（ ）个。



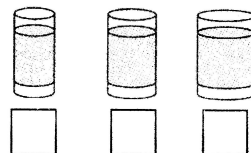
每次多（ ）个。

## 二、比一比。（12 分）

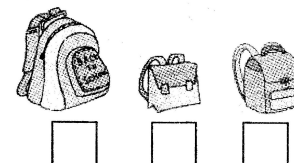
1、重的画“√”，轻的画“○”。 2、长的画“√”，短的画“○”。



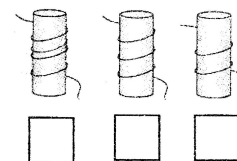

3、装水最多的画“√”，



4、最小的画“○”。



5、最高的画“√”，最矮的画“○”。 6、最长的画“√”，最短的画“○”。



## 三、算一算。（16 分）

$7+2=$	$9-5=$	$5-5=$	$9-5-3=$
$5+4=$	$8+2=$	$0+6=$	$6+2+1=$
$10-3=$	$8-7=$	$7-2=$	$5-3+8=$
$6+3=$	$6-4=$	$7-3=$	$9-2+1=$

四、在○里填上“>”“<”或“=”。(6分)

$2+5 \bigcirc 8$

$10-3 \bigcirc 2+6$

$3+3 \bigcirc 10-4$

$6-3 \bigcirc 2$

$5+4 \bigcirc 9-2$

$9-8 \bigcirc 3+6$

五、数一数，连一连。(8分)



③ ⑩ ⑦ ② ① ⑤ ⑧ ⑥

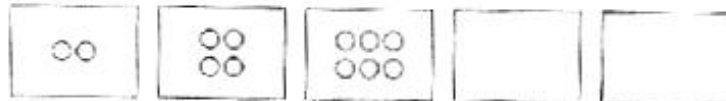


六、画一画。(10分)

1、照样子画一画。(6分)



2、找规律，接着往后画。(4分)



七、按要求写数。(5分)

1、在0, 6, 8, 2, 4, 7, 3, 9, 5中, 把小于6的数写在下面。

--	--	--	--	--	--	--	--	--	--	--	--	--	--	--

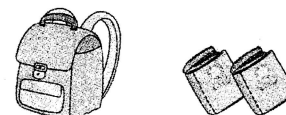
八、解决问题。(19分)

1、一共有多少只小鸟?(5分)



$\square \bigcirc \square = \square \text{ (只)}$

2、一共有10本书。(6分)



书包里有多少本?

$\square \bigcirc \square = \square \text{ (本)}$

3、一共有9根萝卜。(8分)



还剩多少根萝卜?

$\square \bigcirc \square \bigcirc \square = \square \text{ (根)}$