

姓名

班级

学校


2022-2023 学年第一学期阶段性练习

一年级数学

(满分:100 分)

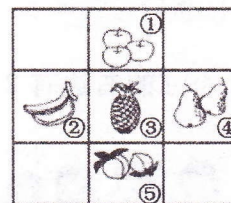
一、填一填

1. 看图写数



2. 如图,一共有()种水果。(后面的括号内请填序号)

的左边是(), 下面是();
 在()和()的下面;
 的右面是()和()。



3. ☆☆☆☆☆☆☆☆☆

○○○○○○○

☆比○多()个, ○比☆少()个。再添上()个○, ○就和☆同样多。

4. 在○里填“<”“=”或“>”, 在□里填上合适的数

$$3+3 \bigcirc 8 \quad 10-7 \bigcirc 4 \quad 6+4 \bigcirc 8 \quad 0+6 \bigcirc 6$$

$$6-\square=1 \quad 7-\square>3 \quad 4<\square-3 \quad 6<\square-4$$


5. 明明想买 8 条金鱼, 他应该选①号和号()鱼缸。



二、算一算


$4+5=$	$9+0=$	$10-2=$	$8-5=$	$0+5=$
$6-6=$	$5+3=$	$9-6=$	$2+3=$	$9-4=$
$5+0=$	$6+1=$	$9-2=$	$10-1=$	$4+6=$
$4+1+5=$	$9-6+6=$	$10-4+3=$	$4+4-5=$	$10-2-4=$

三、圈一圈 (把不同类的圈出来)



四、按要求画一画

1. 接着画

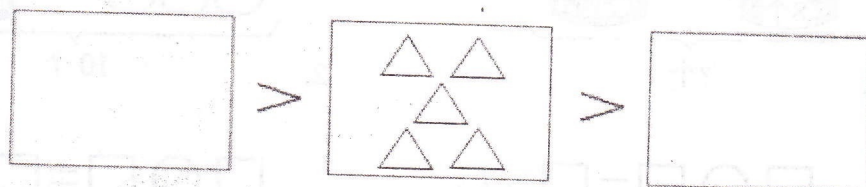


7

6

9

2. 左边的口里可以画几个△? 右边呢?




五、按要求做一做



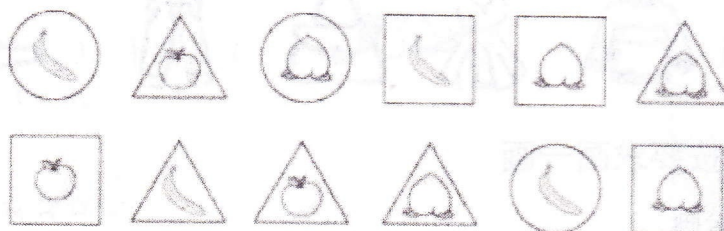
(1) 如图一共有 () 个文具。

(2)  的左面有 () 个文具,  的右面有 () 个文具。

(3) 从右数,  排第 (),  从左数排第 ()。

(4) 把从左边数的 4 个文具圈起来。

六、我会分类整理



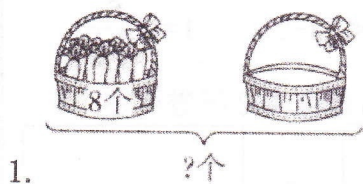
(1) 按卡片形状分

	正方形	三角形	圆
张数	—	—	—

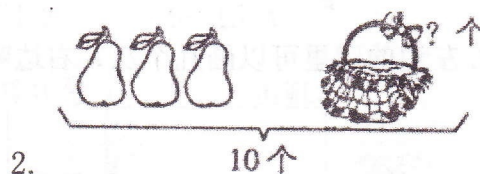
(2) 按水果的种类分

	苹果	桃	香蕉
个数	—	—	—

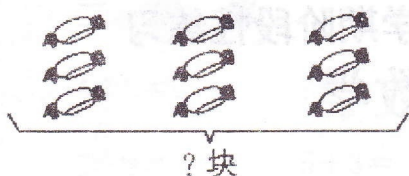
七、看图列式计算



$$\square \bigcirc \square = \square \text{ (个)}$$

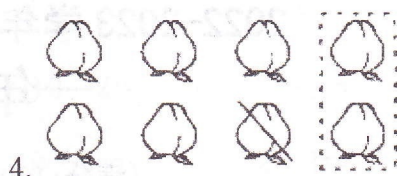


$$\square \bigcirc \square = \square \text{ (个)}$$



3.

$$\square \bigcirc \square \bigcirc \square = \square \text{ (个)}$$



4.

$$\square \bigcirc \square \bigcirc \square = \square \text{ (个)}$$

5. 原来有几根热狗?



已经吃了3根，
正好还剩4根。

$$\square \bigcirc \square = \square \text{ (根)}$$

6. 小白兔拔了多少个萝卜?



我们一共拔了
9个胡萝卜。

我拔了4个
胡萝卜。

$$\square \bigcirc \square = \square \text{ (个)}$$

7. 小红的右边有 3 人，左边有 4 人，这一排一共有多少人?



$$\square \bigcirc \square \bigcirc \square = \square \text{ (人)}$$