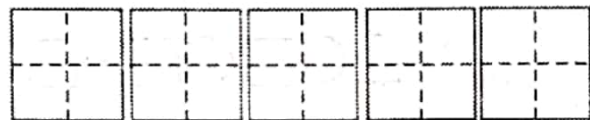




# 2022—2023 学年第一学期一年级数学阶段性检测题

(时间: 40 分钟 满分 100 分)

一、我会写, 把 0-9 这 10 个数字写在下边的田字格中 (10 分)



二、我会算。(共 20 分)

$3+5=$        $0+3=$        $4-0=$        $2+6=$

$9-2=$        $8-8=$        $5+4=$        $8-7=$

$7-3=$        $9-7=$        $9-8=$        $6-5=$

$5+2-3=$        $9-4-2=$        $10-3-4=$        $8+2-4=$

$6+2-8=$        $1+2+5=$        $8-6+7=$        $5+4-6=$

三、填一填 (共 26 分)



1. 一共有 ( ) 只动物, 从左往右数, 蝴蝶排第 ( ), 小狗排第 ( ), 它前面有 ( ) 只小动物, 后面有 ( ) 只小动物。

2. 在 ( ) 里填上适当的数。

$7-( )=5$        $2+( )=6$        $8-( )=3$        $( )+1=10$

$2+( )=7$        $10-( )=6$        $( )-3=5$        $6-( )=1+3$

3. 在○里填上“>”、“<”或“=”。

$3 \bigcirc 5$        $10 \bigcirc 9$        $3+4 \bigcirc 7$        $2+6 \bigcirc 4+5$

4. 按规律填空。

(1) 0    1    2    ( )    ( )    5

(2) 9    ( )    ( )    3    1


5. 与 6 相邻的两个数是 ( ) 和 ( ), 比 7 的数有 ( ) 个。

6. 被减数是 10, 减数是 2, 差是 ( )。

7. 上下楼梯, 靠 ( ) 行走。

四、操作题。(14 分)

1. 圈一圈, 把每行中不同类的圈出来。(6 分)



2. 按要求画符号。(4 分)

(1) 谁最高? 画“√”, 哪只铅笔最长? 在后面画“○”。

考号:

姓名:

班级:

学校:




3. 圈一圈 (4分)。

把从左数第5个圈起来, 把从右数的4个圈起来。

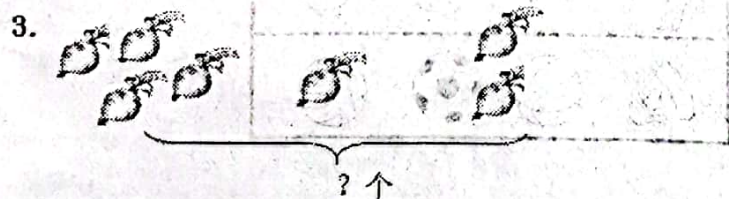


十、看图列式。(共30分)

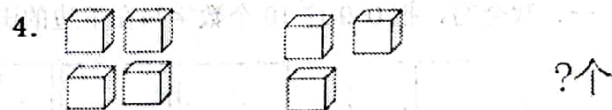


$$\square \bigcirc \square = \square$$

$$\square \bigcirc \square = \square$$



$$\square \bigcirc \square \bigcirc \square = \square$$



9 个

$$\square \bigcirc \square \bigcirc \square = \square$$

5. 这一队一共有多少人?

