

小学三年级数学(上册)期中检测卷


(时间: 80 分钟, 满分 100 分)

评分: _____

一、填空题。(22 分)

1. 站在同一个位置上看长方体, 最多能看到 () 个面, 最少可以看到 () 个面。
2. $28+24\div4$ 应先算 () 法, 再算 () 法。
3. 一个数的 6 倍比 14 大 40, 这个数是 ()。
4. 50×2 的积末尾有 () 个 0, 250×4 的积末尾有 () 个。
5. 比 478 多 522 的数是 (), 比 482 少 146 的数是 ()。
6. 计算 $458+(400-275)$, 先算 () 里面的, 再算 () 外面的。
7. 口算 50×6 时, 可以想 5 个十乘 6 得 () 个十, 是 ()。
8. 因为 $6\times9=54$, 所以 $60\times9=()$, $6\times900=()$ 。
9. 买 3 本笔记本, 付了 20 元, 找回 5 元, 每本笔记本 () 元。
10. 乐乐今年 6 岁, 奶奶的年龄是乐乐的 10 倍, 奶奶今年 () 岁, 她叔叔今年 36 岁, 叔叔的年龄是乐乐的 () 倍。
11. 计算 $66-54\div6$ 时, 要想先算 “ $66-24$ ”, 那么需要添上 (), 列综合式是 ()。

二、判断题。(对的打 “√”, 错的打 “×”) (5 分)

12. $28+58-16$ 的运算顺序是从左往右依次计算。…………… ()
13. 10 里面有 2 个 5, 100 里面有 20 个 5, 1000 里面有 200 个 5。…………… ()
14. 一个两位数乘 9, 积一定是两位数。…………… ()
15. $2100\div7$ 和 $210\div7$ 的结果是相等的。…………… ()
16.  从左面和从正面看到的图形是一样的。…………… ()

三、选择题。(将正确答案的序号填在括号里) (10 分)

17. 刘老师 4 分钟打字 320 个, 王老师 6 分钟打字 480 个, 两人的打字速度相比。
()

A、王老师快 B、刘老师快 C、一样快

18. 计算 $8\times(12-5)$ 的结果是 ()。

A、48 B、56 C、91

19. 世贸商场运来 475 筐水果, 上午卖了 178 筐, 下午又运来 172 筐, 求现在水果有多少筐? 正确的列式是 ()。

A、 $485+178+172$ B、 $475-178+172$ C、 $485-178-172$

20. 要使 $6\times(\bigcirc+5)=48$, \bigcirc 里应该填 ()。

A、3 B、8 C、18

21. 一个汉堡包 15 元, 买了 3 个汉堡包, 付了 100 元, 应找回 () 元。

A、45 B、55 C、95

四、计算题。(20 分)

22. 直接写出得数。(8 分)

$15\times4=$	$48\div3=$	$80\times5=$	$500\times7=$
$28\times3=$	$80\div4=$	$40\times6=$	$720\div4=$

23. 脱式计算。(12 分)

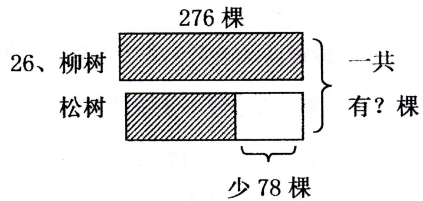
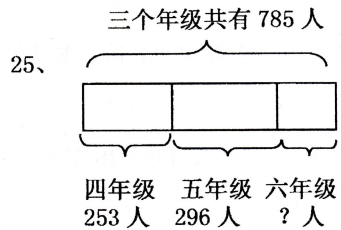
(1) $420\div6\times5$ (2) $170-84\div4$

(3) $5\times(72-54)$ (4) $(93-45)\div4$

五、下面的图形各是谁看到的? 连一连。(6 分)



六、看图列式计算。(8分)。



七、解决问题。(4分×5 +9分=29分)

27、一袋面粉重 15 千克，食堂买了 6 袋面粉，一共重多少千克？

28、乐乐 4 分钟做了 48 道计算题，笑笑 3 分钟做了 39 道计算题，谁做得更快？

29、淘气的妈妈买 5 双袜子，每双袜子 16 元，一件上衣 138 元，一共花了多少元？

30、陈老师给售货员 100 元，买了 4 个足球，找回 12 元，每个足球多少元？

31、苹果有 54 个，梨比苹果少 45 个，苹果的数量是梨的几倍？

32、下面是王叔叔星期一至星期五每天收车时汽车里程表读数。(单位：千米)

星期一	星期二	星期三	星期四	星期五
380	545	660	750	925

(1) 王叔叔星期一出车时的读数为 207 千米。算一算王叔叔每天行驶的里程数，哪一天最多？哪一天最少？(5分)

(2) 算一算王叔叔星期一至星期五行驶的里程数是多少千米？(4分)

