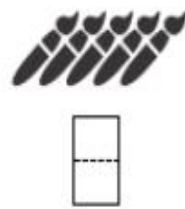

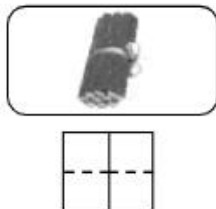
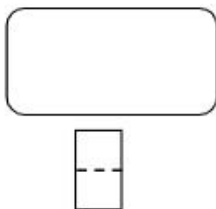
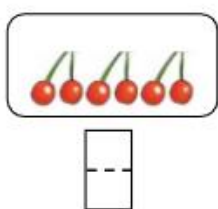


序号 _____
 姓名 _____
 班级 _____ 学 校 _____

一年级数学上册期中练习 (2023.11)

一、仔细填空 (72 分)

1、看图写数 (5 分)。



3、比一比，填一填 (8 分)






() 比 () 多 ()



() 比 () 多 ()



4、按规律填空 (10 分)



5、在○里填 “>” “=” “<” 或在 □ 填入合适的数 (8 分)

$4 \bigcirc 5$

$10 \bigcirc 7+2$

$6 \bigcirc 0$

$9 \bigcirc 6$

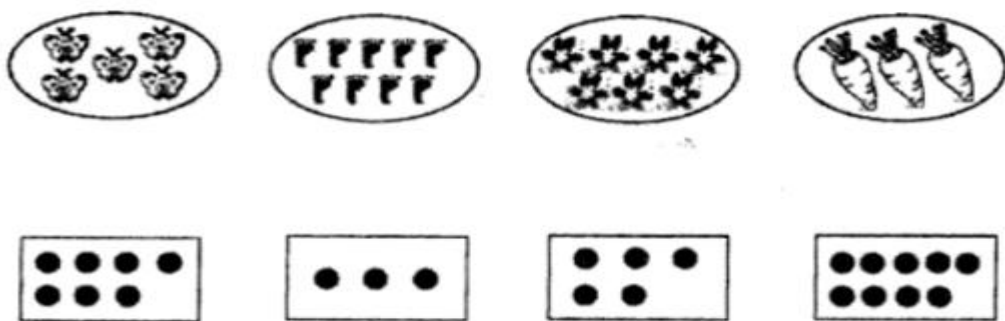
$\square > 9$

$4 < \square$

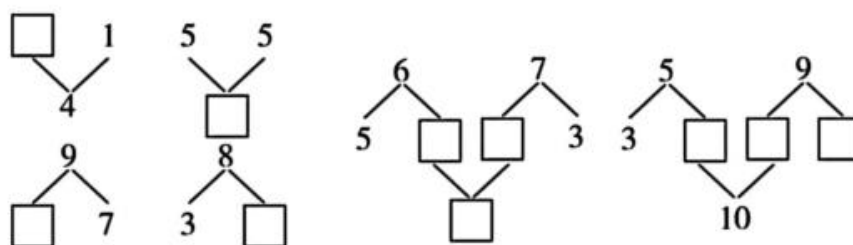
$8 > \square$

$1 > \square$

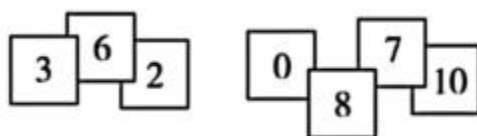
6、连一连 (4 分)



7、在 里填合适的数。（10分）



8、填一填（7分）



(1、) 数一数，一共有（ ）张数字卡片，这些卡片中最小的数是（ ），最大的数是（ ）

(2) 从右边起，7 是在第（ ）张，第（ ）张是 0

(3) 从左边起，第（ ）张和（ ）张合起来是 5。

9、在 里填入合适的数。（11分）

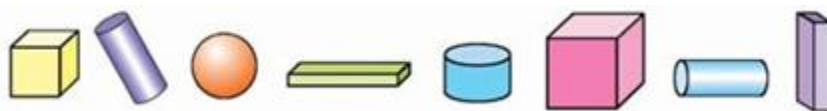





(1) 和 1 相邻的两个数是 和 。


(2) 8 的前面一个数是 ，8 的后面第二个数是 。



(3) 5 离 10 近还是离 1 近（在 里打“√”） 10 1

10、(9分)



(1) 一共有()个物体,其中  有()个, 有  ()个,有()个  。

(2)从左边数起,第()个是 ;从右边数起  在第()和第()个。

(3)  的左边一个是(圆柱 长方体), (圆柱 长方体)在  的右边。

(选出正确答案圈出来)

二、选一选(10分)

1、()小正方体可以摆成一个大正方体。在正确的答案后面画“✓”

☐ 4

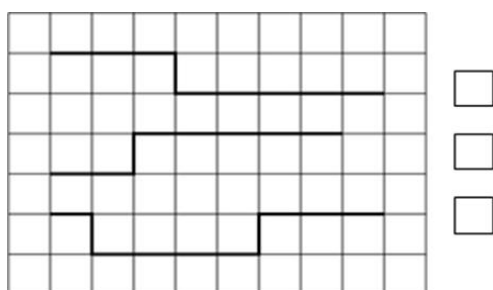
☐ 6

8 ☐

2、比一比,长的画“√”。



3、比一比,最长的画“√”,最短的画“○”。



4、数一数,下面的筷子够5个人用的吗?在够后面画“√”



5、比5大比10小的数有()个

A 4 ☐ B 3 ☐ C 6 ☐


三、操作题（共计 10 分）

（一、）圈出每组不同的物体。（3 分）




（二、）把正确的答案圈出来（4 分）

- 1、书包的（左 右 ）是茶几。
- 2、小马的（上 下 ）是书包。
- 3、火车的（左 右 ）是狮子。
- 4、篮球的（上 下 ）是茶壶。



四、我会画（共计 8 分）

1、在方框里画 



2、按要求画○。

△△△△△

□□□□□□□□

○比△多 2 个，比正方形少 1 个

3、按规律接着画

○△△○△△ () () () ()

□○□□○□□□○ () () () ()