

# 2022 年下半年小学一年级数学导练(6)

(上册 阶段导练)

班级\_\_\_\_\_ 姓名\_\_\_\_\_

## 基础训练

### 一、算一算。

$6+2=$

$4+3=$

$9-5=$

$10-2=$

$6+3+1=$

$2+8=$

$5+0=$

$7+3=$

$9-9=$

$3-2+7=$

$3+4=$

$5+3=$

$7-6=$

$8-3=$

$4+3+1=$

$5-3=$

$6+4=$

$6+4=$

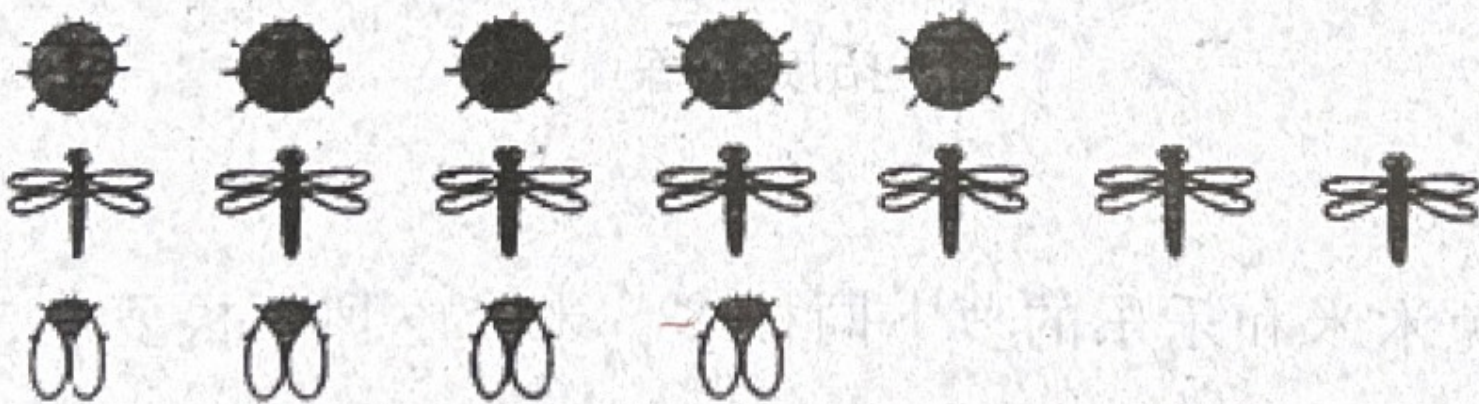
$10-7=$

$10-4-3=$

### 二、填一填。

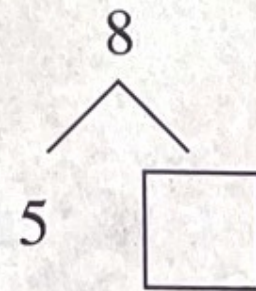
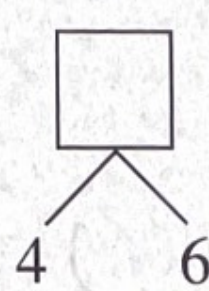
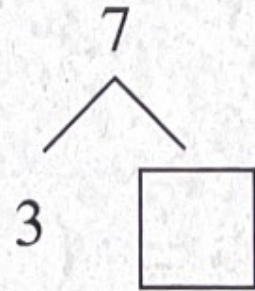
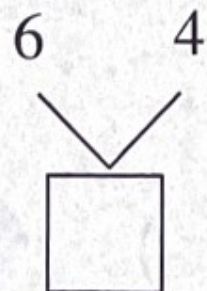
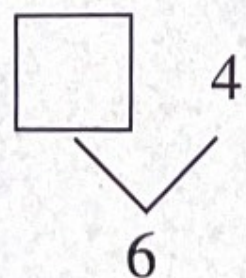
1. 比 5 多 3 的数是( ); 比 10 少 4 的数是( )。

2.



比 多( )只, 比 少( )只。

3.





4. 在○里填上“>”“<”或“=”，在□里填数。

$4+5 \bigcirc 9$

$7-4 \bigcirc 2$

$4-4 \bigcirc 4$

$4+6 \bigcirc 6+2$

$\square > 4$

$8 < \square < 10$

$\square - 4 = 4$

$\square + 7 = 9$

5.




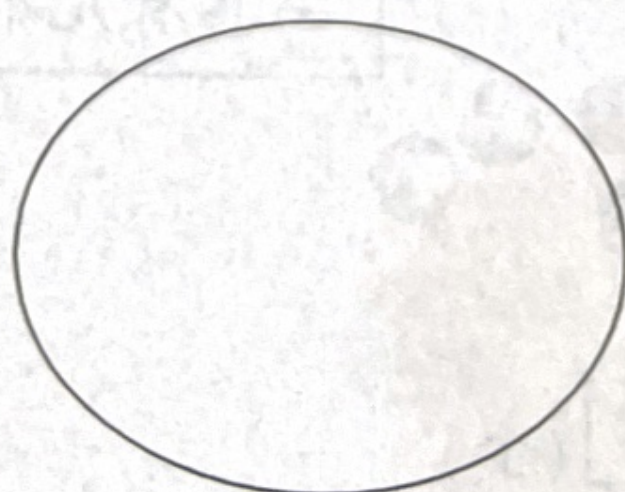

(1) 一共有( )个长方体, ( )个圆柱。

(2) 从右边数, 第( )个和第( )个都是圆柱。

(3) 圈出最右边的3个图, 再把左边的第3个涂上红色。


三、画一画。

1. 把6个苹果放在3个盘子里, 要使每个盘子里放得一样多, 可以怎样放? 画一画。(用○代表苹果)





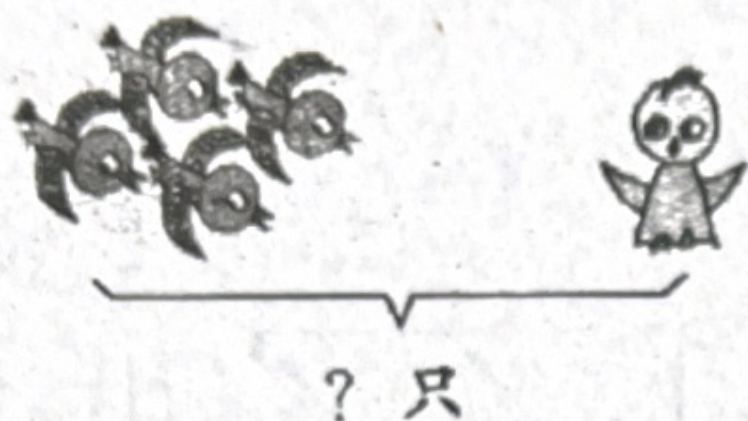
2.



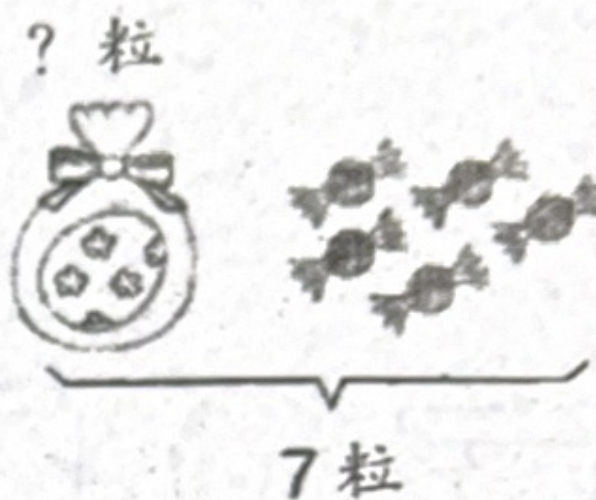
在 的上面画○，在 的下面画△，  
在○的左边画□，在△的右边画☆。

能力提升


四、看图写算式。



$$\square \bigcirc \square = \square (\text{只})$$



$$\square \bigcirc \square = \square (\text{粒})$$



$$\square \bigcirc \square \bigcirc \square = \square (\text{个})$$

五、想一想,做一做。

1. 袋子里装有 4 个球。



一共有几个球?



$$\square \bigcirc \square = \square (\text{个})$$



2. 一共有 8 只蚂蚁。



屋子里还有几只蚂蚁?



$$\square \bigcirc \square = \square (\text{只})$$

3.



给舞蹈队 10 人每人发一盒牛奶, 还需要多少盒牛奶?






$$\square \bigcirc \square = \square (\text{盒})$$

### 拓展训练

### 六、聪明题。

1. 小兔米米和乐乐的萝卜同样多, 米米吃掉 4 根萝卜, 乐乐吃掉 7 根萝卜。( ) 吃的萝卜多, ( ) 剩的萝卜多。

2. 相同的水果代表相同的数, 想一想, 每种水果各代表几?



= ( )

= ( )

= ( )