




# 一年级数学期中学情评价卷 (2022 秋)

说明：全卷共 4 页，满分 100 分，考试时间 60 分。

5.

(1) 一共有 ( ) 只小动物。

(2) 从  开始数， 排在第 ( ) 位， 排在第 ( ) 位。

## 三、计算。(28 分)

1. 直接写得数。(16 分)

$4+3=$

$9-2=$

$10-6=$

$6-3=$

$10-10=$

$4+5=$

$9-5=$

$3+7=$

$0+6=$

$5+3=$

$1+9=$

$6+2=$

$10-7=$

$7-0=$

$8-5=$

$4+1=$

2. 算一算。(12 分)

$8-7+3=$

$9-6+3=$

$7-2+4=$

$4+4+2=$

$10-2-8=$

$5+5-3=$

## 四、我会连。(8 分)

$4+6$

$7$

$8-6$

$7-2$

$5+4$

$8$

$10-4$

$9-7$

$3+5$

$9$

$9-4$

$7-4$

$8-1$

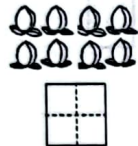
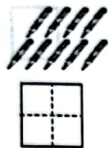
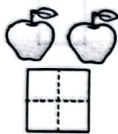
$10$

$5-2$

$9-3$

## 一、我会做。(6 分)

1. 看图写数。



2. 看数涂一涂。



5

3

10

## 二、我会填。(每空 1 分，共 26 分)

1. 和 6 相邻的两个数是 ( ) 和 ( )。

2. 找规律填数。

(1) 10、( )、8、7、( )、( )、( )。

(2) ( )、3、5、( )、( )。

(3) 0、2、4、( ) 8、( )。

3. 在  $\bigcirc$  里填上“>”“<”或“=”。

$7 \bigcirc 9$

$4 \bigcirc 6-2$

$8 \bigcirc 10$

$9-5 \bigcirc 1$

$8-6 \bigcirc 0+1$

$7+3 \bigcirc 6+4$

4. 在 ( ) 里填上合适的数。

$3+( )=8$

$( )-4=5$

$8-( )=2$

$10=( )+8$

$( )+3=5$

$9>( )+6$

学 校

班 级

座 号

姓 名

得 分

# 五、比一比。(6分)


1. 多的画“√”，少的画“○”。



2. 重的画“√”，轻的画“○”。



3. 最高的画“√”，最矮的画“○”。



# 六、画一画，填一填。(6分)

1.  $\square \square \square$

$$3 + \square = 7$$

2.  $\bigcirc \bigcirc \bigcirc \bigcirc \bigcirc \bigcirc$

$$6 + \square = 10$$

3.  $\triangle \triangle \triangle \triangle \triangle$

$$5 + \square = 8$$

# 七、看图列式。(20分)




$$\square \bigcirc \square = \square$$

3. 一共有7人。



$$\square \bigcirc \square = \square$$

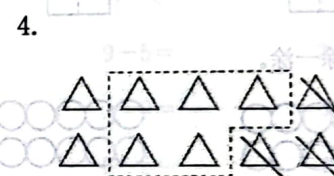
5. 一共有几只小鸟?



$$\square \bigcirc \square \bigcirc \square = \square$$



$$\square \bigcirc \square = \square$$



$$\square \bigcirc \square \bigcirc \square = \square$$