

# 三年级数学期中教学质量检测试卷 (2022 秋)

说明: 全卷共 4 页, 满分 100 分, 考试时间 80 分。

## 一、填空。(每空 1 分, 共 21 分)


- 200 里面有 ( ) 个 5, 有 ( ) 个 4。
- 比 7 个 6 少 4 的数是 ( ), 9 个 8 比 80 少 ( )。
- 计算  $32+20\div5$  时, 应先算 ( ) 法, 再算 ( ) 法, 结果是 ( )。
- 最小的三位数是 5 的 ( ) 倍, 2 个 23 相加的和是 ( )。
- 24 与 16 的差乘 5, 列成综合算式是 ( ), 结果是 ( )。
- 0 乘任何数都得 ( ), 1 乘任何数都得 ( )。
- 在下面的  $\bigcirc$  里填上 “>” “<” 或 “=”。

$$(1) 36\div4+5 \bigcirc 28\div4+8 \quad (2) 800\times0 \bigcirc 0+900$$

$$(3) 12\times5 \bigcirc 15\times2 \quad (4) (6-2)\times3 \bigcirc 3\times5-5$$

- $54\div6=9$ , 那么  $540\div6= ( )$ ,  $5400\div6= ( )$ 。
- 一盒钢笔 15 支, 买了 8 盒, 现在又买了 6 支, 一共买了 ( ) 支钢笔。
- 算式  $3\square\times3$ , 要使积是三位数,  $\square$  最小填 ( )。

## 二、判断。(正确的在括号里打 “√”, 错的打 “×”) (5 分)

- 计算混合运算的算式, 一定要按照从左往右的顺序运算。 ( )
- 9 与 27 的和除以 3, 商是多少? 列式为  $9+27\div3$ 。 ( )
- 站在不同位置观察 , 最多能看到三个面。 ( )
- $800\times5$  的积末尾有 2 个 0。 ( )
- 大车一次运 335 箱牛奶, 比小车多运 189 箱, 两车一共运 481 箱。 ( )

## 三、选择。(选择正确答案的字母填在括号里) (5 分)

- 要使算式  $6\bigcirc5-4=26$  成立,  $\bigcirc$  里应填的运算符是 ( )。  
A. + B.  $\times$  C. -

- 不能先算除法的是 ( )。

A.  $24\div4+2$  B.  $40-32\div8$  C.  $12\div(20-14)$

- $3000\div5$  的商末尾有 ( ) 个 0。

A. 1 B. 2 C. 3

- $8-4=4$ ,  $40\div4=10$  列成综合算式是 ( )。

A.  $40\div(8-4)$  B.  $40\div8-4$  C.  $40\div4-8$

- 比 130 与 120 的和多 150 的数是 ( )。

A. 100 B. 265 C. 400

## 四、计算。(33 分)

### 1. 口算。(10 分)

$$(1) 30\times9 = \quad (2) 0\times8 = \quad (3) 36\div3 = \quad (4) 14\times3 = \quad (5) 12\times5 =$$

$$(6) 33\times2 = \quad (7) 5\times60 = \quad (8) 88\div2 = \quad (9) 48\div2 = \quad (10) 600\div3 =$$

### 2. 列竖式计算。(9 分)

$$184+716-367 = \quad 513+316+103 = \quad 1000-483-65 =$$

### 3. 脱式计算。(9 分)

$$25\times4+230 \quad 6\times(32-29) \quad 500-175-188$$

### 4. 填一填。(每空 0.5 分, 共 5 分)

$$15\times6$$

$\times$	10	5
6		

$$\square+\square=\square$$

$$24\times3$$

$\times$	20	4
3		

$$\square+\square=\square$$

# 五、操作题。(12分)

1. 他们分别看到哪幅图? 在□里打“√”。(6分)

(1)



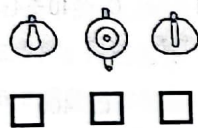
小华



(2)



小丽



(3)




小东



2. 圈一圈, 算一算。(6分)

$$12 \times 5 =$$




$$36 \div 3 =$$



# 六、解决问题。(24分)

1. 奶奶要把100棵白菜运回家, 每次运13棵, 运了6次, 还有多少棵白菜没运? (5分)



$$\square = \square + \square$$



$$\square = \square + \square$$

2. 希望小学三年级有学生278人, 比四年级少26人, 三、四年级一共有学生多少人? (5分)

3. 三年级学生参加植树活动, 男生有40人, 女生有26人, 每6名学生分成一组, 一共可以分成多少组? (5分)

4. 小红阅读一本200页的《故事书》, 5天看了150页, 照这样的速度, 她一个星期(7天)可以看完吗? (5分)

5. 笑笑家的电表读数如下。(单位: 千瓦时)(4分)

6月底	7月底	8月底	9月底	10月底
240	365	568	761	943

(1) 笑笑家8月份用电量是( )千瓦时。(2分)

(2) 笑笑家7月份到10月份一共用电( )千瓦时。(2分)

# 三年级数学期中教学质量检测答题卡

## 一、填空。(每空1分,共21分)

1. \_\_\_\_\_、\_\_\_\_\_
2. \_\_\_\_\_、\_\_\_\_\_
3. \_\_\_\_\_、\_\_\_\_\_、\_\_\_\_\_
4. \_\_\_\_\_、\_\_\_\_\_
5. \_\_\_\_\_、\_\_\_\_\_
6. \_\_\_\_\_、\_\_\_\_\_
7. (1) \_\_\_\_\_ (2) \_\_\_\_\_ (3) \_\_\_\_\_ (4) \_\_\_\_\_
8. \_\_\_\_\_、\_\_\_\_\_
9. \_\_\_\_\_
10. \_\_\_\_\_

## 二、判断。(正确的在括号里打“√”,错的打“×”)(5分)

1. ( )
2. ( )
3. ( )
4. ( )
5. ( )

## 三、选择。(将正确答案的字母涂黑)(5分)

1. [A] [B] [C]
2. [A] [B] [C]
3. [A] [B] [C]
4. [A] [B] [C]
5. [A] [B] [C]

## 四、计算。(33分)

### 1.口算。(10分)

- (1) \_\_\_\_\_
- (2) \_\_\_\_\_
- (3) \_\_\_\_\_
- (4) \_\_\_\_\_
- (5) \_\_\_\_\_
- (6) \_\_\_\_\_
- (7) \_\_\_\_\_
- (8) \_\_\_\_\_
- (9) \_\_\_\_\_
- (10) \_\_\_\_\_

## 2.列竖式计算。(9分)

$$184+716-367=$$

$$513+316+103=$$

$$1000-483-65=$$

## 3.脱式计算。(9分)

$$25 \times 4 + 230$$

$$6 \times (32 - 29)$$

$$500 - 175 - 188$$

## 4.填一填。(每空0.5分,共5分)

$$15 \times 6$$

$$24 \times 3$$

X	10	5
6		

$$\square + \square = \square$$

X	20	4
3		

$$\square + \square = \square$$

学 校

班 级

座 号

姓 名

得 分

密 封 线 内 不 要 答 题

# 五、操作题。(12分)

1. 他们分别看到哪幅图? 在+里打“√”。(6分)

(1)



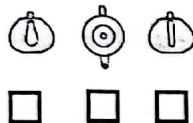
小华



(2)



小丽



(3)




小东

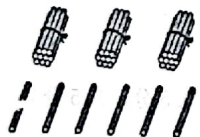


2. 圈一圈, 算一算。(6分)

$$12 \times 5 =$$



$$36 \div 3 =$$



# 六、解决问题。(24分)

1. (5分)

10	20	30
40	50	60
70	80	90

$$\square = \square + \square$$

10	20	30
40	50	60
70	80	90

$$\square = \square + \square$$

2. (5分)

(1)	(2)	(3)	(4)	(5)

3. (5分)

(1)	(2)	(3)	(4)	(5)

4. (5分)

(1)	(2)	(3)	(4)	(5)

5. (4分)

(1)	(2)	(3)	(4)

密封线内不要答题