

2022-2023学年度第一学期

一年级上册（青岛版）数学阶段性闯关



（时间：40 分钟）

温馨提示：亲爱的同学，最近的数学学习快乐吗？相信你一定学了不少的知识和本领吧！让我们一起来动脑筋，体验一下用知识解决问题带来的快乐吧！相信你能行！

一、看谁算的最准确。(12 分)

$3+5=$

$1+7=$

$10-7=$

$9-5-4=$

$7-4=$

$4+5=$

$3+3=$

$3+4-1=$

$2+8=$

$8+0=$

$10-4=$

$2+3+5=$

二、填一填。(20 分)

1.数一数，填一填。



()






()

()

2.



一共有()只小动物,  排第(),  前面有()只小动物,  后面有()只小动物。

2.按规律填数。

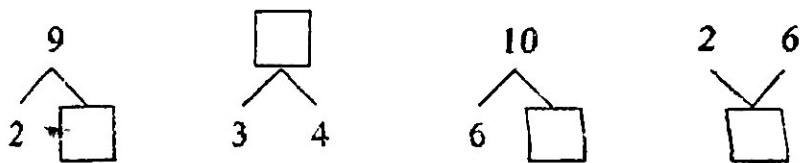
(1) 0 2 4 () () 10

(2) 9 () () 3 1

3.在○里填上“>”、“<”或“=”。

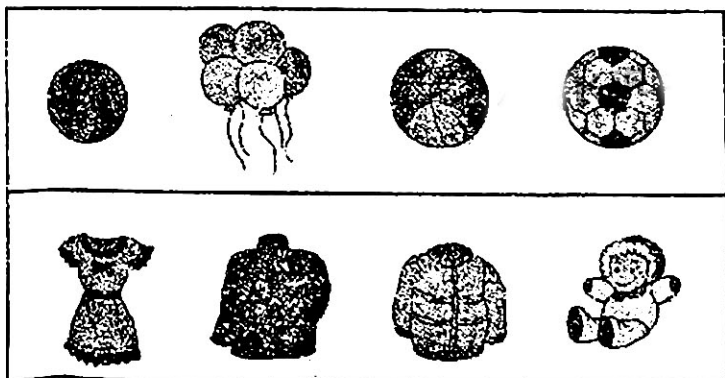
5○8 9○10 2+6○9 7○2+5 3+4○2+6

4. 填空





三、选一选。(20分)

1.把每行中不同类的圈出来。

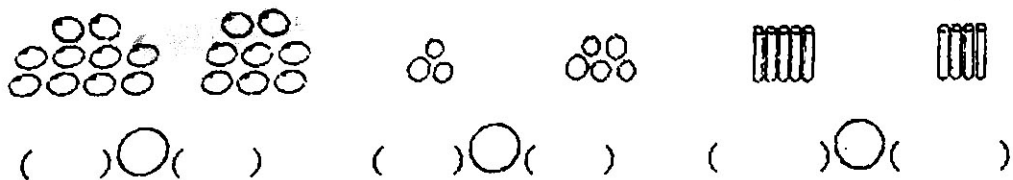


2、(1) 重的画“√”。



(2) 最高的画“√”，最矮的画“○”。

3. 数一数，填一填。



四、数一数，画一画。(12分)

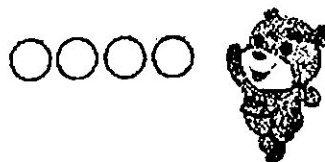
(1) 画○和△同样多。



(2) 画☆比○多2个。


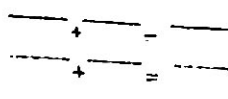


(3) 小动物们都吹了8个泡泡，请你把泡泡补全。



五、看图列算式。(16分)

1.



2. $\square + \square + \square = \square$ (人)

$\square \bigcirc \square \bigcirc \square = \square$ (个)


六、解决问题 (20 分)

1、有 7 朵红花，3 朵黄花，一共有多少朵花？

$\square \bigcirc \square = \square$ (朵)

2、小 明 跳了 3 下，小华跳了 4 下，小丽跳了 2 下。小明、小华和小丽一共跳了多少下？

$\square \bigcirc \square = \square$ (下)



3、

(1) 图中一共有 () 个梨子。(2) 把左边起第 4 个梨子圈出来。

(3) 这时，黄色梨子的左边有 () 个梨子，右边有 () 个梨子。