

学 校
班 级
姓 名
考 场
座 位 号
准考证号

2022-2023 学年度第一学期期中教学质量检测

一年级数学 苏教版

(考试时间: 60分钟, 满分: 100分)

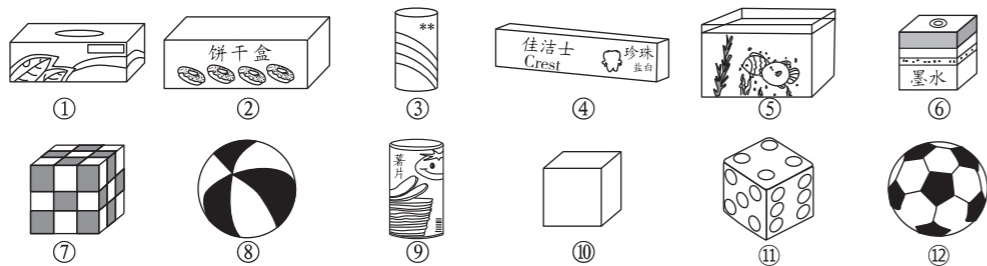
总 分	核分人

注意事项 1. 选择题部分必须使用2B铅笔填涂, 非选择题部分必须用0.5毫米的黑色签字笔书写。要求字体工整、笔迹清楚。 2. 请按照题号顺序在相应的答题区域内作答, 超出答题区域书写的答案无效。 3. 保持卷面清洁, 不要折叠, 不要弄破。	填涂样例 正确填涂 错误 填涂 缺考 违纪	条形码粘贴处
---	---	--------

请在各题目的答题区域内作答, 超出黑色矩形边框限定区域的答案无效

一、认一认, 数一数。(12分)

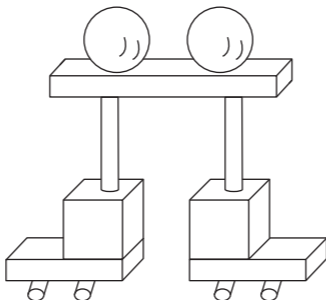
1. 分一分。(8分)



长方体: _____
正方体: _____
圆柱: _____
球: _____

2. 数一数。(4分)

有 () 个,
 有 () 个,
 有 () 个,
 有 () 个。

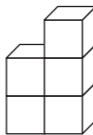


二、填一填。(20分)

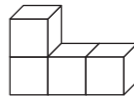
请在各题目的答题区域内作答, 超出黑色矩形边框限定区域的答案无效

请在各题目的答题区域内作答, 超出黑色矩形边框限定区域的答案无效

1. 数一数下面图形中各有多少个小方块。



() 个



() 个



() 个

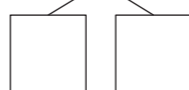
2. 在□里填上合适的数。



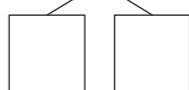
10

10

按形状分:



按颜色分:



3. 在○里填入“>”或“<”。

3○4

5○1

6○7

8○10

9○7

4.



(1) 图中一共有_____个水果。

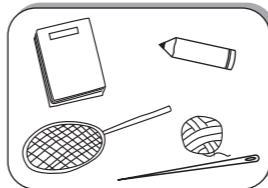
(2) 从左数, 香蕉排在第_____, 猕猴桃排在第_____。

(3) 从右数桃子排在第_____, 西瓜和桃子之间隔了_____个水果。


(4) 把从左数三个圈起来, 从右数第3个圈起来。(2分)

5. 看图数一数, 两天一共进了_____种货物。

昨天进的货有:



今天进的货有:




三、选一选。(12分)

1. 重的画“√”。




2. 可以向任意方向滚动的画“○”。




请在各题目的答题区域内作答, 超出黑色矩形边框限定区域的答案无效

请在各题目的答题区域内作答，超出黑色矩形边框限定区域的答案无效

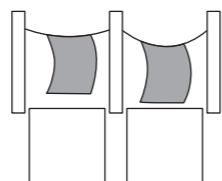
3. 哪棵树的影子长？在它下面画“√”。 4. 谁喝的多，画“√”。



5. 哪条包装带长？长的画“○”。



6. 哪个重？画“√”。



quān yì quān
四、圈一圈。（12分）

1. 哪个在文具店出售？



2. 哪个在玩具店出售？



3. 哪个在厨房看不到？



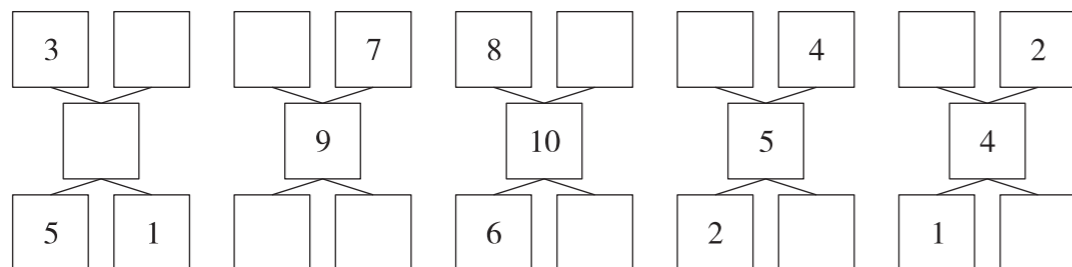
4. 哪个在蛋糕店买不到？



5. 把每组中不同类的圈起来。（4分）



fēn yǔ hé
五、分与合。（11分）

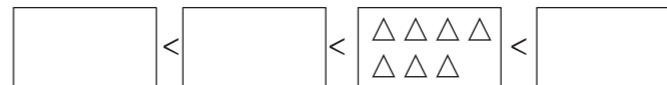


请在各题目的答题区域内作答，超出黑色矩形边框限定区域的答案无效

请在各题目的答题区域内作答，超出黑色矩形边框限定区域的答案无效

huà yì huà
六、画一画。（11分）

1. 下面的方框里应该画几个△？（6分）

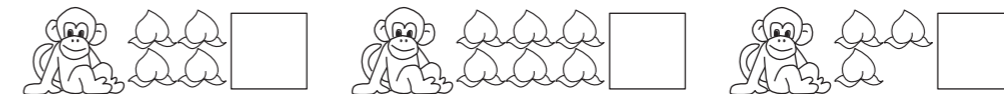


2. 找规律，再接着画5个图形。（5分）



àn yāo qiú zài zhèng què de fāng kuàng lǐ dǎ
七、按要求在正确的方框里打“√”。（6分）

1. 这三只猴原来都有10个桃，吃掉了一些，谁吃的最多。



2. 哪组堆起来最难？



xiǎng yi xiǎng
八、想一想。（11分）


1. 小光站在小丽的左边第1个。从右往左数，小文排第3。从左往右数，小乐排第1，排第2的是小明。（8分）



2. 小林和小红之间有（ ）个人。（3分）



bǎ zhī xiǎo niǎo fēn bié fàng jìn xià miàn de liǎng gè lóng zi lǐ yǒu jǐ zhǒng fàng fǎ
九、把6只小鸟分别放进下面的两个笼子里，有几种放法？（两个笼子放入鸟的数量均不为0）（5分）



请在各题目的答题区域内作答，超出黑色矩形边框限定区域的答案无效