

数 学 试 卷

注意事项:


1. 本试卷满分 100 分,请用铅笔直接在试卷上答题;
2. 本试卷完成时间:60 分钟。

题 号	一	二	三	四	五	总 分	总分人
得 分							

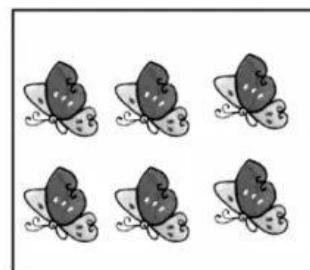
得 分	评卷人

一、看图写数。(共 4 分)





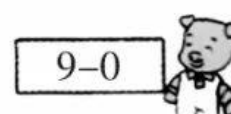
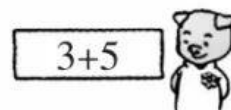
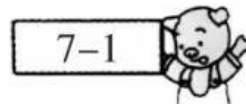
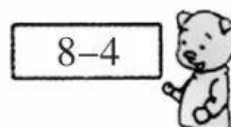

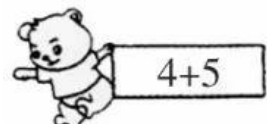






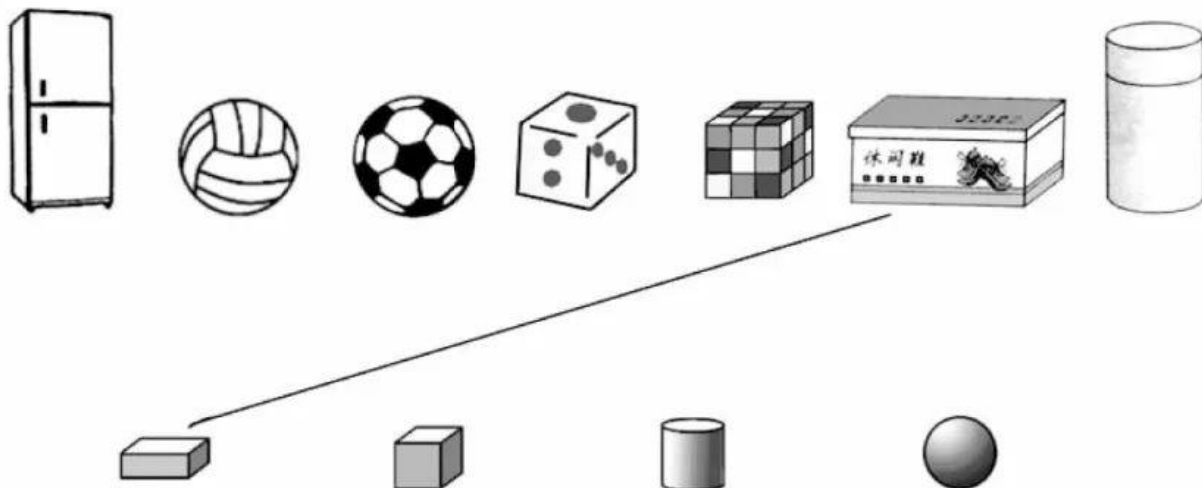
得 分	评卷人

二、连线。(共 14 分)

1. 小动物回家。(8 分)



2. 照样子,连一连。(6分)



得 分	评卷人

三、填空。(共 43 分)

1. 按顺序填数。

	1		3		
--	---	--	---	--	--

9	8				
---	---	--	--	--	--

2. 在○里填上“>”“<”或“=”。

$4 \bigcirc 7$

$9 \bigcirc 6$

$5+2 \bigcirc 8$

$9 \bigcirc 7-4$

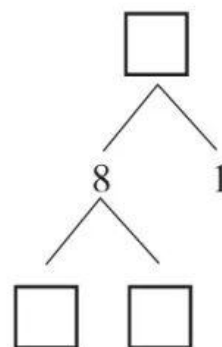
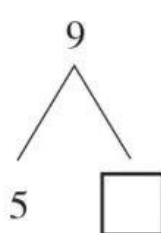
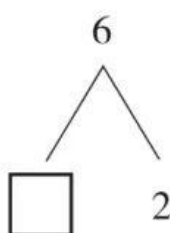
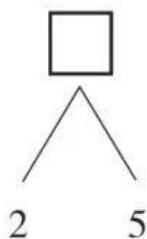
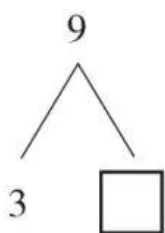
$5 \bigcirc 8$

$3 \bigcirc 0$

$9-6 \bigcirc 7$



$8 \bigcirc 3+5$

3. 在□里填上合适的数。(14分)



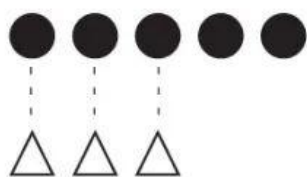
4. (8分)



(1)从左边数,  排第();从右边数,  排第()。

(2)在从左边数第3只小动物下面画“△”;把右边的5只小动物圈起来。

5. 比一比,填一填。



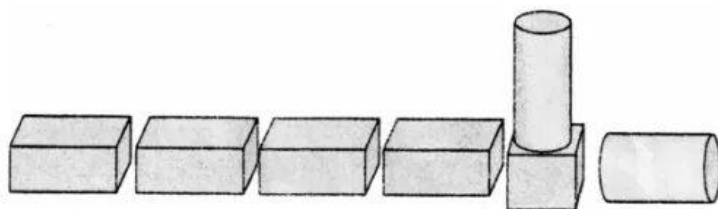
●比△多()个。

●比☆少()个。

6. 搭积木。



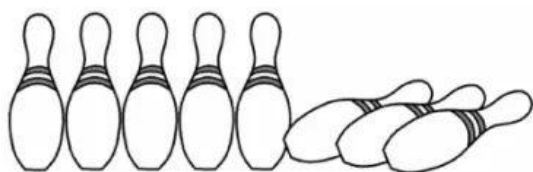
:我用积木搭了一辆火车。



正方体有()个,长方体有()个,圆柱有()个。

得 分	评卷人


四、看图写算式。(共 16 分)




$$8 - \square = \square$$



$$5 - \square = \square$$



$$\square \bigcirc \square = \square \text{ (只)}$$



$$\square \bigcirc \square = \square \text{ (人)}$$

得 分	评卷人

五、解决问题。(共 23 分)

1. (6 分)




$$\square \bigcirc \square = \square (\text{个})$$

2. 原来有()个小朋友在踢球,又来了()个小朋友,现在一共有几个小朋友? (9 分)



$$\square \bigcirc \square = \square (\text{个})$$

3. (8 分)



原来有 7 个水桶,小朋友拿走了()个,还剩几个水桶?

$$\square \bigcirc \square = \square (\text{个})$$