

# 数 学 试 卷

注意事项:

1. 本试卷满分 100 分,请用铅笔或圆珠笔直接在试卷上答题;
2. 本试卷完成时间:60 分钟。

题 号	一	二	三	总分	总分人
得 分					

得 分	评卷人

## 一、知识城堡。(共 60 分)

1. 填一填。(20 分)

- (1) 一个角有( )个顶点,有( )条边。
- (2)  $5 \times 6 = ( )$ , 这个算式读作( ), 计算时所用口诀是( )。
- (3) 把加法算式改写成乘法算式。

$$2+2+2+2 = \square \times \square \quad 5+5+5+5+5 = \square \times \square$$

(4) 在括号里填上合适的长度单位。



宽 50( )



高 8( )



长 26( )

(5) 在  $\bigcirc$  里填上“>”“<”或“=”。

$$37-8 \bigcirc 29$$

$$43-25 \bigcirc 15$$

$$5 \times 5 \bigcirc 5 \times 6$$

$$4 \times 6 \bigcirc 25$$

$$80 \bigcirc 14+58$$

$$75+5 \bigcirc 62+8$$

(6) (2 分)



$$\square \times \square \bigcirc \square = \square$$

2. 选一选(把正确答案前的序号写在括号里)。(10分)

(1)下面的图形中,( )是线段。



(2)一个乘数是4,另一个乘数是3,积是( )。

① 1

② 7

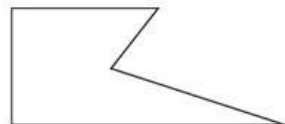
③ 12

(3)右图中有( )个角,其中有( )个直角。

① 2

② 3

③ 5



(4)二年级一班有男生28人,女生22人。\_\_\_\_\_? 可以提出的问题是( )。

① 女生比男生多多少人

② 男生比女生多多少人

③ 二年级一班比二年级二班多多少人

3. 算一算。(30分)

(1)口算。

$3 \times 3 =$

$4 \times 4 =$

$32 - 8 + 6 =$

$60 - 5 - 50 =$

$2 \times 6 =$

$5 \times 4 =$

$42 + 20 + 7 =$

$89 - (5 + 45) =$

$5 \times 2 =$

$1 \times 3 =$

$6 \times 3 + 8 =$

$4 \times 6 - 20 =$

(2)用竖式计算。

$38 + 27 =$

$52 - 24 =$

$75 - 19 =$

$28 + 13 + 40 =$

$55 - 21 - 18 =$

$81 - (18 + 11) =$

得 分	评卷人

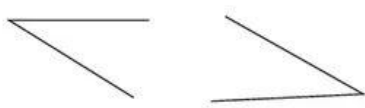
## 二、活动乐园。(共 12 分)

1. 连一连。(6 分)

直角

锐角

钝角



2. 量一量,小花猫要走( )厘米才能捉到小老鼠。(2 分)



3. 画一画。(4 分)


(1)画一个角。

(2)画一条 3 厘米长的线段。

得 分	评卷人

## 三、生活园地。(共 28 分)

1. 摩天轮一个车厢坐 2 人,一共能坐多少人?(4 分)



2. 二(1)班为迎接国庆节,买了两种灯笼,一种买了 3 个,另一种买了 5 个。还买了 3 种不同颜色的气球,每种各 5 个。

- (1)一共买了多少个灯笼?(4 分)
- (2)一共买了多少个气球?(4 分)

3. 创新小学有 52 名女教师,男教师比女教师少 19 名。男教师有多少名?创新小学一共有多少名教师?(8 分)

4. 二(2)班的同学们喜欢收集动画人物卡片,下面是三名同学收集动画人物卡片的数量。

姓名	明明	兰兰	伟伟
数量	26 张	31 张	42 张

请你提出一个数学问题并解答。(8 分)