

2022 学年小学数学三年级上册期中独立作业

(考试时间: 60 分钟 满分: 100 分)

亲爱的同学们, 相信通过半个学期的学习, 你一定有了很大的提高, 就让我们在此展示一下自己吧! 请你一定要做到书写工整, 作业整洁哦!

一、填空题。(共 22 分, 第 3 题 4 分, 第 5 题 6 分, 其余每空 1 分)

1. 乐乐买 2 本书花了 18 元, 买 1 支钢笔花了 22 元, 一支钢笔比一本书贵 () 元。

2. 在 \bigcirc 里填上 “ $>$ ” “ $<$ ” 或 “ $=$ ”。

$$40 \times 9 \bigcirc 50 \times 7$$

$$84 \div 4 \bigcirc 42 \div 2$$

$$20 \times 3 \bigcirc 300 \div 5$$

$$25 \times 4 \bigcirc 24 \times 5$$

$$63 \div (9-2) \bigcirc 63 \div 9-2$$

3. 慧慧在计算 12×4 时画了如下点子图, 请用算式表示点子图的想法。



$$12 \times 4 = ()$$

$$() \times () = ()$$

$$() \times () = ()$$

$$() + () = ()$$

4. 一本故事书有 100 页, 看了 80 页, 剩下的 4 天内看完, 平均每天看 () 页。

5. 在 \square 里填上合适的数。

$$\square \times 3 = 39$$

$$8 \times \square = 6400$$

$$\square \div 4 = 22$$

$$240 \div \square = 3$$

$$\square \times \square = 3600$$

$$\square \div \square = 80$$

6. 买一台 1600 元的冰箱, 先付 500 元, 剩下的每月付 300 元, 至少要付 () 个月。

7. 一头小象每天吃 70 根香蕉, 一堆香蕉 200 根, 够 3 头小象吃一天吗? ()

$$8 \times 4 = 32$$

$$6 \times 7 = 42$$

$$9 \times 7 = 63$$

$$5 \times 3 = 15$$

$$80 \times 4 = 320$$

$$60 \times 7 = 420$$

$$90 \times 7 = 630$$

$$50 \times 3 = 150$$

观察上面 4 组算式, 你发现了什么?

9. 饼干每包 5 元, 面包每个 3 元, 请写出下面算式解决的数学问题是什么?

$$(1) 2 \times 5 + 3$$


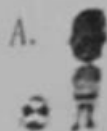
$$(2) 20 - 3 \times 5$$

二、选择题。(共 12 分, 每题 2 分)

10. 观察右图, 皮皮从窗外看到的情景会是下面 () 幅图。



皮皮





11. 乐乐家电表读数如下表示: (单位: 千瓦时)

6月底	7月底	8月底	9月底	10月底	11月底	12月底
430	545	640	730	825	920	998

乐乐家9月份的用电量是(), 乐乐家下半年的用电量一共是()。

- A. 453 千瓦时 B. 568 千瓦时 C. 90 千瓦时 D. 95 千瓦时
12. 淘气、笑笑、奇思进行拍球比赛, 淘气6分钟拍300下, 笑笑3分钟拍210下, 奇思2分钟拍120下, () 拍得最快。
- A. 淘气 B. 笑笑 C. 奇思
13. 华华家、新华书店, 阳光小学在同一条街道上, 华华家距离新华书店350米, 距离阳光小学550米, 新华书店距离阳光小学() 米。
- A. 900 B. 200 C. 900 或 200
14. 解答“每瓶牛奶比每个面包多多少元?”这个问题, 需要用到下图() 的信息。

- A. 12 元, 3 瓶, 3 个
B. 3 瓶, 3 个, 2 元
C. 12 元, 3 瓶, 2 元



三、计算题。(共30分, 10+8+12)

15. 口算。(8分)

$$\begin{array}{llll} 50 \times 3 = & 720 \div 9 = & 200 \div 4 = & 400 \times 7 = \\ 14 \times 5 = & 600 \div 2 = & 70 + 30 \times 4 = & 63 \div 3 = \end{array}$$

16. 列竖式计算。(3+3+4=10分)

$$532 + 168 = \quad 962 - 804 = \quad 1000 - 283 - 437 =$$

17. 脱式计算。(12分)


$$45 + 15 \times 3 \quad 80 \div 4 - 16 \quad (36 - 19) \times 6 \quad 45 + 55 \div 5$$

四、动手操作。(共 10 分, 6+4)

18. 下面三幅照片分别是哪位小记者拍摄的? 把他们的编号填在括号里。(6 分)



19. 看图列式计算。(4 分)



五、解决问题。(共 26 分, 5+5+5+5+3+3)

20. 一共有 86 人, 先坐满大车, 剩下的坐小车, 至少需要多少辆小车?



21. 小东今年 12 岁, 妈妈的年龄比小东的 4 倍少 10 岁, 妈妈今年几岁?

22. 小兔记录了自己 4 天采蘑菇的数量如下。小兔一共采了多少个蘑菇？

○○○○○○○○○○	○○○○○○○○○○	○○○○○○○○○○	○○○○○○○○○○
○○○○○○○○	○○○○○○○○	○○○○○○○○○○	○○○○○○○○

23. 滑雪场上午来了 256 人，中午有 142 人离开，下午又有 150 人到来。
这时滑雪场有多少人？

24. 下面是“北京—西安”沿线各大站的火车里程表。



	里程/千米
北京—保定	146
北京—石家庄	277
北京—郑州	689
北京—洛阳	813
北京—西安	1200

(1) 保定到石家庄有多少千米？

(2) $1200 - 813$ 求的是哪两个城市之间的里程？请用线段图画一画，并答一答。