







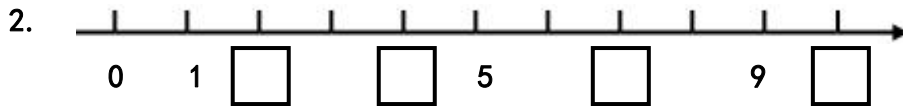
# 一年级数学练习题

(时间: 60 分钟 总分: 100 分)

## 一、填一填。(第10题2分, 其余每空1分。共44分)

1.   



- (1) 在  里填上合适的数。
- (2) 3前面的一个数是 (    ), 9后面一个数是 (    )。
- (3) 1和8这两个数, (    ) 更接近4。
- (4) 和6相邻的两个数是 (    ) 和 (    )。

### 3. 在○里填上“>”“<”或“=”。

0 ○ 0      6 ○ 9      10 ○ 1      4 ○ 3

### 4. 在 (    ) 里填上合适的数。

(    ) > 9      (    ) < 1      (    ) > 5 > (    )      7 < (    ) < 9

5.     

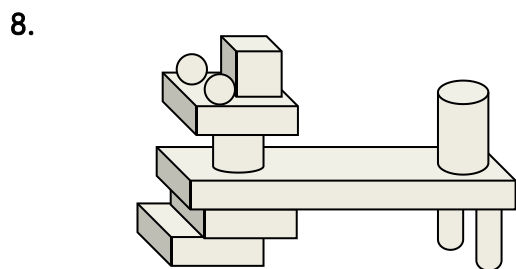

- (1) 如果小兔排第一, 小马排第 (    )。
- (2) 小马在熊猫的 (左 右) 边, 在小兔的 (左 右) 边。
- (3) 在左起第2个小动物的下面画△, 把右边的3个小动物圈起来。
6. 找规律, 填一填, 画一画。

(1) 1, 4, (    ), 10。

(2) ○△○○△○○○△ (    ) (    ) (    )



( ) 比 ( ) 多 ( ) 个



	有 ( ) 个
	有 ( ) 个
	有 ( ) 个
	有 ( ) 个



(1) 第二行比第一行多了 ( ) 个

(2) 从第二行拿 ( ) 个 给第一行，两行就同样多。

10. 在一列队伍中，从前往后数，小明排在第 5；从后往前数，小明排在第 2，这列队伍有 ( ) 人。

## 二、算一算。(共 16 分)

11. 直接写得数。

$2+3=$

$3+3=$

$0+4=$

$6-2=$

$5-4=$

$5+0=$

$6-0=$

$1+6=$

$7-4=$

$6-4=$

$1-1=$

$5-1=$

$3+1=$

$2+2=$


$5-3=$

$6-3=$

### 三、做一做。（每题2分，共16分）

（选择合适的答案，在 ☐ 里打“√”。）

12. 比一比谁高一些？

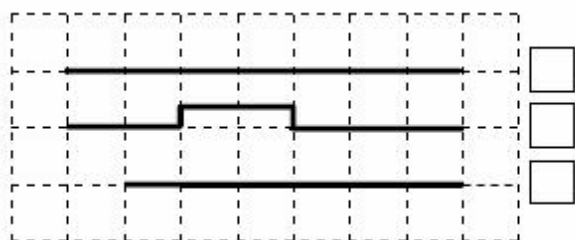


☐
☐

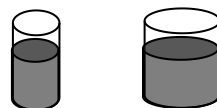
13. 谁更重一些？



14. 哪条线最长？



15. 哪个杯里盛的水少一些？

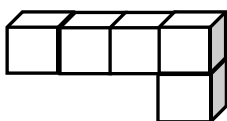


☐
☐

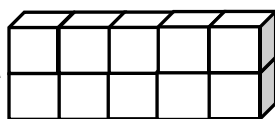
16. 哪一堆



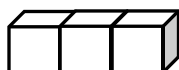
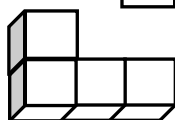
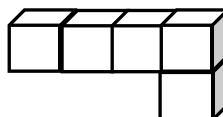
可以与



拼成



？


☐

☐

☐

17. 李师傅要把一根木头锯成7段，需要锯多少次？

6 ☐

7 ☐

8 ☐

18. 小明和小红看同一本故事书，两人都看了一部分后，小明还剩5页没有看，小红还剩10页没有看。谁看的页数多？

小明 ☐

小红 ☐

19. ○△★○△★○△★○— 下面应画哪一个图形？


○ ☐

△ ☐

★ ☐

四、解决实际问题。(20、21每题6分，其余每题4分，共24分)

20.



$$\square + \square = \square$$

$$\square + \square = \square$$

21.



$$\square - \square = \square$$

$$\square - \square = \square$$

22.



$$\square + \square = \square$$

23.



$$\square - \square = \square$$

24.



$$\square \bigcirc \square = \square$$