

学校：____ 姓名：____
 年：____ 班：____
 密 封 线

集美教育集团宁宝片区 2022-2023 学年第一学期

三年级数学期中练习

(时间：70 分钟；满分：100 分)

题号	一	二	三	四	五	书写分	总分
分值	30	29	10	4	25	2	100
得分							



亲爱的同学们，经过半学期的学习，相信你一定有很多收获！认真审题，仔细思考，认真答题，交给自己一份满意的答卷吧！

一、看清题目，认真计算。(30分)

1. 直接写出得数。(16分)

$62+24=$	$97-28=$	$46+45=$	$28+54=$
$39+21=$	$58-9=$	$900-420=$	$620+340=$
$500+290=$	$60+150=$	$750+250=$	$800-330=$
$598-304\approx$	$402+497\approx$	$81\div9=$	$42\div7=$

2. 笔算，带★的要验算。(14 分，2+2+2+2+3+3)

$960-180=$	$324+576=$	$502-393=$
------------	------------	------------

$189+378+285=$

$\star 289+128=$

$\star 800-217=$

二、用心思考，正确填写。(共29分，每空1分。)

1. 在括号里填上合适的单位。

口罩长约 21 ()

银行卡厚约 1 ()

一个鸡蛋重约 50 ()

一节课的时间是 40 ()

一头大象重 4 ()

小汽车每小时行驶 60 ()

2. 8000米= () 千米

1厘米= () 毫米

500厘米= ()

- 4分= () 秒 1吨-800千克= () 千克 300米+1700米= () 千米
3. 比365多39的数是 () ; 124比331少 () 。
4. 估算604-196时, 可以先把604看成 () , 把196看成 () , 结果大约是 () 。
5. 在 ☐ 里填上 “>” “<” 或 “=” 。
- | | | |
|---------------------------------|------------------------------------|-----------------------------------|
| 130分 <input type="radio"/> 3时 | 500 <input type="radio"/> 1000-499 | 659+204 <input type="radio"/> 860 |
| 2002千克 <input type="radio"/> 2吨 | 5时 <input type="radio"/> 300秒 | 28毫米 <input type="radio"/> 2厘米 |
6. 一条12米的彩带, 剪成5段, 每段长 () 。
7. 分针走1小格, 秒针正好走 () 小格, 就是 () 秒。
8. 在钟面上秒针由数字2走到数字8, 经过了 () 秒。
9. 奶奶今早6:30去公园锻炼身体, 比昨天推迟10分钟, 她昨天 () 去锻炼身体。
10. 玲玲做一道减法题, 把减数26看成了62, 得到结果是84。这道减法题的正确结果是 () 。

三、反复比较, 慎重选择。(10分)

1. 亮亮跑50米用了9秒, 帅帅用了8秒, () 跑得快。
- A、帅帅 B、亮亮 C、不能比较
2. 一分钟我们能做完的事情是 () 。
- A、跑5千米 B、写一篇300字的作文 C、做10道口算题
3. 小明从下午4:50开始写课外作业, 写到下午5:40才写完, 小明做课外作业共花了 () 分钟。
- A、40 B、50 C、60
4. 操场跑道一圈是400米, 跑了2圈后, 还差 () 米是1000米。
- A、200 B、600 C、800
5. 课桌大约高7 () 。
- A、米 B、分米 C、厘米

四、动手操作。(4分)

1. 画一条比6厘米长2毫米的线段。(2分)


2. 画一条比1分米短6厘米的线段。(2分)

五、走进生活，解决问题。（25分）

厦门是一座闻名遐迩的港口风景旅游城市。丰富多彩的旅游资源、各式各样的美食、相互映衬的山色海景，吸引了众多中外游客。让我们随着镜头一起去了解厦门的文化！

1. 镜头一：“沙茶面、海蛎煎、土笋冻...”厦门小吃以其品种多，风味独特和经济实惠而著称。9岁妍妍和爸爸、妈妈准备乘坐动车踏上寻找美食之旅。

（1）动车从福州南站到达厦门北站全程需要 1 小时 25 分，动车什么时候才能到达厦门北站？（3 分）



（2）成人票价每张 84 元，儿童票每张 36 元，妍妍一家购票一共要花多少钱？（3 分）

2. 镜头二：博饼是厦门人在中秋节里特有的民俗活动，阳光旅行社为游客们准备了 800 元购物卡作为状元礼品。妍妍博到了状元，她要用购物卡买以下三种物品，够吗？（4 分）



268 元




320 元



118 元

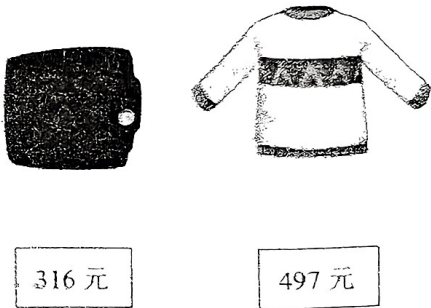
3.镜头三：厦门是一座美丽的滨海城市，夏季要用网在海边围出一块水域作为安全垂钓区，如右图。需要准备几米的网？合多少千米？（4分）



4.镜头四：鼓浪屿原名“圆沙洲”，凭借其独特的景色，成为厦门名副其实的旅游名片。上午坐船到鼓浪屿有932位游客，中午有265位游客离开，下午又来了403位游客。这时鼓浪屿内有多少位游客？全天来了多少位游客？（3+2=5分）

5.镜头五：游客们来到了 SM 城市广场购物，妍妍爸爸买了一个皮包和一件上衣。

（1）爸爸大约需要准备多少钱？收银员应收多少元？（2+2=4分）



（2）爸爸付给收银员900元，应找回多少钱？（2分）



小朋友们，不要忘了检查哦！千万不要漏题！希望你能和细心、耐心交上朋友呢！