

2022-2023 学年度上学期 二年级数学阶段性练习题

(建议时长: 60 分钟)

题 号	一	二	三	四	五	六	总 分
应得分	10	20	5	34	7	24	100
实得分							

一、选择题 (将正确答案的序号填在括号里) (每小题 2 分, 共 10 分)

1. 下面图形不能用“ 4×3 ”表示的是 ()。



2. 与“五六三十”与这句口诀不对应的是 ()。

A. $6 + 6 + 6 + 6 + 6$

B. $6 \times 6 \times 6 \times 6 \times 6$

C. 6×5

3. 把一根竹竿插入水中, 水面以上部分长 64 厘米, 水面以下部分长 36 厘米。这根竹竿长 ()。

A. 10 厘米

B. 1 米

C. 10 米

4. 数学书上的直角和黑板上的直角比较 ()。

A. 数学书上的直角大

B. 黑板上的直角大

C. 同样大

5. 有 2 盘苹果, 一盘有 3 个, 另外一盘有 6 个, 一共有多少个苹果? 下列算式正确的是 ()。

A. $3 + 6$

B. $3 \times 2 + 6$

C. 3×6

二、填空题 (每题 2 分, 共 20 分)

6. 测量学校跑道的长度, 可以用 () 作单位。

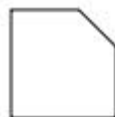
7. 把 $6 + 6 + 6 + 6 + 6$ 写成乘法算式是_____。

8. 在下面括号里填上合适的长度单位。

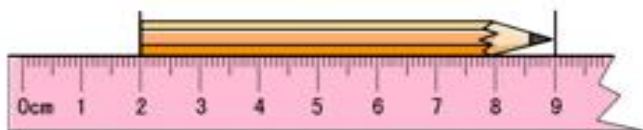
教室的门高约 2 (); 我的食指宽约 1 (); 小红身高 1 () 30 ()。

9. 在锐角、钝角、直角中, 最大的角是 (), 最小的角是 ()。

10. 图中有 () 条线段, 有 () 个角,
其中有 () 个直角, () 个钝角。



11. 这支铅笔长（ ）厘米。



12. 写口诀。

二三（ ） 三（ ）十五 四（ ）二十四 （ ）十二

13. 在下面的括号里填上“>”“<”或“=”。

4×2 （ ） $4 + 2$ 5×3 （ ） 4×4 $38 + 15$ （ ） $87 - 34$ 96 厘米（ ）1 米

14. 欢欢和她的 4 位同学做红花，每人做 5 朵，一共做了（ ）朵。

15. 按规律填数。



三、判断题（对的打“√”，错的打“×”）（每小题 1 分，共 5 分）

16. 从直尺上的刻度“0”画到刻度“3”，线段的长就是 3 厘米。 （ ）

17. 2×5 和 $2 + 5$ 都表示两个 5 相加。 （ ）

18.  左图中只有一个角。 （ ）

19. 1 米长的绳子比 100 厘米长的铁丝短。 （ ）

20. 因为 $2 + 2$ 与 2×2 的结果相同，所以 $3 + 3$ 等于 3×3 。 （ ）

四、计算（共 34 分）

21. 直接写得数。（每小题 1 分，共 12 分）

$28 + 4 =$	$37 - 8 =$	$4 \times 4 =$	$6 \times 6 =$
$53 + 7 =$	$2 \times 5 =$	$99 - 9 =$	$6 \times 3 =$
$73 - (65 - 60) =$	$54 - (34 + 6) =$	$5 \times 4 - 16 =$	$6 \times 3 + 20 =$

22. 列竖式计算。（ $3 \times 2 + 4 \times 4 = 22$ 分）

$45 + 37 =$ $73 - 45 =$ $18 + 27 + 30 =$

$12 + 79 - 36 =$


$76 - 35 - 28 =$

$80 - (34 + 15) =$

五、作图题（3+4=7 分）

23. 聪聪用刻度尺画线段时，从“4”画到了“9”，聪聪画的这条线段长（ ）厘米。请你也下面画一条和聪聪画的一样长的线段。

24. 在方格纸上画一个直角，再画一个比直角大的角。



六、解决问题（第 25 题 4 分，剩余每小题 5 分，共 24 分）


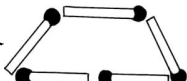
25. 二（1）班同学从图书馆借走了 35 本故事书，还剩 29 本。图书馆里原来有多少本故事书？

26. 至少还有几位小朋友要乘下一条船?



28. 注意卫生，使用公筷。月月一家人吃饭时，每人用两双筷子，一共需要摆放多少根筷子?



27. 拼 3 个  和 1 个 ，一共要用多少根火柴棒?

29.   
  

(1) 一辆玩具汽车比一架玩具飞机便宜多少元钱?

(2) 小军带 50 元，想买一辆玩具汽车和一辆玩具摩托车，够吗?