

2021 ~ 2022 学年度第一学期期末调研试题

九年级历史

注意事项:

1. 本试卷分为第一部分(选择题)和第二部分(非选择题)。全卷共 4 页,总分 60 分。考试时间 60 分钟。
2. 领到试卷和答题卡后,请用 0.5 毫米黑色墨水签字笔,分别在试卷和答题卡上填写姓名、班级和准考证号,同时用 2B 铅笔在答题卡上填涂对应的试卷类型信息点(X 或 Y)。
3. 请在答题卡上各题的指定区域内作答,否则作答无效。
4. 考试结束,本试卷和答题卡一并交回。

第一部分(选择题 共 20 分)

一、选择题(本大题共 10 小题,每小题 2 分,总计 20 分。每小题只有一个选项是符合题意的)

1. 历史学家罗荣渠在《美洲史论》中写道:“他所指挥的军队解放的国土十倍于西班牙的国土,……成为委内瑞拉、哥伦比亚、厄瓜多尔、秘鲁、玻利维亚、巴拿马六个国家的奠基者”。这位美洲历史上的伟人是
A. 玻利瓦尔 B. 亚历山大二世 C. 圣马丁 D. 章西女王
2. 日本福泽渝吉在他的《文明论概略》一书中写道:“如果想使日本文明进步,就必须以欧洲文明为目标,确定它为一切议论的标准,以这个标准来衡量事物的利害得失。”该材料表达的思想是
A. 发动政变,支持天皇亲政 B. 日本通过联合自强提高国际地位
C. 提倡日本“文明开化” D. 日本确立在远东地区的强国地位
3. 这部巨著是人类文学宝库中的一朵奇葩,有“社会百科全书”之称,它真实地展现了法国社会从封建主义向资本主义过渡时期的历史画卷。该“巨著”是
A. 《夜间的咖啡馆》 B. “人间喜剧”
C. 《安娜·卡列尼娜》 D. 《自然哲学的数学原理》
4. 斯塔夫里阿诺斯在《全球通史》中写道:“在 1933 年西方经济一团糟时,苏联正在继续进行经济发展方面的独特实验。虽然……伴有严厉的压制和民众的穷困,但实质上是成功的。”属于“独特实验”的是
A. 按照两个五年计划组织经济建设 B. 推翻沙皇专制统治
C. 建立第一个无产阶级专政的国家 D. 推行战时共产主义政策
5. 《罗斯福炉边谈话》中记载:“我们将采取经过慎重考虑的、保守性的措施……防止恶性竞争和超常的劳动时间,同时鼓励所有企业防止生产过剩。”这一措施属于罗斯福新政中的
A. 整顿金融体系 B. 加强对工业的计划指导
C. 调整农业政策 D. 推行“以工代赈”

6. 德军莫斯科战役的失败,为斯大林格勒战役即二战转折奠定了基础。此战的胜利极大提升了苏联在军事、政治方面的国际地位,使得同属于反法西斯国家的英、法、美的意识发生转变,促成了
- A. 《开罗宣言》的发表
B. 《波茨坦公告》的发表
C. 雅尔塔会议的召开
D. 世界反法西斯联盟的成立
7. 1947 年,马歇尔计划强调其目标是“战胜饥饿、贫苦和混乱”,但在具体执行过程中却不去援助投票赞成共产党的国家。材料反映出该援助计划
- A. 只是无条件地援助西欧国家
B. 具有遏制共产主义的隐蔽性
C. 企图遏制东欧国家经济复兴
D. 为发展中国家的崛起提供机遇
8. 1955 年,日本政府制定《经济自立五年计划》,从此日本进入了实现国民经济现代化的高速发展时期。1960 年,池田勇人内阁提出《国民收入新增计划》,预计 10 年后国民生产总值和国民收入都增加一倍。材料说明二战后日本经济快速发展的主要因素是
- A. 恰当的经济政策
B. 重视科技教育
C. 美国的经济援助
D. 加强国际合作
9. “他亲手设计了一场改革,这场改革意在推动社会的政治民主化,吸收西方国家的自由民主模式。”但是想不到的是“改革设计师本人,也成了这场和平的政治革命的最后一个牺牲品。”材料中的“他”是
- A. 斯大林
B. 赫鲁晓夫
C. 戈尔巴乔夫
D. 勃列日涅夫
10. 新冠肺炎疫情的爆发给世界带来巨大冲击。面对突如其来的疫情,在线办公、网络教学、远程会诊等蔚然成风;无接触配送、无人超市等新模式蓬勃兴起。对此,理解正确的是
- A. 人们生活过度依赖网络技术
B. 知识经济推动全球同步发展
C. 网络教学完全取代传统教育
D. 信息技术改变传统生活方式

第二部分(非选择题 共 40 分)

二、填空题(本大题共 5 小题,每小题 2 分,总计 10 分)

11. 俄国沙皇_____ (人物)的改革以强兵和学习西方科学技术为目标,开启了俄国近代化的进程。1917 年 11 月 6 日晚,_____ (人物)秘密来到彼得格勒的起义总指挥部——斯莫尔尼宫,亲自领导起义,第二天,彼得格勒武装起义取得胜利。

12. 1862 年,林肯发表了_____,调动了黑人奴隶的积极性,扭转了北方军队在战场上的被动局面。1922 年,华盛顿会议上签署的_____实现了美国长期追求的“门户开放”等目的,使日本独霸中国的企图未能实现。

13. 一战后,亚非拉民族民主运动高涨。其中,_____领导的印度非暴力不合作运动,打击了英国的殖民统治。二战后,非洲的民族独立运动首先在北非展开。1990 年,_____的独立,标志着所有非洲国家都摆脱了殖民主义的枷锁。

14. 1993 年,大部分西欧国家在欧共体的基础上组成了_____,大大加快了欧洲一体化的进程。_____年 1 月 1 日,世界贸易组织正式成立,它的职能主要是制定和规范多边贸易协定、组织贸易谈判等。

15. 1955 年 4 月,在印度尼西亚召开的_____ (会议)提高了亚非国家和地区的民族自信,鼓舞了亚非拉人民争取民族独立的斗争。1961 年,_____正式成立,它的兴起标志着广大发展中国家已经成为国际政治舞台上的一支重要力量,在一定程度上冲击着两极格局。

三、问答题(本大题共 1 小题,总计 7 分)

16. (7 分) 改革是人类历史的鲜明主题,是社会发展的强大动力。

(1) 亚历山大二世改革的主要内容是什么? 这次改革有什么重要意义? (3 分)

(2) 为了恢复被战争严重破坏的俄国经济,1921 年苏维埃政府开始实施哪一政策? 简述这一政策的主要内容。(4 分)

四、材料解析题(本大题共 2 小题,总计 23 分)

17. (12 分) 阅读下列材料,回答问题。

材料一:第二次工业革命时期,全部新工业仿佛一夜之间蹿升起来,但是在所有的新进展中,或许最重要的是在工业和民用中使用电力。此时科学研究成果在工业上得到更直接的应用,出现了大规模的生产技术。公司制替代合伙关系成为标准,股份公司成立后,股票持有者是公司的所有者,但实际上,他们几乎毫不参与公司的管理决策,管理决策权归董事会。

——摘编自《世界文明史》

材料二:



图A



图B 早期汽车



图C 早期飞机

材料三:工业革命改变了社会上所有人的生产和生活方式……大工业使世界经济走向一体化……平民百姓有机会享受过去帝王将相也想象不到的文明舒适生活。但是,工业化逐渐、而且不可挽回地改变了大自然,造成环境污染、资源枯竭和生态危机,最突出的是全球气候变暖、臭氧层空洞和公共卫生安全。人类社会面临经济增长与环境保护相矛盾的两难局面。

——摘编自张跃发《近代文明史》

(1) 根据材料一,指出第二次工业革命出现的新特点。结合所学知识,指出在第二次工业革命的推动下,主要资本主义国家在发展阶段上发生的变化。(4 分)

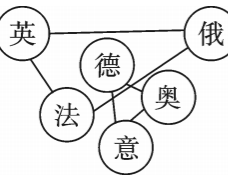
(2) 列举两例图 A 人物的发明创造。图 B 汽车的发明者是谁? 图 B 汽车和图 C 飞机的问世得益于哪一发明?(4 分)

(3) 根据材料三,分析工业革命对人类社会产生的影响。综合上述材料并结合所学知识,就材料三中“人类社会面临经济增长与环境保护相矛盾的两难局面”提出你的对策。(4 分)

18. (11 分) 某校九年级(2)班同学以“战争与国际格局”为主题展开探究活动,请你参与。

【国际格局引发战争】


材料一：

 <p>图 A</p>	<p>凡尔赛-华盛顿体系虽然完成了战后列强之间关系的调整,但它是不稳固的。它建立在一战后形成的极不稳定的基本力量平衡的基础上……战胜国与战败国之间的矛盾、战胜国之间的矛盾并没有解决,必然随着时间的推移而更加激化,并最终化为不可阻挡的力量爆发出来,决定了这一体系必然崩溃的历史命运。</p> <p>——摘编自陈从阳《凡尔赛-华盛顿体系与雅尔塔体系比较研究》</p>
---	---

(1) 材料一图 A 反映的是哪两大军事集团的对峙? 根据材料一文字,指出凡尔赛-华盛顿体系“不稳固”的原因。(4 分)

【战争改变国际格局】


材料二：

 <p>诺曼底登陆</p>	<p>战后和平政治取代战争政治,联结美苏同盟的纽带不复存在,从而使两国之间的斗争重新表面化和尖锐化……由于意识形态和国家利益的对立,美苏两国都努力加强自身的力量和各自组织以自己为中心的集团,这也就进一步推动了国际力量对比两极化的发展和加剧了国际局势的紧张状态。</p> <p>——摘编自张小明《冷战及其遗产》</p>
---	--

(2) 材料二图片战役对第二次世界大战的进程有何影响? 根据材料二文字,指出二战后美苏两国斗争“重新表面化和尖锐化”的原因。结合所学知识,指出美苏两国“各自组织以自己为中心的集团”在军事上的具体表现。(4 分)

【国际格局制止战争】

材料三：

 <p>某国际组织的旗帜</p>	<p>21 世纪世界秩序需要新的价值理念和制度设计,因此中国首倡人类命运共同体具有一定的必然性。中国发展离不开世界,世界繁荣也需要中国。构建人类命运共同体是中国履行大国责任、顺应世界格局演变的趋势、维护世界和平的必然举措,具有强大的道义力量和坚实的现实基础。</p> <p>——摘编自任洁《人类命运共同体:共同全球治理的中国方案》</p>
--	---

(3) 材料三图片组织成立于哪一年? 根据材料三并结合所学知识,从世界形势发展的角度说明“中国首倡人类命运共同体”的背景。(3 分)

2021 ~ 2022 学年度第一学期期末调研试题

九年级历史参考答案及评分标准

一、选择题(本大题共 10 小题,每小题 2 分,总计 20 分)

1. A 2. C 3. B 4. A 5. B 6. D 7. B 8. A 9. C 10. D

二、填空题(本大题共 5 小题,每小题 2 分,总计 10 分)

11. 彼得一世;(1 分)列宁。(1 分)
 12. 《解放黑人奴隶宣言》;(1 分)《九国公约》。(1 分)
 13. 甘地;(1 分)纳米比亚。(1 分)
 14. 欧洲联盟;(1 分)1995。(1 分)
 15. 万隆会议;(1 分)不结盟运动。(1 分)

三、问答题(本大题共 1 小题,总计 7 分)

16. (7 分)(1)内容:农奴获得人身自由,可以改变身份,自由转换职业;(1 分)农奴在获得解放的同时,可以获得一份土地,但必须出钱赎买,所出的价钱高出当时的地价。(1 分)意义:改革废除了农奴制,促使社会的各个方面出现了新的气象;推动俄国走上了发展资本主义的道路。(答出任意一点即可得 1 分)
 (2)政策:新经济政策。(1 分)内容:以征收粮食税代替余粮征集制;允许使用雇佣劳动力和出租土地,农民可以自由买卖纳税后的剩余产品,实行自由贸易;允许私人经营中小企业;实行按劳取酬的工资制。(每点 1 分,答出任意三点即可得 3 分)

四、材料解析题(本大题共 2 小题,总计 23 分)

17. (12 分)(1)新特点:新工业发展迅猛,电力进入生产生活领域;(1 分)科技与工业的结合更加密切(或科学研究同工业生产紧密结合);(1 分)出现公司制、股份制、董事会等新型管理模式。(1 分)变化:主要资本主义国家出现了垄断组织,资本主义由自由资本主义向垄断资本主义即帝国主义阶段过渡。(1 分)
 (2)发明创造:耐用的白炽灯泡;碱性蓄电池;电影摄影机和放映机等。(每点 1 分,答出符合题意的任意两点即可得 2 分)发明者:本茨。(1 分)发明:内燃机。(1 分)
 (3)影响:改变了人们的生产和生活方式;(1 分)使世界经济逐渐走向一体化;(1 分)造成环境污染、资源枯竭和生态危机等。(1 分)对策:在经济发展的同时注意保护环境,做到可持续发展;人类应加强合作,共同应对生态环境恶化等带来的挑战。(答出言之有理的任意一点即可得 1 分)
18. (11 分)(1)军事集团:三国同盟;(1 分)三国协约。(1 分)原因:形成体系的基本力量不稳定、不平衡;战胜国和战败国之间的矛盾;战胜国之间的矛盾;殖民地、半殖民地国家同帝国主义之间的矛盾。(每点 1 分,答出任意两点即可得 2 分)
 (2)影响:开辟了欧洲第二战场,使德国陷入东西两个战场的夹击之中。(1 分)原因:二战后联结美苏同盟的纽带不复存在(或打败了共同的敌人法西斯);两国意识形态和国家利益的对立。(答出任意一点即可得 1 分)表现:美国成立“北大西洋公约组织”(或“北约”);(1 分)苏联成立“华沙条约组织”(或“华约”)。(1 分)
 (3)时间:1945 年。(1 分)背景:世界多极化趋势加强;经济全球化趋势增强;和平与发展成为时代主题;人类发展面临诸多问题和挑战(霸权主义和地区冲突等)。(每点 1 分,答出任意两点即可得 2 分)